



تدریس خصوصی ریاضی به صورت حضوری و آنلاین با دبیران حرفه ای و پیگیری قدرتمند در مدرسه

۴۴۰۲۵۸۶۰ - ۲۶۵۷۰۸۱۰ - ۸۸۹۰۶۹۰۹ - ۸۸۹۰۴۰۰۲

کد تهران ۰۲۱

. ۱

(۲ نمره)

اگر فردی ۲ تا مداد ۲۰۰ تومانی و ۱ پاک کن ۳۰۰ تومانی بخرد، ۱۰۰ تومان برایش باقی می ماند او چقدر پول دارد؟

پاسخ :

$$۲۰۰ + ۲۰۰ + ۳۰۰ + ۱۰۰ = ۸۰۰$$

تومان دارد

. ۲

(۲ نمره)

اگر فردی ۲ تا مداد ۲۰۰ تومانی و ۱ پاک کن ۳۰۰ تومانی بخرد، ۱۰۰ تومان برایش باقی می ماند. اگر بخواهد با پول خود خودکار ۲۵۰ تومانی بخرد. حداکثر چند خودکار می تواند بخرد؟

پاسخ :

$$۲۰۰ + ۲۰۰ + ۳۰۰ + ۱۰۰ = ۸۰۰$$

$$۲۵۰ + ۲۵۰ + ۲۵۰ = ۷۵۰$$

۳ خودکار می خرد

. ۳

(۲ نمره)



تدریس خصوصی ریاضی به صورت حضوری و آنلاین با دبیران حرفه ای و پیگیری قدرتمند در مدرسه

۸۸۹۰۴۰۰۲ - ۸۸۹۰۶۹۰۹ - ۲۶۵۷۰۸۱۰ - ۴۴۰۲۵۸۶۰

کد تهران ۰۲۱

اگر فردی ۲ تا مداد ۲۰۰ تومانی و ۱ پاک کن ۳۰۰ تومانی بخرد، ۱۰۰ تومان برایش باقی می ماند. اگر بخواهد با پول خود ۳ خودکار ۲۵۰ تومانی بخرد چقدر برای او باقی می ماند؟

پاسخ:

پاسخ:

$$۲۰۰ + ۲۰۰ + ۳۰۰ + ۱۰۰ = ۸۰۰ \quad \text{تومان دارد}$$

$$۲۵۰ + ۲۵۰ + ۲۵۰ = ۷۵۰$$

۳ خودکار می خرد

$$۸۰۰ - ۷۵۰ = ۵۰$$

تومان باقی می ماند

۴ .

(۲ نمره)

سه کارت روی آن هارقم های ۳ و ۷ و ۴ نوشته شده است اگر تمامی اعداد سه رقمی را که می توان ساخت را برای خود بنویسید بزرگترین و کوچکترین عدد کدام است؟

پاسخ:

۶ عدد سه رقمی می توان نوشت که عبارتند از:

$$۴۷۳ - ۴۳۷ - ۷۴۳ - ۷۳۴ - ۳۴۷ - ۳۷۴$$

کوچکترین: ۳۴۷

بزرگترین: ۷۴۳



تدریس خصوصی ریاضی به صورت حضوری و آنلاین با دبیران حرفه ای و پیگیری قدرتمند در مدرسه

۴۴۰۲۵۸۶۰ - ۲۶۵۷۰۸۱۰ - ۸۸۹۰۶۹۰۹ - ۸۸۹۰۴۰۰۲

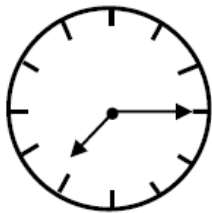
کد تهران ۰۲۱

۵ .

(۲ نمره)

علی ساعت ۷ : ۱۵ به مدرسه رفت. او یک ساعت و نیم قبل از رفتن به مدرسه نماز خوانده بود و یک ربع قبل از نماز خواندن از خواب بیدار شده بود. علی چه ساعتی از خواب بیدار شده است؟


پاسخ :



علی ۷:۱۵ به مدرسه رفت.



علی ۵:۴۵ نماز خواند.



علی ۵:۳۰ از خواب بیدار شد.

۶ .

(۲ نمره)

هم اکنون ساعت ۲۰ : ۴ می باشد. اگر سارا نیم ساعت پیش ورزش را شروع کرده باشد ، در زمان شروع ساعت چند بوده است ؟

پاسخ :

ساعت ۳ : ۵۰ بوده است .



تدریس خصوصی ریاضی به صورت حضوری و آنلاین با دبیران حرفه ای و پیگیری قدرتمند در مدرسه

۸۸۹۰۴۰۰۲ - ۸۸۹۰۶۹۰۹ - ۲۶۵۷۰۸۱۰ - ۴۴۰۲۵۸۶۰

کد تهران ۰۲۱

. ۷

(۲ نمره)

با ارقام ۷ و ۲ و ۴ چند عدد سه رقمی می توان نوشت که یکان آن ها فقط ۲ یا ۴ باشد ؟

پاسخ :

اعداد ۷۴۲ - ۴۷۲

۷۲۴ - ۲۷۴

. ۸

(۲ نمره)

چند عدد سه رقمی می توان نوشت که یکان آن ۲ واحد کمتر از صدگان و دهگان آن برابر با مجموع یکان و صدگان باشد.

پاسخ :

اعداد ۳۴۱ - ۴۶۲ - ۵۸۳

. ۹

(۲ نمره)

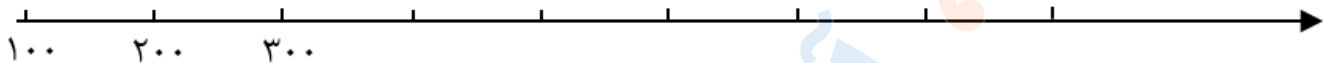


تدریس خصوصی ریاضی به صورت حضوری و آنلاین با دبیران حرفه ای و پیگیری قدرتمند در مدرسه

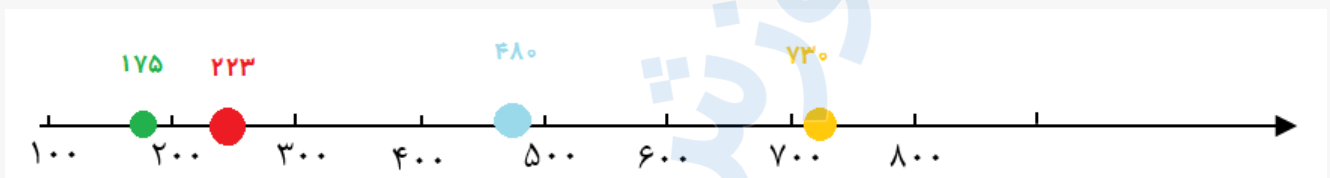
۸۸۹۰۴۰۰۲ - ۸۸۹۰۶۹۰۹ - ۲۶۵۷۰۸۱۰ - ۴۴۰۲۵۸۶۰

کد تهران ۰۲۱

عددهای داده شده را به طور تقریبی روی محور نشان دهید.
۱۷۵ - ۲۲۳ - ۴۸۰ - ۷۳۰



پاسخ :



۱۰.

(۲ نمره)

با سه کارت زیر تمام اعداد سه رقمی را بنویسید. (دبستان سرای دانش-تهران ۱۴۰۲)



پاسخ :

۲۵۷ و ۲۷۵ و ۵۲۷ و ۵۷۲ و ۷۲۵ و ۷۵۲