



تدریس خصوصی ریاضی به صورت حضوری و آنلاین با دبیران حرفه ای و پیگیری قدرتمند در مدرسه

۸۸۹۰۴۰۰۲ - ۸۸۹۰۶۹۰۹ - ۲۶۵۷۰۸۱۰ - ۴۴۰۲۵۸۶۰

کد تهران ۰۲۱

۱.

(۲ نمره)

فاصله ۹۸۱ تا ۱۰۰۰ چقدر است؟

پاسخ :

$$\begin{array}{r} 1000 \\ - 981 \\ \hline 019 \end{array}$$

۲.

(۲ نمره)

تفریق زیر را به روش فرآیندی انجام داده و جواب آخر را مشخص نمایید.

$$\begin{array}{r} 8671 \\ - 3154 \\ \hline \end{array}$$

پاسخ :



تدریس خصوصی ریاضی به صورت حضوری و آنلاین با دبیران حرفه ای و پیگیری قدرتمند در مدرسه

۴۴۰۲۵۸۶۰ - ۲۶۵۷۰۸۱۰ - ۸۸۹۰۶۹۰۹ - ۸۸۹۰۴۰۰۲

کد تهران ۰۲۱

$$\begin{array}{r} ۸۶۷۱ \\ - ۳۱۵۴ \\ \hline ۵۶۲۱ \\ - ۱۵۴ \\ \hline ۵۵۷۱ \\ - ۵۴ \\ \hline ۵۵۲۱ \\ - ۴ \\ \hline ۵۵۱۷ \end{array}$$

۳.

(۲ نمره)

در حل مسئله زیر از کدام عمل ریاضی استفاده می‌کنید؟
«قیمت یک دفتر و قیمت یک مداد روی هم چند تومان است؟»

پاسخ:



تدریس خصوصی ریاضی به صورت حضوری و آنلاین با دبیران حرفه ای و پیگیری قدرتمند در مدرسه

۴۴۰۲۵۸۶۰ - ۲۶۵۷۰۸۱۰ - ۸۸۹۰۶۹۰۹ - ۸۸۹۰۴۰۰۲

کد تهران ۰۲۱

این مسئله به کمک جمع (+) حل می شود.

۴.

(۲ نمره)

در حل مسئله زیر از کدام عمل ریاضی استفاده می کنید؟

« ۱۰ بسته داریم. در هر بسته ۲ جعبه ۴۰ تایی بیسکویت قرار دارد. چند بیسکویت داریم؟ »

پاسخ :

این مسئله به کمک ضرب (x) حل می شود.

۵.

(۲ نمره)

در حل مسئله زیر از کدام عمل ریاضی استفاده می کنید؟

« اختلاف پول مریم و سارا چند تومان است؟ »



تدریس خصوصی ریاضی به صورت حضوری و آنلاین با دبیران حرفه ای و پیگیری قدرتمند در مدرسه

۴۴۰۲۵۸۶۰ - ۲۶۵۷۰۸۱۰ - ۸۸۹۰۶۹۰۹ - ۸۸۹۰۴۰۰۲

کد تهران ۰۲۱

پاسخ :

این مسئله به کمک **تفریق (-)** حل می شود.

.۶

(۲ نمره)

در حل مسئله زیر از کدام عمل ریاضی استفاده می کنید؟

« ۳۰ شکلات را به ۵ نفر می دهیم. به هر کس چند شکلات می رسد؟ »

پاسخ :

این مسئله به کمک **تقسیم (÷)** حل می شود.

.۷

(۲ نمره)

در جای خالی علامت مناسب قرار دهید.

$$۵۰۰ + ۵۰۰ \square ۱۰۰۰$$



تدریس خصوصی ریاضی به صورت حضوری و آنلاین با دبیران حرفه ای و پیگیری قدرتمند در مدرسه

۸۸۹۰۴۰۰۲ - ۸۸۹۰۶۹۰۹ - ۲۶۵۷۰۸۱۰ - ۴۴۰۲۵۸۶۰

کد تهران ۰۲۱

پاسخ :

$$۵۰۰ + ۵۰۰ = ۱۰۰۰$$

. ۸

(۲ نمره)

مقایسه کنید.

$$۹۸۵ \square ۹۰۲۰ \quad ۴۷۲۰ \square ۴۲۷۰$$

پاسخ :

$$۹۸۵ < ۹۰۲۰ \quad ۴۷۲۰ > ۴۲۷۰$$

. ۹

(۲ نمره)

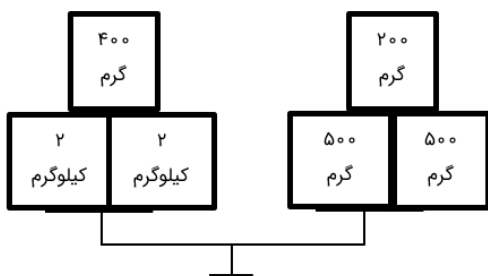


تدریس خصوصی ریاضی به صورت حضوری و آنلاین با دبیران حرفه ای و پیگیری قدرتمند در مدرسه

۴۴۰۲۵۸۶۰ - ۲۶۵۷۰۸۱۰ - ۸۸۹۰۶۹۰۹ - ۸۸۹۰۴۰۰۲

کد تهران ۰۲۱

در یک کفه ترازو ۲ وزنه ۲ کیلوگرمی و ۱ وزنه ۴۰۰ گرمی داریم. در کفه دیگر ۲ وزنه ۵۰۰ گرمی و ۱ وزنه ۲۰۰ گرمی داریم کفه اول چقدر از کفه دوم سنگین تر است؟ (می‌توانید با رسم شکل جواب دهید).



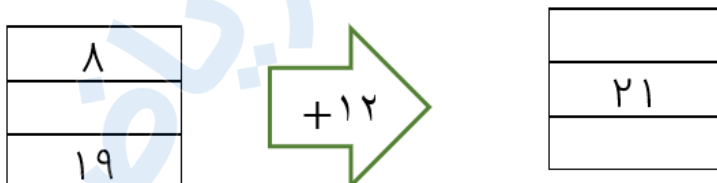
پاسخ :

با حدس زدن یا شکل می‌توان جواب داد. ۳۲۰۰ گرم سبک‌تر است. $۴۴۰۰ = ۱۲۰۰ + ۳۲۰۰$

. ۱۰

(۲ نمره)

ماشین زیر را کامل کنید. (دبستان پورچندق - رفسنجان ۱۴۰۲)



پاسخ :

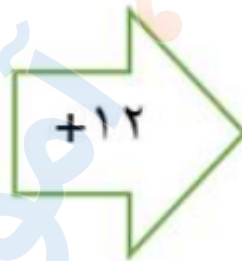


تدریس خصوصی ریاضی به صورت حضوری و آنلاین با دبیران حرفه ای و پیگیری قدرتمند در مدرسه

۸۸۹۰۴۰۰۲ - ۸۸۹۰۶۹۰۹ - ۲۶۵۷۰۸۱۰ - ۴۴۰۲۵۸۶۰

کد تهران ۰۲۱

۸
۹
۱۹



۲۰
۲۱
۳۱