



تدریس خصوصی ریاضی به صورت حضوری و آنلاین با دبیران حرفه ای و پیگیری قدرتمند در مدرسه

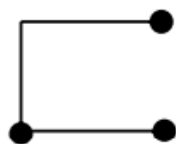
۸۸۹۰۴۰۰۲ - ۸۸۹۰۶۹۰۹ - ۲۶۵۷۰۸۱۰ - ۴۴۰۲۵۸۶۰

کد تهران ۰۲۱

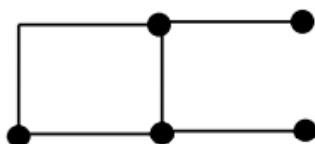
۱.

(۲ نمره)

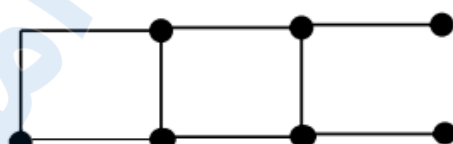
شکل ۲۰ ام چند چوب کبریت دارد؟



(۱)



(۲)



(۳)

۲.

(۲ نمره)

اگر محیط مربعی ۱۲ باشد طول هر ضلع آن چقدر است؟

۳.

(۲ نمره)

میزی داریم به شکل مربع که اندازه هر ضلع آن ۳ متر است. محیط آن را به دست آورید.

۴.

(۲ نمره)

اگر الگوی زیر را کامل کنیم آخرین عدد کدام گزینه است؟

۲۶۵۲۰۰۰ ، ۲۶۵۳۰۰۰ ، ، ، ،



تدریس خصوصی ریاضی به صورت حضوری و آنلاین با دبیران حرفه ای و پیگیری قدرتمند در مدرسه

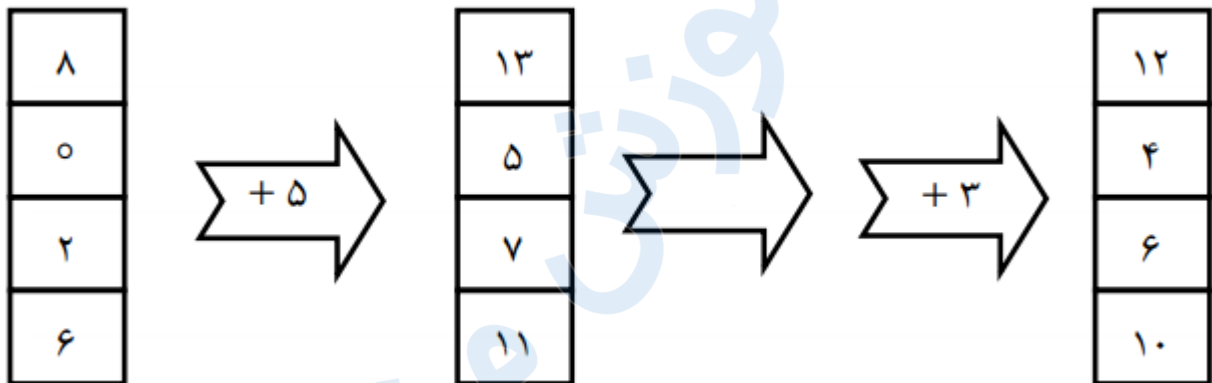
۴۴۰۲۵۸۶۰ - ۲۶۵۷۰۸۱۰ - ۸۸۹۰۶۹۰۹ - ۸۸۹۰۴۰۰۲

کد تهران ۰۲۱

۵.

(۲ نمره)

در جای خالی چه عددی باید قرار بگیرد؟



۶.

(۲ نمره)

با توجه به عدد ۸۶۵۲۳۱۳۰۱۸۷، بزرگ ترین عدد سه رقمی که می توان با رقم های طبقه ی هزار این عدد نوشت کدام است ؟

۷.

(۲ نمره)

اختلاف بزرگترین عدد چهاررقمی بدون تکرار با بزرگترین عدد چهار رقمی که با ارقام ۱ و ۶ و ۰ و ۵ می توان نوشت برابر با کدام گزینه است ؟

۸.



تدریس خصوصی ریاضی به صورت حضوری و آنلاین با دبیران حرفه ای و پیگیری قدرتمند در مدرسه

۴۴۰۲۵۸۶۰ - ۲۶۵۷۰۸۱۰ - ۸۸۹۰۶۹۰۹ - ۸۸۹۰۴۰۰۲

کد تهران ۰۲۱

(۲ نمره)

بزرگترین رقم عدد «دویست و نه میلیون و چهارده هزار و دویست و سی و نه» در چه مکان یا مکان‌هایی قرار دارد؟

.۹

(۲ نمره)

قیمت یک ظرف ۲۸۶۵۰۰ تومان است. برای خرید این ظرف باید به ترتیب چند استکان صد هزار تومانی، چند اسکناس ده هزار تومانی، چند اسکناس هزار تومانی و چند اسکناس صد تومانی به فروشنده بدهیم؟

.۱۰

(۲ نمره)

تعداد دانش‌آموزان سه شهر به ترتیب ۴۶۹۶۰ نفر، ۷۰۵۳۰ نفر و ۱۳۷۵۰ نفر است. این سه شهر در مجموع چند دانش‌آموز دارند؟