



تدریس خصوصی ریاضی به صورت حضوری و آنلاین با دبیران حرفه ای و پیگیری قدرتمند در مدرسه

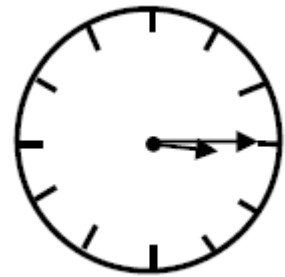
۴۴۰۲۵۸۶۰ - ۲۶۵۷۰۸۱۰ - ۸۸۹۰۶۹۰۹ - ۸۸۹۰۴۰۰۲

کد تهران ۰۲۱

۱.

(۲ نمره)

ساعت زیر چه زمانی را نشان می دهد؟



۲.

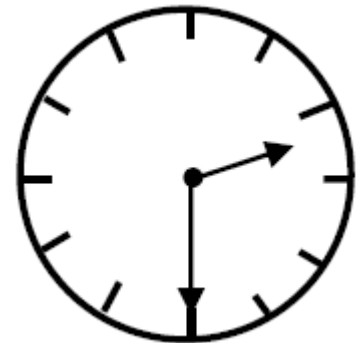
(۲ نمره)

اگر ضلع های یک مستطیل برابر شوند، چه شکلی حاصل می شود؟

۳.

(۲ نمره)

عقربه بزرگ چند دقیقه حرکت کند تا ساعت ۳ شود؟





تدریس خصوصی ریاضی به صورت حضوری و آنلاین با دبیران حرفه ای و پیگیری قدرتمند در مدرسه


۸۸۹۰۴۰۰۲ - ۸۸۹۰۶۹۰۹ - ۲۶۵۷۰۸۱۰ - ۴۴۰۲۵۸۶۰

کد تهران ۰۲۱

۴.

(۲ نمره)

ساعت مناسب شکل را انتخاب کنید.



۵.

(۲ نمره)

طبق الگو ادامه دهید.

۵ - ۷ - ۱۰ - - - -  
→ + → + → + → + → +  
→ + → + → + → +



تدریس خصوصی ریاضی به صورت حضوری و آنلاین با دبیران حرفه ای و پیگیری قدرتمند در مدرسه

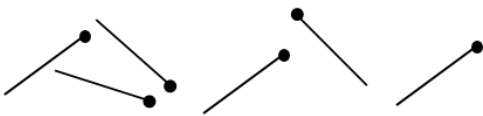
۴۴۰۲۵۸۶۰ - ۲۶۵۷۰۸۱۰ - ۸۸۹۰۶۹۰۹ - ۸۸۹۰۴۰۰۲

کد تهران ۰۲۱

۶.

(۲ نمره)

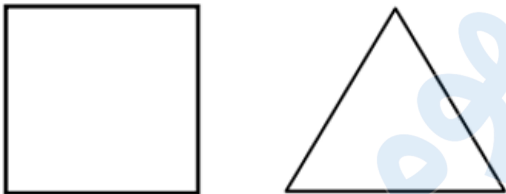
دانش آموزی با چوب کبریت های زیر یک چندضلعی می سازد. او چند چوب کبریت دیگر لازم دارد تا شکلی بسازد که ۱۵ گوشه داشته باشد؟



۷.

(۲ نمره)

تفاوت شکل های زیر را بنویسید. (دبستان شهید پورجندقی- رفسنجان ۱۴۰۲)



۸.

(۲ نمره)



تدریس خصوصی ریاضی به صورت حضوری و آنلاین با دبیران حرفه ای و پیگیری قدرتمند در مدرسه

۴۴۰۲۵۸۶۰ - ۲۶۵۷۰۸۱۰ - ۸۸۹۰۶۹۰۹ - ۸۸۹۰۴۰۰۲

کد تهران ۰۲۱

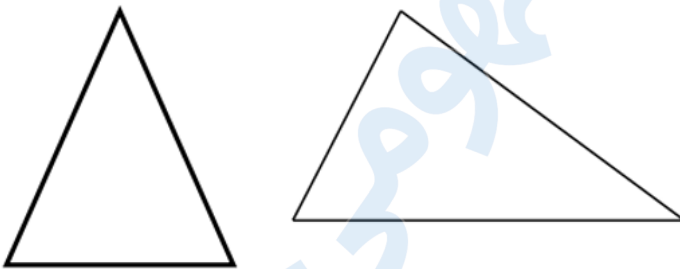
شبهات شکل‌های زیر را بنویسید. (سرای دانش - خرداد ۱۴۰۲)



.۹

(۲ نمره)

شبهات شکل‌های زیر را بنویسید. (دبستان روش نوین - دی ۱۴۰۲)



.۱۰

(۲ نمره)



تدریس خصوصی ریاضی به صورت حضوری و آنلاین با دبیران حرفه ای و پیگیری قدرتمند در مدرسه

۴۴۰۲۵۸۶۰ - ۲۶۵۷۰۸۱۰ - ۸۸۹۰۶۹۰۹ - ۸۸۹۰۴۰۰۲

کد تهران ۰۲۱

خط تقارن شکل زیر را رسم کنید. (دبستان سما - ۱۴۰۱)

