



تدریس خصوصی ریاضی به صورت حضوری و آنلاین با دبیران حرفه ای و پیگیری قدرتمند در مدرسه

۴۴۰۲۵۸۶۰ - ۲۶۵۷۰۸۱۰ - ۸۸۹۰۶۹۰۹ - ۸۸۹۰۴۰۰۲

کد تهران ۰۲۱

. ۱

(۲ نمره)

با توجه به نمودار امتیاز کدام کلاس‌ها با هم مساوی است؟ (دبستان سرای دانش الغدير - تهران ۱۴۰۲)



پاسخ :

اول و دوم یاس

. ۲

(۲ نمره)

کدام کلاس کمترین امتیاز را دارد؟ (دبستان سرای دانش الغدير - تهران ۱۴۰۲)



پاسخ :



تدریس خصوصی ریاضی به صورت حضوری و آنلاین با دبیران حرفه ای و پیگیری قدرتمند در مدرسه

۸۸۹۰۴۰۰۲ - ۸۸۹۰۶۹۰۹ - ۲۶۵۷۰۸۱۰ - ۴۴۰۲۵۸۶۰

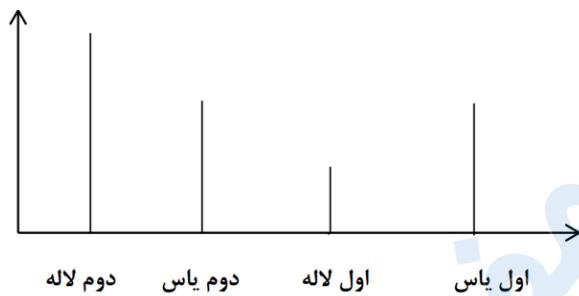
کد تهران ۰۲۱

اول لاله

۳.

(۲ نمره)

با توجه به نمودار کدام کلاس بیشترین امتیاز را دارد؟ (دبستان سرای دانش الغدیر - تهران ۱۴۰۲)



پاسخ :

دوم لاله

۴.

(۲ نمره)

برای نشان دادن عددهای بزرگ بهتر است از کدام نمودار استفاده کنیم؟ (دبستان سرای دانش الغدیر - تهران ۱۴۰۲)

پاسخ :



تدریس خصوصی ریاضی به صورت حضوری و آنلاین با دبیران حرفه ای و پیگیری قدرتمند در مدرسه

۴۴۰۲۵۸۶۰ - ۲۶۵۷۰۸۱۰ - ۸۸۹۰۶۹۰۹ - ۸۸۹۰۴۰۰۲

کد تهران ۰۲۱

نمودار تصویری

۵.

(۲ نمره)

کدام عدد زوج نیست؟ (دبستان سرای دانش الغدیر - تهران ۱۴۰۲)

پاسخ:

عددی که رقم آخر فرد دارد ۷۰۹

۶.

(۲ نمره)

درستی یا نادرستی جمله زیر را مشخص کنید. (دبستان سرای دانش الغدیر - تهران ۱۴۰۲)

«نمودار ستونی به ما کمک می‌کند راحت‌تر و سریع‌تر مقایسه کنیم.»

پاسخ:

درست



تدریس خصوصی ریاضی به صورت حضوری و آنلاین با دبیران حرفه ای و پیگیری قدرتمند در مدرسه

۸۸۹۰۴۰۰۲ - ۸۸۹۰۶۹۰۹ - ۲۶۵۷۰۸۱۰ - ۴۴۰۲۵۸۶۰

کد تهران ۰۲۱

. ۷

(۲ نمره)

تعداد میوه‌های یک میوه‌فروش در جدول زیر آمده است. تعداد تقریبی هر یک را نوشته و با در نظر گرفتن یک دایره برای هر ۱۰ میوه نمودار آن را رسم کنید. (دبستان شهید پورجندی- رفسنجان ۱۴۰۲)

میوه	پرتقال	نارنگی	خیار	موز
تعداد واقعی	۵۲	۳۹	۶۵	۴۷

پاسخ :



میوه	پرتقال	نارنگی	خیار	موز
تعداد واقعی	۵۲	۳۹	۶۵	۴۷
تعداد تقریبی	۵۰	۴۰	۷۰	۵۰

. ۸

(۲ نمره)



تدریس خصوصی ریاضی به صورت حضوری و آنلاین با دبیران حرفه ای و پیگیری قدرتمند در مدرسه

۸۸۹۰۴۰۰۲ - ۸۸۹۰۶۹۰۹ - ۲۶۵۷۰۸۱۰ - ۴۴۰۲۵۸۶۰

کد تهران ۰۲۱

دور اعداد زوج خط بکشید. (دبستان شهید پورجندقی- رفسنجان ۱۴۰۲)

۷۲۱ و ۹۹۰ و ۶۸۸ و ۳۵۷ و ۸۶ و ۲۱۲

پاسخ :

۷۲۱ و ۹۹۰ و ۶۸۸ و ۳۵۷ و ۸۶ و ۲۱۲

.۹

(۲ نمره)

با توجه به جدول فراوانی، نمودار رسم کنید.

تاریخی	تخیلی	علمی	داستانی	کتابهای مدرسه
۸	۱۵	۲۰	۱۰	تعداد

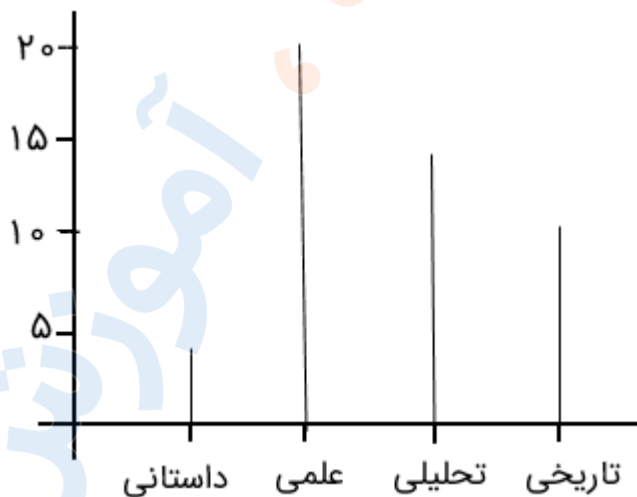
پاسخ :



تدریس خصوصی ریاضی به صورت حضوری و آنلاین با دبیران حرفه ای و پیگیری قدرتمند در مدرسه

۸۸۹۰۴۰۰۲ - ۸۸۹۰۶۹۰۹ - ۲۶۵۷۰۸۱۰ - ۴۴۰۲۵۸۶۰

کد تهران ۰۲۱



(۲ نمره)

. ۱۰

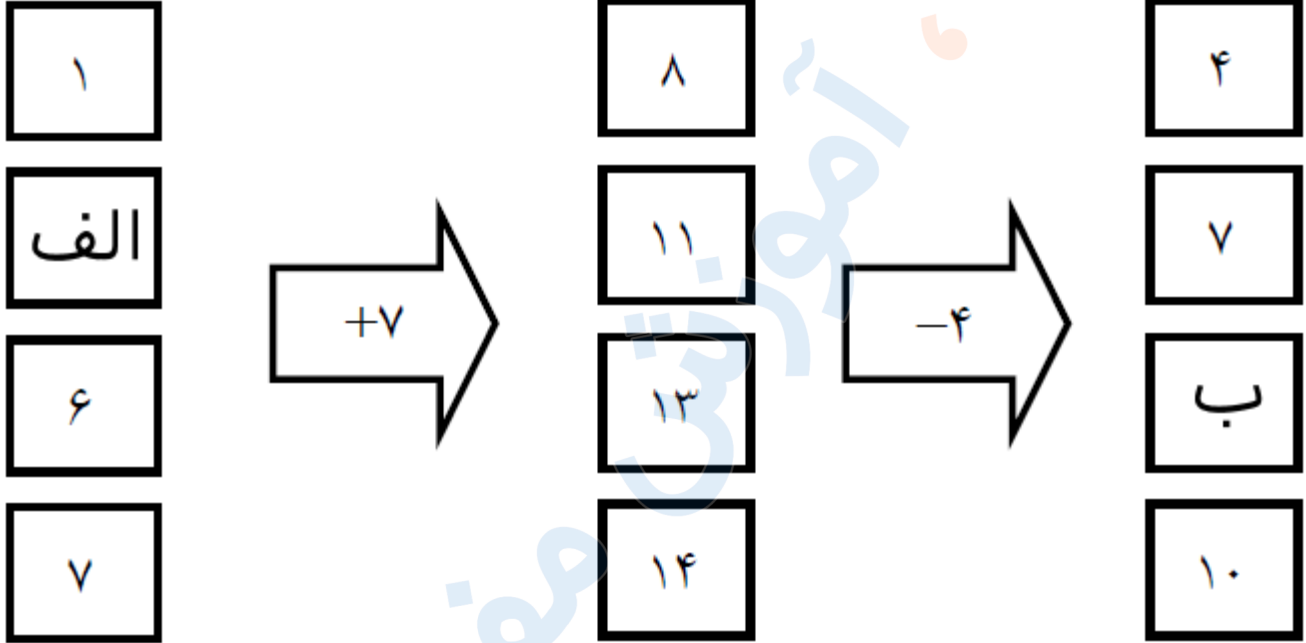


تدریس خصوصی ریاضی به صورت حضوری و آنلاین با دبیران حرفه ای و پیگیری قدرتمند در مدرسه

۸۸۹۰۴۰۰۲ - ۸۸۹۰۶۹۰۹ - ۲۶۵۷۰۸۱۰ - ۴۴۰۲۵۸۶۰

کد تهران ۰۲۱

در دو جای خالی (الف و ب) چه عدد هایی قرار دهیم تا جدول کامل شود؟



پاسخ :



تدریس خصوصی ریاضی به صورت حضوری و آنلاین با دبیران حرفه ای و پیگیری قدرتمند در مدرسه

۸۸۹۰۴۰۰۲ - ۸۸۹۰۶۹۰۹ - ۲۶۵۷۰۸۱۰ - ۴۴۰۲۵۸۶۰

کد تهران ۰۲۱

