



تدریس خصوصی ریاضی به صورت حضوری و آنلاین با دبیران حرفه ای و پیگیری قدرتمند در مدرسه

۸۸۹۰۴۰۰۲ - ۸۸۹۰۶۹۰۹ - ۲۶۵۷۰۸۱۰ - ۴۴۰۲۵۸۶۰

کد تهران ۰۲۱

۱.

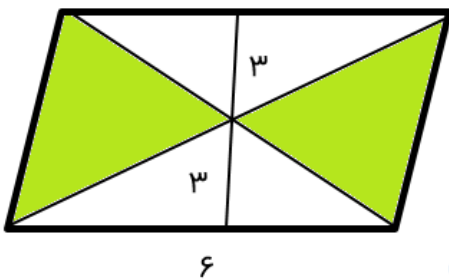
(۱۰ نمره)

مستطیل، متوازی الاضلاعی است که ..... (دبستان پور جندقی - رفسنجان ۱۴۰۲)

۲.

(۱۰ نمره)

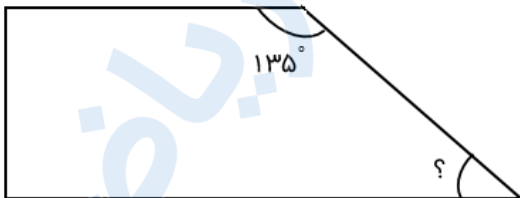
در شکل مساحت قسمت رنگی چند سانتی متر مربع است؟



۳.

(۱۰ نمره)

اندازه زاویه خواسته شده در شکل مقابل را بدست آورید.





تدریس خصوصی ریاضی به صورت حضوری و آنلاین با دبیران حرفه ای و پیگیری قدرتمند در مدرسه

۴۴۰۲۵۸۶۰ - ۲۶۵۷۰۸۱۰ - ۸۸۹۰۶۹۰۹ - ۸۸۹۰۴۰۰۲

کد تهران ۰۲۱

. ۴

(۱۰ نمره)

مساحت زمینی مستطیل شکل به طول ۲۰۰ متر و عرض ۸۹ متر چقدر می شود؟

. ۵

(۱۰ نمره)

کدام گزینه از شباهت های دوزنقه و متوازی الاضلاع نیست؟

. ۶

(۱۰ نمره)

یک مربع نوعی لوزی است که ..... .

. ۷

(۱۰ نمره)

یک مستطیل نوعی متوازی الاضلاع است که ..... .

. ۸

(۱۰ نمره)

یک مربع نوعی مستطیل است که ..... .

. ۹



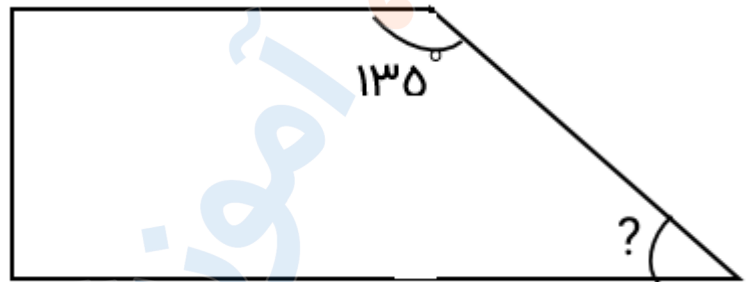
تدریس خصوصی ریاضی به صورت حضوری و آنلاین با دبیران حرفه ای و پیگیری قدرتمند در مدرسه

۸۸۹۰۴۰۰۲ - ۸۸۹۰۶۹۰۹ - ۲۶۵۷۰۸۱۰ - ۴۴۰۲۵۸۶۰

کد تهران ۰۲۱

(۱۰ نمره)

اندازه زاویه خواسته شده در شکل مقابل کدام است ؟



. ۱۰

(۱۰ نمره)

به متوازی الاضلاعی که اضلاعش برابر باشد ..... می گوئیم .