



تدریس خصوصی ریاضی به صورت حضوری و آنلاین با دبیران حرفه ای و پیگیری قدرتمند در مدرسه


۴۴۰۲۵۸۶۰ - ۲۶۵۷۰۸۱۰ - ۸۸۹۰۶۹۰۹ - ۸۸۹۰۴۰۰۲

کد تهران ۰۲۱

۱.

(۱۰ نمره)

چه کسری از شکل رنگی است؟



۲.

(۱۰ نمره)

متوازی الاضلاعی داریم که ارتفاع آن ۵ و قاعده ی آن ۷ است. مساحت این متوازی الاضلاع چند می شود؟

۳.

(۱۰ نمره)

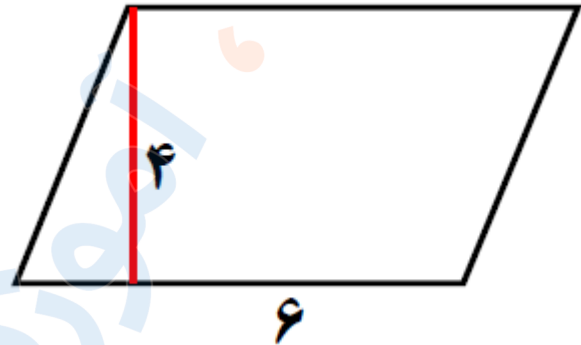


تدریس خصوصی ریاضی به صورت حضوری و آنلاین با دبیران حرفه ای و پیگیری قدرتمند در مدرسه

۴۴۰۲۵۸۶۰ - ۲۶۵۷۰۸۱۰ - ۸۸۹۰۶۹۰۹ - ۸۸۹۰۴۰۰۲

کد تهران ۰۲۱

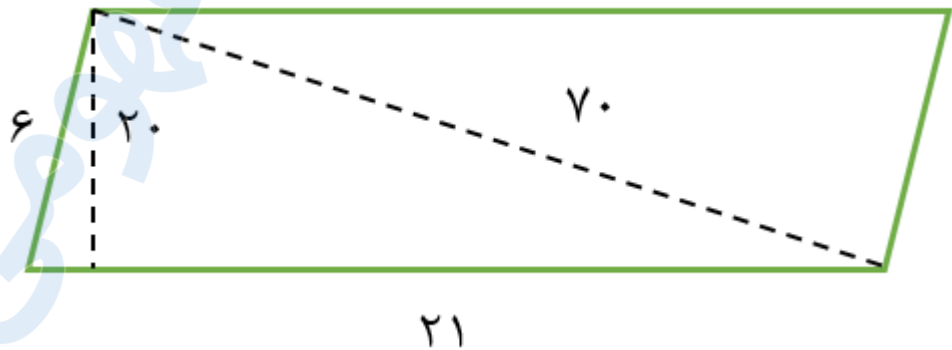
مساحت شکل زیر را بیابید.



۴.

(۱۰ نمره)

مساحت شکل زیر کدام است؟



۵.

(۱۰ نمره)

ارتفاع مثلثی ۲۰ سانتی‌متر و قاعده آن ۱۵ سانتی‌متر است. مساحت این مثلث چند سانتی‌متر مربع است؟



تدریس خصوصی ریاضی به صورت حضوری و آنلاین با دبیران حرفه ای و پیگیری قدرتمند در مدرسه

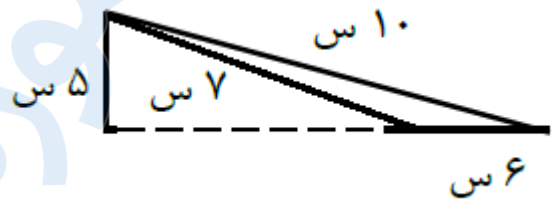
۴۴۰۲۵۸۶۰ - ۲۶۵۷۰۸۱۰ - ۸۸۹۰۶۹۰۹ - ۸۸۹۰۴۰۰۲

کد تهران ۰۲۱

۶.

(۱۰ نمره)

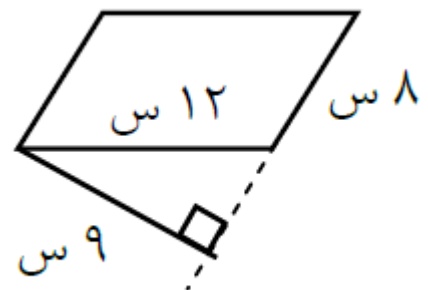
مساحت شکل مقابل کدام گزینه است؟



۷.

(۱۰ نمره)

مساحت شکل مقابل کدام گزینه است؟



۸.

(۱۰ نمره)

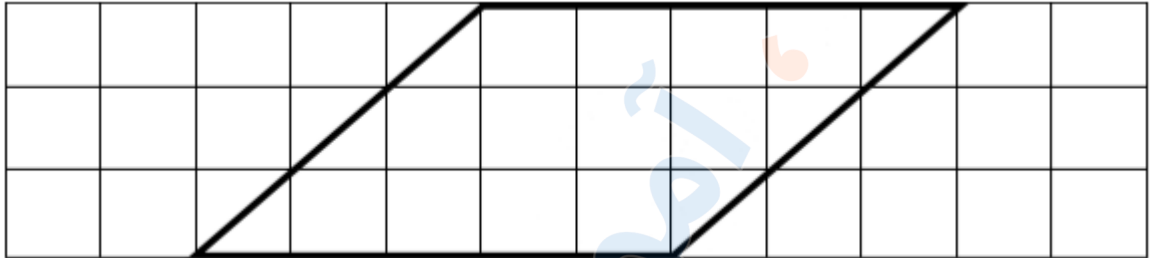


تدریس خصوصی ریاضی به صورت حضوری و آنلاین با دبیران حرفه ای و پیگیری قدرتمند در مدرسه

۴۴۰۲۵۸۶۰ - ۲۶۵۷۰۸۱۰ - ۸۸۹۰۶۹۰۹ - ۸۸۹۰۴۰۰۲

کد تهران ۰۲۱

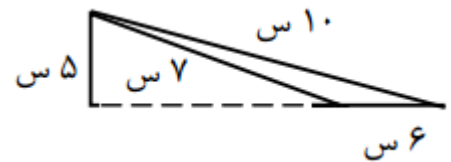
مساحت متوازی الاضلاع زیر کدام گزینه است؟



۹.

(۱۰ نمره)

مساحت مثلث از شکل زیر را به دست آورید



۱۰.

(۱۰ نمره)

مساحت متوازی الاضلاع از شکل زیر را به دست آورید

