



تدریس خصوصی ریاضی به صورت حضوری و آنلاین با دبیران حرفه ای و پیگیری قدرتمند در مدرسه

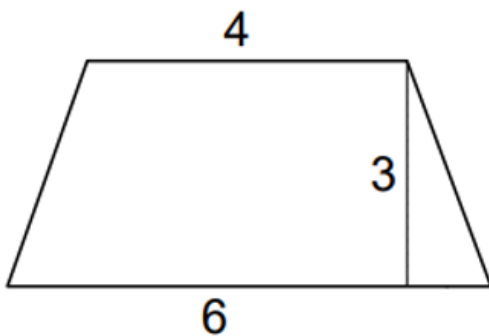
۸۸۹۰۴۰۰۲ - ۸۸۹۰۶۹۰۹ - ۲۶۵۷۰۸۱۰ - ۴۴۰۲۵۸۶۰

کد تهران ۰۲۱

۱.

(۱۰ نمره)

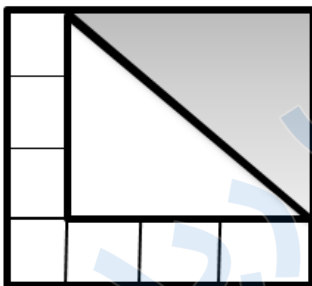
مساحت دوزنقه زیر کدام است؟ (دبستان حسینی - تهران ۱۴۰۲)



۲.

(۱۰ نمره)

اگر مساحت هر یک از ۷ مربع کوچک برابر ۴ باشد و دو مثلث برابر باشند، مساحت مثلث هاشورخورده کدام است؟



۳.

(۱۰ نمره)

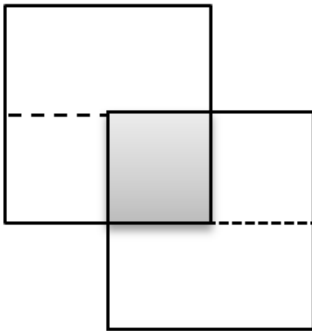


تدریس خصوصی ریاضی به صورت حضوری و آنلاین با دبیران حرفه ای و پیگیری قدرتمند در مدرسه

۴۴۰۲۵۸۶۰ - ۲۶۵۷۰۸۱۰ - ۸۸۹۰۶۹۰۹ - ۸۸۹۰۴۰۰۲

کد تهران ۰۲۱

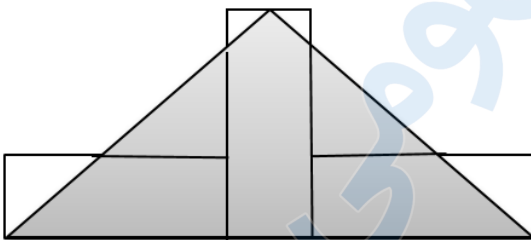
مساحت قسمت رنگی چه کسری از مساحت کل شکل است؟



. ۴

(۱۰ نمره)

سه مستطیل با طول و عرض ۱۲ و ۶ سانتی متر در کنار هم قرار گرفته اند. مساحت مثلث رنگی کدام است؟



. ۵

(۱۰ نمره)

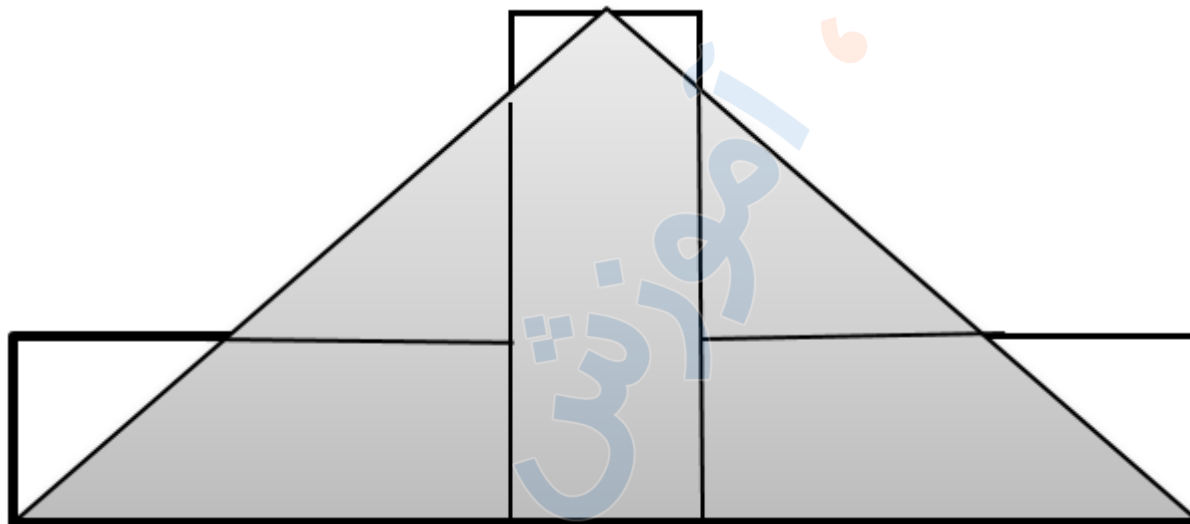


تدریس خصوصی ریاضی به صورت حضوری و آنلاین با دبیران حرفه ای و پیگیری قدرتمند در مدرسه

۴۴۰۲۵۸۶۰ - ۲۶۵۷۰۸۱۰ - ۸۸۹۰۶۹۰۹ - ۸۸۹۰۴۰۰۲

کد تهران ۰۲۱

سه مستطیل با طول و عرض ۱۲ و ۶ سانتی متر در کنار هم قرار گرفته اند. مساحت مثلث رنگی کدام است؟



(۱۰ نمره)

۶.

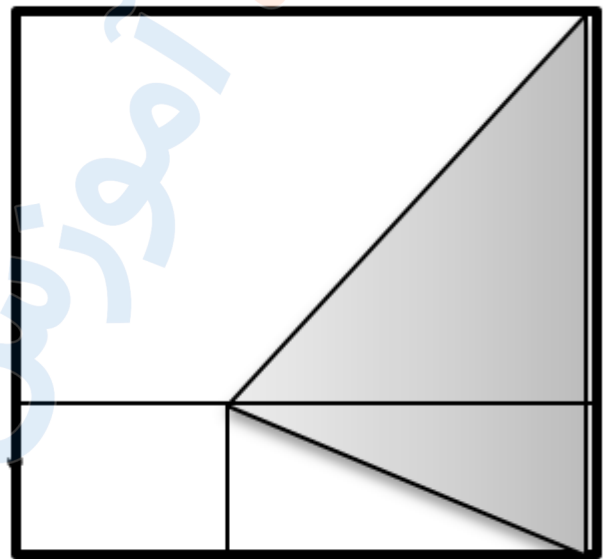


تدریس خصوصی ریاضی به صورت حضوری و آنلاین با دبیران حرفه ای و پیگیری قدرتمند در مدرسه

۴۴۰۲۵۸۶۰ - ۲۶۵۷۰۸۱۰ - ۸۸۹۰۶۹۰۹ - ۸۸۹۰۴۰۰۲

کد تهران ۰۲۱

در شکل ضلع مربع کوچک ۲ و ضلع مربع بزرگ ۶ متر است. مساحت مثلث رنگی چند متر مربع است؟



۴

. ۷

(۱۰ نمره)

علی می خواهد دیوار های اتاقش را رنگ کند. اگر طول اتاق علی ۵ متر و عرض آن ۳ متر باشد و فاصله سقف از کف اتاق ۴ متر باشد، علی چه مساحتی را باید رنگ کند؟

. ۸

(۱۰ نمره)

سارا عکسی به شکل لوزی دارد که مساحت آن ۲۴ سانتی متر مربع و یکی از قطر های آن ۸ سانتی متر است. اندازه ی قطر دیگر لوزی چند سانتی متر است؟



تدریس خصوصی ریاضی به صورت حضوری و آنلاین با دبیران حرفه ای و پیگیری قدرتمند در مدرسه

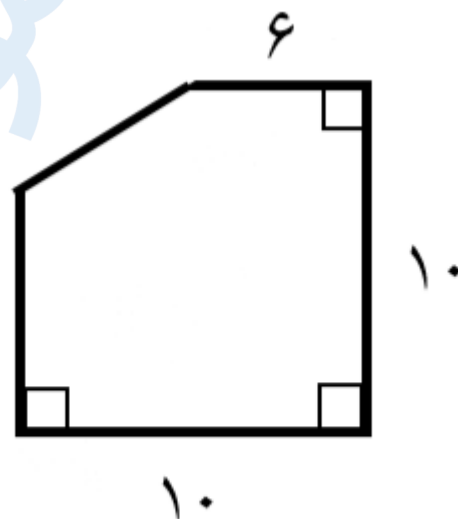
۴۴۰۲۵۸۶۰ - ۲۶۵۷۰۸۱۰ - ۸۸۹۰۶۹۰۹ - ۸۸۹۰۴۰۰۲

کد تهران ۰۲۱

۹.

(۱۰ نمره)

مساحت کل شکل زیر کدام گزینه است؟



۱۰.

(۱۰ نمره)



تدریس خصوصی ریاضی به صورت حضوری و آنلاین با دبیران حرفه ای و پیگیری قدرتمند در مدرسه

۸۸۹۰۴۰۰۲ - ۸۸۹۰۶۹۰۹ - ۲۶۵۷۰۸۱۰ - ۴۴۰۲۵۸۶۰

کد تهران ۰۲۱

مساحت کل شکل زیر کدام گزینه است؟

