



تدریس خصوصی ریاضی به صورت حضوری و آنلاین با دبیران حرفه ای و پیگیری قدرتمند در مدرسه

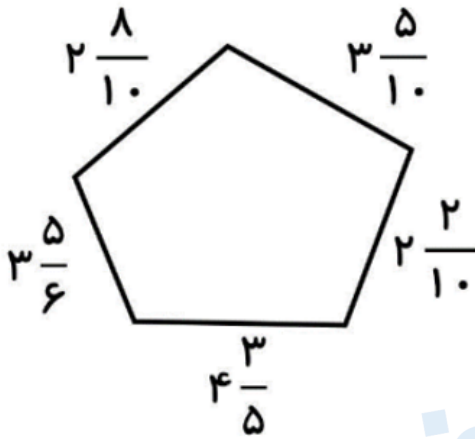
۸۸۹۰۴۰۰۲ - ۸۸۹۰۶۹۰۹ - ۲۶۵۷۰۸۱۰ - ۴۴۰۲۵۸۶۰

کد تهران ۰۲۱

۱.

(۱۰ نمره)

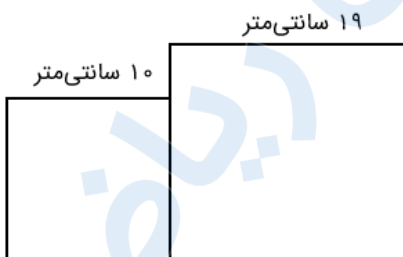
محیط تقریبی شکل زیر کدام است؟ (دبستان سرای دانش - تهران ۱۴۰۲)



۲.

(۱۰ نمره)

محیط شکل روبه‌رو را به دست آورید. (شکل‌ها مربع هستند).





تدریس خصوصی ریاضی به صورت حضوری و آنلاین با دبیران حرفه ای و پیگیری قدرتمند در مدرسه


۴۴۰۲۵۸۶۰ - ۲۶۵۷۰۸۱۰ - ۸۸۹۰۶۹۰۹ - ۸۸۹۰۴۰۰۲

کد تهران ۰۲۱

۳.

(۱۰ نمره)

یک باغچه به شکل زیر را قطعه‌بندی کرده‌اند تا در هر قسمت آن یک نوع سبزی بکارند. اگر مساحت باغچه ۸ متر مربع باشد، مساحت هر مربع چند متر مربع است و اندازه هر ضلع مربع چند متر است؟



۴.

(۱۰ نمره)

می‌خواهیم دور این مستطیل را ۳ دور سیم خاردار بکشیم. چند متر سیم خاردار نیاز داریم؟



$\frac{7}{4}$

$\frac{9}{2}$

۵.

(۱۰ نمره)



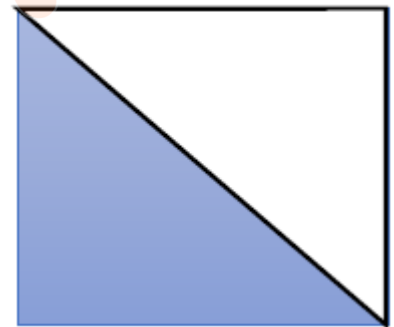
تدریس خصوصی ریاضی به صورت حضوری و آنلاین با دبیران حرفه ای و پیگیری قدرتمند در مدرسه

۸۸۹۰۴۰۰۲ - ۸۸۹۰۶۹۰۹ - ۲۶۵۷۰۸۱۰ - ۴۴۰۲۵۸۶۰

کد تهران ۰۲۱

مساحت قسمت رنگی در شکل زیر چه قدر است؟

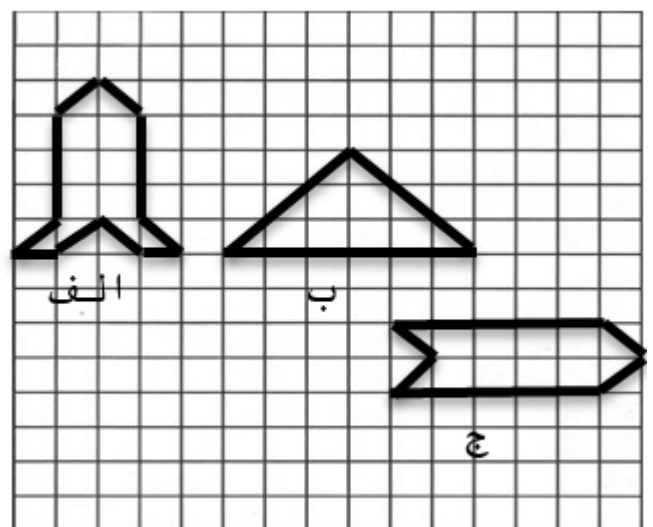
۱۰



۶.

(۱۰ نمره)

کدام شکل ها مساحت برابر دارند؟





تدریس خصوصی ریاضی به صورت حضوری و آنلاین با دبیران حرفه ای و پیگیری قدرتمند در مدرسه

۴۴۰۲۵۸۶۰ - ۲۶۵۷۰۸۱۰ - ۸۸۹۰۶۹۰۹ - ۸۸۹۰۴۰۰۲

کد تهران ۰۲۱

. ۷

(۱۰ نمره)

مجموع طول و عرض متوازی الاضلاع برابر با ۸ سانتی متر است، محیط این متوازی الاضلاع چقدر است؟

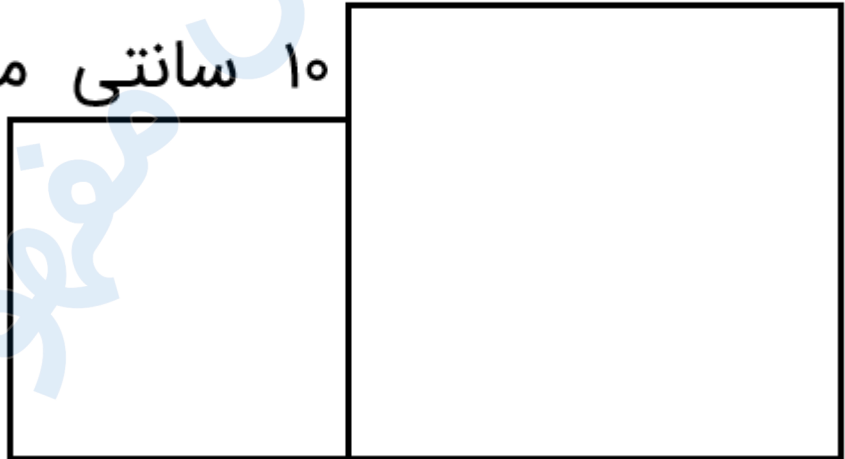
. ۸

(۱۰ نمره)

محیط شکل رو به رو کدام یک از گزینه های زیر می باشد؟ (شکل ها مربع هستند)

۱۹ سانتی متر

۱۰ سانتی متر



. ۹

(۱۰ نمره)

باغی مستطیل شکل به طول ۷۶۰ متر و عرض ۲۱۰ متر داریم. میخواهیم دور این باغ را دو دور سیم خاردار بکشیم برای این کار به چند متر سیم خاردار نیاز داریم؟



تدریس خصوصی ریاضی به صورت حضوری و آنلاین با دبیران حرفه ای و پیگیری قدرتمند در مدرسه

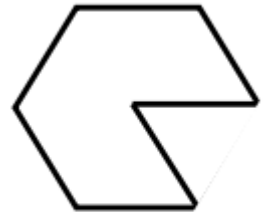
۸۸۹۰۴۰۰۲ - ۸۸۹۰۶۹۰۹ - ۲۶۵۷۰۸۱۰ - ۴۴۰۲۵۸۶۰

کد تهران ۰۲۱

۱۰ .

(۱۰ نمره)

محیط شکل زیر را به دست آورید



۸ س