



تدریس خصوصی ریاضی به صورت حضوری و آنلاین با دبیران حرفه ای و پیگیری قدرتمند در مدرسه


۴۴۰۲۵۸۶۰ - ۲۶۵۷۰۸۱۰ - ۸۸۹۰۶۹۰۹ - ۸۸۹۰۴۰۰۲

کد تهران ۰۲۱

۱.

(۱۰ نمره)

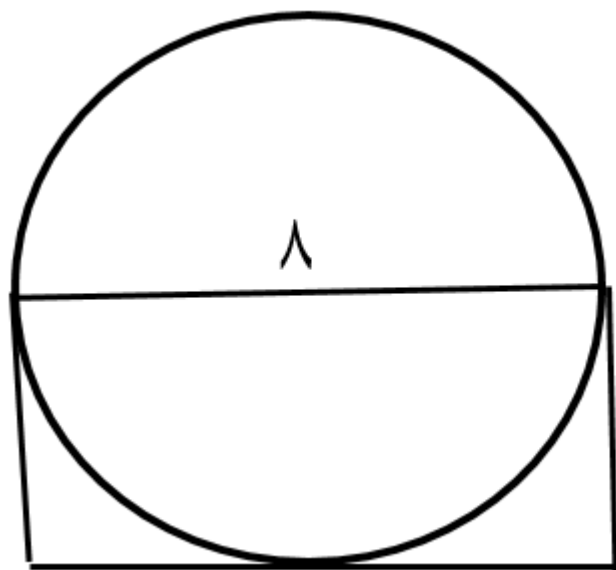
محیط شکل زیر را به دست آورید. (دبستان سرای دانش - تهران ۱۴۰۲)



۲.

(۱۰ نمره)

قطر دایره رو به رو ۸ سانتی متر است. محیط مستطیل چقدر می باشد؟



۴



تدریس خصوصی ریاضی به صورت حضوری و آنلاین با دبیران حرفه ای و پیگیری قدرتمند در مدرسه

۸۸۹۰۴۰۰۲ - ۸۸۹۰۶۹۰۹ - ۲۶۵۷۰۸۱۰ - ۴۴۰۲۵۸۶۰

کد تهران ۰۲۱

۳.

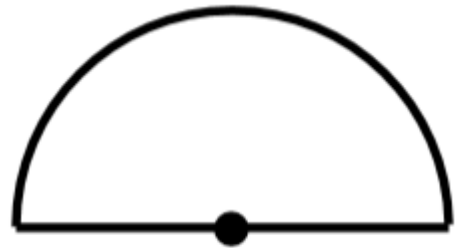
(۱۰ نمره)

محیط ربع دایره ای که شعاع آن ۱۰ متر است چند متر می باشد؟ (۳ = )

۴.

(۱۰ نمره)

محیط شکل زیر کدام گزینه است؟



۴۰۰ س

۵.

(۱۰ نمره)

مادر سمیه می خواهد دور تا دور یک رو میزی دایره ای شکل به قطر ۳۰ سانتی متر ، نوار بدوزد. او برای انجام این کار به چند سانتی متر نوار نیاز دارد؟

۶.

(۱۰ نمره)



تدریس خصوصی ریاضی به صورت حضوری و آنلاین با دبیران حرفه ای و پیگیری قدرتمند در مدرسه

۴۴۰۲۵۸۶۰ - ۲۶۵۷۰۸۱۰ - ۸۸۹۰۶۹۰۹ - ۸۸۹۰۴۰۰۲

کد تهران ۰۲۱

با یک قطعه سیم به طول ۱۲.۵۶ سانتی متر دایره ساخته ایم. محیط دایره چقدر است؟

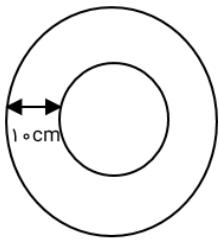
. ۷

(۱۰ نمره)

نسبت محیط هر دایره به قطر آن تقریباً چقدر است؟

. ۸

(۱۰ نمره)



دو دایره هم‌مرکز مطابق شکل داریم. اختلاف محیط‌های این دو دایره تقریباً چقدر است؟

. ۹

(۱۰ نمره)

محیط ربع دایره‌ای که شعاع آن ۱۰ متر باشد، چند متر است؟

. ۱۰

(۱۰ نمره)



تدریس خصوصی ریاضی به صورت حضوری و آنلاین با دبیران حرفه ای و پیگیری قدرتمند در مدرسه

۸۸۹۰۴۰۰۲ - ۸۸۹۰۶۹۰۹ - ۲۶۵۷۰۸۱۰ - ۴۴۰۲۵۸۶۰

کد تهران ۰۲۱

محیط شکل داده شده را بدست آورید. (دبستان مهرگان - بابل ۱۴۰۲)

