



تدریس خصوصی ریاضی به صورت حضوری و آنلاین با دبیران حرفه ای و پیگیری قدرتمند در مدرسه

۴۴۰۲۵۸۶۰ - ۲۶۵۷۰۸۱۰ - ۸۸۹۰۶۹۰۹ - ۸۸۹۰۴۰۰۲

کد تهران ۰۲۱

۱.

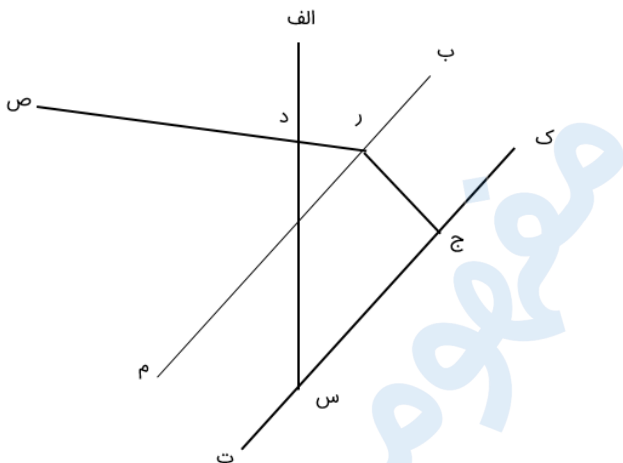
(۱۰ نمره)

از یک نقطه خارج یک خط چند عمود می‌توان بر آن رسم کرد؟

۲.

(۱۰ نمره)

با توجه به شکل زیر فاصله دو خط موازی برابر با طول کدام پاره‌خط است؟



۳.

(۱۰ نمره)

برای آن که با کمک گونیا خطی رسم کنیم که با خط «م ن» موازی باشد، چند بار از گونیا استفاده می‌کنیم؟

\_\_\_\_\_

ن

م



تدریس خصوصی ریاضی به صورت حضوری و آنلاین با دبیران حرفه ای و پیگیری قدرتمند در مدرسه

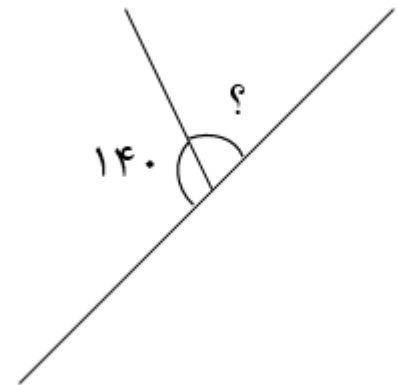
۴۴۰۲۵۸۶۰ - ۲۶۵۷۰۸۱۰ - ۸۸۹۰۶۹۰۹ - ۸۸۹۰۴۰۰۲

کد تهران ۰۲۱

۴ .

(۱۰ نمره)

اندازه زاویه مجهول کدام است؟



۵ .

(۱۰ نمره)

برای آنکه با کمک گونیا خطی رسم کنید که با خط (م ن) موازی باشد، چند بار از گونیا استفاده می کنیم؟

۶ .

(۱۰ نمره)

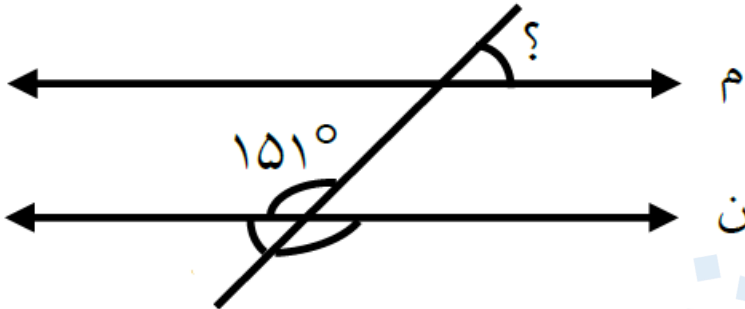


تدریس خصوصی ریاضی به صورت حضوری و آنلاین با دبیران حرفه ای و پیگیری قدرتمند در مدرسه

۴۴۰۲۵۸۶۰ - ۲۶۵۷۰۸۱۰ - ۸۸۹۰۶۹۰۹ - ۸۸۹۰۴۰۰۲

کد تهران ۰۲۱

در شکل زیر مقدار (( ؟ )) کدام گزینه است ؟



( دو خط (م) و (ن) موازی اند. )

. ۷

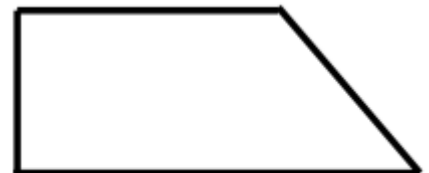
(۱۰ نمره)

دو خط عمود بر یک خط با هم ..... هستند

. ۸

(۱۰ نمره)

شکل زیر چند زاویه راست دارد؟



. ۹




تدریس خصوصی ریاضی به صورت حضوری و آنلاین با دبیران حرفه ای و پیگیری قدرتمند در مدرسه

۴۴۰۲۵۸۶۰ - ۲۶۵۷۰۸۱۰ - ۸۸۹۰۶۹۰۹ - ۸۸۹۰۴۰۰۲

کد تهران ۰۲۱

(۱۰ نمره)

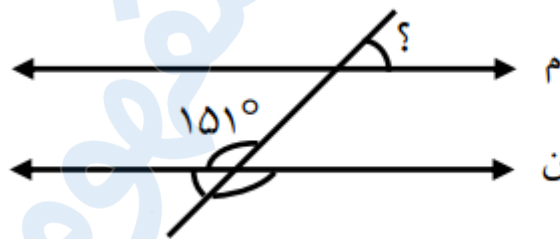
شکل زیر چند زاویه راست دارد؟



. ۱۰

(۱۰ نمره)

در شکل زیر مقدار خواسته شده را به دست آورید



( دو خط (م) و (ن) موازی اند. )