



تدریس خصوصی ریاضی به صورت حضوری و آنلاین با دبیران حرفه ای و پیگیری قدرتمند در مدرسه

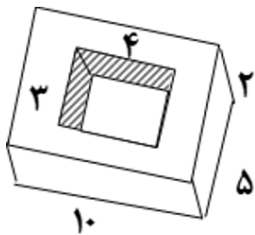
۸۸۹۰۴۰۰۲ - ۸۸۹۰۶۹۰۹ - ۲۶۵۷۰۸۱۰ - ۴۴۰۲۵۸۶۰

کد تهران ۰۲۱

. ۱

(۱۰ نمره)

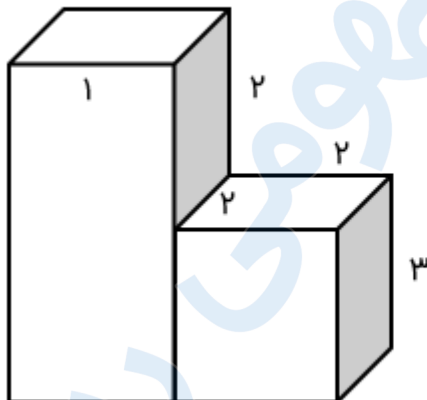
حجم شکل داده شده را بدست آورید. (دبستان مهرگان - بابل ۱۴۰۲)



. ۲

(۱۰ نمره)

حجم شکل مقابل را بیابید.



. ۳

(۱۰ نمره)

حجم مکعب مستطیلی به ابعاد ۱۶، ۱۲، ۸ سانتی متر چند برابر حجم مکعبی به ضلع ۴ سانتی متر است؟



تدریس خصوصی ریاضی به صورت حضوری و آنلاین با دبیران حرفه ای و پیگیری قدرتمند در مدرسه

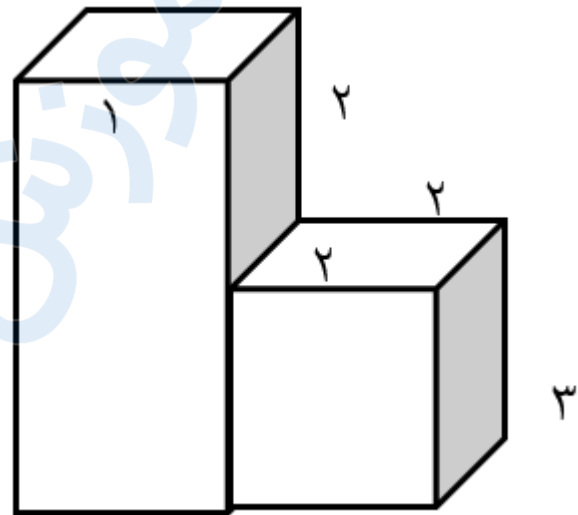
۸۸۹۰۴۰۰۲ - ۸۸۹۰۶۹۰۹ - ۲۶۵۷۰۸۱۰ - ۴۴۰۲۵۸۶۰

کد تهران ۰۲۱

۴.

(۱۰ نمره)

حجم شکل مقابل برابر با کدام گزینه است؟



۵.

(۱۰ نمره)

حجم مکعبی به ابعاد ۱۶، ۱۲، ۸ سانتی متر چند برابر حجم مکعبی به ضلع ۴ سانتی متر است؟

۶.

(۱۰ نمره)

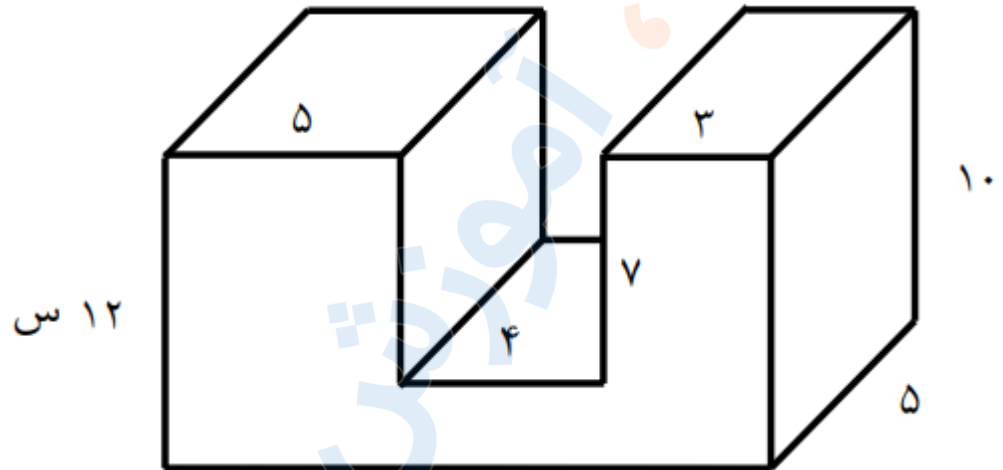


تدریس خصوصی ریاضی به صورت حضوری و آنلاین با دبیران حرفه ای و پیگیری قدرتمند در مدرسه

۸۸۹۰۴۰۰۲ - ۸۸۹۰۶۹۰۹ - ۲۶۵۷۰۸۱۰ - ۴۴۰۲۵۸۶۰

کد تهران ۰۲۱

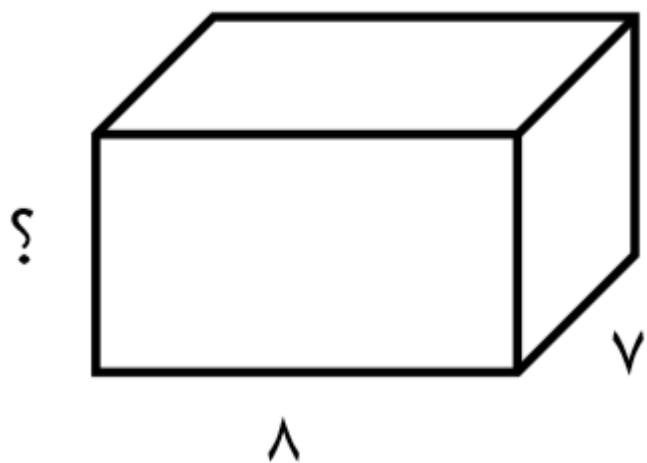
حجم شکل مقابل کدام گزینه می باشد؟



. ۷

(۱۰ نمره)

اگر حجم شکل زیر برابر با ۱۶۸ سانتی متر مکعب باشد، ارتفاع مکعب مستطیل را به دست آورید.





تدریس خصوصی ریاضی به صورت حضوری و آنلاین با دبیران حرفه ای و پیگیری قدرتمند در مدرسه

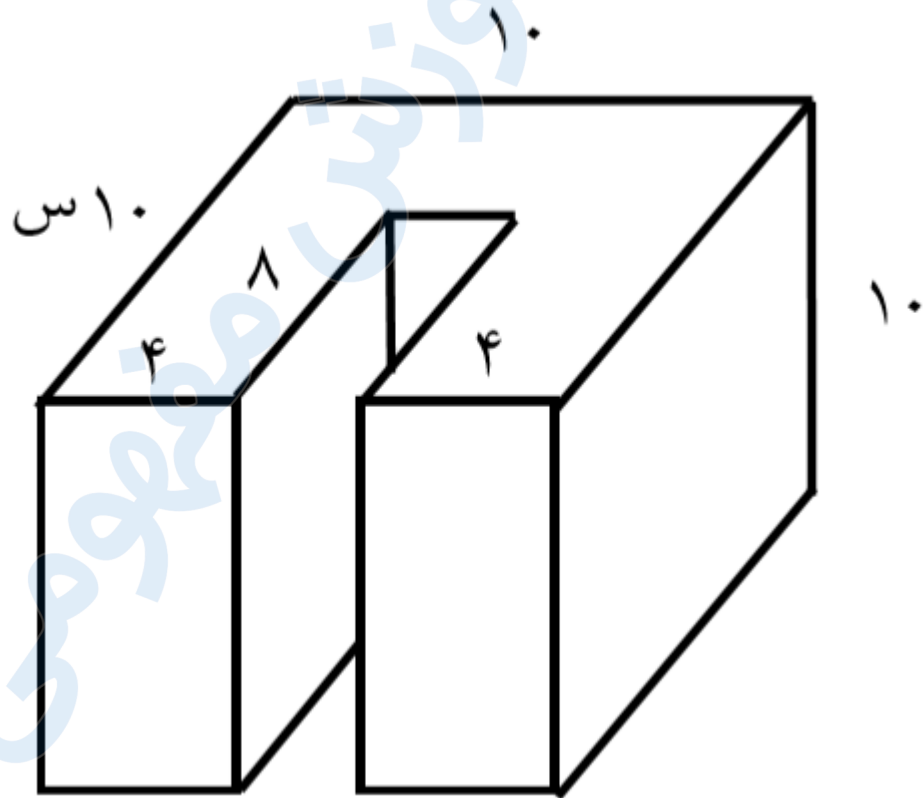
۸۸۹۰۴۰۰۲ - ۸۸۹۰۶۹۰۹ - ۲۶۵۷۰۸۱۰ - ۴۴۰۲۵۸۶۰

کد تهران ۰۲۱

۸.

(۱۰ نمره)

حجم کل شکل زیر چند سانتی متر مکعب است؟



۹.

(۱۰ نمره)

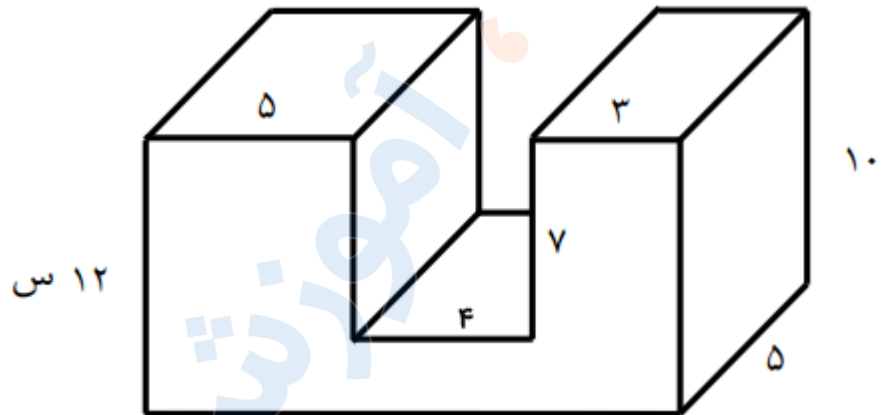


تدریس خصوصی ریاضی به صورت حضوری و آنلاین با دبیران حرفه ای و پیگیری قدرتمند در مدرسه

۸۸۹۰۴۰۰۲ - ۸۸۹۰۶۹۰۹ - ۲۶۵۷۰۸۱۰ - ۴۴۰۲۵۸۶۰

کد تهران ۰۲۱

حجم شکل زیر را به دست آورید



(۱۰ نمره)

. ۱۰



تدریس خصوصی ریاضی به صورت حضوری و آنلاین با دبیران حرفه ای و پیگیری قدرتمند در مدرسه

۸۸۹۰۴۰۰۲ - ۸۸۹۰۶۹۰۹ - ۲۶۵۷۰۸۱۰ - ۴۴۰۲۵۸۶۰

کد تهران ۰۲۱

حجم شکل زیر چند متر مکعب است؟

