



تدریس خصوصی ریاضی به صورت حضوری و آنلاین با دبیران حرفه ای و پیگیری قدرتمند در مدرسه

۸۸۹۰۴۰۰۲ - ۸۸۹۰۶۹۰۹ - ۲۶۵۷۰۸۱۰ - ۴۴۰۲۵۸۶۰

کد تهران ۰۲۱

.۱

(۱۰ نمره)

نوع زاویه زیر را مشخص و آن را تعریف کنید.



.۲

(۱۰ نمره)

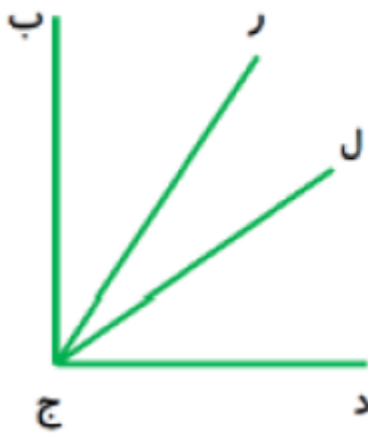


تدریس خصوصی ریاضی به صورت حضوری و آنلاین با دبیران حرفه ای و پیگیری قدرتمند در مدرسه

۴۴۰۲۵۸۶۰ - ۲۶۵۷۰۸۱۰ - ۸۸۹۰۶۹۰۹ - ۸۸۹۰۴۰۰۲

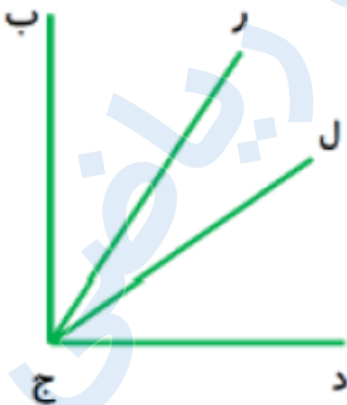
کد تهران ۰۲۱

در شکل زیر چند زاویه وجود دارد؟



(۱۰ نمره)

همه زاویه‌هایی که در شکل زیر وجود دارد را نام ببرید.





تدریس خصوصی ریاضی به صورت حضوری و آنلاین با دبیران حرفه ای و پیگیری قدرتمند در مدرسه


۴۴۰۲۵۸۶۰ - ۲۶۵۷۰۸۱۰ - ۸۸۹۰۶۹۰۹ - ۸۸۹۰۴۰۰۲

کد تهران ۰۲۱

۴.

(۱۰ نمره)

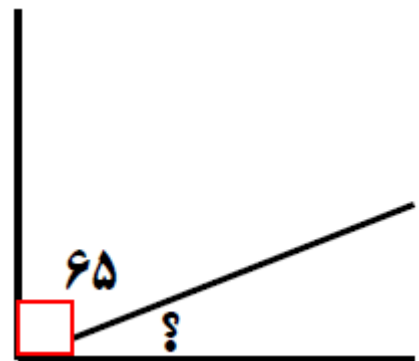
اندازه زاویه خواسته شده را بیابید.



۵.

(۱۰ نمره)

اندازه زاویه خواسته شده را بیابید.



۶.

(۱۰ نمره)

زاویه نیم صفحه ..... زاویه راست است.



تدریس خصوصی ریاضی به صورت حضوری و آنلاین با دبیران حرفه ای و پیگیری قدرتمند در مدرسه

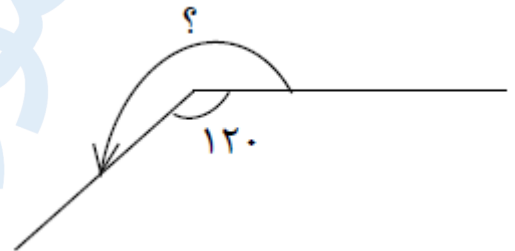
۴۴۰۲۵۸۶۰ - ۲۶۵۷۰۸۱۰ - ۸۸۹۰۶۹۰۹ - ۸۸۹۰۴۰۰۲

کد تهران ۰۲۱

۷.

(۱۰ نمره)

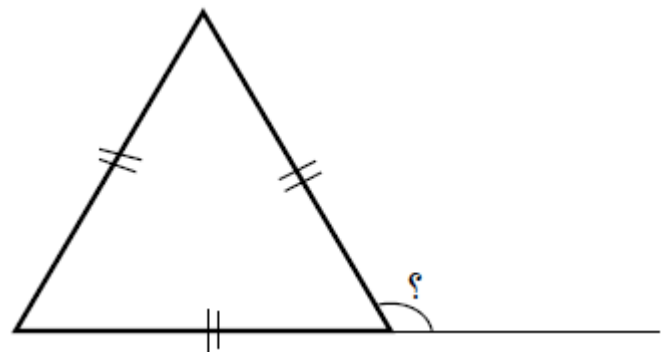
اندازه زاویه خواسته شده کدام است؟



۸.

(۱۰ نمره)

اندازه زاویه خواسته شده کدام است؟



۹.

(۱۰ نمره)

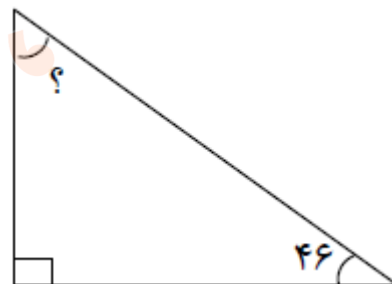


تدریس خصوصی ریاضی به صورت حضوری و آنلاین با دبیران حرفه ای و پیگیری قدرتمند در مدرسه

۸۸۹۰۴۰۰۲ - ۸۸۹۰۶۹۰۹ - ۲۶۵۷۰۸۱۰ - ۴۴۰۲۵۸۶۰

کد تهران ۰۲۱

اندازه زاویه خواسته شده کدام است؟



۱۰.

(۱ نمره)

شکل زیر چند پاره خط دارد؟

