



تدریس خصوصی ریاضی به صورت حضوری و آنلاین با دبیران حرفه ای و پیگیری قدرتمند در مدرسه

۴۴۰۲۵۸۶۰ - ۲۶۵۷۰۸۱۰ - ۸۸۹۰۶۹۰۹ - ۸۸۹۰۴۰۰۲

کد تهران ۰۲۱

.۱

(۱۰ نمره)

طول نوار «ب» چه کسری از طول نوار «آ» است؟



.۲

(۱۰ نمره)

طول نوار «آ» چند برابر طول نوار «ب» است؟



.۳



تدریس خصوصی ریاضی به صورت حضوری و آنلاین با دبیران حرفه ای و پیگیری قدرتمند در مدرسه

۴۴۰۲۵۸۶۰ - ۲۶۵۷۰۸۱۰ - ۸۸۹۰۶۹۰۹ - ۸۸۹۰۴۰۰۲

کد تهران ۰۲۱

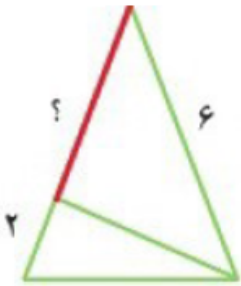
(۱۰ نمره)

اگر ۳ قطعه چوب به طول های ۳، ۴ و ۷ داشته باشیم چه طول هایی می توانیم بسازیم؟

. ۴

(۱۰ نمره)

طول پاره خطی که با علامت سوال مشخص شده است را پیدا کنید.



مثلث متساوی الساقین

. ۵

(۱۰ نمره)

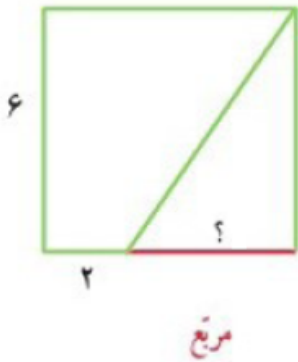


تدریس خصوصی ریاضی به صورت حضوری و آنلاین با دبیران حرفه ای و پیگیری قدرتمند در مدرسه

۴۴۰۲۵۸۶۰ - ۲۶۵۷۰۸۱۰ - ۸۸۹۰۶۹۰۹ - ۸۸۹۰۴۰۰۲

کد تهران ۰۲۱

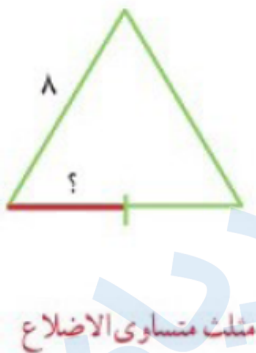
طول پاره‌خطی که با علامت سوال مشخص شده است را پیدا کنید.



.۶

(۱۰ نمره)

طول پاره‌خطی که با علامت سوال مشخص شده است را پیدا کنید.



.۷

(۱۰ نمره)

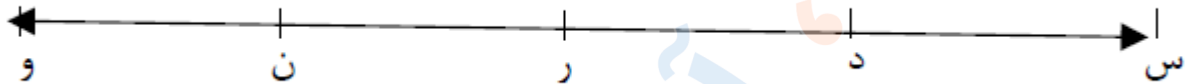


تدریس خصوصی ریاضی به صورت حضوری و آنلاین با دبیران حرفه ای و پیگیری قدرتمند در مدرسه

۴۴۰۲۵۸۶۰ - ۲۶۵۷۰۸۱۰ - ۸۸۹۰۶۹۰۹ - ۸۸۹۰۴۰۰۲

کد تهران ۰۲۱

شکل زیر چند نیم خط وجود دارد؟



۸.

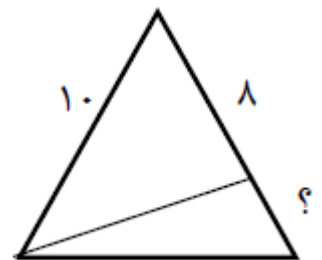
(۱۰ نمره)

دو نوار به طول های ۱۰۰ سانتی متر و ۱۵۰ سانتی متر را به هم می چسبانیم. نوار جدید چه طولی می تواند داشته باشد؟

۹.

(۱۰ نمره)

اگر مثلث بزرگ متساوی الساقین باشد، طول پاره خطی که با علامت (?) مشخص شده کدام است؟



۱۰.

(۱ نمره)

۹۰۰۰ متر یعنی کیلومتر