



تدریس خصوصی ریاضی به صورت حضوری و آنلاین با دبیران حرفه ای و پیگیری قدرتمند در مدرسه

۴۴۰۲۵۸۶۰ - ۲۶۵۷۰۸۱۰ - ۸۸۹۰۶۹۰۹ - ۸۸۹۰۴۰۰۲

کد تهران ۰۲۱

. ۱

(۱۰ نمره)

یک پنج ضلعی دارای چند قطر است؟ (دبستان یاس-لاهیجان ۱۴۰۲)

پاسخ :

۵

. ۲

(۱۰ نمره)

به خطی که بتوان آن را از دو طرف ادامه داد می گویند. (دبستان یاس-لاهیجان ۱۴۰۲)

پاسخ :

خط راست

. ۳

(۱۰ نمره)



تدریس خصوصی ریاضی به صورت حضوری و آنلاین با دبیران حرفه ای و پیگیری قدرتمند در مدرسه

۸۸۹۰۴۰۰۲ - ۸۸۹۰۶۹۰۹ - ۲۶۵۷۰۸۱۰ - ۴۴۰۲۵۸۶۰

کد تهران ۰۲۱

بگویید هر شکل چند قطر دارد و آن‌ها را رسم کنید.



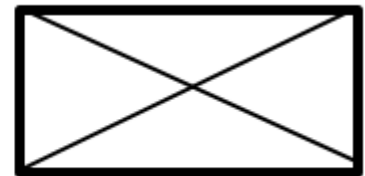
پاسخ :



پنج قطر



ندارد




دو قطر

۴ .

(۱۰ نمره)

شکل زیر به ترتیب چند ضلع و قطر دارد ؟



پاسخ :

۴ ضلع ، ۲ قطر



تدریس خصوصی ریاضی به صورت حضوری و آنلاین با دبیران حرفه ای و پیگیری قدرتمند در مدرسه

۴۴۰۲۵۸۶۰ - ۲۶۵۷۰۸۱۰ - ۸۸۹۰۶۹۰۹ - ۸۸۹۰۴۰۰۲

کد تهران ۰۲۱

۵ .

(۱۰ نمره)

شکل زیر به ترتیب چند گوشه و قطر دارد؟



پاسخ :

۵ گوشه ، ۵ قطر

۶ .

(۱۰ نمره)

شکل زیر به ترتیب چند ضلع و چند قطر دارد؟



پاسخ :

۴ ضلع ، ۲ قطر



تدریس خصوصی ریاضی به صورت حضوری و آنلاین با دبیران حرفه ای و پیگیری قدرتمند در مدرسه

۴۴۰۲۵۸۶۰ - ۲۶۵۷۰۸۱۰ - ۸۸۹۰۶۹۰۹ - ۸۸۹۰۴۰۰۲

کد تهران ۰۲۱

. ۷

(۱۰ نمره)

اگر تمامی نقاطی که فاصله آن ها از نقطه ((م)) برابر با ۴ سانتی متر است ، مشخص کنیم ، چه شکلی به دست می آید ؟

م



پاسخ :

دایره

. ۸

(۱۰ نمره)

دو خط حداکثر یکدیگر را در چند نقطه قطع می کنند ؟

پاسخ :

دو خط اگر بر هم منطبق باشند همدیگر را در بی شمار نقطه قطع می کنند.

. ۹

(۱۰ نمره)

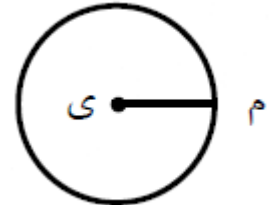


تدریس خصوصی ریاضی به صورت حضوری و آنلاین با دبیران حرفه ای و پیگیری قدرتمند در مدرسه

۴۴۰۲۵۸۶۰ - ۲۶۵۷۰۸۱۰ - ۸۸۹۰۶۹۰۹ - ۸۸۹۰۴۰۰۲

کد تهران ۰۲۱

در دایره زیر ، نام پاره خطر (م ی) کدام است ؟



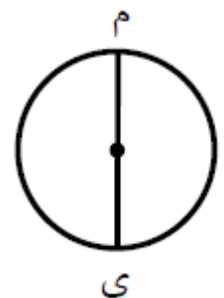
پاسخ :

شعاع

۱۰ .

(۱۰ نمره)

در دایره زیر ، نام پاره خط (م ی) کدام است ؟



پاسخ :

قطر