



تدریس خصوصی ریاضی به صورت حضوری و آنلاین با دبیران حرفه ای و پیگیری قدرتمند در مدرسه

۴۴۰۲۵۸۶۰ - ۲۶۵۷۰۸۱۰ - ۸۸۹۰۶۹۰۹ - ۸۸۹۰۴۰۰۲

کد تهران ۰۲۱

۱.

(۱۰ نمره)

اگر مربعی را با زاویه‌های ..... یا ..... درجه بچرخانیم روی خودش منطبق می‌شود.

(دبستان فرشتگان - کنگان ۱۴۰۱)

۲.

(۱۰ نمره)

درستی یا نادرستی جمله زیر را مشخص کنید. (دبستان فرشتگان - کنگان ۱۴۰۱)

«متمم زاویه ۴۷ درجه، زاویه ۱۳۳ درجه است.»

۳.

(۱۰ نمره)

ساعت ۶ صبح و ۹:۴۵ هر دو زاویه ..... درجه را نشان می‌دهند. (دبستان سرای دانش - تهران ۱۴۰۲)

۴.

(۱۰ نمره)

متمم زاویه ۳۷ درجه زاویه ..... است. (دبستان سرای دانش - تهران ۱۴۰۲)



تدریس خصوصی ریاضی به صورت حضوری و آنلاین با دبیران حرفه ای و پیگیری قدرتمند در مدرسه

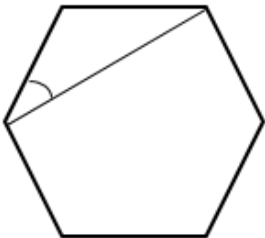
۴۴۰۲۵۸۶۰ - ۲۶۵۷۰۸۱۰ - ۸۸۹۰۶۹۰۹ - ۸۸۹۰۴۰۰۲

کد تهران ۰۲۱

۵.

(۱۰ نمره)

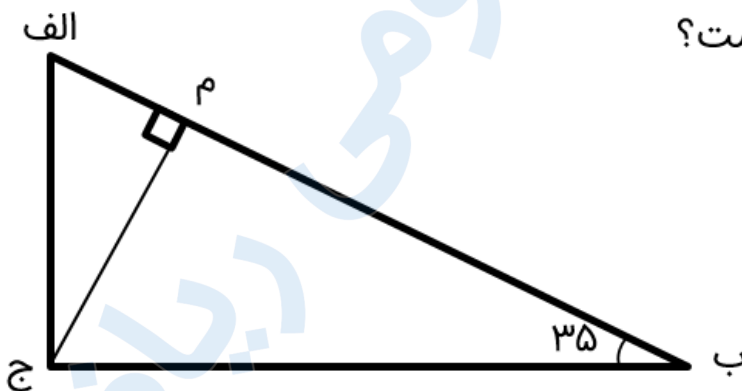
در شکل مقابل اندازه زاویه مشخص شده چند درجه است؟



۶.

(۱۰ نمره)

در شکل زیر اندازه زاویه الف چقدر است؟



۷.



تدریس خصوصی ریاضی به صورت حضوری و آنلاین با دبیران حرفه ای و پیگیری قدرتمند در مدرسه


۴۴۰۲۵۸۶۰ - ۲۶۵۷۰۸۱۰ - ۸۸۹۰۶۹۰۹ - ۸۸۹۰۴۰۰۲

کد تهران ۰۲۱

(۱۰ نمره)

درستی یا نادرستی عبارت زیر را مشخص کنید.

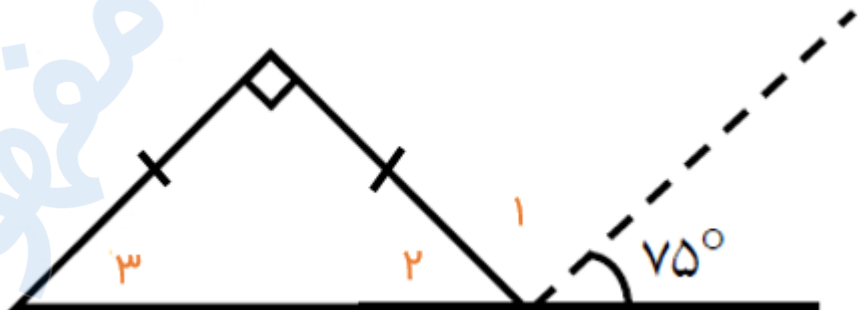
«تعداد پاره‌خط‌های شکل ۱۵ تا است.»



. ۸

(۱۰ نمره)

اندازه زاویای ۱، ۲ و ۳ به ترتیب در کدام گزینه آمده است؟



. ۹

(۱۰ نمره)

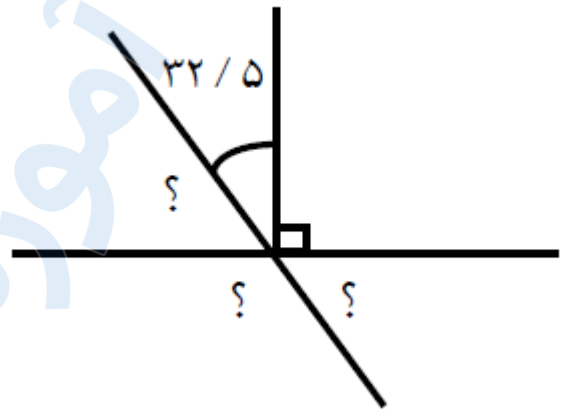


تدریس خصوصی ریاضی به صورت حضوری و آنلاین با دبیران حرفه ای و پیگیری قدرتمند در مدرسه

۸۸۹۰۴۰۰۲ - ۸۸۹۰۶۹۰۹ - ۲۶۵۷۰۸۱۰ - ۴۴۰۲۵۸۶۰

کد تهران ۰۲۱

زوایای خواسته شده را پیدا کنید.



.۱۰

(۱۰ نمره)

در شکل مقابل مجموع زاویه‌های نشان داده شده چقدر است؟

