



تدریس خصوصی ریاضی به صورت حضوری و آنلاین با دبیران حرفه ای و پیگیری قدرتمند در مدرسه

۴۴۰۲۵۸۶۰ - ۲۶۵۷۰۸۱۰ - ۸۸۹۰۶۹۰۹ - ۸۸۹۰۴۰۰۲

کد تهران ۰۲۱

۱.

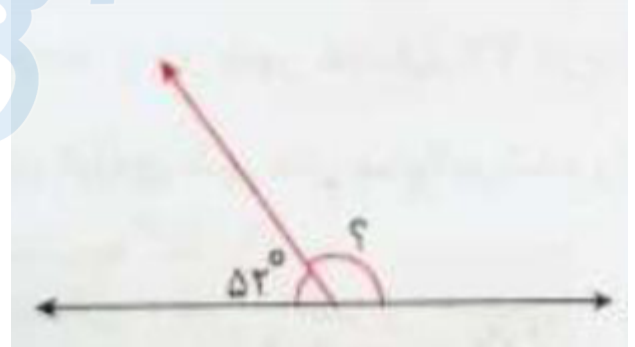
(۱۰ نمره)

به نیم خطی که زاویه را به دو قسمت مساوی تقسیم می کند ..... نیز می گویند. (دبستان حسینی - تهران ۱۴۰۲)

۲.

(۱۰ نمره)

در شکل زیر اندازه زاویه خواسته شده چند درجه است؟



الف . ۱۲۸

ج . ۱۰۲

ب . ۹۸

د . ۱۱۲

۳.

(۱۰ نمره)

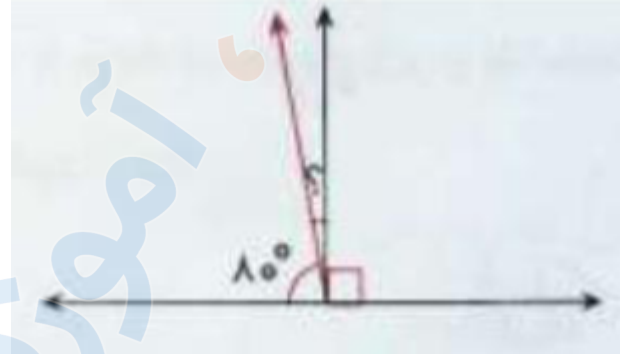


تدریس خصوصی ریاضی به صورت حضوری و آنلاین با دبیران حرفه ای و پیگیری قدرتمند در مدرسه

۴۴۰۲۵۸۶۰ - ۲۶۵۷۰۸۱۰ - ۸۸۹۰۶۹۰۹ - ۸۸۹۰۴۰۰۲

کد تهران ۰۲۱

در شکل زیر اندازه زاویه خواسته شده چند درجه است؟

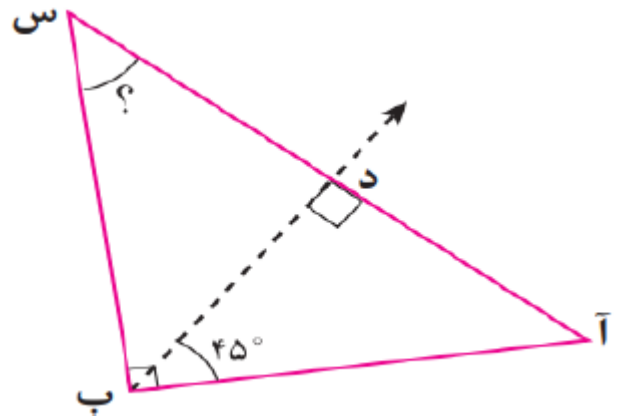


- الف . ۱۰  
ب . ۲۰  
ج . ۱۰۰  
د . ۱۱۰

۴ .

(۱۰ نمره)

در شکل زیر نیم خط (ب د) نیمساز زاویه (ب) است. اندازه زاویه (س) کدام است؟



- الف . ۳۵  
ب . ۷۵  
ج . ۴۵  
د . ۵۵



تدریس خصوصی ریاضی به صورت حضوری و آنلاین با دبیران حرفه ای و پیگیری قدرتمند در مدرسه

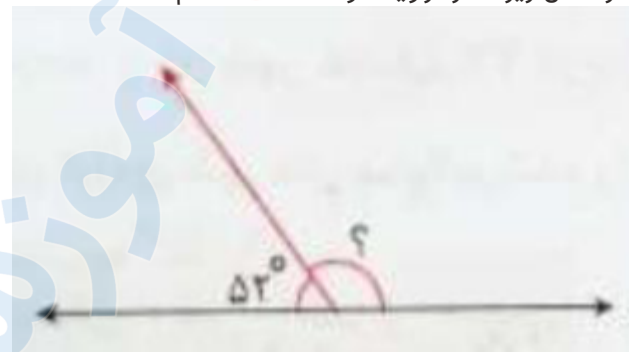
۴۴۰۲۵۸۶۰ - ۲۶۵۷۰۸۱۰ - ۸۸۹۰۶۹۰۹ - ۸۸۹۰۴۰۰۲

کد تهران ۰۲۱

۵ .

(۱۰ نمره)

در شکل زیر اندازه زاویه خواسته شده کدام است؟



الف . ۱۳۸

ب . ۱۳۳

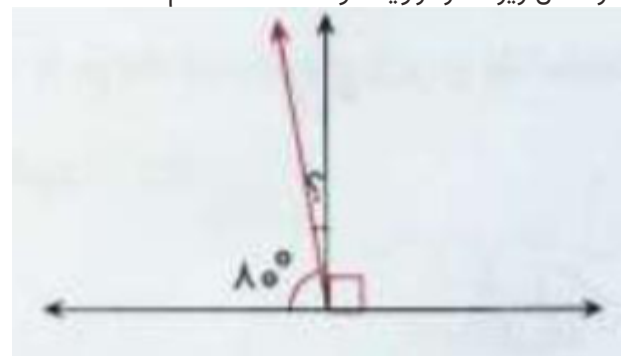
ج . ۱۲۸

د . ۱۲۳

۶ .

(۱۰ نمره)

در شکل زیر اندازه زاویه خواسته شده کدام است؟



الف . ۱۰۰

ب . ۱۰

ج . ۲۰

د . ۱۱۰



تدریس خصوصی ریاضی به صورت حضوری و آنلاین با دبیران حرفه ای و پیگیری قدرتمند در مدرسه

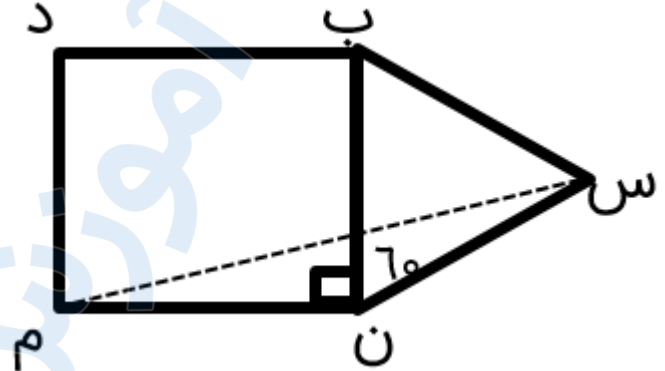
۴۴۰۲۵۸۶۰ - ۲۶۵۷۰۸۱۰ - ۸۸۹۰۶۹۰۹ - ۸۸۹۰۴۰۰۲

کد تهران ۰۲۱

۷.

(۱۰ نمره)

در شکل زیر چهارضلعی مربع و مثلث (س ب ن) متساوی الاضلاع است اندازه زاویه (س م ن) چند درجه است؟



ب . ۱۵

د . ۴۵

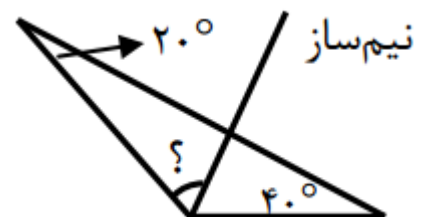
الف . ۱۰

ج . ۲۵

۸.

(۱۰ نمره)

اندازه زاویه خواسته شده را بیابید



ب . ۷۰

د . ۵۰

الف . ۸۰

ج . ۶۰

۹.

(۱۰ نمره)

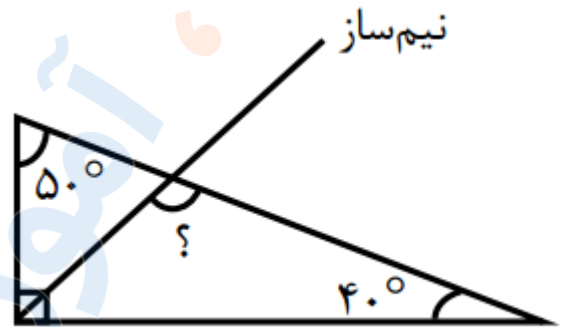


تدریس خصوصی ریاضی به صورت حضوری و آنلاین با دبیران حرفه ای و پیگیری قدرتمند در مدرسه

۸۸۹۰۴۰۰۲ - ۸۸۹۰۶۹۰۹ - ۲۶۵۷۰۸۱۰ - ۴۴۰۲۵۸۶۰

کد تهران ۰۲۱

اندازه زاویه خواسته شده را بیابید



- ب . ۹۵
- د . ۱۰۵

- الف . ۸۵
- ج . ۱۰۰

. ۱۰

(۱۰ نمره)

در یک مثلث متساوی‌الساقین اندازه زاویه مجاور به هر ساق ۳۵ درجه است. اندازه زاویه سوم و اختلاف این زاویه با زاویه قائمه به ترتیب در کدام گزینه آمده است؟

- ب . ۲۰ - ۱۱۰
- د . ۷۰ - ۱۱۰

- الف . ۵۵ - ۳۵
- ج . ۳۶ - ۵۴