



تدریس خصوصی ریاضی به صورت حضوری و آنلاین با دبیران حرفه ای و پیگیری قدرتمند در مدرسه

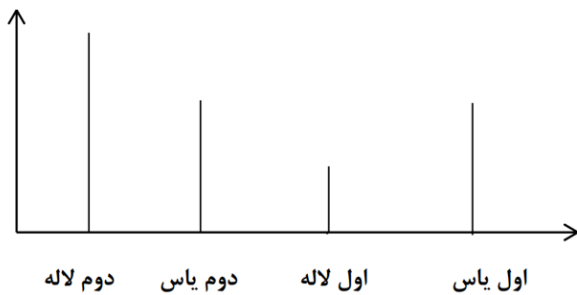
۴۴۰۲۵۸۶۰ - ۲۶۵۷۰۸۱۰ - ۸۸۹۰۶۹۰۹ - ۸۸۹۰۴۰۰۲

کد تهران ۰۲۱

۱.

(۱۰ نمره)


با توجه به نمودار امتیاز کدام کلاس‌ها با هم مساوی است؟ (دبستان سرای دانش الغدیر - تهران ۱۴۰۲)



۲.

(۱۰ نمره)

کدام کلاس کمترین امتیاز را دارد؟ (دبستان سرای دانش الغدیر - تهران ۱۴۰۲)



۳.

(۱۰ نمره)

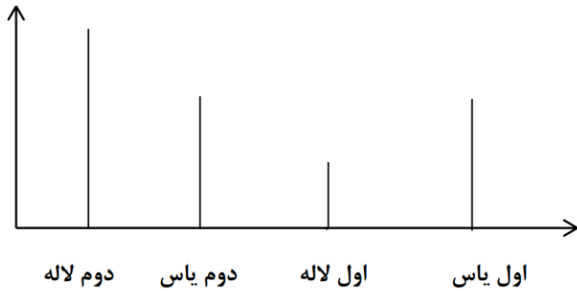


تدریس خصوصی ریاضی به صورت حضوری و آنلاین با دبیران حرفه ای و پیگیری قدرتمند در مدرسه

۴۴۰۲۵۸۶۰ - ۲۶۵۷۰۸۱۰ - ۸۸۹۰۶۹۰۹ - ۸۸۹۰۴۰۰۲

کد تهران ۰۲۱

با توجه به نمودار کدام کلاس بیشترین امتیاز را دارد؟ (دبستان سرای دانش الغدیر - تهران ۱۴۰۲)



. ۴

(۱۰ نمره)

برای نشان دادن عددهای بزرگ بهتر است از کدام نمودار استفاده کنیم؟ (دبستان سرای دانش الغدیر - تهران ۱۴۰۲)

. ۵

(۱۰ نمره)

کدام عدد زوج نیست؟ (دبستان سرای دانش الغدیر - تهران ۱۴۰۲)

. ۶

(۱۰ نمره)



تدریس خصوصی ریاضی به صورت حضوری و آنلاین با دبیران حرفه ای و پیگیری قدرتمند در مدرسه

۴۴۰۲۵۸۶۰ - ۲۶۵۷۰۸۱۰ - ۸۸۹۰۶۹۰۹ - ۸۸۹۰۴۰۰۲

کد تهران ۰۲۱

تعداد میوه‌های یک میوه‌فروش در جدول زیر آمده است. تعداد تقریبی هر یک را نوشته و با در نظر گرفتن یک دایره برای هر ۱۰ میوه نمودار آن را رسم کنید. (دبستان شهید پورجندقی- رفسنجان ۱۴۰۲)

| میوه | پرتقال | نارنگی | خیار | موز |
|-------------|--------|--------|------|-----|
| تعداد واقعی | ۵۲ | ۳۹ | ۶۵ | ۴۷ |

.۷

(۱۰ نمره)

دور اعداد زوج خط بکشید. (دبستان شهید پورجندقی- رفسنجان ۱۴۰۲)

۷۲۱ و ۹۹۰ و ۶۸۸ و ۳۵۷ و ۸۶ و ۲۱۲

.۸

(۱۰ نمره)

با توجه به جدول فراوانی، نمودار رسم کنید.

| کتاب‌های مدرسه | داستانی | علمی | تخیلی | تاریخی |
|----------------|---------|------|-------|--------|
| تعداد | ۱۰ | ۲۰ | ۱۵ | ۸ |

.۹



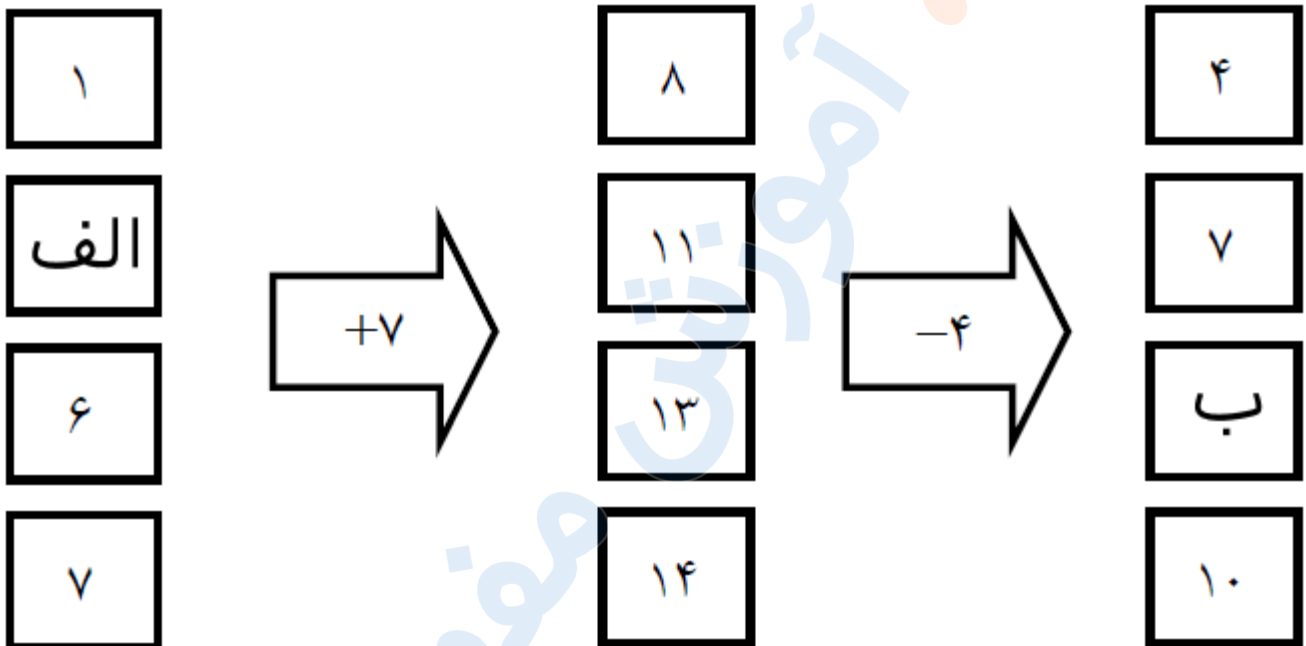
تدریس خصوصی ریاضی به صورت حضوری و آنلاین با دبیران حرفه ای و پیگیری قدرتمند در مدرسه

۸۸۹۰۴۰۰۲ - ۸۸۹۰۶۹۰۹ - ۲۶۵۷۰۸۱۰ - ۴۴۰۲۵۸۶۰

کد تهران ۰۲۱

(۱۰ نمره)

در دو جای خالی (الف و ب) چه عدد هایی قرار دهیم تا جدول کامل شود ؟



(۱۰ نمره)

. ۱۰

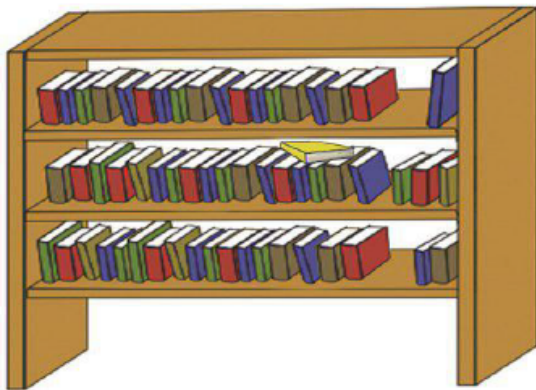


تدریس خصوصی ریاضی به صورت حضوری و آنلاین با دبیران حرفه ای و پیگیری قدرتمند در مدرسه

۴۴۰۲۵۸۶۰ - ۲۶۵۷۰۸۱۰ - ۸۸۹۰۶۹۰۹ - ۸۸۹۰۴۰۰۲

کد تهران ۰۲۱

کتاب های یک کتابخانه در شکل زیر نشان داده شده است . کتاب های ردیف اول ، کتاب های داستانی ، کتاب های ردیف دوم ، کتاب های مذهبی و کتاب های ردیف سوم ، کتاب های علمی می باشد. ما تعداد کتاب های هر موضوع را سرشماری و در جدول زیر قرار داده ایم . با توجه به جدول تعداد کتاب های مذهبی و علمی روی هم چند تاست؟



| نوع کتاب | چوب خط | تعداد |
|----------|-------------------|-------|
| داستانی | //// // // // | ۱۸ |
| مذهبی | //// //// // // / | ۲۱ |
| علمی | //// // // //// | ۱۹ |