



تدریس خصوصی ریاضی به صورت حضوری و آنلاین با دبیران حرفه ای و پیگیری قدرتمند در مدرسه

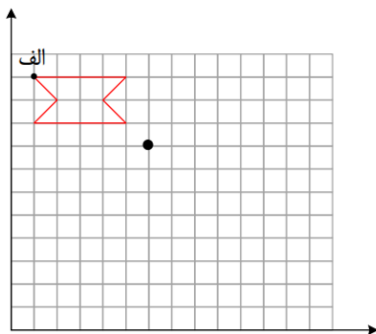
۴۴۰۲۵۸۶۰ - ۲۶۵۷۰۸۱۰ - ۸۸۹۰۶۹۰۹ - ۸۸۹۰۴۰۰۲

کد تهران ۰۲۱

۱.

(۱۰ نمره)

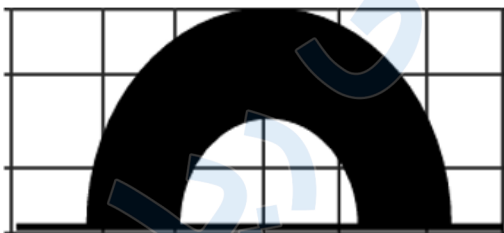
قرینه شکل را نسبت به نقطه داده شده بکشید. (دبستان فرشتگان - کنگان ۱۴۰۱)



۲.

(۱۰ نمره)

قرینه شکل زیر را نسبت به خط بیابید. (دبستان سرای دانش - تهران ۱۴۰۲)



۳.

(۱۰ نمره)



تدریس خصوصی ریاضی به صورت حضوری و آنلاین با دبیران حرفه ای و پیگیری قدرتمند در مدرسه

۴۴۰۲۵۸۶۰ - ۲۶۵۷۰۸۱۰ - ۸۸۹۰۶۹۰۹ - ۸۸۹۰۴۰۰۲

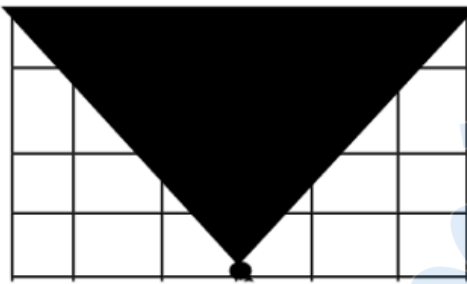
کد تهران ۰۲۱

پاره‌خطی است که راس یک شکل را به راس های روبه‌رو وصل می‌کند. (دبستان سرای دانش - تهران ۱۴۰۲)

. ۴

(۱۰ نمره)

قرینه شکل زیر را نسبت به نقطه بیابید. (دبستان سرای دانش-تهران ۱۴۰۲)



. ۵

(۱۰ نمره)

درستی یا نادرستی عبارت زیر را مشخص کنید. (دبستان سرای دانش - تهران ۱۴۰۲)

«پاره‌خط دارای دو خط تقارن است.»

. ۶



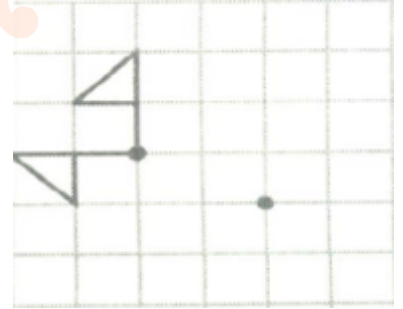
تدریس خصوصی ریاضی به صورت حضوری و آنلاین با دبیران حرفه ای و پیگیری قدرتمند در مدرسه

۴۴۰۲۵۸۶۰ - ۲۶۵۷۰۸۱۰ - ۸۸۹۰۶۹۰۹ - ۸۸۹۰۴۰۰۲

کد تهران ۰۲۱

(۱۰ نمره)

قرینه شکل زیر را نسبت به نقطه داده شده رسم کنید.



. ۷

(۱۰ نمره)

صحيح يا غلط بودن جمله زیر را مشخص کنید.  
قرینه مرکزی را با دوران شکل حول مرکز تقارن می توان بدست آورد.

. ۸

(۱۰ نمره)

تعداد محور های تقارن مثلث متساوی الساقین چند تا است؟

. ۹

(۱۰ نمره)

مثلث متساوی الساقین دارای ..... محور تقارن است.

. ۱۰



تدریس خصوصی ریاضی به صورت حضوری و آنلاین با دبیران حرفه ای و پیگیری قدرتمند در مدرسه

۸۸۹۰۴۰۰۲ - ۸۸۹۰۶۹۰۹ - ۲۶۵۷۰۸۱۰ - ۴۴۰۲۵۸۶۰

کد تهران ۰۲۱

(۱۰ نمره)

تعداد محور های تقارن دایره چقدر است؟