



تدریس خصوصی ریاضی به صورت حضوری و آنلاین با دبیران حرفه ای و پیگیری قدرتمند در مدرسه

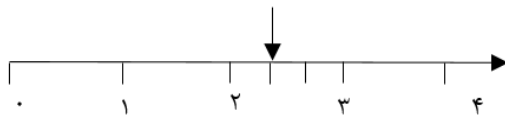
۸۸۹۰۴۰۰۲ - ۸۸۹۰۶۹۰۹ - ۲۶۵۷۰۸۱۰ - ۴۴۰۲۵۸۶۰

کد تهران ۰۲۱

۱.

(۱۰ نمره)

با توجه به علامت، کدام گزینه جای خالی را به درستی پر می‌کند؟



..... بعد از عدد ۲

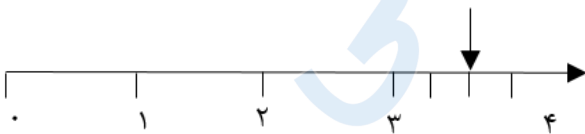
پاسخ:

$\frac{1}{3}$  بعد از عدد ۲

۲.

(۱۰ نمره)

با توجه به علامت، جای خالی را پر کنید.



..... مانده به عدد ۴

پاسخ:

$\frac{1}{3}$  مانده به عدد ۴



تدریس خصوصی ریاضی به صورت حضوری و آنلاین با دبیران حرفه ای و پیگیری قدرتمند در مدرسه

۴۴۰۲۵۸۶۰ - ۲۶۵۷۰۸۱۰ - ۸۸۹۰۶۹۰۹ - ۸۸۹۰۴۰۰۲

کد تهران ۰۲۱

۳.

(۱۰ نمره)

شکل زیر چند قطر دارد؟



پاسخ :



بیشمار قطر

۴.

(۱۰ نمره)

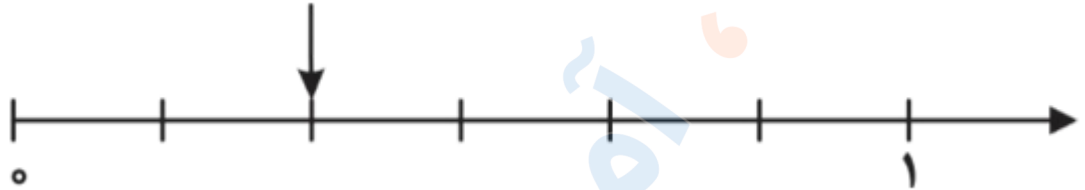


تدریس خصوصی ریاضی به صورت حضوری و آنلاین با دبیران حرفه ای و پیگیری قدرتمند در مدرسه

۸۸۹۰۴۰۰۲ - ۸۸۹۰۶۹۰۹ - ۲۶۵۷۰۸۱۰ - ۴۴۰۲۵۸۶۰

کد تهران ۰۲۱

عدد داده شده روی محور چه کسری را نشان می‌دهد؟



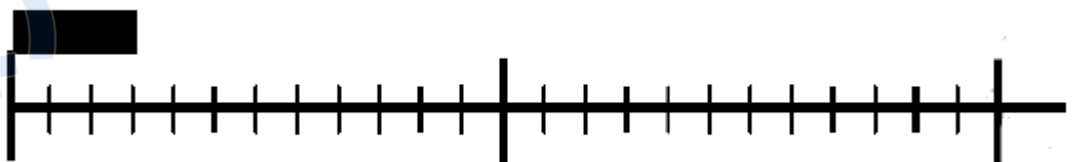
پاسخ :

$\frac{2}{10}$

۵.

(۱۰ نمره)

طول سه پاک کن ..... قسمت از ..... است.



پاسخ :



تدریس خصوصی ریاضی به صورت حضوری و آنلاین با دبیران حرفه ای و پیگیری قدرتمند در مدرسه

۴۴۰۲۵۸۶۰ - ۲۶۵۷۰۸۱۰ - ۸۸۹۰۶۹۰۹ - ۸۸۹۰۴۰۰۲

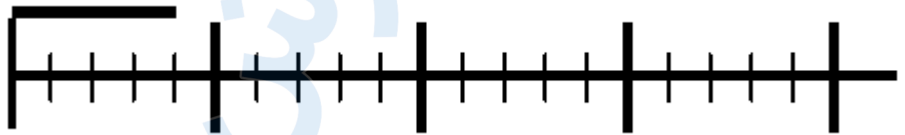
کد تهران ۰۲۱

طول سه پاک کن ۹ قسمت از ۱۲ است.

۶.

(۱۰ نمره)

طول خط ..... قسمت از ..... است.



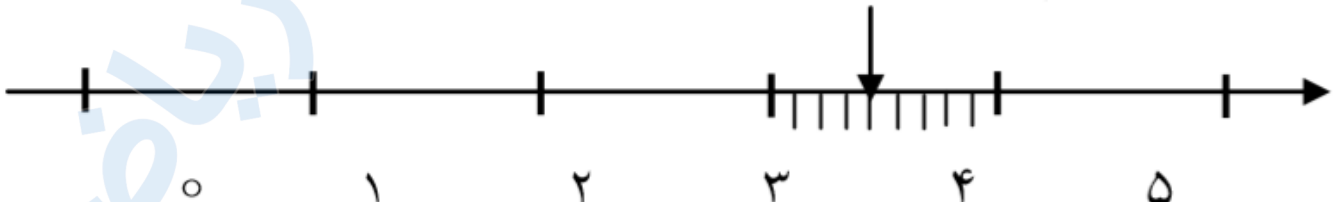
پاسخ :

طول خط ۴ قسمت از ۵ است.

۷.

(۱۰ نمره)

کدام گزینه نمودار زیر را به درستی توصیف می کند؟



پاسخ :

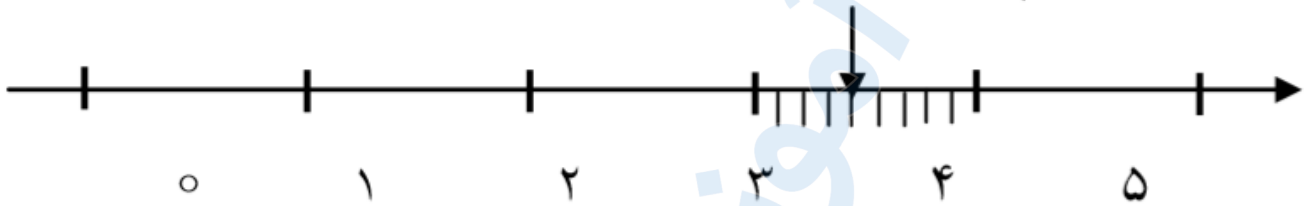


تدریس خصوصی ریاضی به صورت حضوری و آنلاین با دبیران حرفه ای و پیگیری قدرتمند در مدرسه

۸۸۹۰۴۰۰۲ - ۸۸۹۰۶۹۰۹ - ۲۶۵۷۰۸۱۰ - ۴۴۰۲۵۸۶۰

کد تهران ۰۲۱

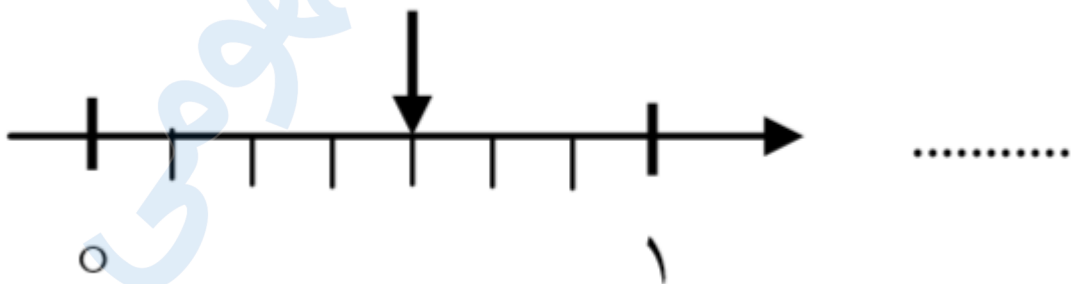
واحد مانده به عدد ۴  $\frac{5}{9}$



۸ .

(۱۰ نمره)

نمودار زیر چه کسری را نشان می دهد



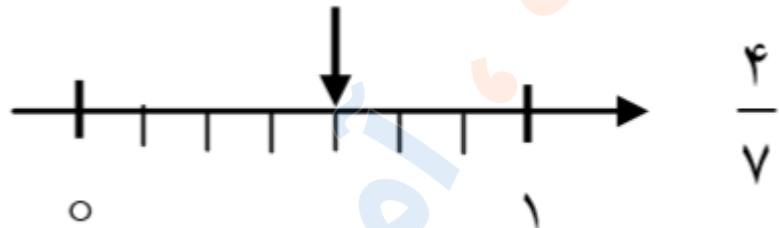
پاسخ :



تدریس خصوصی ریاضی به صورت حضوری و آنلاین با دبیران حرفه ای و پیگیری قدرتمند در مدرسه

۸۸۹۰۴۰۰۲ - ۸۸۹۰۶۹۰۹ - ۲۶۵۷۰۸۱۰ - ۴۴۰۲۵۸۶۰

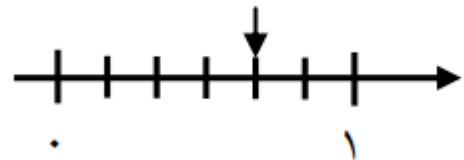
کد تهران ۰۲۱



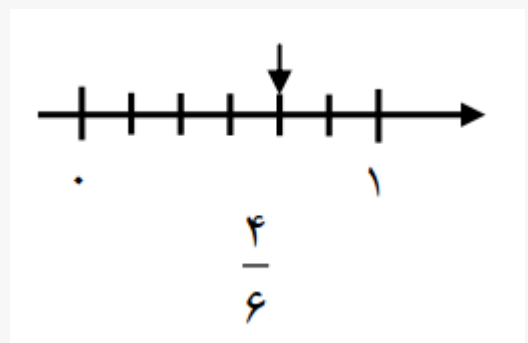
۹.

(۱۰ نمره)

محور زیر چه کسری را نشان می دهد؟



پاسخ :





تدریس خصوصی ریاضی به صورت حضوری و آنلاین با دبیران حرفه ای و پیگیری قدرتمند در مدرسه

۸۸۹۰۴۰۰۲ - ۸۸۹۰۶۹۰۹ - ۲۶۵۷۰۸۱۰ - ۴۴۰۲۵۸۶۰

کد تهران ۰۲۱

. ۱۰

(۱۰ نمره)



طول خط ..... قسمت از ..... قسمت است.

پاسخ :

طول خط ۴ قسمت از ۵ قسمت است.