



تدریس خصوصی ریاضی به صورت حضوری و آنلاین با دبیران حرفه ای و پیگیری قدرتمند در مدرسه

۸۸۹۰۴۰۰۲ - ۸۸۹۰۶۹۰۹ - ۲۶۵۷۰۸۱۰ - ۴۴۰۲۵۸۶۰

کد تهران ۰۲۱

۱.

(۲ نمره)

پاسخ تفریق زیر کدام گزینه است؟

۸۶۷۱

- ۳۱۵۴

۲.

(۳ نمره)

عدد ۷۵۰۶۹۱ با حروف برابر کدام گزینه است؟

۳.

(۴ نمره)

در مرتبه یکان میلیون رقم ۱۷۸۹۵۰۳۲ چه عددی قرار دارد؟

۴.

(۴ نمره)

۵۰ تا ۱۰ تا بعد از عدد ۶۵۷۸۳ کدام گزینه است؟

۵.

(۴ نمره)

عدد چهارصد و هشتاد و دو میلیون و ده هزار و چهل به رقم کدام گزینه است؟



تدریس خصوصی ریاضی به صورت حضوری و آنلاین با دبیران حرفه ای و پیگیری قدرتمند در مدرسه

۸۸۹۰۴۰۰۲ - ۸۸۹۰۶۹۰۹ - ۲۶۵۷۰۸۱۰ - ۴۴۰۲۵۸۶۰

کد تهران ۰۲۱

۶.

(۲ نمره)

حاصل عبارت زیر را بیابید.

$$\frac{5}{9} - \frac{2}{9} =$$

۷.

(۳ نمره)

کدام شکل به درستی کسر رو به رو را نشان می دهد؟

$$\frac{12}{12}$$

۸.

(۴ نمره)



تدریس خصوصی ریاضی به صورت حضوری و آنلاین با دبیران حرفه ای و پیگیری قدرتمند در مدرسه

۸۸۹۰۴۰۰۲ - ۸۸۹۰۶۹۰۹ - ۲۶۵۷۰۸۱۰ - ۴۴۰۲۵۸۶۰

کد تهران ۰۲۱

شکل زیر چه کسری را نشان می‌دهد؟




(۴ نمره)

۱۵ تا $\frac{1}{5}$ متر می‌شود۹

(۴ نمره)

کیانا دوچرخه‌اش تصادف کرد و زخمی شد او به $\frac{17}{3}$ واحد خون نیاز دارد. او به چند واحد و چه کسری از یک واحد خون نیاز دارد؟ .۱۰



تدریس خصوصی ریاضی به صورت حضوری و آنلاین با دبیران حرفه ای و پیگیری قدرتمند در مدرسه

۸۸۹۰۴۰۰۲ - ۸۸۹۰۶۹۰۹ - ۲۶۵۷۰۸۱۰ - ۴۴۰۲۵۸۶۰

کد تهران ۰۲۱

۱۱. (۲ نمره)

کدام یک از عددهای داده شده، هم بر ۲ و هم بر ۳ بخش پذیر است؟ (دبستان پور جندقی - رفسنجان ۱۴۰۲)

۲۱۹ - ۵۱۳ - ۳۶۰ - ۷۴۸

۱۲.

(۳ نمره)

حاصل عبارت زیر را به صورت تقریبی بیابید.

$$۸۱ + ۲۷$$

۱۳.

(۴ نمره)

تقسیم زیر را به روش خودتان حل کنید و عبارت های درستی آن را بنویسید.

$$\begin{array}{r} ۶۴۵ \overline{) ۲۷} \end{array}$$

۱۴.



تدریس خصوصی ریاضی به صورت حضوری و آنلاین با دبیران حرفه ای و پیگیری قدرتمند در مدرسه

۸۸۹۰۴۰۰۲ - ۸۸۹۰۶۹۰۹ - ۲۶۵۷۰۸۱۰ - ۴۴۰۲۵۸۶۰

کد تهران ۰۲۱

(۴ نمره)

۶۳ بر ۷ بخش پذیر

. ۱۵

(۴ نمره)

حاصل ضرب زیر را با ضرب کردن از سمت راست مشخص کنید .

۴ ۶

× ۹ ۳

. ۱۶

(۲ نمره)

یک ساعت و ده دقیقه یعنی دقیقه

. ۱۷

(۲ نمره)

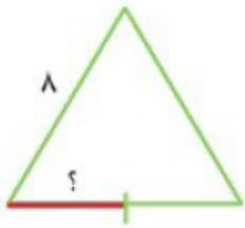


تدریس خصوصی ریاضی به صورت حضوری و آنلاین با دبیران حرفه ای و پیگیری قدرتمند در مدرسه

۴۴۰۲۵۸۶۰ - ۲۶۵۷۰۸۱۰ - ۸۸۹۰۶۹۰۹ - ۸۸۹۰۴۰۰۲

کد تهران ۰۲۱

طول پاره‌خطی که با علامت سوال مشخص شده است را پیدا کنید.



مثلث متساوی الاضلاع

۱۸.

(۴ نمره)


۹۴۸ ثانیه چند دقیقه و چند ثانیه است؟

۱۹.

(۴ نمره)

با توجه به اندازه‌های داده شده در مثلث زیر، زاویه سوم را بیابید و نوع مثلث را مشخص کنید.





تدریس خصوصی ریاضی به صورت حضوری و آنلاین با دبیران حرفه ای و پیگیری قدرتمند در مدرسه

۸۸۹۰۴۰۰۲ - ۸۸۹۰۶۹۰۹ - ۲۶۵۷۰۸۱۰ - ۴۴۰۲۵۸۶۰

کد تهران ۰۲۱

. ۲۰

(۴ نمره)

یک برنامه تلویزیونی ساعت ۴۰ : ۵ شروع و ساعت ۳۵ : ۶ تمام شد. این برنامه چه مدتی پخش شده است؟

. ۲۱

(۲ نمره)

حاصل جمع $\frac{۰}{۵} + \frac{۰}{۳}$ کدام است؟

. ۲۲

(۲ نمره)

کدام عدد از ۵ بیشتر و از ۶ کمتر است؟

. ۲۳

(۴ نمره)

شکل باز شده عدد $\frac{۵۱۶}{۲}$ در کدام گزینه درست نمایش داده شده است؟

. ۲۴

(۴ نمره)

حاصل $= \frac{۳}{۵} - \frac{۹}{۶}$ برابر کدام گزینه است ؟



تدریس خصوصی ریاضی به صورت حضوری و آنلاین با دبیران حرفه ای و پیگیری قدرتمند در مدرسه

۸۸۹۰۴۰۰۲ - ۸۸۹۰۶۹۰۹ - ۲۶۵۷۰۸۱۰ - ۴۴۰۲۵۸۶۰

کد تهران ۰۲۱

. ۲۵

(۴ نمره)

نصف ثلث $\frac{۳}{۵}$ برابر با کدام عدد اعشاری است؟

. ۲۶


(۲ نمره)

چهارضلعی که چهار زاویه برابر و چهار ضلع مساوی دارد چه نام دارد؟

. ۲۷

(۳ نمره)

شکل زیر چند زاویه راست دارد؟



. ۲۸



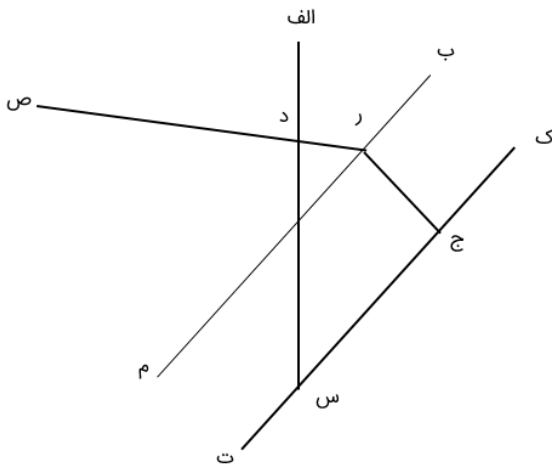
تدریس خصوصی ریاضی به صورت حضوری و آنلاین با دبیران حرفه ای و پیگیری قدرتمند در مدرسه

۸۸۹۰۴۰۰۲ - ۸۸۹۰۶۹۰۹ - ۲۶۵۷۰۸۱۰ - ۴۴۰۲۵۸۶۰

کد تهران ۰۲۱

(۴ نمره)

با توجه به شکل زیر فاصله دو خط موازی برابر با طول کدام پاره خط است؟

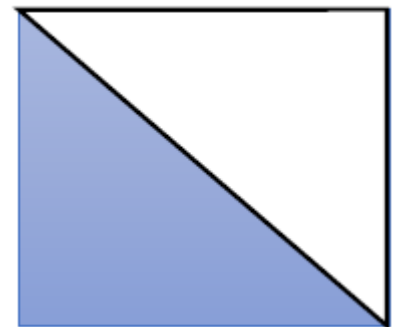


۲۹.

(۴ نمره)

مساحت قسمت رنگی در شکل زیر چه قدر است؟

۱۰





تدریس خصوصی ریاضی به صورت حضوری و آنلاین با دبیران حرفه ای و پیگیری قدرتمند در مدرسه

۸۸۹۰۴۰۰۲ - ۸۸۹۰۶۹۰۹ - ۲۶۵۷۰۸۱۰ - ۴۴۰۲۵۸۶۰

کد تهران ۰۲۱

. ۳۰

(۴ نمره)

مساحت متوازی الاضلاع زیر کدام گزینه است؟

