



تدریس خصوصی ریاضی به صورت حضوری و آنلاین با دبیران حرفه ای و پیگیری قدرتمند در مدرسه

۸۸۹۰۴۰۰۲ - ۸۸۹۰۶۹۰۹ - ۲۶۵۷۰۸۱۰ - ۴۴۰۲۵۸۶۰

کد تهران ۰۲۱

۱.

(۴ نمره)

اگر محیط مربعی ۲۴ باشد طول هر ضلع آن چقدر است؟

۲.

(۴ نمره)

عدد ۷۵۰۶۹۱ با حروف برابر کدام گزینه است؟

۳.

(۶ نمره)

میزی داریم به شکل مربع که اندازه هر ضلع آن ۳ متر است. محیط آن را به دست آورید.

۴.

(۶ نمره)

با توجه به شکل و عملیات آن، پاسخ درست کدام گزینه است؟



۵.

(۴ نمره)



تدریس خصوصی ریاضی به صورت حضوری و آنلاین با دبیران حرفه ای و پیگیری قدرتمند در مدرسه

۴۴۰۲۵۸۶۰ - ۲۶۵۷۰۸۱۰ - ۸۸۹۰۶۹۰۹ - ۸۸۹۰۴۰۰۲

کد تهران ۰۲۱

جای خالی را با عدد مناسب پر کنید.

$$\frac{11}{\square} = \frac{77}{7}$$

۶.

(۴ نمره)

کدام شکل به درستی کسر رو به رو رانشان می دهد؟

$$\frac{12}{12}$$

۷.

(۶ نمره)

کدام گزینه جای خالی به درستی پر می کند؟

$$\frac{2}{4} = \frac{\square}{32}$$



تدریس خصوصی ریاضی به صورت حضوری و آنلاین با دبیران حرفه ای و پیگیری قدرتمند در مدرسه

۸۸۹۰۴۰۰۲ - ۸۸۹۰۶۹۰۹ - ۲۶۵۷۰۸۱۰ - ۴۴۰۲۵۸۶۰

کد تهران ۰۲۱

. ۸

(۶ نمره)

کدام یک از گزینه های زیر می تواند کسر مساوی با کسر رو به رو باشد ؟

$$\frac{5}{9} =$$

. ۹

(۴ نمره)

هر یک از اعداد ۹۱ و ۲۳۹ را با تقریب دهگان روی یک محور نشان دهید.

. ۱۰

(۴ نمره)

عدد جای خالی کدام گزینه است؟

$$۲۸ \times \square = ۲۸$$

. ۱۱

(۶ نمره)



تدریس خصوصی ریاضی به صورت حضوری و آنلاین با دبیران حرفه ای و پیگیری قدرتمند در مدرسه

۴۴۰۲۵۸۶۰ - ۲۶۵۷۰۸۱۰ - ۸۸۹۰۶۹۰۹ - ۸۸۹۰۴۰۰۲

کد تهران ۰۲۱


کدام گزینه معادل ضرب ۶۴×۲۸ است؟

۱۲ .

(۶ نمره)

به کمک شکل یک عبارت ضرب نوشته و حاصل را از بین گزینه ها مشخص کنید.

۲۳



۱۳ .

(۴ نمره)

زاویه راست درجه است.

۱۴ .

(۴ نمره)

اندازه زاویه راست درجه است.

۱۵ .



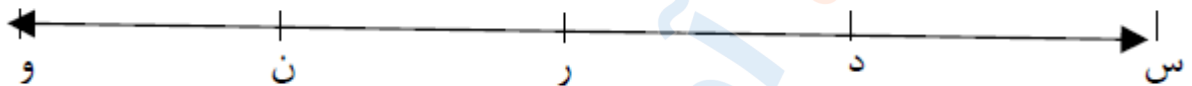
تدریس خصوصی ریاضی به صورت حضوری و آنلاین با دبیران حرفه ای و پیگیری قدرتمند در مدرسه

۴۴۰۲۵۸۶۰ - ۲۶۵۷۰۸۱۰ - ۸۸۹۰۶۹۰۹ - ۸۸۹۰۴۰۰۲

کد تهران ۰۲۱

(۶ نمره)

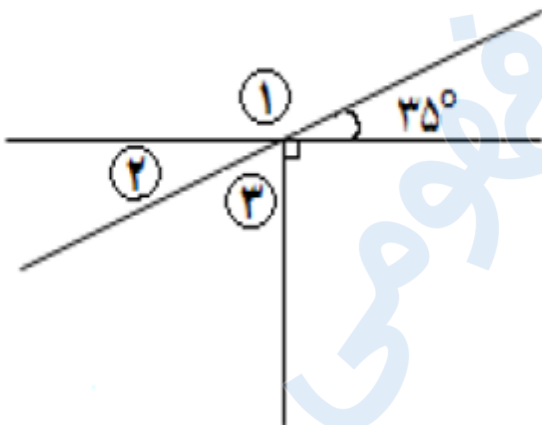
شکل زیر چند نیم خط وجود دارد؟



. ۱۶

(۶ نمره)

با توجه به شکل مقابل اندازه زاویه ۳ را بیابید.



. ۱۷

(۴ نمره)

حاصل جمع $\frac{۰}{۵} + \frac{۰}{۳}$ کدام است؟



تدریس خصوصی ریاضی به صورت حضوری و آنلاین با دبیران حرفه ای و پیگیری قدرتمند در مدرسه

۸۸۹۰۴۰۰۲ - ۸۸۹۰۶۹۰۹ - ۲۶۵۷۰۸۱۰ - ۴۴۰۲۵۸۶۰

کد تهران ۰۲۱

۱۸ .

(۴ نمره)

کدام عدد از ۵ بیشتر و از ۶ کمتر است؟

۱۹ .

(۶ نمره)

کدام یک از اعداد بین ۳ و ۴ نیست؟

۲۰ .

(۶ نمره)

قد علی $\frac{1}{6}$ متر و قد حسین ۱۵۰ سانتی متر است. قد کدام یک بلندتر است؟ چقدر؟