



تدریس خصوصی ریاضی به صورت حضوری و آنلاین با دبیران حرفه ای و پیگیری قدرتمند در مدرسه

۸۸۹۰۴۰۰۲ - ۸۸۹۰۶۹۰۹ - ۲۶۵۷۰۸۱۰ - ۴۴۰۲۵۸۶۰

کد تهران ۰۲۱

۱.

(۴ نمره)

قطار تهران- مشهد ۱۴ ساعت در راه می باشد. اگر ساعت ۹ شب از تهران به سمت مشهد حرکت کند و بعد از یک ساعت توقف دوباره به سمت تهران حرکت کند، چه ساعتی به تهران می رسد؟

۲.

(۴ نمره)

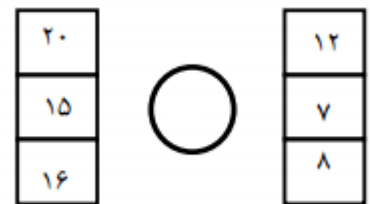
اگر الگوی زیر را ادامه دهیم، شکل زیر در دو مرحله بعد چگونه خواهد بود؟



۳.


(۶ نمره)

در جای خالی چه عبارتی باید قرار بگیرد



۴.

(۶ نمره)



تدریس خصوصی ریاضی به صورت حضوری و آنلاین با دبیران حرفه ای و پیگیری قدرتمند در مدرسه

۸۸۹۰۴۰۰۲ - ۸۸۹۰۶۹۰۹ - ۲۶۵۷۰۸۱۰ - ۴۴۰۲۵۸۶۰

کد تهران ۰۲۱

اگر برای شکل زیر خط تقارن رسم کنیم کدام گزینه صحیح است؟



(۴ نمره)

۵۰۰ ، ۱۰۰۰ ، ۱۵۰۰ ، ..... ، ..... ، ..... ، .....

الگو را ادامه دهید.

(۴ نمره)

۴۰ تومان بزرگتر است یا ۴۰۰ ریال ؟

(۶ نمره)

عدد زیر را به صورت گسترده بنویسید :  
 $3073 = \dots\dots$

(۶ نمره)






تدریس خصوصی ریاضی به صورت حضوری و آنلاین با دبیران حرفه ای و پیگیری قدرتمند در مدرسه

۸۸۹۰۴۰۰۲ - ۸۸۹۰۶۹۰۹ - ۲۶۵۷۰۸۱۰ - ۴۴۰۲۵۸۶۰

کد تهران ۰۲۱

شکل زیر چه عددی را نشان می دهد؟



. ۹

(۴ نمره)

مقایسه کنید

$$\frac{3}{4} \bigcirc \frac{1}{4}$$

. ۱۰

(۴ نمره)

مقایسه کنید

$$\frac{1}{1} \bigcirc \frac{1}{10}$$

. ۱۱




تدریس خصوصی ریاضی به صورت حضوری و آنلاین با دبیران حرفه ای و پیگیری قدرتمند در مدرسه

۸۸۹۰۴۰۰۲ - ۸۸۹۰۶۹۰۹ - ۲۶۵۷۰۸۱۰ - ۴۴۰۲۵۸۶۰

کد تهران ۰۲۱

(۶ نمره)



۱۲.

(۶ نمره)



طول خط ..... قسمت از ..... قسمت است.

۱۳.

(۴ نمره)

کدام یک از اعداد زیر تساوی زیر را می تواند تکمیل کند ؟

$$2 \times \square \times 7 \times 8 =$$



۱۴.

(۴ نمره)



تدریس خصوصی ریاضی به صورت حضوری و آنلاین با دبیران حرفه ای و پیگیری قدرتمند در مدرسه

۴۴۰۲۵۸۶۰ - ۲۶۵۷۰۸۱۰ - ۸۸۹۰۶۹۰۹ - ۸۸۹۰۴۰۰۲

کد تهران ۰۲۱

در جای خالی چه عددی باید قرار بگیرد؟

$$۱ \times ۲۵ = \square$$

. ۱۵

(۶ نمره)

مادر پانسیا برای هر پیراهن ۵ دگمه می‌دوزد، ۱۵ دگمه را برای چند پیراهن استفاده می‌کند؟

(دبستان یاس-لاهیجان ۱۴۰۲)

. ۱۶

(۶ نمره)

تساوی زیر بر روی محور کدام گزینه است؟

$$۴ \times ۷ = ۷ \times ۴$$

. ۱۷

(۴ نمره)

اندازه دور هر شکل را ..... آن شکل می‌گویند.

. ۱۸



تدریس خصوصی ریاضی به صورت حضوری و آنلاین با دبیران حرفه ای و پیگیری قدرتمند در مدرسه

۴۴۰۲۵۸۶۰ - ۲۶۵۷۰۸۱۰ - ۸۸۹۰۶۹۰۹ - ۸۸۹۰۴۰۰۲

کد تهران ۰۲۱

(۴ نمره)

به اندازه سطح هر شکل ..... آن شکل می گویند.

. ۱۹

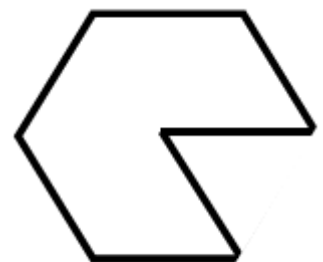
(۶ نمره)

مربع دارای ..... قطر است. (دبستان یاس-لاهیجان ۱۴۰۲)

. ۲۰

(۶ نمره)

محیط شکل مقابل کدام یک از گزینه های زیر است؟



س ۸