



تدریس خصوصی ریاضی به صورت حضوری و آنلاین با دبیران حرفه ای و پیگیری قدرتمند در مدرسه

۸۸۹۰۴۰۰۲ - ۸۸۹۰۶۹۰۹ - ۲۶۵۷۰۸۱۰ - ۴۴۰۲۵۸۶۰

کد تهران ۰۲۱

۱.

(۴ نمره)

جمله مربوط به شکل مقابل را انتخاب کنید .



۲.

(۴ نمره)

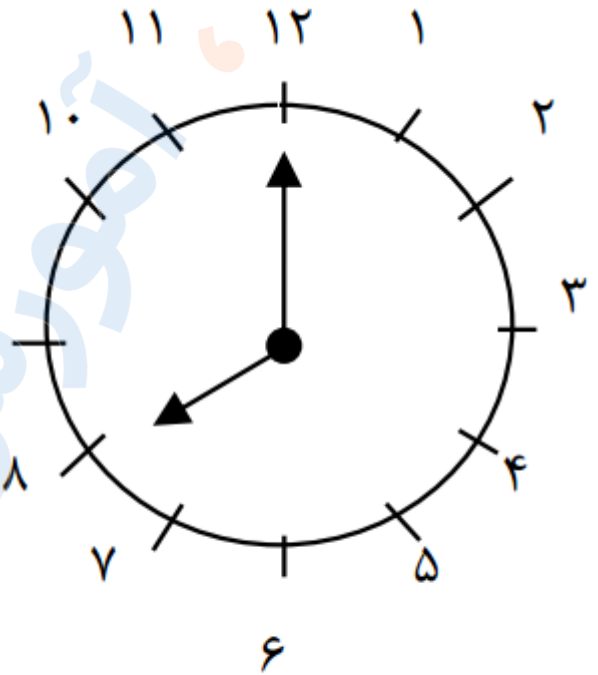


تدریس خصوصی ریاضی به صورت حضوری و آنلاین با دبیران حرفه ای و پیگیری قدرتمند در مدرسه

۴۴۰۲۵۸۶۰ - ۲۶۵۷۰۸۱۰ - ۸۸۹۰۶۹۰۹ - ۸۸۹۰۴۰۰۲

کد تهران ۰۲۱

ساعت را بگویید




..... ساعت

(۶ نمره)

الگوی عددی زیر را ادامه دهید. (دبستان روش نوین - دی ۱۴۰۲)

..., ..., ..., ۳۸, ۴۱, ۴۴



تدریس خصوصی ریاضی به صورت حضوری و آنلاین با دبیران حرفه ای و پیگیری قدرتمند در مدرسه

۸۸۹۰۴۰۰۲ - ۸۸۹۰۶۹۰۹ - ۲۶۵۷۰۸۱۰ - ۴۴۰۲۵۸۶۰

کد تهران ۰۲۱

. ۴

(۶ نمره)

۲ ساعت و ربع بعد از ۳:۴۵ را روی صفحه ساعت نشان بده. (دبستان سرای دانش الغدير - تهران ۱۴۰۲)

. ۵

(۴ نمره)

جواب عبارت زیر را پیدا کن.

$$۳۰ + ۲۰ + ۱۰ - ۱۰ =$$

. ۶

(۴ نمره)

عدد مناسب جای خالی مقابل کدام گزینه است؟

$$۲۰ + \square - ۱۰ = ۵۰$$

. ۷

(۶ نمره)

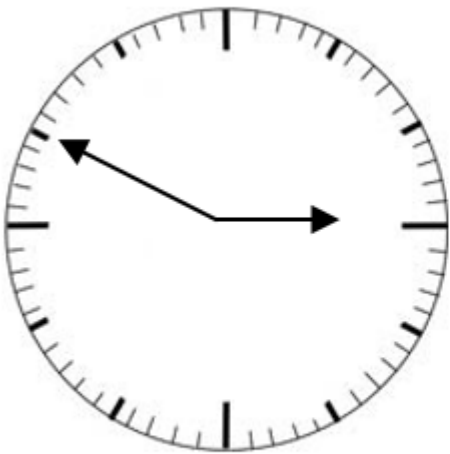


تدریس خصوصی ریاضی به صورت حضوری و آنلاین با دبیران حرفه ای و پیگیری قدرتمند در مدرسه

۴۴۰۲۵۸۶۰ - ۲۶۵۷۰۸۱۰ - ۸۸۹۰۶۹۰۹ - ۸۸۹۰۴۰۰۲

کد تهران ۰۲۱

ساعت نشان داده شده را بنویسید.



ساعت: .....


۸.

(۶ نمره)

بزرگترین عدد دو رقمی که فاصله یکان و دهگان آن ۵ باشد کدام است؟

۹.

(۴ نمره)




تدریس خصوصی ریاضی به صورت حضوری و آنلاین با دبیران حرفه ای و پیگیری قدرتمند در مدرسه

۸۸۹۰۴۰۰۲ - ۸۸۹۰۶۹۰۹ - ۲۶۵۷۰۸۱۰ - ۴۴۰۲۵۸۶۰

کد تهران ۰۲۱

نام شکل زیر را بنویس و آن را به ۴ قسمت مساوی تقسیم کن. (دبستان سرای دانش الغدیر - تهران ۱۴۰۲)



. ۱۰

(۴ نمره)

کدام یک از شکل های زیر خط تقارن دارد ؟

. ۱۱

(۶ نمره)

درستی یا نادرستی جمله زیر را مشخص کنید. (دبستان سرای دانش الغدیر - تهران ۱۴۰۲)

«در شکل های هندسی، تعداد ضلع ها و تعداد گوشه ها با هم برابر است.»

. ۱۲

(۶ نمره)



تدریس خصوصی ریاضی به صورت حضوری و آنلاین با دبیران حرفه ای و پیگیری قدرتمند در مدرسه

۸۸۹۰۴۰۰۲ - ۸۸۹۰۶۹۰۹ - ۲۶۵۷۰۸۱۰ - ۴۴۰۲۵۸۶۰

کد تهران ۰۲۱

الگوی بعدی در شکل زیر کدام است؟



۱۳.

(۴ نمره)

یک ساعت بعد از ساعت دو و نیم ساعت چند است؟

۱۴.

(۴ نمره)

اگر فردی ۲ تا مداد ۲۰۰ تومانی و ۱ پاک کن ۳۰۰ تومانی بخرد، ۱۰۰ تومان برایش باقی می ماند او چقدر پول دارد؟

۱۵.

(۶ نمره)

۵ سکه ۱۰ ریالی برابر است با ..... سکه ۱ ریالی.

۱۶.

(۶ نمره)

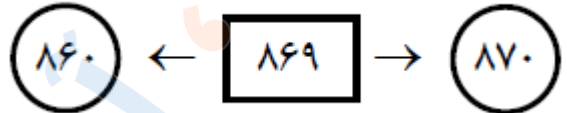


تدریس خصوصی ریاضی به صورت حضوری و آنلاین با دبیران حرفه ای و پیگیری قدرتمند در مدرسه

۴۴۰۲۵۸۶۰ - ۲۶۵۷۰۸۱۰ - ۸۸۹۰۶۹۰۹ - ۸۸۹۰۴۰۰۲

کد تهران ۰۲۱

عدد داخل مربع زیر به کدام یک از دو دایره ها نزدیک تر است؟



. ۱۷

(۴ نمره)

جوراب از کفش ..... است. (دبستان فدک نور - آذرشهر ۱۴۰۰)



. ۱۸

(۴ نمره)



تدریس خصوصی ریاضی به صورت حضوری و آنلاین با دبیران حرفه ای و پیگیری قدرتمند در مدرسه

۴۴۰۲۵۸۶۰ - ۲۶۵۷۰۸۱۰ - ۸۸۹۰۶۹۰۹ - ۸۸۹۰۴۰۰۲

کد تهران ۰۲۱

از کلمه‌های سبک‌تر و سنگین‌تر استفاده کن. (دبستان فدک نور - آذرشهر ۱۴۰۰)  
«کفش از جوراب ..... است.»



. ۱۹

(۶ نمره)

۱۲۵ میلی‌متر = ..... سانتی‌متر و ..... میلی‌متر

. ۲۰

(۶ نمره)

در یک مزرعه روی هم ۶ تا گاو و خروس هستند. آن‌ها روی هم ۲۰ پا دارند. در این مزرعه چند گاو و خروس است؟