



تدریس خصوصی ریاضی به صورت حضوری و آنلاین با دبیران حرفه ای و پیگیری قدرتمند در مدرسه

۸۸۹۰۴۰۰۲ - ۸۸۹۰۶۹۰۹ - ۲۶۵۷۰۸۱۰ - ۴۴۰۲۵۸۶۰

کد تهران ۰۲۱

۱.

(۴ نمره)

جمله مربوط به شکل مقابل را انتخاب کنید .



پاسخ :



۵ دسته ۴ تایی



تدریس خصوصی ریاضی به صورت حضوری و آنلاین با دبیران حرفه ای و پیگیری قدرتمند در مدرسه

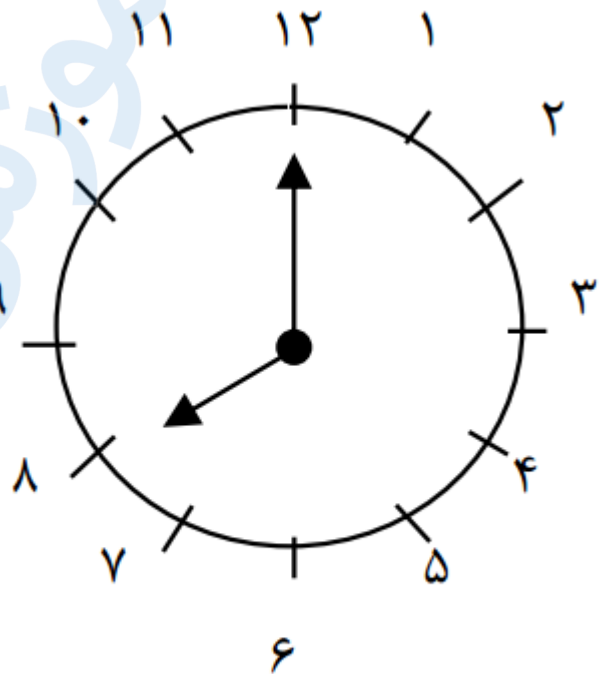
۴۴۰۲۵۸۶۰ - ۲۶۵۷۰۸۱۰ - ۸۸۹۰۶۹۰۹ - ۸۸۹۰۴۰۰۲

کد تهران ۰۲۱

۲.

(۴ نمره)

ساعت را بگویید



ساعت

پاسخ :

ساعت ۸:۰۰



تدریس خصوصی ریاضی به صورت حضوری و آنلاین با دبیران حرفه ای و پیگیری قدرتمند در مدرسه

۴۴۰۲۵۸۶۰ - ۲۶۵۷۰۸۱۰ - ۸۸۹۰۶۹۰۹ - ۸۸۹۰۴۰۰۲

کد تهران ۰۲۱

۳.

(۶ نمره)

الگوی عددی زیر را ادامه دهید. (دبستان روش نوین - دی ۱۴۰۲)

..., ..., ..., ۳۸, ۴۱, ۴۴

پاسخ:

۲۹, ۳۲, ۳۵

۴.

(۶ نمره)

۲ ساعت و ربع بعد از ۳:۴۵ را روی صفحه ساعت نشان بده. (دبستان سرای دانش الغدیر - تهران ۱۴۰۲)

پاسخ:



تدریس خصوصی ریاضی به صورت حضوری و آنلاین با دبیران حرفه ای و پیگیری قدرتمند در مدرسه

۸۸۹۰۴۰۰۲ - ۸۸۹۰۶۹۰۹ - ۲۶۵۷۰۸۱۰ - ۴۴۰۲۵۸۶۰

کد تهران ۰۲۱



۵.

(۴ نمره)

جواب عبارت زیر را پیدا کن.

$$۳۰ + ۲۰ + ۱۰ - ۱۰ =$$

پاسخ:

$$۳۰ + ۲۰ + ۱۰ - ۱۰ = ۵۰$$



تدریس خصوصی ریاضی به صورت حضوری و آنلاین با دبیران حرفه ای و پیگیری قدرتمند در مدرسه

۸۸۹۰۴۰۰۲ - ۸۸۹۰۶۹۰۹ - ۲۶۵۷۰۸۱۰ - ۴۴۰۲۵۸۶۰

کد تهران ۰۲۱

۶.

(۴ نمره)

عدد مناسب جای خالی مقابل کدام گزینه است؟

$$۲۰ + \square - ۱۰ = ۵۰$$

پاسخ:

$$۲۰ + ۴۰ - ۱۰ = ۵۰$$

۷.

(۶ نمره)

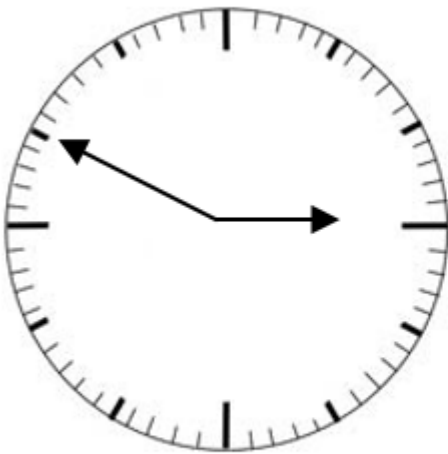


تدریس خصوصی ریاضی به صورت حضوری و آنلاین با دبیران حرفه ای و پیگیری قدرتمند در مدرسه

۸۸۹۰۴۰۰۲ - ۸۸۹۰۶۹۰۹ - ۲۶۵۷۰۸۱۰ - ۴۴۰۲۵۸۶۰

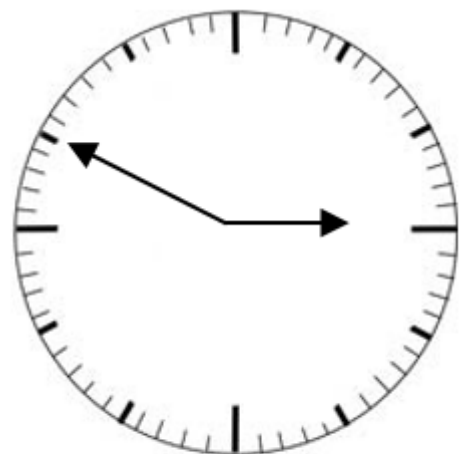
کد تهران ۰۲۱

ساعت نشان داده شده را بنویسید.



ساعت:

پاسخ:



ساعت: ۲ و ۵۰ دقیقه



تدریس خصوصی ریاضی به صورت حضوری و آنلاین با دبیران حرفه ای و پیگیری قدرتمند در مدرسه

۴۴۰۲۵۸۶۰ - ۲۶۵۷۰۸۱۰ - ۸۸۹۰۶۹۰۹ - ۸۸۹۰۴۰۰۲

کد تهران ۰۲۱

۸ .

(۶ نمره)

بزرگترین عدد دو رقمی که فاصله یکان و دهگان آن ۵ باشد کدام است؟


پاسخ :

۹۴

۹ .

(۴ نمره)

نام شکل زیر را بنویس و آن را به ۴ قسمت مساوی تقسیم کن. (دبستان سرای دانش الغدیر - تهران ۱۴۰۲)




پاسخ :



تدریس خصوصی ریاضی به صورت حضوری و آنلاین با دبیران حرفه ای و پیگیری قدرتمند در مدرسه

۸۸۹۰۴۰۰۲ - ۸۸۹۰۶۹۰۹ - ۲۶۵۷۰۸۱۰ - ۴۴۰۲۵۸۶۰

کد تهران ۰۲۱



دایره

۱۰ .

(۴ نمره)

کدام یک از شکل های زیر خط تقارن دارد ؟


پاسخ :



تدریس خصوصی ریاضی به صورت حضوری و آنلاین با دبیران حرفه ای و پیگیری قدرتمند در مدرسه

۴۴۰۲۵۸۶۰ - ۲۶۵۷۰۸۱۰ - ۸۸۹۰۶۹۰۹ - ۸۸۹۰۴۰۰۲

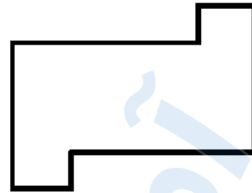
کد تهران ۰۲۱



خط تقارن ندارد.



خط تقارن ندارد.



خط تقارن ندارد.



۱ خط تقارن دارد.

. ۱۱

(۶ نمره)

درستی یا نادرستی جمله زیر را مشخص کنید. (دبستان سرای دانش الغدیر - تهران ۱۴۰۲)

«در شکل‌های هندسی، تعداد ضلع‌ها و تعداد گوشه‌ها با هم برابر است.»

پاسخ :

درست

. ۱۲

(۶ نمره)



تدریس خصوصی ریاضی به صورت حضوری و آنلاین با دبیران حرفه ای و پیگیری قدرتمند در مدرسه

۸۸۹۰۴۰۰۲ - ۸۸۹۰۶۹۰۹ - ۲۶۵۷۰۸۱۰ - ۴۴۰۲۵۸۶۰

کد تهران ۰۲۱

الگوی بعدی در شکل زیر کدام است؟



پاسخ :



۱۳ .

(۴ نمره)

یک ساعت بعد از دو و نیم ساعت چند است ؟

پاسخ :

۳:۳۰

۱۴ .



تدریس خصوصی ریاضی به صورت حضوری و آنلاین با دبیران حرفه ای و پیگیری قدرتمند در مدرسه

۸۸۹۰۴۰۰۲ - ۸۸۹۰۶۹۰۹ - ۲۶۵۷۰۸۱۰ - ۴۴۰۲۵۸۶۰

کد تهران ۰۲۱

(۴ نمره)

اگر فردی ۲ تا مداد ۲۰۰ تومانی و ۱ پاک کن ۳۰۰ تومانی بخرد، ۱۰۰ تومان برایش باقی می ماند او چقدر پول دارد؟

پاسخ :

$$200 + 200 + 300 + 100 = 800$$

تومان دارد

۱۵ .

(۶ نمره)

۵ سکه ۱۰ ریالی برابر است با سکه ۱ ریالی.

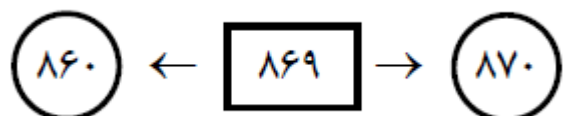
پاسخ :

۵ سکه ۱۰ ریالی برابر است با ۵۰ سکه ۱ ریالی.

۱۶ .

(۶ نمره)

عدد داخل مربع زیر به کدام یک از دو عدد در دایره ها نزدیک تر است؟



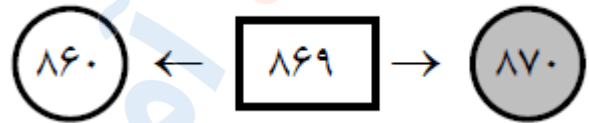


تدریس خصوصی ریاضی به صورت حضوری و آنلاین با دبیران حرفه ای و پیگیری قدرتمند در مدرسه

۴۴۰۲۵۸۶۰ - ۲۶۵۷۰۸۱۰ - ۸۸۹۰۶۹۰۹ - ۸۸۹۰۴۰۰۲

کد تهران ۰۲۱

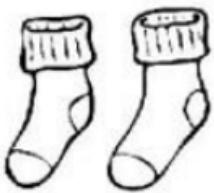
پاسخ :



۱۷ .

(۴ نمره)

جوراب از کفش است. (دبستان فدک نور - آذرشهر ۱۴۰۰)



پاسخ :

سبک‌تر



تدریس خصوصی ریاضی به صورت حضوری و آنلاین با دبیران حرفه ای و پیگیری قدرتمند در مدرسه

۴۴۰۲۵۸۶۰ - ۲۶۵۷۰۸۱۰ - ۸۸۹۰۶۹۰۹ - ۸۸۹۰۴۰۰۲

کد تهران ۰۲۱

۱۸ .

(۴ نمره)

از کلمه‌های سبک‌تر و سنگین‌تر استفاده کن. (دبستان فدک نور - آذرشهر ۱۴۰۰)

«کفش از جوراب است.»



پاسخ :

سنگین‌تر

۱۹ .

(۶ نمره)

۱۲۵ میلی‌متر = سانتی‌متر و میلی‌متر



تدریس خصوصی ریاضی به صورت حضوری و آنلاین با دبیران حرفه ای و پیگیری قدرتمند در مدرسه

۴۴۰۲۵۸۶۰ - ۲۶۵۷۰۸۱۰ - ۸۸۹۰۶۹۰۹ - ۸۸۹۰۴۰۰۲

کد تهران ۰۲۱

پاسخ :

۱۲۵ میلی‌متر = ۱۲ سانتی‌متر و ۵ میلی‌متر

۲۰ .

(۶ نمره)

در یک مزرعه روی هم ۶ تا گاو و خروس هستند. آن‌ها روی هم ۲۰ پا دارند. در این مزرعه چند گاو و خروس است؟

پاسخ :

۴ تا گاو ، ۲ تا خروس