



تدریس خصوصی ریاضی به صورت حضوری و آنلاین با دبیران حرفه ای و پیگیری قدرتمند در مدرسه

۸۸۹۰۴۰۰۲ - ۸۸۹۰۶۹۰۹ - ۲۶۵۷۰۸۱۰ - ۴۴۰۲۵۸۶۰

کد تهران ۰۲۱

۱.

(۳ نمره)

کدام یک از اعداد زیر زوج نیست؟

پاسخ:

عدد ۵۶۷ فرد است و زوج نیست.

۲.

(۳ نمره)

کدام یک از اعداد زیر فرد است؟

پاسخ:

عدد ۵ فرد است و بقیه اعداد زوج هستند.

۳.

(۳ نمره)

علامت مناسب بگذارید $< = >$

$$۱۲ \bigcirc (۱۰ + ۲)$$

پاسخ:



تدریس خصوصی ریاضی به صورت حضوری و آنلاین با دبیران حرفه ای و پیگیری قدرتمند در مدرسه

۴۴۰۲۵۸۶۰ - ۲۶۵۷۰۸۱۰ - ۸۸۹۰۶۹۰۹ - ۸۸۹۰۴۰۰۲

کد تهران ۰۲۱

۱۲=۱۲

. ۴

(۳ نمره)

عدد ۸، هشت یکی و ده تایی است.

پاسخ :

از تا ۹ اعداد در دسته یکان قرار می گیرند

. ۵

(۳ نمره)

حاصل تفریق زیر کدام گزینه است؟
 $۵-۱۱=$

پاسخ :

$۱۱-۵=۶$

. ۶

(۷ نمره)

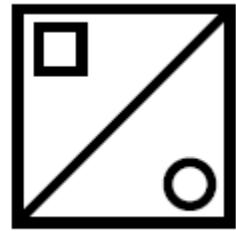
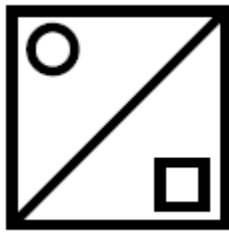


تدریس خصوصی ریاضی به صورت حضوری و آنلاین با دبیران حرفه ای و پیگیری قدرتمند در مدرسه

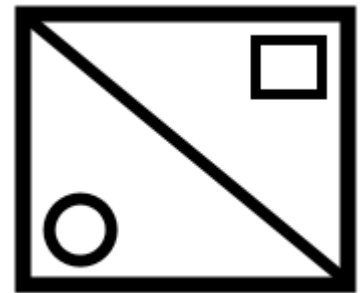
۸۸۹۰۴۰۰۲ - ۸۸۹۰۶۹۰۹ - ۲۶۵۷۰۸۱۰ - ۴۴۰۲۵۸۶۰

کد تهران ۰۲۱

در الگوی زیر شکل بعدی کدام است ؟



پاسخ :



. ۷

(۷ نمره)

عدد بعدی در الگوی زیر کدام است؟

۴۰ - ۵۱ - ۶۰ - ۷۱ - - -

پاسخ :



تدریس خصوصی ریاضی به صورت حضوری و آنلاین با دبیران حرفه ای و پیگیری قدرتمند در مدرسه

۸۸۹۰۴۰۰۲ - ۸۸۹۰۶۹۰۹ - ۲۶۵۷۰۸۱۰ - ۴۴۰۲۵۸۶۰

کد تهران ۰۲۱

$$71 + 9 = 80$$

. ۸

(۷ نمره)

عدد بعدی در الگوی زیر کدام است؟

----- و ۲۸ و ۲۶ و ۲۵ و ۲۳

پاسخ :

۳۱ و ۲۹ و ۲۸ و ۲۶ و ۲۵ و ۲۳

. ۹

(۷ نمره)



تدریس خصوصی ریاضی به صورت حضوری و آنلاین با دبیران حرفه ای و پیگیری قدرتمند در مدرسه

۸۸۹۰۴۰۰۲ - ۸۸۹۰۶۹۰۹ - ۲۶۵۷۰۸۱۰ - ۴۴۰۲۵۸۶۰

کد تهران ۰۲۱

عدد مناسب برای جاهای خالی مشخص شده با (الف) و (ب) کدام یک از گزینه های زیر هستند ؟

۹

۵

الف

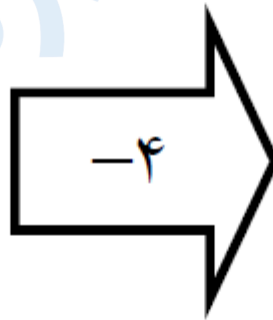
۱

۱۴

۱۰

۲۰

ب



پاسخ :



تدریس خصوصی ریاضی به صورت حضوری و آنلاین با دبیران حرفه ای و پیگیری قدرتمند در مدرسه

۸۸۹۰۴۰۰۲ - ۸۸۹۰۶۹۰۹ - ۲۶۵۷۰۸۱۰ - ۴۴۰۲۵۸۶۰

کد تهران ۰۲۱

۹	۵
۵	۱
۱۴	۱۰
۲۰	۱۶

(۷ نمره)

اگر تمام عدد های دو رقمی که رقم های یکان آن ۹ و ۶ باشد و رقم دهگان آن ۸ و ۱ و ۵ باشد را بنویسیم چند عدد دورقمی غیر تکراری می توان نوشت؟

پاسخ :

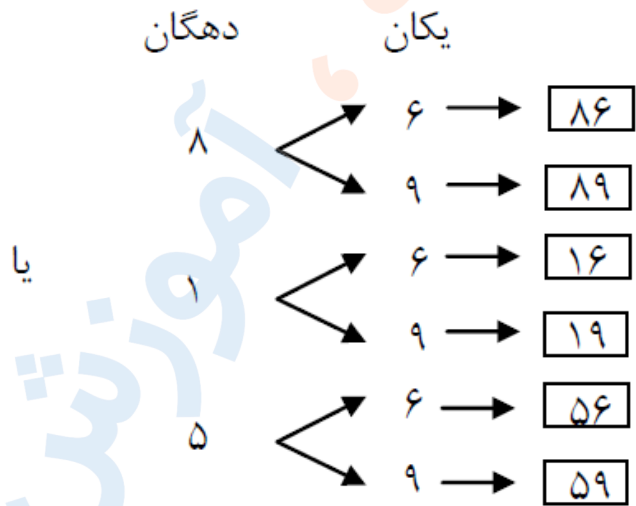


تدریس خصوصی ریاضی به صورت حضوری و آنلاین با دبیران حرفه ای و پیگیری قدرتمند در مدرسه

۴۴۰۲۵۸۶۰ - ۲۶۵۷۰۸۱۰ - ۸۸۹۰۶۹۰۹ - ۸۸۹۰۴۰۰۲

کد تهران ۰۲۱

دهگان	یکان	
۸	۶ →	۸۶
۸	۹ →	۸۹
۱	۶ →	۱۶
۱	۹ →	۱۹
۵	۶ →	۵۶
۵	۹ →	۵۹



(۳ نمره)

بابت شکل جواب دهید.

$$\boxed{۱۰} \boxed{۱۰} + \boxed{۱۰} \boxed{۱۰} \boxed{۱۰} = \text{---} + \text{---} = \text{---}$$

پاسخ:

$$۲۰ + ۳۰ = ۵۰$$



تدریس خصوصی ریاضی به صورت حضوری و آنلاین با دبیران حرفه ای و پیگیری قدرتمند در مدرسه

۸۸۹۰۴۰۰۲ - ۸۸۹۰۶۹۰۹ - ۲۶۵۷۰۸۱۰ - ۴۴۰۲۵۸۶۰

کد تهران ۰۲۱

۱۲ .

(۳ نمره)

کدام عدد دو رقمی یکان آن‌ها یکی از اعداد ۴ یا ۵ و دهگان آن‌ها را ۲ یا ۳ باشد.

پاسخ :

عدد ۳۴

۱۳ .

(۳ نمره)

در جای خالی چه عددی قرار بگیرد تا عبارت صحیح باشد ؟

$$۱۰ + \square = ۵۸$$

پاسخ :

$$۱۰ + ۴۸ = ۵۸$$

۱۴ .

(۳ نمره)



تدریس خصوصی ریاضی به صورت حضوری و آنلاین با دبیران حرفه ای و پیگیری قدرتمند در مدرسه

۸۸۹۰۴۰۰۲ - ۸۸۹۰۶۹۰۹ - ۲۶۵۷۰۸۱۰ - ۴۴۰۲۵۸۶۰

کد تهران ۰۲۱

در جای خالی زیر چه عددی قرار دهیم تا تساوی درست باشد ؟

$$۳۰ + \square = ۵۵$$

پاسخ :

$$۳۰ + ۲۵ = ۵۵$$

۱۵ .

(۳ نمره)

حاصل جمع زیر را پیدا کنید.

$$۳۰ + ۱۰ + ۱۰ + ۵ =$$

پاسخ :

$$۳۰ + ۱۰ + ۱۰ + ۵ = ۵۵$$

۱۶ .

(۷ نمره)




تدریس خصوصی ریاضی به صورت حضوری و آنلاین با دبیران حرفه ای و پیگیری قدرتمند در مدرسه

۸۸۹۰۴۰۰۲ - ۸۸۹۰۶۹۰۹ - ۲۶۵۷۰۸۱۰ - ۴۴۰۲۵۸۶۰

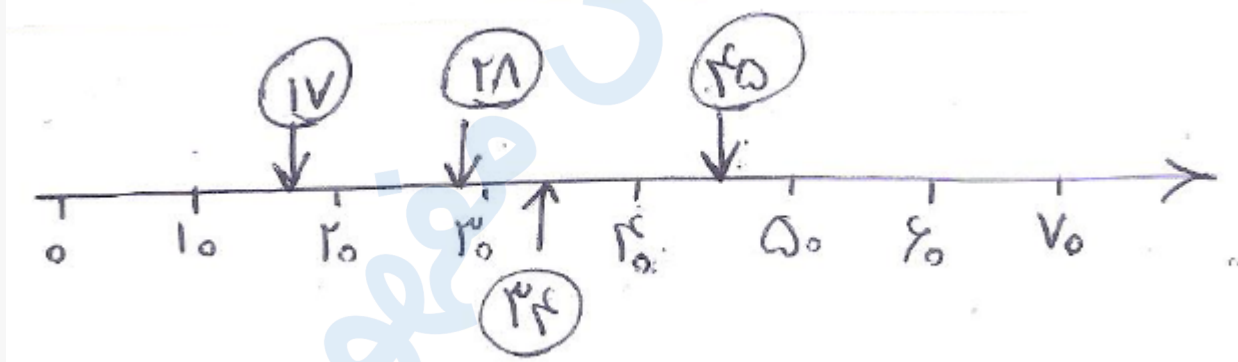
کد تهران ۰۲۱

اعداد را به طور تقریبی روی محور نشان دهید (حید)

(۱۷) - (۲۸) - (۳۴) - (۴۵)



پاسخ:



. ۱۷

(۷ نمره)



تدریس خصوصی ریاضی به صورت حضوری و آنلاین با دبیران حرفه ای و پیگیری قدرتمند در مدرسه

۸۸۹۰۴۰۰۲ - ۸۸۹۰۶۹۰۹ - ۲۶۵۷۰۸۱۰ - ۴۴۰۲۵۸۶۰

کد تهران ۰۲۱

به جای علامت سوال چه عددی قرار بگیرد تا جدول کامل شود ؟

+	۱۴	۵
۷	۲۱	؟
.	۱۴	۵

پاسخ :

+	۱۴	۵
۷	۲۱	۱۲
.	۱۴	۵

. ۱۸



تدریس خصوصی ریاضی به صورت حضوری و آنلاین با دبیران حرفه ای و پیگیری قدرتمند در مدرسه

۸۸۹۰۴۰۰۲ - ۸۸۹۰۶۹۰۹ - ۲۶۵۷۰۸۱۰ - ۴۴۰۲۵۸۶۰

کد تهران ۰۲۱

(۷ نمره)

شکل زیر چه ساعتی را نشان می دهد؟



پاسخ :

۱۰:۱۰

. ۱۹

(۷ نمره)

اگر الگوی زیر را ادامه دهیم دومین عدد کدام گزینه است؟

۱۴ و ۱۸ و ۲۲ و --- و ---

پاسخ :



تدریس خصوصی ریاضی به صورت حضوری و آنلاین با دبیران حرفه ای و پیگیری قدرتمند در مدرسه

۸۸۹۰۴۰۰۲ - ۸۸۹۰۶۹۰۹ - ۲۶۵۷۰۸۱۰ - ۴۴۰۲۵۸۶۰

کد تهران ۰۲۱

۳۰ و ۲۶ و ۲۲ و ۱۸ و ۱۴

۲۰.

(۷ نمره)

۵ دسته ۱۰ تایی منهای ۲ دسته ده تایی و ۴ یکی می شود

پاسخ :

۵۰ □ ۲۴ □ ۲۶