



تدریس خصوصی ریاضی به صورت حضوری و آنلاین با دبیران حرفه ای و پیگیری قدرتمند در مدرسه

۸۸۹۰۴۰۰۲ - ۸۸۹۰۶۹۰۹ - ۲۶۵۷۰۸۱۰ - ۴۴۰۲۵۸۶۰

کد تهران ۰۲۱

۱.

(۳ نمره)

کدام یک از اعداد زیر زوج نیست؟

۲.

(۳ نمره)

کدام یک از اعداد زیر فرد است؟

۳.

(۳ نمره)

علامت مناسب بگذارید

$$۱۲ \bigcirc (۱۰ + ۲)$$

۴.

(۳ نمره)

عدد ۸، هشت یکی و ده تایی است.

۵.

(۳ نمره)

حاصل تفریق زیر کدام گزینه است؟
 $۵ - ۱۱ =$



تدریس خصوصی ریاضی به صورت حضوری و آنلاین با دبیران حرفه ای و پیگیری قدرتمند در مدرسه

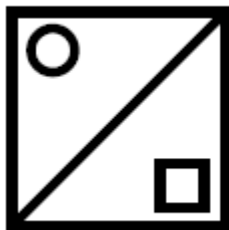
۴۴۰۲۵۸۶۰ - ۲۶۵۷۰۸۱۰ - ۸۸۹۰۶۹۰۹ - ۸۸۹۰۴۰۰۲

کد تهران ۰۲۱

۶.

(۷ نمره)

در الگوی زیر شکل بعدی کدام است؟



۷.

(۷ نمره)

عدد بعدی در الگوی زیر کدام است؟

۴۰ - ۵۱ - ۶۰ - ۷۱ - ---

۸.

(۷ نمره)

عدد بعدی در الگوی زیر کدام است؟

--- و ۲۸ و ۲۶ و ۲۵ و ۲۳



تدریس خصوصی ریاضی به صورت حضوری و آنلاین با دبیران حرفه ای و پیگیری قدرتمند در مدرسه

۸۸۹۰۴۰۰۲ - ۸۸۹۰۶۹۰۹ - ۲۶۵۷۰۸۱۰ - ۴۴۰۲۵۸۶۰

کد تهران ۰۲۱

.۹

(۷ نمره)

عدد مناسب برای جاهای خالی مشخص شده با (الف) و (ب) کدام یک از گزینه های زیر هستند ؟

۹

۵

الف

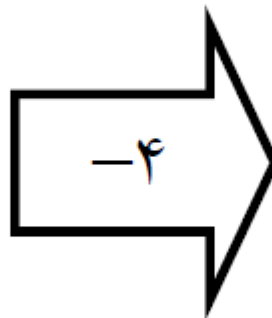
۱

۱۴

۱۰

۲۰

ب



.۱۰

(۷ نمره)



تدریس خصوصی ریاضی به صورت حضوری و آنلاین با دبیران حرفه ای و پیگیری قدرتمند در مدرسه

۸۸۹۰۴۰۰۲ - ۸۸۹۰۶۹۰۹ - ۲۶۵۷۰۸۱۰ - ۴۴۰۲۵۸۶۰

کد تهران ۰۲۱

اگر تمام عدد های دو رقمی که رقم های یکان آن ۹ و ۶ باشد و رقم دهگان آن ۸ و ۱ و ۵ باشد را بنویسیم چند عدد دورقمی غیر تکراری می توان نوشت؟

. ۱۱

(۳ نمره)

باکس شکل جواب دهید.

$\boxed{10} \boxed{10} + \boxed{10} \boxed{10} \boxed{10} = \text{---} + \text{---} = \text{---}$

. ۱۲

(۳ نمره)

کدام عدد دو رقمی یکان آن ها یکی از اعداد ۴ یا ۵ و دهگان آن ها را ۲ یا ۳ باشد.

. ۱۳

(۳ نمره)

در جای خالی چه عددی قرار بگیرد تا عبارت صحیح باشد؟

$$10 + \square = 58$$



تدریس خصوصی ریاضی به صورت حضوری و آنلاین با دبیران حرفه ای و پیگیری قدرتمند در مدرسه

۸۸۹۰۴۰۰۲ - ۸۸۹۰۶۹۰۹ - ۲۶۵۷۰۸۱۰ - ۴۴۰۲۵۸۶۰

کد تهران ۰۲۱

۱۴.

(۳ نمره)

در جای خالی زیر چه عددی قرار دهیم تا تساوی درست باشد؟

$$۳۰ + \square = ۵۵$$

۱۵.

(۳ نمره)


حاصل جمع زیر را پیدا کنید.

$$۳۰ + ۱۰ + ۱۰ + ۵ =$$

۱۶.

(۷ نمره)

اعداد را به طور تقریبی روی محور نشان دهید.



۱۷.



تدریس خصوصی ریاضی به صورت حضوری و آنلاین با دبیران حرفه ای و پیگیری قدرتمند در مدرسه

۸۸۹۰۴۰۰۲ - ۸۸۹۰۶۹۰۹ - ۲۶۵۷۰۸۱۰ - ۴۴۰۲۵۸۶۰

کد تهران ۰۲۱

(۷ نمره)

به جای علامت سوال چه عددی قرار بگیرد تا جدول کامل شود؟

+	۱۴	۵
۷	۲۱	؟
.	۱۴	۵

. ۱۸

(۷ نمره)

شکل زیر چه ساعتی را نشان می دهد؟





تدریس خصوصی ریاضی به صورت حضوری و آنلاین با دبیران حرفه ای و پیگیری قدرتمند در مدرسه

۴۴۰۲۵۸۶۰ - ۲۶۵۷۰۸۱۰ - ۸۸۹۰۶۹۰۹ - ۸۸۹۰۴۰۰۲

کد تهران ۰۲۱

۱۹.

(۷ نمره)

اگر الگوی زیر را ادامه دهیم دومین عدد کدام گزینه است؟

۱۴ و ۱۸ و ۲۲ و --- و ---

۲۰.

(۷ نمره)

۵ دسته ۱۰ تایی منهای ۲ دسته ده تایی و ۴ یکی می شود.....