

تدریس خصوصی ریاضی به صورت حضوری و آنلاین با دبیران حرفه ای و پیگیری قدرتمند در مدرسه

۴۴۰۲۵۸۶۰ - ۲۶۵۷۰۸۱۰ - ۸۸۹۰۶۹۰۹ - ۸۸۹۰۴۰۰۲

کد تهران ۰۲۱

۱.

(۲ نمره)

حاصل عبارت زیر را بیابید. (دبستان سما - ۱۴۰۱)

$$۸۰ - ۳۰ =$$

۲.

(۳ نمره)

چند عدد دو رقمی می توان نوشت که یکان آنها ۱ و ۵ و ۳ و دهگان آن ها ۱ و ۹ باشد؟

۳.

(۴ نمره)

سه دسته ده تایی و ۸ یکی به همراه ۵ یکی دیگر می شود

۴.

(۴ نمره)

سارا یک کتاب ۲۶ صفحه ای دارد. او در طول ۲ شب و هرشب ۵ صفحه از این کتاب را خوانده است. سارا چند صفحه کتاب خوانده است؟

۵.

(۴ نمره)



تدریس خصوصی ریاضی به صورت حضوری و آنلاین با دبیران حرفه ای و پیگیری قدرتمند در مدرسه

۴۴۰۲۵۸۶۰ - ۲۶۵۷۰۸۱۰ - ۸۸۹۰۶۹۰۹ - ۸۸۹۰۴۰۰۲

کد تهران ۰۲۱

با ارقام ۱، ۵، ۴، ۵ چند عدد در رتبی می توان نوشت؟

(۲ نمره)

$$۵۰ + ۳۰ - ۲۰ + ۱۰ =$$

ردی محور نشان دهید.

.۶

(۳ نمره)

در جای خالی چه عددی قرار بگیرد تا عبارت صحیح باشد؟

$$۱۰ + \square = ۵۸$$

.۷

(۴ نمره)

.۸



تدریس خصوصی ریاضی به صورت حضوری و آنلاین با دبیران حرفه ای و پیگیری قدرتمند در مدرسه

۸۸۹۰۴۰۰۲ - ۸۸۹۰۶۹۰۹ - ۲۶۵۷۰۸۱۰ - ۴۴۰۲۵۸۶۰

کد تهران ۰۲۱

$$\begin{array}{r} ۲۵ \\ + ۳۴ \\ \hline \end{array}$$

$$\begin{array}{r} ۷۴ \\ - ۳۱ \\ \hline \end{array}$$

جمع و تفریق را انجام دهید.

۹.

(۴ نمره)

شکل زیر چه ساعتی را نشان می دهد؟



۱۰.

(۴ نمره)

اگر الگوی زیر را ادامه دهیم دومین عدد کدام گزینه است؟

---- و ---- و ۲۲ و ۱۸ و ۱۴



تدریس خصوصی ریاضی به صورت حضوری و آنلاین با دبیران حرفه ای و پیگیری قدرتمند در مدرسه

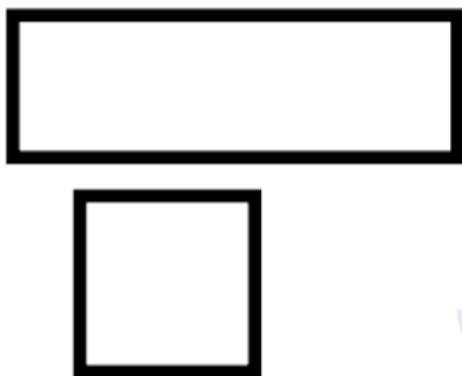
۴۴۰۲۵۸۶۰ - ۲۶۵۷۰۸۱۰ - ۸۸۹۰۶۹۰۹ - ۸۸۹۰۴۰۰۲

کد تهران ۰۲۱

. ۱۱

(۲ نمره)

تفاوت شکل‌های زیر را بنویسید. (دبستان سما - ۱۴۰۱)



. ۱۲

(۳ نمره)

نام شکل زیر را بنویس و آن را به ۴ قسمت مساوی تقسیم کن. (دبستان سرای دانش الغدیر - تهران ۱۴۰۲)





تدریس خصوصی ریاضی به صورت حضوری و آنلاین با دبیران حرفه ای و پیگیری قدرتمند در مدرسه


۸۸۹۰۴۰۰۲ - ۸۸۹۰۶۹۰۹ - ۲۶۵۷۰۸۱۰ - ۴۴۰۲۵۸۶۰

کد تهران ۰۲۱

۱۳.

(۴ نمره)


نام شکل زیر را بنویسید. (دبستان فدک نور - آذرشهر ۱۴۰۰)



۱۴.

(۴ نمره)

ساعت مناسب شکل را انتخاب کنید.





تدریس خصوصی ریاضی به صورت حضوری و آنلاین با دبیران حرفه ای و پیگیری قدرتمند در مدرسه

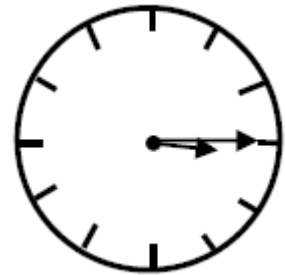
۴۴۰۲۵۸۶۰ - ۲۶۵۷۰۸۱۰ - ۸۸۹۰۶۹۰۹ - ۸۸۹۰۴۰۰۲

کد تهران ۰۲۱

۱۵.

(۴ نمره)

ساعت زیر چه زمانی را نشان می دهد؟



۱۶.

(۲ نمره)

در جای خالی چه عددی قرار می گیرد؟

$$۱۰۰ - ۴۰ = \square$$



۱۷.

(۳ نمره)

با کارت های ۴ و ۷ و ۳ یک عدد سه رقمی زوج بنویسید. (دبستان سرای دانش-تهران ۱۴۰۲)



تدریس خصوصی ریاضی به صورت حضوری و آنلاین با دبیران حرفه ای و پیگیری قدرتمند در مدرسه

۴۴۰۲۵۸۶۰ - ۲۶۵۷۰۸۱۰ - ۸۸۹۰۶۹۰۹ - ۸۸۹۰۴۰۰۲

کد تهران ۰۲۱

۱۸.

(۴ نمره)

با کمک رقم های ۳ - ۰ - ۲ عددهای سه رقمی با رقم های غیرتکراری بنویسید.

۱۹.

(۴ نمره)

با رقم های ۱ و ۵ و ۴ چند عدد سه رقمی می توان نوشت؟

۲۰.

(۴ نمره)

اگر عدد ۸۹۳ را به صورت گسترده بنویسیم پاسخ صحیح کدام گزینه است؟

۲۱.

(۲ نمره)



تدریس خصوصی ریاضی به صورت حضوری و آنلاین با دبیران حرفه ای و پیگیری قدرتمند در مدرسه

۴۴۰۲۵۸۶۰ - ۲۶۵۷۰۸۱۰ - ۸۸۹۰۶۹۰۹ - ۸۸۹۰۴۰۰۲

کد تهران ۰۲۱

جوراب از کفش است. (دبستان فدک نور - آذرشهر ۱۴۰۰)



۲۲.

(۲ نمره)

از کلمه‌های سبک‌تر و سنگین‌تر استفاده کن. (دبستان فدک نور - آذرشهر ۱۴۰۰)

«کفش از جوراب است.»





تدریس خصوصی ریاضی به صورت حضوری و آنلاین با دبیران حرفه ای و پیگیری قدرتمند در مدرسه

۸۸۹۰۴۰۰۲ - ۸۸۹۰۶۹۰۹ - ۲۶۵۷۰۸۱۰ - ۴۴۰۲۵۸۶۰

کد تهران ۰۲۱

. ۲۳

(۴ نمره)

۳ میلی متر را روی واحد سانتی متر زیر نشان دهید. (دبستان سرای دانش-تهران ۱۴۰۲)



. ۲۴

(۴ نمره)

۷ سانتی متر و ۴ میلی متر = میلی متر

. ۲۵

(۴ نمره)

۱۲۵ میلی متر = سانتی متر و میلی متر

. ۲۶

(۲ نمره)

ادامه دهید.

۲۵۰ - ۲۶۰ - ۲۷۰ - ... - ... - ...



تدریس خصوصی ریاضی به صورت حضوری و آنلاین با دبیران حرفه ای و پیگیری قدرتمند در مدرسه

۴۴۰۲۵۸۶۰ - ۲۶۵۷۰۸۱۰ - ۸۸۹۰۶۹۰۹ - ۸۸۹۰۴۰۰۲

کد تهران ۰۲۱

۲۷ .

(۲ نمره)

علامت مناسب بگذارید

۴۰۲ ۷۵

۲۸ .

(۴ نمره)

یک کتاب داستان ۴۵۶ صفحه داشت. آریا در یک هفته ۱۴۰ صفحه و در هفته دوم ۱۲۰ صفحه از کتاب را خواند. چند صفحه از کتاب باقی مانده است؟ (دبستان سرای دانش-تهران ۱۴۰۲)

۲۹ .

(۴ نمره)

حسن ۱۴۹ صفحه از یک کتاب را خوانده است. اگر کتاب ۲۹۰ صفحه داشته باشد، چند صفحه از کتاب باقی مانده است؟

۳۰ .

(۴ نمره)

در باغی ۵۲۱ درخت سیب، ۲۵۹ درخت پرتغال و ۱۱۷ درخت گلابی وجود دارد. این باغ چند درخت دارد؟