



تدریس خصوصی ریاضی به صورت حضوری و آنلاین با دبیران حرفه ای و پیگیری قدرتمند در مدرسه

۴۴۰۲۵۸۶۰ - ۲۶۵۷۰۸۱۰ - ۸۸۹۰۶۹۰۹ - ۸۸۹۰۴۰۰۲

کد تهران ۰۲۱

۱.

(۲ نمره)

حاصل عبارت زیر را بیابید. (دبستان سما - ۱۴۰۱)

$$۸۰ - ۳۰ =$$

پاسخ:

$$۸۰ - ۳۰ = ۵۰$$

۲.

(۳ نمره)

چند عدد دو رقمی می توان نوشت که یکان آنها ۱ و ۵ و ۳ و دهگان آن ها ۱ و ۹ باشد؟

پاسخ:

یکان ۱ و ۵ و ۳ دهگان ۱ و ۹

۱۱، ۱۳، ۱۵، ۹۱، ۹۳



تدریس خصوصی ریاضی به صورت حضوری و آنلاین با دبیران حرفه ای و پیگیری قدرتمند در مدرسه

۸۸۹۰۴۰۰۲ - ۸۸۹۰۶۹۰۹ - ۲۶۵۷۰۸۱۰ - ۴۴۰۲۵۸۶۰

کد تهران ۰۲۱

۳.

(۴ نمره)

سه دسته ده تایی و ۸ یکی به همراه ۵ یکی دیگر می شود .....

پاسخ:

$$۳۰ + ۸ + ۵ = ۴۳$$

۴.

(۴ نمره)

سارا یک کتاب ۲۶ صفحه ای دارد. او در طول ۲ شب و هر شب ۵ صفحه از این کتاب را خوانده است. سارا چند صفحه کتاب خوانده است؟

پاسخ:

$$۵ + ۵ =$$



۱۰ صفحه کتاب خوانده است.

$$۲۶ - ۱۰ = ۱۶$$



تدریس خصوصی ریاضی به صورت حضوری و آنلاین با دبیران حرفه ای و پیگیری قدرتمند در مدرسه

۴۴۰۲۵۸۶۰ - ۲۶۵۷۰۸۱۰ - ۸۸۹۰۶۹۰۹ - ۸۸۹۰۴۰۰۲

کد تهران ۰۲۱

۵.

(۴ نمره)

با ارقام ۱، ۵، ۴، ۵ چه عدد درستی می توان نوشت؟

پاسخ:

۵۴ - ۵۱ - ۵۰ - ۴۵ - ۴۱ - ۴۰ - ۱۵ - ۱۴ - ۱۰

اگر تتری را هم بنویسد بهتر است  
۵۵ - ۴۴ - ۱۱

۶.

(۲ نمره)

$$۵۰ + ۱۰ - ۲۰ + ۱۰ =$$

روی محور نشان دهید.


پاسخ:



تدریس خصوصی ریاضی به صورت حضوری و آنلاین با دبیران حرفه ای و پیگیری قدرتمند در مدرسه

۸۸۹۰۴۰۰۲ - ۸۸۹۰۶۹۰۹ - ۲۶۵۷۰۸۱۰ - ۴۴۰۲۵۸۶۰

کد تهران ۰۲۱



۷.

(۳ نمره)

در جای خالی چه عددی قرار بگیرد تا عبارت صحیح باشد؟

$$۱۰ + \square = ۵۸$$

پاسخ:

$$۱۰ + ۴۸ = ۵۸$$

۸.

(۴ نمره)

$$\begin{array}{r} + ۲۵ \\ + ۳۴ \\ \hline \end{array}$$

$$\begin{array}{r} - ۷۴ \\ - ۳۱ \\ \hline \end{array}$$

جمع و تفریق را انجام دهید.



تدریس خصوصی ریاضی به صورت حضوری و آنلاین با دبیران حرفه ای و پیگیری قدرتمند در مدرسه

۸۸۹۰۴۰۰۲ - ۸۸۹۰۶۹۰۹ - ۲۶۵۷۰۸۱۰ - ۴۴۰۲۵۸۶۰

کد تهران ۰۲۱

پاسخ :

$$\begin{array}{r} + 25 \\ + 34 \\ \hline + 55 \\ + 4 \\ \hline 59 \end{array}$$
$$\begin{array}{r} - 74 \\ 31 \\ \hline - 44 \\ 1 \\ \hline 43 \end{array}$$

۹.

(۴ نمره)

شکل زیر چه ساعتی را نشان می دهد؟



پاسخ :



تدریس خصوصی ریاضی به صورت حضوری و آنلاین با دبیران حرفه ای و پیگیری قدرتمند در مدرسه

۴۴۰۲۵۸۶۰ - ۲۶۵۷۰۸۱۰ - ۸۸۹۰۶۹۰۹ - ۸۸۹۰۴۰۰۲

کد تهران ۰۲۱

۱۰:۱۰

. ۱۰

(۴ نمره)

اگر الگوی زیر را ادامه دهیم دومین عدد کدام گزینه است؟

----- و ----- و ۲۲ و ۱۸ و ۱۴

پاسخ:

۳۰ و ۲۶ و ۲۲ و ۱۸ و ۱۴

. ۱۱

(۲ نمره)



تدریس خصوصی ریاضی به صورت حضوری و آنلاین با دبیران حرفه ای و پیگیری قدرتمند در مدرسه

۴۴۰۲۵۸۶۰ - ۲۶۵۷۰۸۱۰ - ۸۸۹۰۶۹۰۹ - ۸۸۹۰۴۰۰۲

کد تهران ۰۲۱

تفاوت شکل‌های زیر را بنویسید. (دبستان سما - ۱۴۰۱)




پاسخ :

در شکل پایین همه اضلاع با هم برابر هستند اما در شکل بالا چنین نیست.

۱۲ .

(۳ نمره)

نام شکل زیر را بنویس و آن را به ۴ قسمت مساوی تقسیم کن. (دبستان سرای دانش الغدیر - تهران ۱۴۰۲)






تدریس خصوصی ریاضی به صورت حضوری و آنلاین با دبیران حرفه ای و پیگیری قدرتمند در مدرسه

۸۸۹۰۴۰۰۲ - ۸۸۹۰۶۹۰۹ - ۲۶۵۷۰۸۱۰ - ۴۴۰۲۵۸۶۰

کد تهران ۰۲۱

پاسخ :



دایره

(۴ نمره)

. ۱۳






تدریس خصوصی ریاضی به صورت حضوری و آنلاین با دبیران حرفه ای و پیگیری قدرتمند در مدرسه

۸۸۹۰۴۰۰۲ - ۸۸۹۰۶۹۰۹ - ۲۶۵۷۰۸۱۰ - ۴۴۰۲۵۸۶۰

کد تهران ۰۲۱

نام شکل زیر را بنویسید. (دبستان فدک نور - آذرشهر ۱۴۰۰)




پاسخ :

دایره

۱۴ .

(۴ نمره)

ساعت مناسب شکل را انتخاب کنید.





تدریس خصوصی ریاضی به صورت حضوری و آنلاین با دبیران حرفه ای و پیگیری قدرتمند در مدرسه

۸۸۹۰۴۰۰۲ - ۸۸۹۰۶۹۰۹ - ۲۶۵۷۰۸۱۰ - ۴۴۰۲۵۸۶۰

کد تهران ۰۲۱

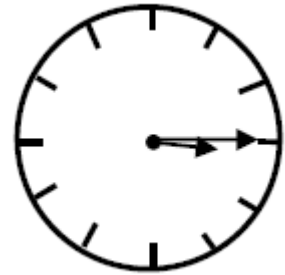
پاسخ :

ساعت ۸ و ۱۰ دقیقه است.

۱۵ .

(۴ نمره)

ساعت زیر چه زمانی را نشان می دهد؟




پاسخ :



تدریس خصوصی ریاضی به صورت حضوری و آنلاین با دبیران حرفه ای و پیگیری قدرتمند در مدرسه

۴۴۰۲۵۸۶۰ - ۲۶۵۷۰۸۱۰ - ۸۸۹۰۶۹۰۹ - ۸۸۹۰۴۰۰۲

کد تهران ۰۲۱



۳:۱۵

۱۶.

(۲ نمره)

در جای خالی چه عددی قرار می گیرد؟

$$۱۰۰ - ۴۰ =$$



پاسخ:

$$۱۰۰ - ۴۰ = ۶۰$$



تدریس خصوصی ریاضی به صورت حضوری و آنلاین با دبیران حرفه ای و پیگیری قدرتمند در مدرسه

۸۸۹۰۴۰۰۲ - ۸۸۹۰۶۹۰۹ - ۲۶۵۷۰۸۱۰ - ۴۴۰۲۵۸۶۰

کد تهران ۰۲۱

. ۱۷

(۳ نمره)

با کارت‌های ۴ و ۷ و ۳ یک عدد سه رقمی زوج بنویسید. (دبستان سرای دانش-تهران ۱۴۰۲)

پاسخ:

۳۷۴

. ۱۸

(۴ نمره)

با کمک رقم‌های ۳ - ۰ - ۲ عددهای سه رقمی با رقم‌های غیرتکراری بنویسید.

پاسخ:

۳۲۰ - ۳۰۲  
۲۳۰ - ۲۰۳



تدریس خصوصی ریاضی به صورت حضوری و آنلاین با دبیران حرفه ای و پیگیری قدرتمند در مدرسه

۸۸۹۰۴۰۰۲ - ۸۸۹۰۶۹۰۹ - ۲۶۵۷۰۸۱۰ - ۴۴۰۲۵۸۶۰

کد تهران ۰۲۱

. ۱۹

(۴ نمره)

با رقم های ۱ و ۵ و ۴ چند عدد سه رقمی می توان نوشت؟

پاسخ :

۶

. ۲۰

(۴ نمره)

اگر عدد ۸۹۳ را به صورت گسترده بنویسیم پاسخ صحیح کدام گزینه است؟

پاسخ :

$$۸۹۳ = ۸۰۰ + ۹۰ + ۳$$

. ۲۱

(۲ نمره)



تدریس خصوصی ریاضی به صورت حضوری و آنلاین با دبیران حرفه ای و پیگیری قدرتمند در مدرسه

۸۸۹۰۴۰۰۲ - ۸۸۹۰۶۹۰۹ - ۲۶۵۷۰۸۱۰ - ۴۴۰۲۵۸۶۰

کد تهران ۰۲۱

جوراب از کفش ..... است. (دبستان فدک نور - آذرشهر ۱۴۰۰)



پاسخ :

سبک‌تر

(۲ نمره)

. ۲۲



تدریس خصوصی ریاضی به صورت حضوری و آنلاین با دبیران حرفه ای و پیگیری قدرتمند در مدرسه

۸۸۹۰۴۰۰۲ - ۸۸۹۰۶۹۰۹ - ۲۶۵۷۰۸۱۰ - ۴۴۰۲۵۸۶۰

کد تهران ۰۲۱

از کلمه‌های سبک‌تر و سنگین‌تر استفاده کن. (دبستان فدک نور - آذرشهر ۱۴۰۰)

«کفش از جوراب ..... است.»



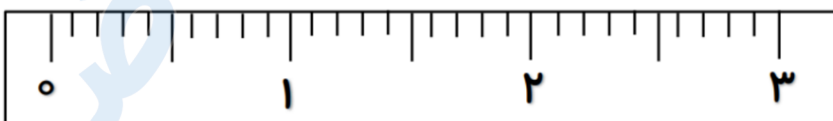
پاسخ :

سنگین‌تر

. ۲۳

(۴ نمره)

۳ میلی متر را روی واحد سانتی متر زیر نشان دهید. (دبستان سرای دانش-تهران ۱۴۰۲)



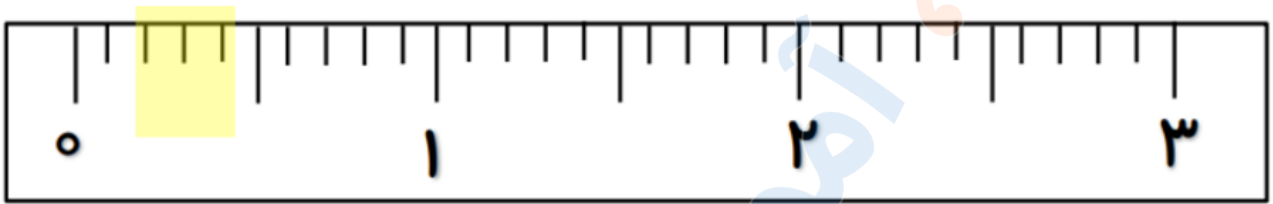


تدریس خصوصی ریاضی به صورت حضوری و آنلاین با دبیران حرفه ای و پیگیری قدرتمند در مدرسه

۴۴۰۲۵۸۶۰ - ۲۶۵۷۰۸۱۰ - ۸۸۹۰۶۹۰۹ - ۸۸۹۰۴۰۰۲

کد تهران ۰۲۱

پاسخ :



. ۲۴

(۴ نمره)

۷ سانتی‌متر و ۴ میلی‌متر = ..... میلی‌متر

پاسخ :

۷ سانتی‌متر و ۴ میلی‌متر = ۷۴ میلی‌متر

. ۲۵

(۴ نمره)

۱۲۵ میلی‌متر = ..... سانتی‌متر و ..... میلی‌متر





تدریس خصوصی ریاضی به صورت حضوری و آنلاین با دبیران حرفه ای و پیگیری قدرتمند در مدرسه

۴۴۰۲۵۸۶۰ - ۲۶۵۷۰۸۱۰ - ۸۸۹۰۶۹۰۹ - ۸۸۹۰۴۰۰۲

کد تهران ۰۲۱

پاسخ :

۱۲۵ میلی‌متر = ۱۲ سانتی‌متر و ۵ میلی‌متر

. ۲۶

(۲ نمره)

ادامه دهید.

۲۵۰ - ۲۶۰ - ۲۷۰ - ... - ... - ...

پاسخ :

۲۵۰ - ۲۶۰ - ۲۷۰ - ۲۸۰ - ۲۹۰ - ۳۰۰

هر عدد با ۱۰ جمع می‌شود.

. ۲۷

(۲ نمره)

علامت مناسب بگذارید

۴۰۲ ○ ۷۵

پاسخ :

>



تدریس خصوصی ریاضی به صورت حضوری و آنلاین با دبیران حرفه ای و پیگیری قدرتمند در مدرسه

۴۴۰۲۵۸۶۰ - ۲۶۵۷۰۸۱۰ - ۸۸۹۰۶۹۰۹ - ۸۸۹۰۴۰۰۲

کد تهران ۰۲۱

۲۸.

(۴ نمره)

یک کتاب داستان ۴۵۶ صفحه داشت. آریا در یک هفته ۱۴۰ صفحه و در هفته دوم ۱۲۰ صفحه از کتاب را خواند. چند صفحه از کتاب باقی مانده است؟ (دبستان سرای دانش-تهران ۱۴۰۲)

پاسخ:

$$456 - 120 - 140 = 196$$

۱۹۶ صفحه از کتاب خوانده نشده است.

۲۹.

(۴ نمره)

حسن ۱۴۹ صفحه از یک کتاب را خوانده است. اگر کتاب ۲۹۰ صفحه داشته باشد، چند صفحه از کتاب باقی مانده است؟

پاسخ:



تدریس خصوصی ریاضی به صورت حضوری و آنلاین با دبیران حرفه ای و پیگیری قدرتمند در مدرسه

۸۸۹۰۴۰۰۲ - ۸۸۹۰۶۹۰۹ - ۲۶۵۷۰۸۱۰ - ۴۴۰۲۵۸۶۰

کد تهران ۰۲۱

$$\begin{array}{r} 810 \\ - 29 \\ \hline 149 \\ \hline 141 \end{array}$$

۱۴۱ صفحه از کتاب باقی مانده است.

۳۰.

(۴ نمره)

در باغی ۵۲۱ درخت سیب ، ۲۵۹ درخت پرتغال و ۱۱۷ درخت گلابی وجود دارد. این باغ چند درخت دارد؟

پاسخ :

$$\begin{array}{r} 521 \\ +259 \\ \hline 780 \end{array}$$

$$\begin{array}{r} 780 \\ +117 \\ \hline 897 \end{array}$$

در این باغ ۸۹۷ درخت وجود دارد.

تعداد درختان سیب و پرتقال