



تدریس خصوصی ریاضی به صورت حضوری و آنلاین با دبیران حرفه ای و پیگیری قدرتمند در مدرسه

۴۴۰۲۵۸۶۰ - ۲۶۵۷۰۸۱۰ - ۸۸۹۰۶۹۰۹ - ۸۸۹۰۴۰۰۲

کد تهران ۰۲۱

۱.

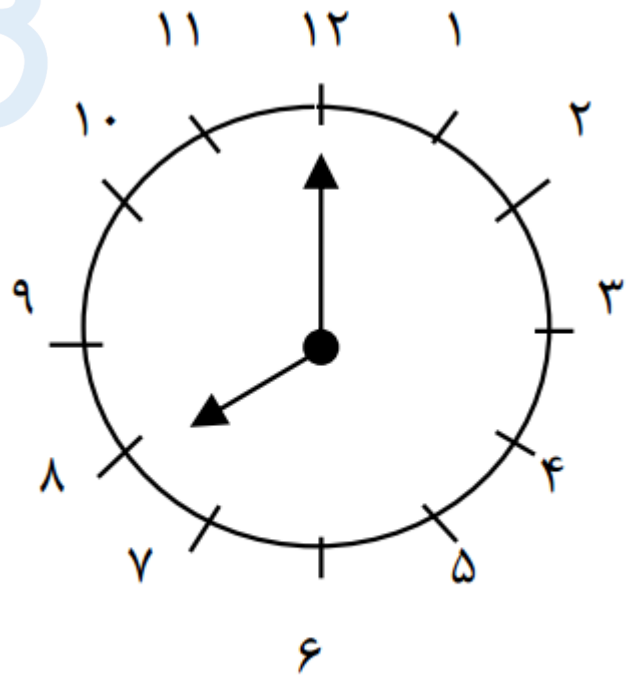
(۲ نمره)

حاصل تفریق زیر کدام گزینه است؟
 $۱۴ - ۲۵ =$

۲.

(۲ نمره)

ساعت را بگویید



ساعت

۳.



تدریس خصوصی ریاضی به صورت حضوری و آنلاین با دبیران حرفه ای و پیگیری قدرتمند در مدرسه

۴۴۰۲۵۸۶۰ - ۲۶۵۷۰۸۱۰ - ۸۸۹۰۶۹۰۹ - ۸۸۹۰۴۰۰۲

کد تهران ۰۲۱

(۲ نمره)

کدام یک از اعداد زیر زوج نیست؟

. ۴

(۷ نمره)

حاصل جمع زیر را به دست آورید. (دبستان سرای دانش-تهران ۱۴۰۲)

$$\begin{array}{r} ۵۶۷ \\ + ۱۳۲ \\ \hline \end{array}$$

. ۵

(۷ نمره)

برنامه ورزشی اولین دوره علی به این صورت می باشد.
۳ روز ورزش ، ۱ روز استراحت ، دوباره ۴ روز ورزش ، ۱ روز استراحت
امروز روز نهم ماه است . اگر علی دیروز ورزش را شروع کرده باشد ، این دوره را در چندمین روز ماه تمام می کند؟

. ۶

(۷ نمره)

الگوی عددی زیر ، با کدام یک از گزینه ها کامل می شود؟

..... , , , ۲۷ , ۳۶ , ۴۵



تدریس خصوصی ریاضی به صورت حضوری و آنلاین با دبیران حرفه ای و پیگیری قدرتمند در مدرسه

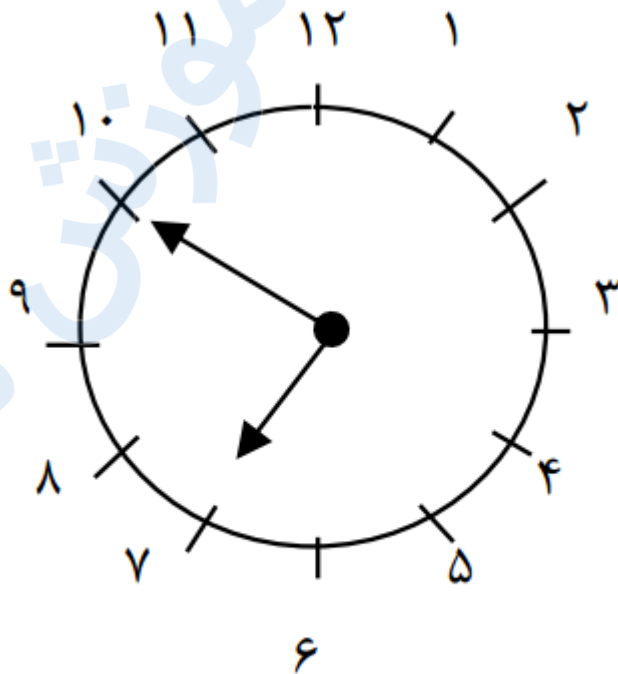
۸۸۹۰۴۰۰۲ - ۸۸۹۰۶۹۰۹ - ۲۶۵۷۰۸۱۰ - ۴۴۰۲۵۸۶۰

کد تهران ۰۲۱

۷.

(۷ نمره)

ساعت را بگویید



ساعت کمی بهمانده

۸.

(۲ نمره)

حاصل جمع زیر را پیدا کنید.

$$۳۰ + ۱۰ + ۱۰ + ۵ =$$



تدریس خصوصی ریاضی به صورت حضوری و آنلاین با دبیران حرفه ای و پیگیری قدرتمند در مدرسه

۸۸۹۰۴۰۰۲ - ۸۸۹۰۶۹۰۹ - ۲۶۵۷۰۸۱۰ - ۴۴۰۲۵۸۶۰

کد تهران ۰۲۱

۹.

(۲ نمره)

عدد مناسب جای خالی مقابل کدام گزینه است؟

$$۲۰ + \square - ۱۰ = ۵۰$$

۱۰.

(۲ نمره)

شکل زیر مربوط به کدام یک از عملیات های زیر است؟

$$\boxed{۱۰} \boxed{۱۰} + \boxed{۱۰} \boxed{۱۰} \boxed{۱۰}$$

۱۱.

(۶ نمره)

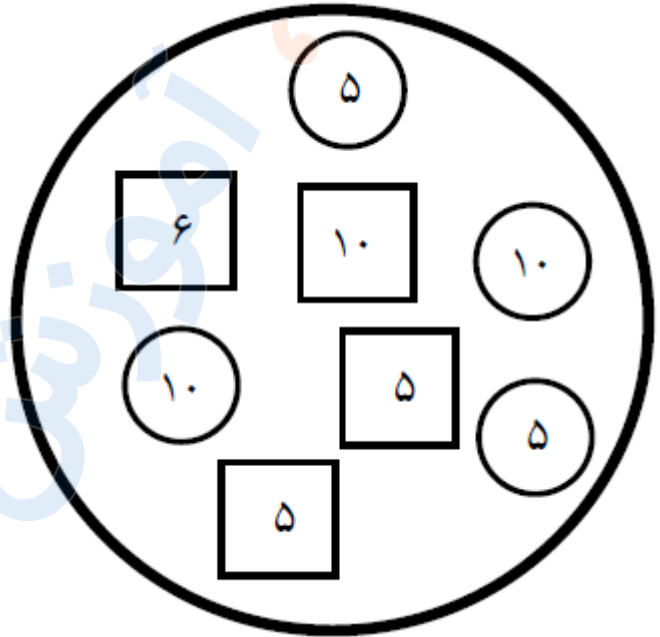


تدریس خصوصی ریاضی به صورت حضوری و آنلاین با دبیران حرفه ای و پیگیری قدرتمند در مدرسه

۸۸۹۰۴۰۰۲ - ۸۸۹۰۶۹۰۹ - ۲۶۵۷۰۸۱۰ - ۴۴۰۲۵۸۶۰

کد تهران ۰۲۱

اختلاف مجموع دایره ها و مربع ها در شکل زیر چند تاست ؟



. ۱۲

(۷ نمره)

بزرگترین عدد دو رقمی که فاصله یکان و دهگان آن ۵ باشد کدام است؟

. ۱۳

(۷ نمره)



تدریس خصوصی ریاضی به صورت حضوری و آنلاین با دبیران حرفه ای و پیگیری قدرتمند در مدرسه

۴۴۰۲۵۸۶۰ - ۲۶۵۷۰۸۱۰ - ۸۸۹۰۶۹۰۹ - ۸۸۹۰۴۰۰۲

کد تهران ۰۲۱

حاصل را به طور تقریبی به دست آورید؟

$$۳۹ \rightarrow \dots$$

$$\underline{\quad} + ۴۵ \rightarrow \dots$$

۱۴.


(نمره ۷)

با ارقام ۵، ۴، ۰، ۱ چند عدد دو رقمی می توان نوشت؟

۱۵.

(نمره ۲)

نام شکل زیر را بنویس و آن را به ۴ قسمت مساوی تقسیم کن. (دبستان سرای دانش الغدیر - تهران ۱۴۰۲)



۱۶.

(نمره ۲)

اگر ضلع های یک مستطیل برابر شوند چه شکلی حاصل می شود؟



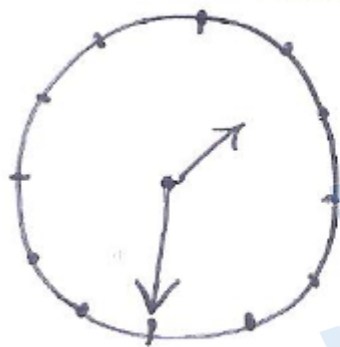
تدریس خصوصی ریاضی به صورت حضوری و آنلاین با دبیران حرفه ای و پیگیری قدرتمند در مدرسه

۸۸۹۰۴۰۰۲ - ۸۸۹۰۶۹۰۹ - ۲۶۵۷۰۸۱۰ - ۴۴۰۲۵۸۶۰

کد تهران ۰۲۱

. ۱۷

(۲ نمره)



ساعت را بگردید.

. ۱۸

(۷ نمره)



تدریس خصوصی ریاضی به صورت حضوری و آنلاین با دبیران حرفه ای و پیگیری قدرتمند در مدرسه

۸۸۹۰۴۰۰۲ - ۸۸۹۰۶۹۰۹ - ۲۶۵۷۰۸۱۰ - ۴۴۰۲۵۸۶۰

کد تهران ۰۲۱

عقربه‌ها رسم کنید.



یک ربع مانده به ساعت ۵

۱۹.

(۶ نمره)

الگوی بعدی در شکل زیر کدام است؟



۲۰.

(۷ نمره)

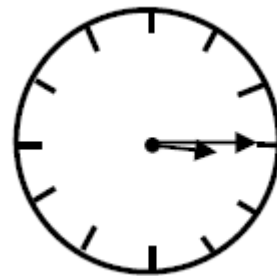


تدریس خصوصی ریاضی به صورت حضوری و آنلاین با دبیران حرفه ای و پیگیری قدرتمند در مدرسه

۸۸۹۰۴۰۰۲ - ۸۸۹۰۶۹۰۹ - ۲۶۵۷۰۸۱۰ - ۴۴۰۲۵۸۶۰

کد تهران ۰۲۱

زمانی که این ساعت نشان می دهد به فارسی برابر با کدام گزینه است؟



. ۲۱

(۷ نمره)

زمانی که این ساعت نشان می دهد به فارسی برابر با کدام گزینه است؟

