



تدریس خصوصی ریاضی به صورت حضوری و آنلاین با دبیران حرفه ای و پیگیری قدرتمند در مدرسه

۸۸۹۰۴۰۰۲ - ۸۸۹۰۶۹۰۹ - ۲۶۵۷۰۸۱۰ - ۴۴۰۲۵۸۶۰

کد تهران ۰۲۱

. ۱

(۲ نمره)

حاصل تفریق زیر کدام گزینه است؟

$$۱۴ - ۲۵ =$$

پاسخ :

$$۲۵ - ۱۴ = ۱۱$$

. ۲

(۲ نمره)

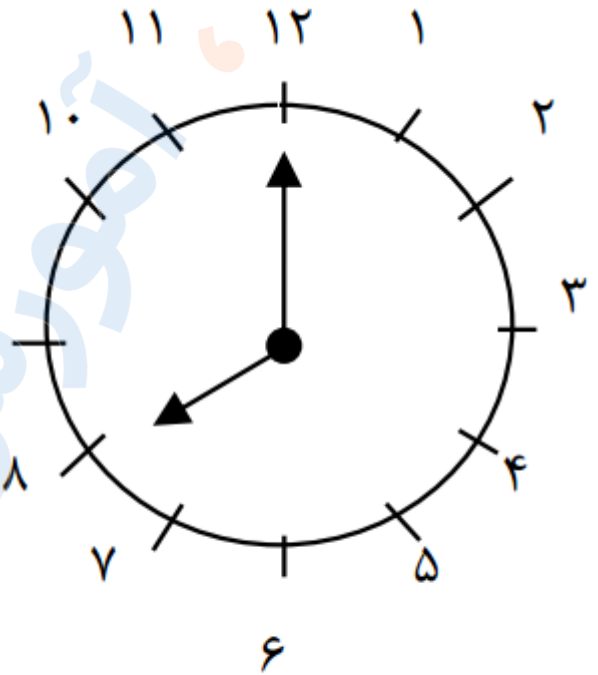


تدریس خصوصی ریاضی به صورت حضوری و آنلاین با دبیران حرفه ای و پیگیری قدرتمند در مدرسه

۸۸۹۰۴۰۰۲ - ۸۸۹۰۶۹۰۹ - ۲۶۵۷۰۸۱۰ - ۴۴۰۲۵۸۶۰

کد تهران ۰۲۱

ساعت را بگویید



..... ساعت

پاسخ :

ساعت ۸:۰۰

۳ .

(۲ نمره)

کدام یک از اعداد زیر زوج نیست ؟



تدریس خصوصی ریاضی به صورت حضوری و آنلاین با دبیران حرفه ای و پیگیری قدرتمند در مدرسه

۴۴۰۲۵۸۶۰ - ۲۶۵۷۰۸۱۰ - ۸۸۹۰۶۹۰۹ - ۸۸۹۰۴۰۰۲

کد تهران ۰۲۱

پاسخ :

عدد ۵۶۷ فرد است و زوج نیست.

. ۴

(۷ نمره)

حاصل جمع زیر را به دست آورید. (دبستان سرای دانش-تهران ۱۴۰۲)

۵۶۷

+ ۱۳۲

پاسخ :

۵۶۷

+ ۱۳۲

۶۹۹



تدریس خصوصی ریاضی به صورت حضوری و آنلاین با دبیران حرفه ای و پیگیری قدرتمند در مدرسه

۸۸۹۰۴۰۰۲ - ۸۸۹۰۶۹۰۹ - ۲۶۵۷۰۸۱۰ - ۴۴۰۲۵۸۶۰

کد تهران ۰۲۱

۵ .

(۷ نمره)

برنامه ورزشی اولین دوره علی به این صورت می باشد.  
۳ روز ورزش ، ۱ روز استراحت ، دوباره ۴ روز ورزش ، ۱ روز استراحت  
امروز روز نهم ماه است . اگر علی دیروز ورزش را شروع کرده باشد ، این دوره را در چندمین روز ماه تمام می کند؟

پاسخ :

امروز نهم است ← دیروز هشتم بوده است.

$$\textcircled{8} + 3 + 1 + 4 + 1 = \textcircled{17}$$

ورزش استراحت ورزش

۶ .

(۷ نمره)

الگوی عددی زیر ، با کدام یک از گزینه ها کامل می شود؟

..... , ..... , ..... , ۲۷ , ۳۶ , ۴۵

پاسخ :



تدریس خصوصی ریاضی به صورت حضوری و آنلاین با دبیران حرفه ای و پیگیری قدرتمند در مدرسه

۸۸۹۰۴۰۰۲ - ۸۸۹۰۶۹۰۹ - ۲۶۵۷۰۸۱۰ - ۴۴۰۲۵۸۶۰

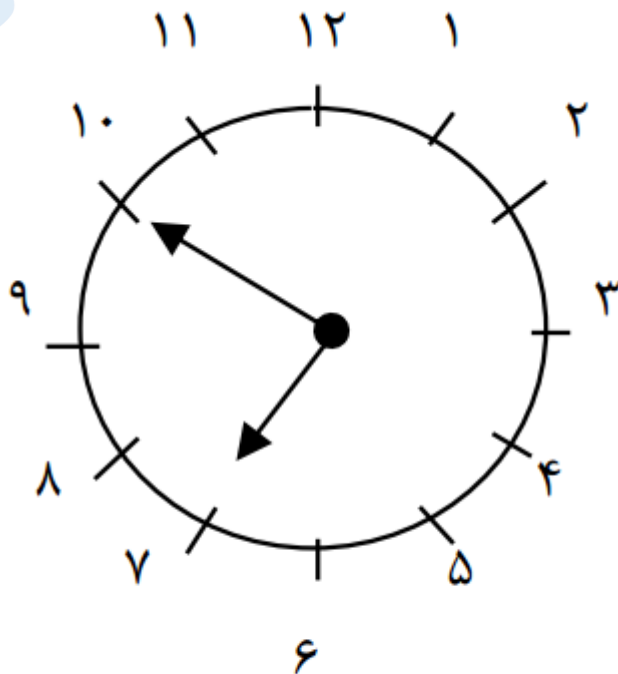
کد تهران ۰۲۱



۷.

(۷ نمره)

ساعت را بگویید



ساعت کمی به .....مانده



تدریس خصوصی ریاضی به صورت حضوری و آنلاین با دبیران حرفه ای و پیگیری قدرتمند در مدرسه

۸۸۹۰۴۰۰۲ - ۸۸۹۰۶۹۰۹ - ۲۶۵۷۰۸۱۰ - ۴۴۰۲۵۸۶۰

کد تهران ۰۲۱

پاسخ :

ساعت ۶:۵۰ دقیقه است و کمی به ۷ مانده است

۸ .

(۲ نمره)

حاصل جمع زیر را پیدا کنید.

$$۳۰ + ۱۰ + ۱۰ + ۵ =$$

پاسخ :

$$۳۰ + ۱۰ + ۱۰ + ۵ = ۵۵$$

۹ .

(۲ نمره)

عدد مناسب جای خالی مقابل کدام گزینه است ؟

$$۲۰ + \square - ۱۰ = ۵۰$$



تدریس خصوصی ریاضی به صورت حضوری و آنلاین با دبیران حرفه ای و پیگیری قدرتمند در مدرسه

۸۸۹۰۴۰۰۲ - ۸۸۹۰۶۹۰۹ - ۲۶۵۷۰۸۱۰ - ۴۴۰۲۵۸۶۰

کد تهران ۰۲۱

پاسخ :

$$۲۰ + ۴۰ - ۱۰ = ۵۰$$

. ۱۰

(۲ نمره)

شکل زیر مربوط به کدام یک از عملیات های زیر است؟

$$\boxed{۱۰} \boxed{۱۰} + \boxed{۱۰} \boxed{۱۰} \boxed{۱۰}$$

پاسخ :

$$۳۰ + ۲۰ = ۵۰$$

. ۱۱

(۶ نمره)

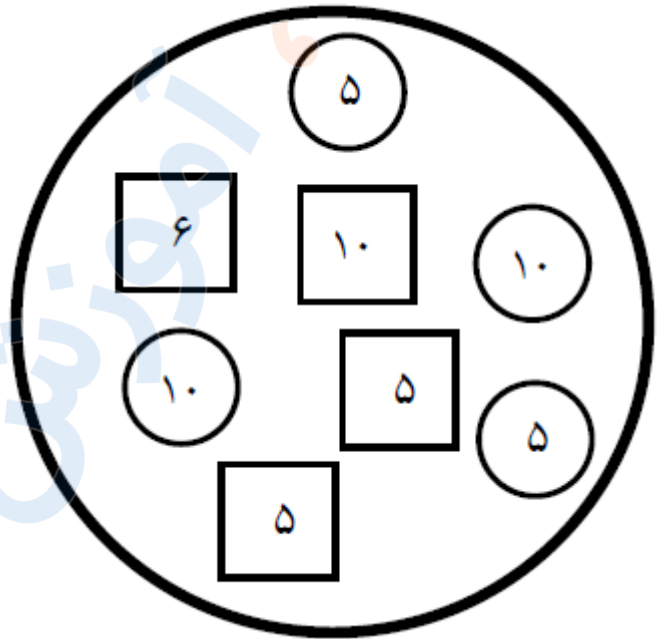


تدریس خصوصی ریاضی به صورت حضوری و آنلاین با دبیران حرفه ای و پیگیری قدرتمند در مدرسه

۸۸۹۰۴۰۰۲ - ۸۸۹۰۶۹۰۹ - ۲۶۵۷۰۸۱۰ - ۴۴۰۲۵۸۶۰

کد تهران ۰۲۱

اختلاف مجموع دایره ها و مربع ها در شکل زیر چند تاست ؟



پاسخ :

$$\textcircled{5} + \textcircled{5} + \textcircled{10} + \textcircled{10} = 30$$

$$\square{10} + \square{5} + \square{5} + \square{6} = 26$$

$$30 - 26 = \square{4}$$





تدریس خصوصی ریاضی به صورت حضوری و آنلاین با دبیران حرفه ای و پیگیری قدرتمند در مدرسه

۸۸۹۰۴۰۰۲ - ۸۸۹۰۶۹۰۹ - ۲۶۵۷۰۸۱۰ - ۴۴۰۲۵۸۶۰

کد تهران ۰۲۱

۱۲.

(۷ نمره)

بزرگترین عدد دو رقمی که فاصله یکان و دهگان آن ۵ باشد کدام است؟

پاسخ :

۹۴

۱۳.

(۷ نمره)

حاصل را به طور تقریبی به دست آورید؟

$$۳۹ \rightarrow \dots$$

$$\underline{+ ۴۵} \rightarrow \dots$$

پاسخ :

$$\begin{array}{r} ۳۹ \rightarrow ۴۰ \\ + ۴۵ \rightarrow + ۵۰ \\ \hline ۹۰ \end{array}$$



تدریس خصوصی ریاضی به صورت حضوری و آنلاین با دبیران حرفه ای و پیگیری قدرتمند در مدرسه

۸۸۹۰۴۰۰۲ - ۸۸۹۰۶۹۰۹ - ۲۶۵۷۰۸۱۰ - ۴۴۰۲۵۸۶۰

کد تهران ۰۲۱

۱۴.

(۷ نمره)

با ارقام ۵، ۴، ۰، ۱ چند عدد دو رقمی می توان نوشت؟


پاسخ:

۹ عدد می توان نوشت.

۱۵.

(۲ نمره)

نام شکل زیر را بنویس و آن را به ۴ قسمت مساوی تقسیم کن. (دبستان سرای دانش الغدیر - تهران ۱۴۰۲)




پاسخ:



تدریس خصوصی ریاضی به صورت حضوری و آنلاین با دبیران حرفه ای و پیگیری قدرتمند در مدرسه

۸۸۹۰۴۰۰۲ - ۸۸۹۰۶۹۰۹ - ۲۶۵۷۰۸۱۰ - ۴۴۰۲۵۸۶۰

کد تهران ۰۲۱



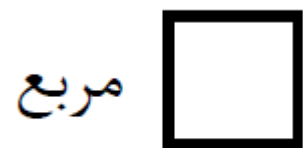
دایره

۱۶ .

(۲ نمره)

اگر ضلع های یک مستطیل برابر شوند چه شکلی حاصل می شود؟

پاسخ :





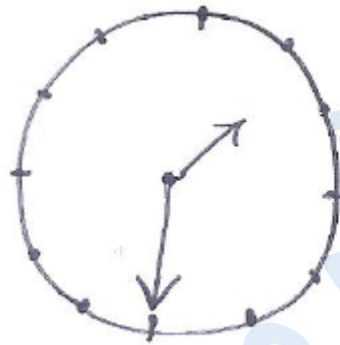
تدریس خصوصی ریاضی به صورت حضوری و آنلاین با دبیران حرفه ای و پیگیری قدرتمند در مدرسه

۸۸۹۰۴۰۰۲ - ۸۸۹۰۶۹۰۹ - ۲۶۵۷۰۸۱۰ - ۴۴۰۲۵۸۶۰

کد تهران ۰۲۱

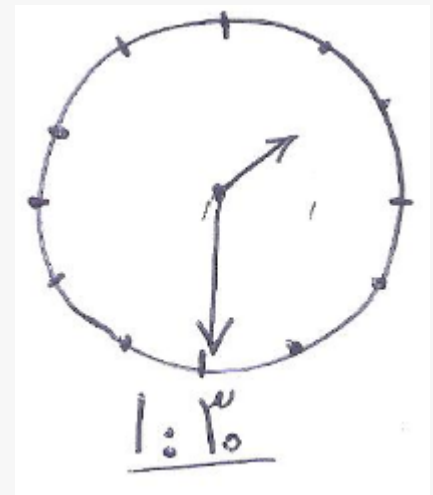
۱۷.

(۲ نمره)



ساعت را بنویسید.

پاسخ:





تدریس خصوصی ریاضی به صورت حضوری و آنلاین با دبیران حرفه ای و پیگیری قدرتمند در مدرسه

۸۸۹۰۴۰۰۲ - ۸۸۹۰۶۹۰۹ - ۲۶۵۷۰۸۱۰ - ۴۴۰۲۵۸۶۰

کد تهران ۰۲۱

۱۸.

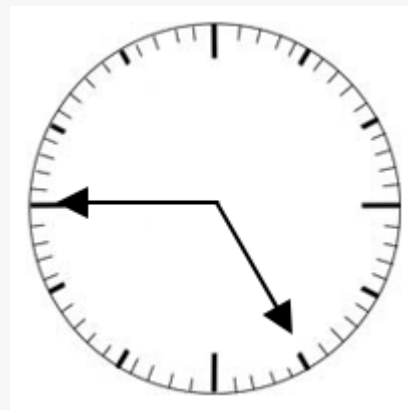
(۷ نمره)

عقربه‌ها رسم کنید.



یک ربع مانده به ساعت ۵

پاسخ:





تدریس خصوصی ریاضی به صورت حضوری و آنلاین با دبیران حرفه ای و پیگیری قدرتمند در مدرسه

۸۸۹۰۴۰۰۲ - ۸۸۹۰۶۹۰۹ - ۲۶۵۷۰۸۱۰ - ۴۴۰۲۵۸۶۰

کد تهران ۰۲۱

۱۹ .

(۶ نمره)

الگوی بعدی در شکل زیر کدام است؟



پاسخ :



۲۰ .

(۷ نمره)

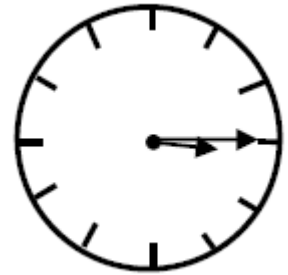


تدریس خصوصی ریاضی به صورت حضوری و آنلاین با دبیران حرفه ای و پیگیری قدرتمند در مدرسه

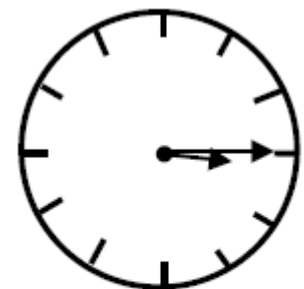
۴۴۰۲۵۸۶۰ - ۲۶۵۷۰۸۱۰ - ۸۸۹۰۶۹۰۹ - ۸۸۹۰۴۰۰۲

کد تهران ۰۲۱

زمانی که این ساعت نشان می دهد به فارسی برابر با کدام گزینه است؟



پاسخ :



سه و ربع

. ۲۱

(۷ نمره)

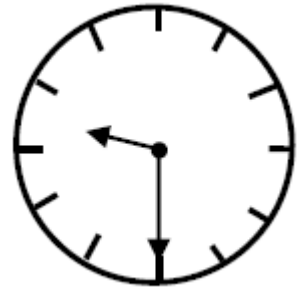


تدریس خصوصی ریاضی به صورت حضوری و آنلاین با دبیران حرفه ای و پیگیری قدرتمند در مدرسه

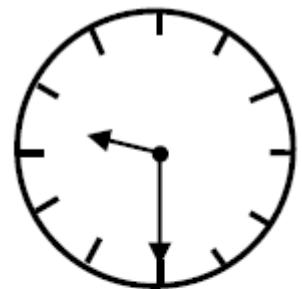
۸۸۹۰۴۰۰۲ - ۸۸۹۰۶۹۰۹ - ۲۶۵۷۰۸۱۰ - ۴۴۰۲۵۸۶۰

کد تهران ۰۲۱

زمانی که این ساعت نشان می دهد به فارسی برابر با کدام گزینه است؟



پاسخ :



نه و نیم