



تدریس خصوصی ریاضی به صورت حضوری و آنلاین با دبیران حرفه ای و پیگیری قدرتمند در مدرسه

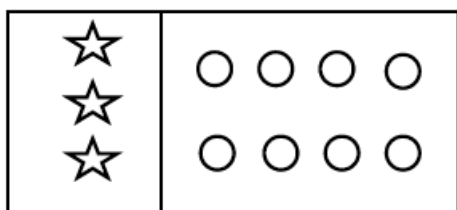
۴۴۰۲۵۸۶۰ - ۲۶۵۷۰۸۱۰ - ۸۸۹۰۶۹۰۹ - ۸۸۹۰۴۰۰۲

کد تهران ۰۲۱

۱.

(۲ نمره)

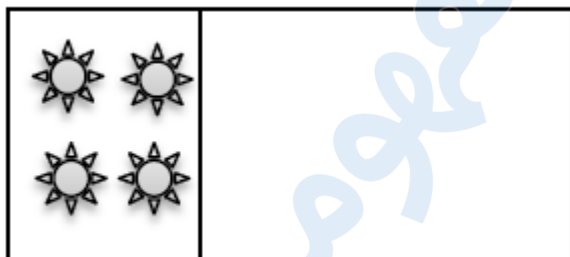
به تعداد شکل‌های سمت چپ، از دایره‌های سمت راست رنگ کن.



۲.

(۲ نمره)

به تعداد شکل‌ها چوب‌خط بکش.



۳.


(۴ نمره)



تدریس خصوصی ریاضی به صورت حضوری و آنلاین با دبیران حرفه ای و پیگیری قدرتمند در مدرسه

۸۸۹۰۴۰۰۲ - ۸۸۹۰۶۹۰۹ - ۲۶۵۷۰۸۱۰ - ۴۴۰۲۵۸۶۰

کد تهران ۰۲۱

به شکل های یکی  اضافه کن و رنگ کن.



. ۴

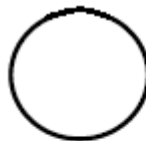
(۴ نمره)

کدام دسته از شکل های زیر الگو هستند؟

. ۵

(۴ نمره)

شکل مناسب را وصل کن.



. ۶

(۲ نمره)

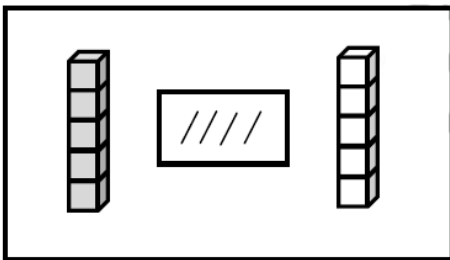


تدریس خصوصی ریاضی به صورت حضوری و آنلاین با دبیران حرفه ای و پیگیری قدرتمند در مدرسه

۴۴۰۲۵۸۶۰ - ۲۶۵۷۰۸۱۰ - ۸۸۹۰۶۹۰۹ - ۸۸۹۰۴۰۰۲

کد تهران ۰۲۱

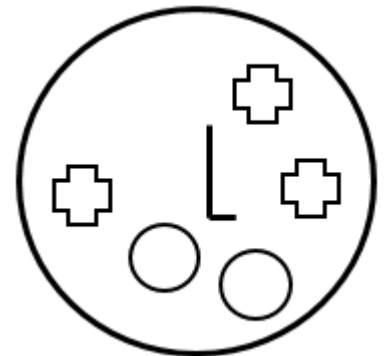
از چینه‌های رنگی به تعداد چوب‌خطها خط بزن. به تعداد باقی‌مانده از چینه‌های سمت راست رنگ کن:



. ۷

(۲ نمره)

شکلی که مشابهی ندارد را مشخص کنید.



. ۸

(۴ نمره)



تدریس خصوصی ریاضی به صورت حضوری و آنلاین با دبیران حرفه ای و پیگیری قدرتمند در مدرسه

۴۴۰۲۵۸۶۰ - ۲۶۵۷۰۸۱۰ - ۸۸۹۰۶۹۰۹ - ۸۸۹۰۴۰۰۲

کد تهران ۰۲۱

با کشیدن چوب خط بگو شکل های سمت راست و چپ با هم چندتا است؟



۹.

(۴ نمره)


در جای خالی مقابل چه عددی قرار می گیرد؟

۱, ۲, — —, ۴, ۵

۱۰.

(۴ نمره)

اگر به تعداد شکل یک واحد اضافه کنیم و مربع ها را رنگ بزنیم کدام گزینه مربع های رنگ زده را نشان می دهد؟





تدریس خصوصی ریاضی به صورت حضوری و آنلاین با دبیران حرفه ای و پیگیری قدرتمند در مدرسه

۴۴۰۲۵۸۶۰ - ۲۶۵۷۰۸۱۰ - ۸۸۹۰۶۹۰۹ - ۸۸۹۰۴۰۰۲

کد تهران ۰۲۱

۱۱.

(۲ نمره)

با رنگ کردن خانه‌های مستطیل جواب دهید.

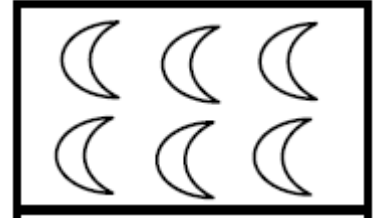
$$۲ + ۴ =$$

| | | | | | | | | | |
|--|--|--|--|--|--|--|--|--|--|
| | | | | | | | | | |
|--|--|--|--|--|--|--|--|--|--|

۱۲.

(۲ نمره)

کدام گزینه عدد ماه‌ها را نشان می‌دهد؟



۱۳.

(۴ نمره)

یک واحد از شکل کم کنید و حاصل را با عدد مشخص کنید.





تدریس خصوصی ریاضی به صورت حضوری و آنلاین با دبیران حرفه ای و پیگیری قدرتمند در مدرسه

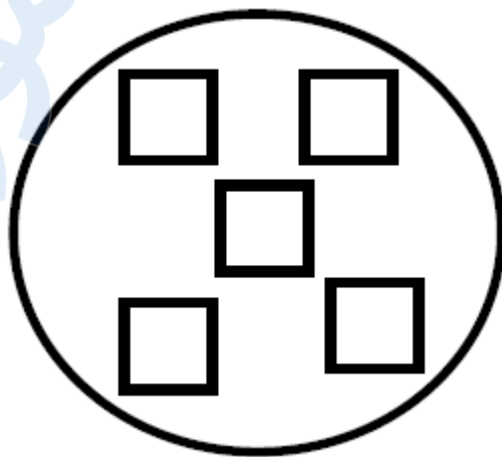
۸۸۹۰۴۰۰۲ - ۸۸۹۰۶۹۰۹ - ۲۶۵۷۰۸۱۰ - ۴۴۰۲۵۸۶۰

کد تهران ۰۲۱

۱۴ .

(۴ نمره)

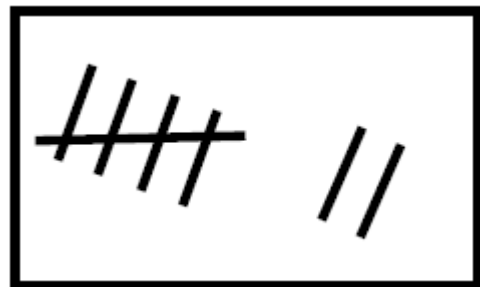
یکی کمتر از عددی که در شکل نشان داده شده است را مشخص کنید.



۱۵ .

(۴ نمره)

عددی که با چوب خط های مقابل برابر است را مشخص کنید.





تدریس خصوصی ریاضی به صورت حضوری و آنلاین با دبیران حرفه ای و پیگیری قدرتمند در مدرسه

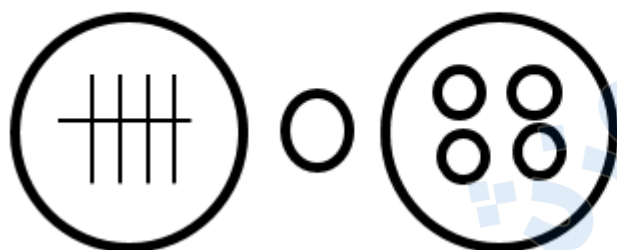
۸۸۹۰۴۰۰۲ - ۸۸۹۰۶۹۰۹ - ۲۶۵۷۰۸۱۰ - ۴۴۰۲۵۸۶۰

کد تهران ۰۲۱

. ۱۶

(۳ نمره)

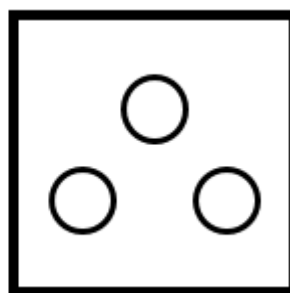
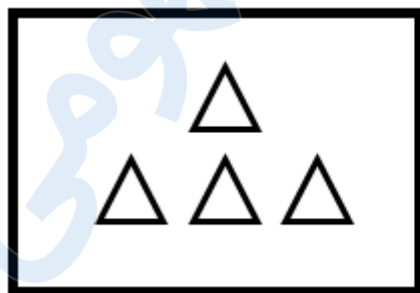
مقایسه کنید. ($\lt \ = \ >$)



. ۱۷

(۲ نمره)

از هر دسته از شکل‌های سمت چپ به اندازه شکل‌های سمت راست کم کنید حاصل آن چند می‌شود؟



=

. ۱۸

(۴ نمره)



تدریس خصوصی ریاضی به صورت حضوری و آنلاین با دبیران حرفه ای و پیگیری قدرتمند در مدرسه

۸۸۹۰۴۰۰۲ - ۸۸۹۰۶۹۰۹ - ۲۶۵۷۰۸۱۰ - ۴۴۰۲۵۸۶۰

کد تهران ۰۲۱

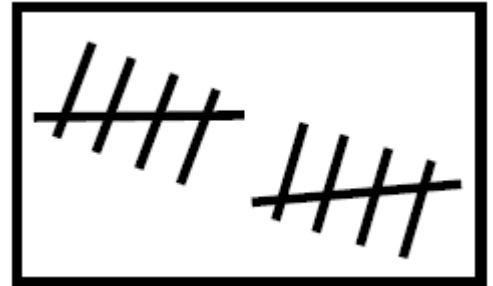
کدام یک از اعداد زیر می تواند در جای خالی قرار بگیرد تا تساوی صحیح باشد؟

$$۸ \text{ () } \dots$$

. ۱۹

(۴ نمره)

عددی که با چوب خط های مقابل برابر است را مشخص کنید.




. ۲۰

(۴ نمره)

اگر به تعداد شکل یک واحد اضافه کنیم و مربع ها را رنگ بزنیم کدام گزینه مربع های رنگ زده را نشان می دهد ؟





تدریس خصوصی ریاضی به صورت حضوری و آنلاین با دبیران حرفه ای و پیگیری قدرتمند در مدرسه

۸۸۹۰۴۰۰۲ - ۸۸۹۰۶۹۰۹ - ۲۶۵۷۰۸۱۰ - ۴۴۰۲۵۸۶۰

کد تهران ۰۲۱

۲۱.

(۲ نمره)

جاهای خالی را پر کنید.

۱۰ - ۲۰ - ۳۰ - - -

۲۲.

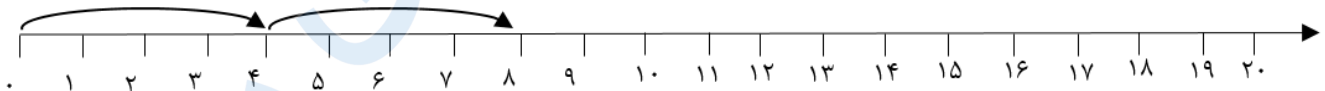
(۲ نمره)

علی ۸ گل دارد یکی بیشتر از گل های او چند تاست؟

۲۳.

(۴ نمره)

مانند نمونه روی محور ادامه بده.



۲۴.

(۴ نمره)



تدریس خصوصی ریاضی به صورت حضوری و آنلاین با دبیران حرفه ای و پیگیری قدرتمند در مدرسه

۸۸۹۰۴۰۰۲ - ۸۸۹۰۶۹۰۹ - ۲۶۵۷۰۸۱۰ - ۴۴۰۲۵۸۶۰

کد تهران ۰۲۱

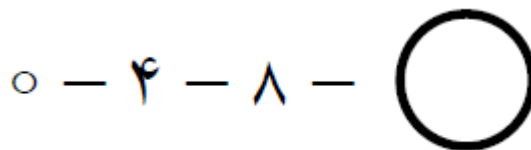
در الگوی مقابل عدد قبل از ۲۴ چه عددی است؟



. ۲۵

(۴ نمره)

عدد بعدی در الگوی زیر چند می شود ؟



. ۲۶

(۳ نمره)

به خط های زیر نگاه کنید:
خط شماره (۱) کوتاه تر از خط شماره است.





تدریس خصوصی ریاضی به صورت حضوری و آنلاین با دبیران حرفه ای و پیگیری قدرتمند در مدرسه

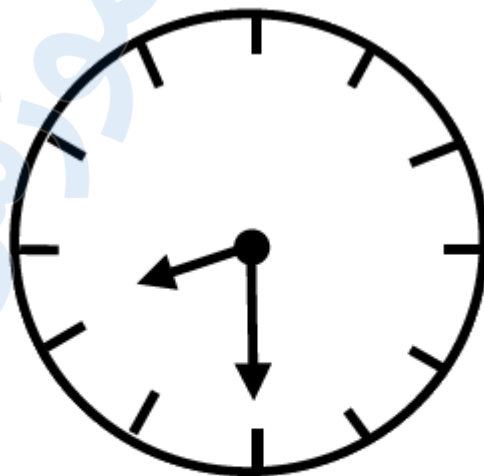
۸۸۹۰۴۰۰۲ - ۸۸۹۰۶۹۰۹ - ۲۶۵۷۰۸۱۰ - ۴۴۰۲۵۸۶۰

کد تهران ۰۲۱

۲۷.

(۴ نمره)

گزینه مناسب برای جای خالی مقابل را انتخاب کنید.



ساعت از گذشته است.

۲۸.

(۴ نمره)

تعداد انگشت های دست و پای دو نفر چند تا است؟

۲۹.

(۴ نمره)



تدریس خصوصی ریاضی به صورت حضوری و آنلاین با دبیران حرفه ای و پیگیری قدرتمند در مدرسه

۸۸۹۰۴۰۰۲ - ۸۸۹۰۶۹۰۹ - ۲۶۵۷۰۸۱۰ - ۴۴۰۲۵۸۶۰

کد تهران ۰۲۱

شکل زیر شامل ده تایی و یکی است.



۳۰.

(۴ نمره)

در یک تنگ ۶ ماهی بود. ۳ ماهی مرده اند. حال در تنگ چند ماهی است؟