



تدریس خصوصی ریاضی به صورت حضوری و آنلاین با دبیران حرفه ای و پیگیری قدرتمند در مدرسه

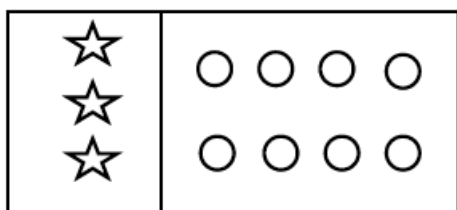
۸۸۹۰۴۰۰۲ - ۸۸۹۰۶۹۰۹ - ۲۶۵۷۰۸۱۰ - ۴۴۰۲۵۸۶۰

کد تهران ۰۲۱

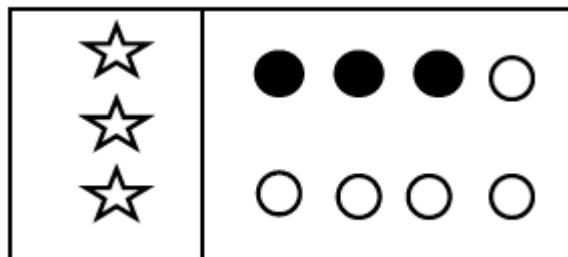
۱.

(۲ نمره)

به تعداد شکل‌های سمت چپ، از دایره‌های سمت راست رنگ کن.




پاسخ :



۲.

(۲ نمره)

به تعداد شکل‌ها چوب‌خط بکش.



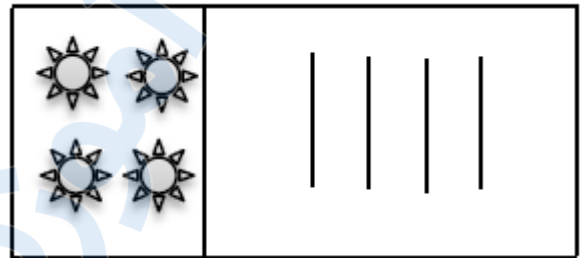


تدریس خصوصی ریاضی به صورت حضوری و آنلاین با دبیران حرفه ای و پیگیری قدرتمند در مدرسه

۴۴۰۲۵۸۶۰ - ۲۶۵۷۰۸۱۰ - ۸۸۹۰۶۹۰۹ - ۸۸۹۰۴۰۰۲

کد تهران ۰۲۱

پاسخ :



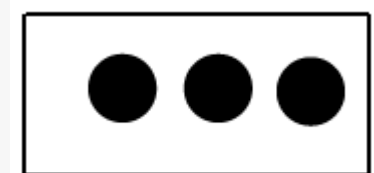
۳ .

(۴ نمره)

به شکل‌های یکی  اضافه کن و رنگ کن.



پاسخ :





تدریس خصوصی ریاضی به صورت حضوری و آنلاین با دبیران حرفه ای و پیگیری قدرتمند در مدرسه

۸۸۹۰۴۰۰۲ - ۸۸۹۰۶۹۰۹ - ۲۶۵۷۰۸۱۰ - ۴۴۰۲۵۸۶۰

کد تهران ۰۲۱

۴ .

(۴ نمره)

کدام دسته از شکل های زیر الگو هستند ؟

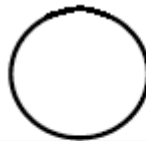
پاسخ :



۵ .

(۴ نمره)

شکل مناسب را وصل کن.



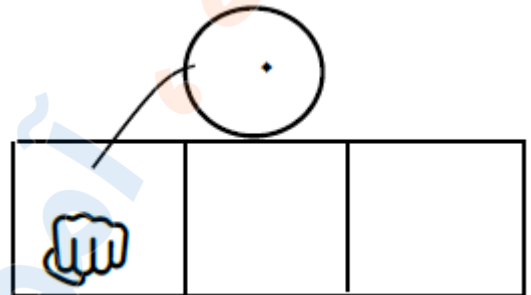
پاسخ :



تدریس خصوصی ریاضی به صورت حضوری و آنلاین با دبیران حرفه ای و پیگیری قدرتمند در مدرسه

۸۸۹۰۴۰۰۲ - ۸۸۹۰۶۹۰۹ - ۲۶۵۷۰۸۱۰ - ۴۴۰۲۵۸۶۰

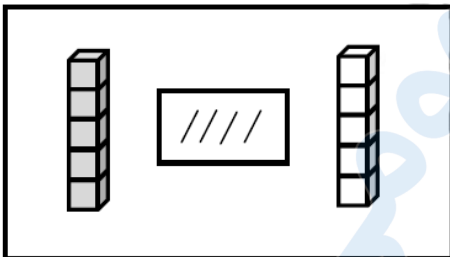
کد تهران ۰۲۱



۶.

(۲ نمره)

از چینه‌های رنگی به تعداد چوب‌خطها خط بزن. به تعداد باقی‌مانده از چینه‌های سمت راست رنگ کن:



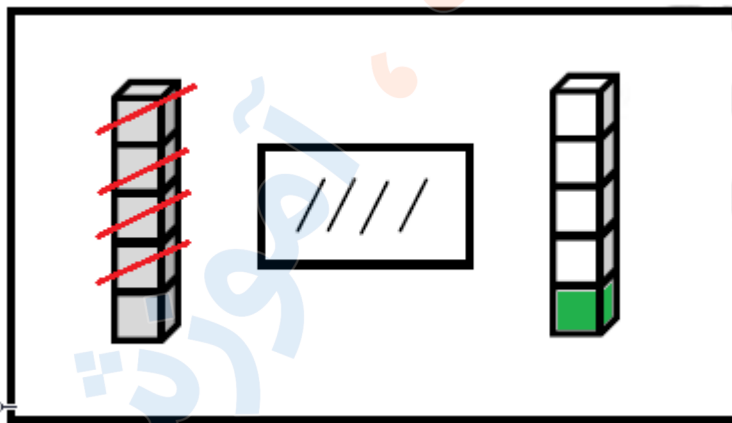
پاسخ :



تدریس خصوصی ریاضی به صورت حضوری و آنلاین با دبیران حرفه ای و پیگیری قدرتمند در مدرسه

۸۸۹۰۴۰۰۲ - ۸۸۹۰۶۹۰۹ - ۲۶۵۷۰۸۱۰ - ۴۴۰۲۵۸۶۰

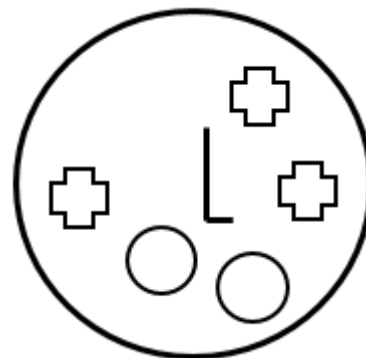
کد تهران ۰۲۱



۷.

(۲ نمره)

شکلی که مشابهی ندارد را مشخص کنید.



پاسخ :



تدریس خصوصی ریاضی به صورت حضوری و آنلاین با دبیران حرفه ای و پیگیری قدرتمند در مدرسه

۸۸۹۰۴۰۰۲ - ۸۸۹۰۶۹۰۹ - ۲۶۵۷۰۸۱۰ - ۴۴۰۲۵۸۶۰

کد تهران ۰۲۱



. ۸

(۴ نمره)

با کشیدن چوب‌خط بگو شکل‌های سمت راست و چپ با هم چقدر است؟



پاسخ :



. ۹

(۴ نمره)



تدریس خصوصی ریاضی به صورت حضوری و آنلاین با دبیران حرفه ای و پیگیری قدرتمند در مدرسه

۸۸۹۰۴۰۰۲ - ۸۸۹۰۶۹۰۹ - ۲۶۵۷۰۸۱۰ - ۴۴۰۲۵۸۶۰

کد تهران ۰۲۱

در جای خالی مقابل چه عددی قرار می گیرد؟


۱, ۲, — —, ۴, ۵

پاسخ:

۱, ۲, ۳, ۴, ۵

(۴ نمره)

اگر به تعداد شکل یک واحد اضافه کنیم و مربع ها را رنگ بزنیم کدام گزینه مربع های رنگ زده را نشان می دهد؟



پاسخ:





تدریس خصوصی ریاضی به صورت حضوری و آنلاین با دبیران حرفه ای و پیگیری قدرتمند در مدرسه

۴۴۰۲۵۸۶۰ - ۲۶۵۷۰۸۱۰ - ۸۸۹۰۶۹۰۹ - ۸۸۹۰۴۰۰۲

کد تهران ۰۲۱

۱۱.

(۲ نمره)

با رنگ کردن خانه‌های مستطیل جواب دهید.

$$۲ + ۴ =$$

--	--	--	--	--	--	--	--	--	--	--	--

پاسخ:

$$۲ + ۴ = ۶$$

--	--	--	--	--	--	--	--	--	--	--	--

۱۲.

(۲ نمره)

کدام گزینه عدد ماه‌ها را نشان می‌دهد؟





تدریس خصوصی ریاضی به صورت حضوری و آنلاین با دبیران حرفه ای و پیگیری قدرتمند در مدرسه

۴۴۰۲۵۸۶۰ - ۲۶۵۷۰۸۱۰ - ۸۸۹۰۶۹۰۹ - ۸۸۹۰۴۰۰۲

کد تهران ۰۲۱

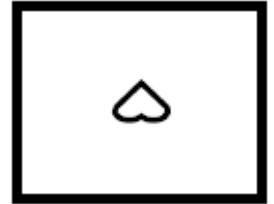
پاسخ :

۶

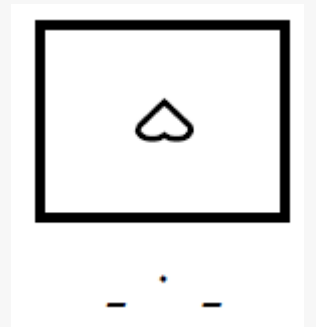
۱۳ .

(۴ نمره)

یک واحد از شکل کم کنید و حاصل را با عدد مشخص کنید.



پاسخ :



۱۴ .



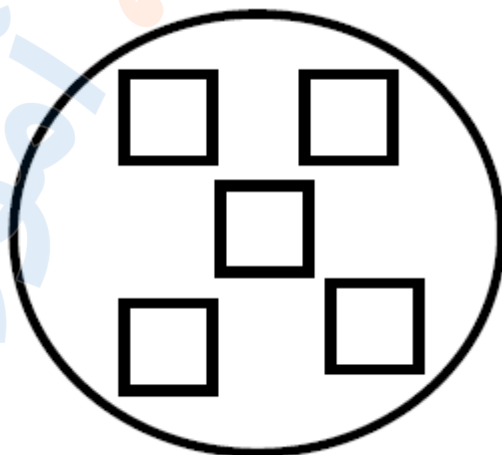
تدریس خصوصی ریاضی به صورت حضوری و آنلاین با دبیران حرفه ای و پیگیری قدرتمند در مدرسه

۴۴۰۲۵۸۶۰ - ۲۶۵۷۰۸۱۰ - ۸۸۹۰۶۹۰۹ - ۸۸۹۰۴۰۰۲

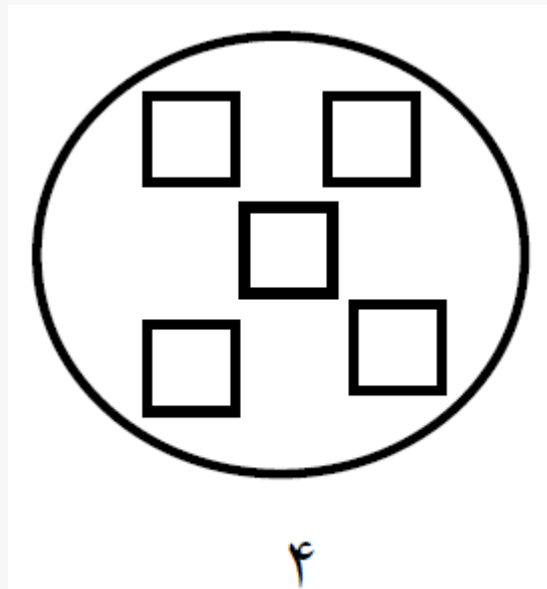
کد تهران ۰۲۱

(۴ نمره)

یکی کمتر از عددی که در شکل نشان داده شده است را مشخص کنید.



پاسخ :





تدریس خصوصی ریاضی به صورت حضوری و آنلاین با دبیران حرفه ای و پیگیری قدرتمند در مدرسه

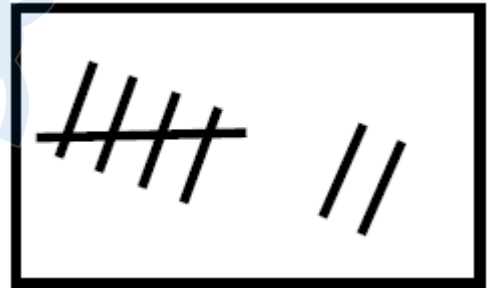
۴۴۰۲۵۸۶۰ - ۲۶۵۷۰۸۱۰ - ۸۸۹۰۶۹۰۹ - ۸۸۹۰۴۰۰۲

کد تهران ۰۲۱

۱۵.

(۴ نمره)

عددی که با چوب خط های مقابل برابر است را مشخص کنید.



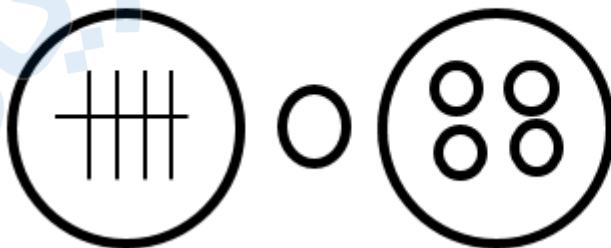
پاسخ:

۷

۱۶.

(۳ نمره)

مقایسه کنید. ($\lt \ = \ \gt$)



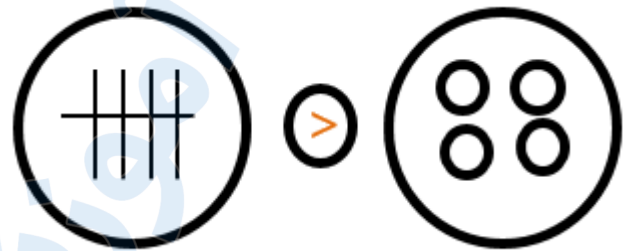


تدریس خصوصی ریاضی به صورت حضوری و آنلاین با دبیران حرفه ای و پیگیری قدرتمند در مدرسه

۸۸۹۰۴۰۰۲ - ۸۸۹۰۶۹۰۹ - ۲۶۵۷۰۸۱۰ - ۴۴۰۲۵۸۶۰

کد تهران ۰۲۱

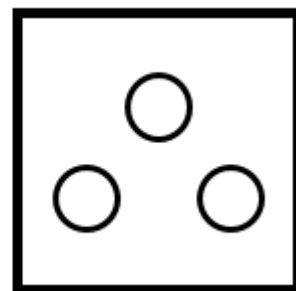

پاسخ :



. ۱۷

(۲ نمره)

از هر دسته از شکل‌های سمت چپ به اندازه شکل‌های سمت راست کم کنید حاصل آن چند می‌شود؟



=

پاسخ :

$$۴ - ۳ = ۱$$



تدریس خصوصی ریاضی به صورت حضوری و آنلاین با دبیران حرفه ای و پیگیری قدرتمند در مدرسه

۴۴۰۲۵۸۶۰ - ۲۶۵۷۰۸۱۰ - ۸۸۹۰۶۹۰۹ - ۸۸۹۰۴۰۰۲

کد تهران ۰۲۱

۱۸.

(۴ نمره)

کدام یک از اعداد زیر می تواند در جای خالی قرار بگیرد تا تساوی صحیح باشد؟

$$۸ \text{ () } \dots$$

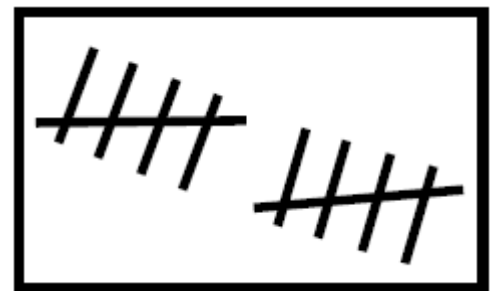
پاسخ :

$$۸ < ۱۲$$

۱۹.

(۴ نمره)

عددی که با چوب خط های مقابل برابر است را مشخص کنید.



پاسخ :

۱۰



تدریس خصوصی ریاضی به صورت حضوری و آنلاین با دبیران حرفه ای و پیگیری قدرتمند در مدرسه


۴۴۰۲۵۸۶۰ - ۲۶۵۷۰۸۱۰ - ۸۸۹۰۶۹۰۹ - ۸۸۹۰۴۰۰۲

کد تهران ۰۲۱

۲۰.

(۴ نمره)

اگر به تعداد شکل یک واحد اضافه کنیم و مربع ها را رنگ بزنیم کدام گزینه مربع های رنگ زده را نشان می دهد ؟



پاسخ :



$$4 + 1 = 5$$

۲۱.

(۲ نمره)

جاهای خالی را پر کنید.

۱۰ - ۲۰ - ۳۰ - - -



تدریس خصوصی ریاضی به صورت حضوری و آنلاین با دبیران حرفه ای و پیگیری قدرتمند در مدرسه

۴۴۰۲۵۸۶۰ - ۲۶۵۷۰۸۱۰ - ۸۸۹۰۶۹۰۹ - ۸۸۹۰۴۰۰۲

کد تهران ۰۲۱

پاسخ :

۱۰ - ۲۰ - ۳۰ - ۴۰ - ۵۰ - ۶۰ - ۷۰ - ۸۰ - ۹۰

. ۲۲

(۲ نمره)

علی ۸ گل دارد یکی بیشتر از گل های او چند تاست؟

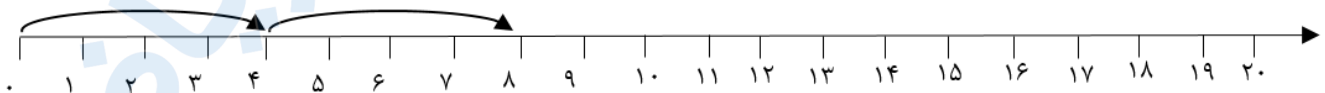
پاسخ :

۹

. ۲۳

(۴ نمره)

مانند نمونه روی محور ادامه بده.



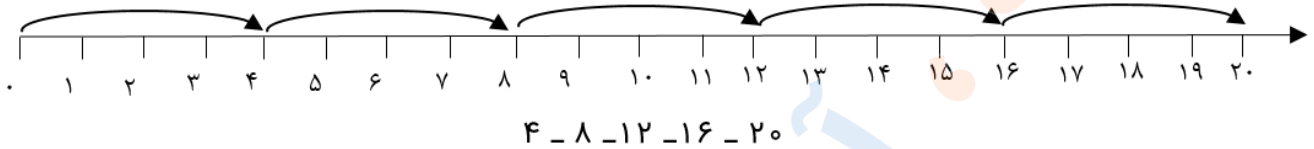
پاسخ :



تدریس خصوصی ریاضی به صورت حضوری و آنلاین با دبیران حرفه ای و پیگیری قدرتمند در مدرسه

۸۸۹۰۴۰۰۲ - ۸۸۹۰۶۹۰۹ - ۲۶۵۷۰۸۱۰ - ۴۴۰۲۵۸۶۰


کد تهران ۰۲۱



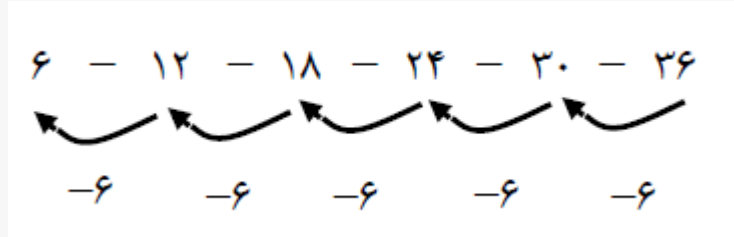
. ۲۴

(۴ نمره)

در الگوی مقابل عدد قبل از ۲۴ چه عددی است؟



پاسخ :



. ۲۵

(۴ نمره)



تدریس خصوصی ریاضی به صورت حضوری و آنلاین با دبیران حرفه ای و پیگیری قدرتمند در مدرسه

۸۸۹۰۴۰۰۲ - ۸۸۹۰۶۹۰۹ - ۲۶۵۷۰۸۱۰ - ۴۴۰۲۵۸۶۰

کد تهران ۰۲۱

عدد بعدی در الگوی زیر چند می شود ؟

$$0 - 4 - 8 - \bigcirc$$

پاسخ :

$$0 - 4 - 8 - \bigcirc$$

+4 +4 +4

↗ ↗ ↗

(۱۲)

۲۶ .

(۳ نمره)

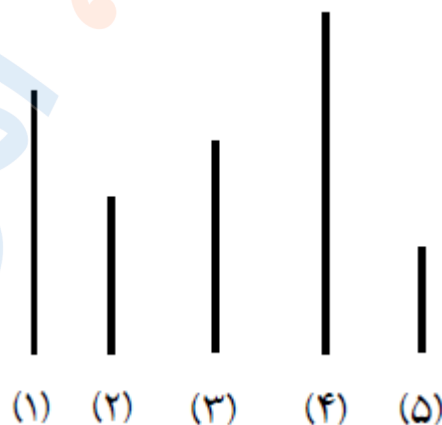


تدریس خصوصی ریاضی به صورت حضوری و آنلاین با دبیران حرفه ای و پیگیری قدرتمند در مدرسه

۸۸۹۰۴۰۰۲ - ۸۸۹۰۶۹۰۹ - ۲۶۵۷۰۸۱۰ - ۴۴۰۲۵۸۶۰

کد تهران ۰۲۱

به خط های زیر نگاه کنید:
خط شماره (۱) کوتاه تر از خط شماره است.



پاسخ :

۴

. ۲۷

(۴ نمره)

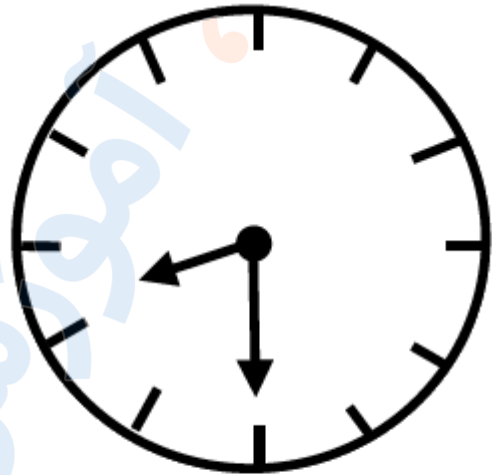


تدریس خصوصی ریاضی به صورت حضوری و آنلاین با دبیران حرفه ای و پیگیری قدرتمند در مدرسه

۴۴۰۲۵۸۶۰ - ۲۶۵۷۰۸۱۰ - ۸۸۹۰۶۹۰۹ - ۸۸۹۰۴۰۰۲

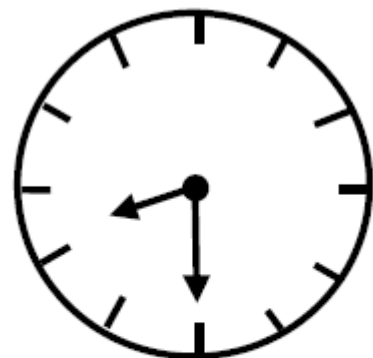
کد تهران ۰۲۱

گزینه مناسب برای جای خالی مقابل را انتخاب کنید.



ساعت از گذشته است.

پاسخ :



ساعت از گذشته است.



تدریس خصوصی ریاضی به صورت حضوری و آنلاین با دبیران حرفه ای و پیگیری قدرتمند در مدرسه

۴۴۰۲۵۸۶۰ - ۲۶۵۷۰۸۱۰ - ۸۸۹۰۶۹۰۹ - ۸۸۹۰۴۰۰۲

کد تهران ۰۲۱

۲۸.

(۴ نمره)

تعداد انگشت های دست و پای دو نفر چند تا است؟


پاسخ:

۴۰

۲۹.

(۴ نمره)

شکل زیر شامل ده تایی و یکی است.



پاسخ:

ده تایی	یکی
۵	۰

عدد: ۵۰



تدریس خصوصی ریاضی به صورت حضوری و آنلاین با دبیران حرفه ای و پیگیری قدرتمند در مدرسه

۸۸۹۰۴۰۰۲ - ۸۸۹۰۶۹۰۹ - ۲۶۵۷۰۸۱۰ - ۴۴۰۲۵۸۶۰

کد تهران ۰۲۱

. ۳۰

(۴ نمره)

در یک تنگ ۶ ماهی بود. ۳ ماهی مرده اند. حال در تنگ چند ماهی است؟

پاسخ :

$$۶ - ۳ = ۳$$