



تدریس خصوصی ریاضی به صورت حضوری و آنلاین با دبیران حرفه ای و پیگیری قدرتمند در مدرسه

۴۴۰۲۵۸۶۰ - ۲۶۵۷۰۸۱۰ - ۸۸۹۰۶۹۰۹ - ۸۸۹۰۴۰۰۲

کد تهران ۰۲۱

۱.

(۴ نمره)

با توجه به تعداد چوب خط ها، گزینه صحیح را انتخاب کنید.

۲.

(۴ نمره)

ادامه بده



۳.

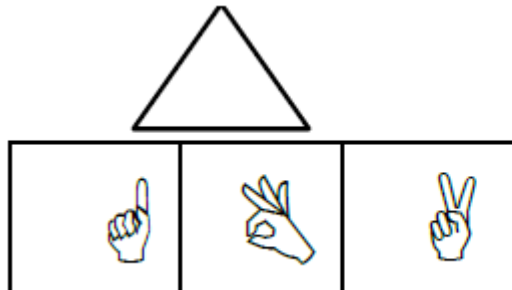
(۶ نمره)

کدام دسته از شکل های زیر الگو هستند؟

۴.

(۶ نمره)

شکل مناسب را وصل کن.





تدریس خصوصی ریاضی به صورت حضوری و آنلاین با دبیران حرفه ای و پیگیری قدرتمند در مدرسه

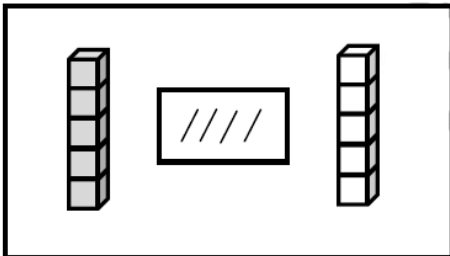
۴۴۰۲۵۸۶۰ - ۲۶۵۷۰۸۱۰ - ۸۸۹۰۶۹۰۹ - ۸۸۹۰۴۰۰۲

کد تهران ۰۲۱

۵.

(۴ نمره)

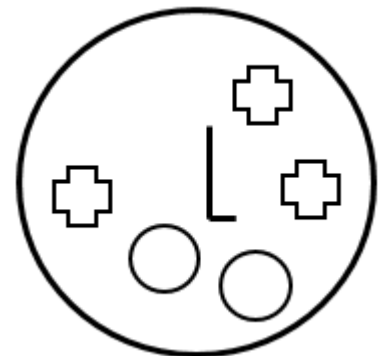
از چینه‌های رنگی به تعداد چوب‌خطها خط بزن. به تعداد باقی‌مانده از چینه‌های سمت راست رنگ کن:



۶.

(۴ نمره)

شکلی که مشابهی ندارد را مشخص کنید.



۷.

(۶ نمره)




تدریس خصوصی ریاضی به صورت حضوری و آنلاین با دبیران حرفه ای و پیگیری قدرتمند در مدرسه

۴۴۰۲۵۸۶۰ - ۲۶۵۷۰۸۱۰ - ۸۸۹۰۶۹۰۹ - ۸۸۹۰۴۰۰۲

کد تهران ۰۲۱

اگر به تعداد شکل یک واحد اضافه کنیم و مربع ها را رنگ بزنیم کدام گزینه مربع های رنگ زده را نشان می دهد؟



۸.

(۶ نمره)

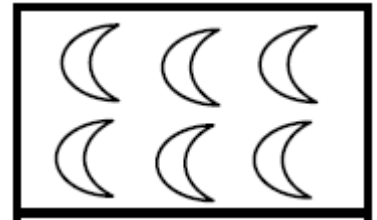
در جای خالی مقابل چه عددی قرار می گیرد؟

۱, ۲, — —, ۴, ۵

۹.

(۴ نمره)

کدام گزینه عدد ماهها را نشان می دهد؟





تدریس خصوصی ریاضی به صورت حضوری و آنلاین با دبیران حرفه ای و پیگیری قدرتمند در مدرسه

۴۴۰۲۵۸۶۰ - ۲۶۵۷۰۸۱۰ - ۸۸۹۰۶۹۰۹ - ۸۸۹۰۴۰۰۲

کد تهران ۰۲۱

. ۱۰

(۴ نمره)

با رنگ کردن خانه‌های مستطیل جواب دهید.

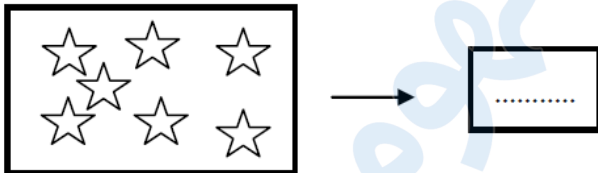
$$۲ + ۴ =$$

--	--	--	--	--	--	--	--	--	--

. ۱۱

(۶ نمره)

عددی بنویسید که ۴ تا کمتر از ستاره‌ها باشد؟



. ۱۲

(۶ نمره)

مقایسه کنید.

$$۴ \square ۰ + ۴$$



تدریس خصوصی ریاضی به صورت حضوری و آنلاین با دبیران حرفه ای و پیگیری قدرتمند در مدرسه

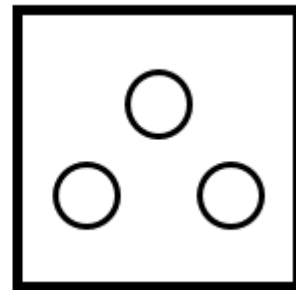
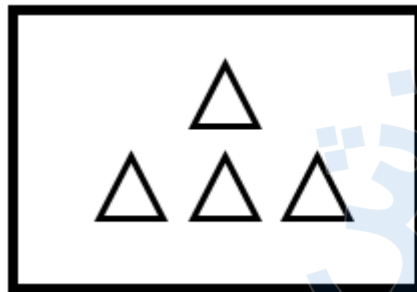
۴۴۰۲۵۸۶۰ - ۲۶۵۷۰۸۱۰ - ۸۸۹۰۶۹۰۹ - ۸۸۹۰۴۰۰۲

کد تهران ۰۲۱

۱۳.

(۴ نمره)

از هر دسته از شکل‌های سمت چپ به اندازه شکل‌های سمت راست کم کنید حاصل آن چند می‌شود؟




=

۱۴.

(۴ نمره)

کدام گزینه تعداد قلب‌ها را نشان می‌دهد؟



۱۵.

(۶ نمره)



تدریس خصوصی ریاضی به صورت حضوری و آنلاین با دبیران حرفه ای و پیگیری قدرتمند در مدرسه

۴۴۰۲۵۸۶۰ - ۲۶۵۷۰۸۱۰ - ۸۸۹۰۶۹۰۹ - ۸۸۹۰۴۰۰۲

کد تهران ۰۲۱

عددی که با چوب خط های مقابل برابر است را مشخص کنید.



۱۶.

(۶ نمره)

حاصل عبارت زیر برابر با کدام عدد است؟
 $7 + 2 = \dots$

۱۷.

(۴ نمره)

جاهای خالی را پر کنید.

۱۰ - ۲۰ - ۳۰ - - -

۱۸.

(۴ نمره)

علی ۸ گل دارد یکی بیشتر از گل های او چند تاست؟



تدریس خصوصی ریاضی به صورت حضوری و آنلاین با دبیران حرفه ای و پیگیری قدرتمند در مدرسه

۴۴۰۲۵۸۶۰ - ۲۶۵۷۰۸۱۰ - ۸۸۹۰۶۹۰۹ - ۸۸۹۰۴۰۰۲

کد تهران ۰۲۱

۱۹.

(۶ نمره)

مانند الگو ادامه بده.



۲۰.

(۶ نمره)

مریم خانم و همسرشان ۳ نفر مهمان دارند. چند بشقاب برای شام باید روی میز بگذارند؟