



تدریس خصوصی ریاضی به صورت حضوری و آنلاین با دبیران حرفه ای و پیگیری قدرتمند در مدرسه

۴۴۰۲۵۸۶۰ - ۲۶۵۷۰۸۱۰ - ۸۸۹۰۶۹۰۹ - ۸۸۹۰۴۰۰۲

کد تهران ۰۲۱

۱.

(۴ نمره)

با توجه به تعداد چوب خط ها، گزینه صحیح را انتخاب کنید.

پاسخ :



۲.

(۴ نمره)

ادامه بده



پاسخ :



۳.



تدریس خصوصی ریاضی به صورت حضوری و آنلاین با دبیران حرفه ای و پیگیری قدرتمند در مدرسه

۸۸۹۰۴۰۰۲ - ۸۸۹۰۶۹۰۹ - ۲۶۵۷۰۸۱۰ - ۴۴۰۲۵۸۶۰

کد تهران ۰۲۱

(۶ نمره)

کدام دسته از شکل های زیر الگو هستند ؟

پاسخ :



. ۴

(۶ نمره)



شکل مناسب را وصل کن.

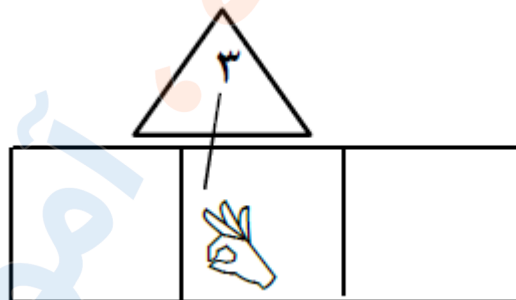
پاسخ :



تدریس خصوصی ریاضی به صورت حضوری و آنلاین با دبیران حرفه ای و پیگیری قدرتمند در مدرسه

۸۸۹۰۴۰۰۲ - ۸۸۹۰۶۹۰۹ - ۲۶۵۷۰۸۱۰ - ۴۴۰۲۵۸۶۰

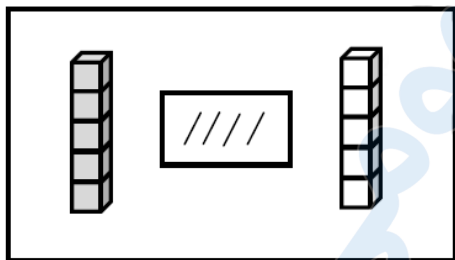
کد تهران ۰۲۱



۵.

(۴ نمره)

از چینه‌های رنگی به تعداد چوب‌خط‌ها خط بزن. به تعداد باقی‌مانده از چینه‌های سمت راست رنگ کن:



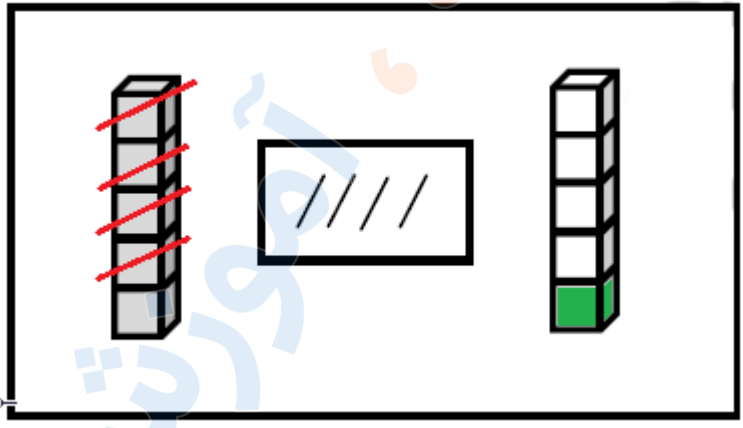
پاسخ:



تدریس خصوصی ریاضی به صورت حضوری و آنلاین با دبیران حرفه ای و پیگیری قدرتمند در مدرسه

۸۸۹۰۴۰۰۲ - ۸۸۹۰۶۹۰۹ - ۲۶۵۷۰۸۱۰ - ۴۴۰۲۵۸۶۰

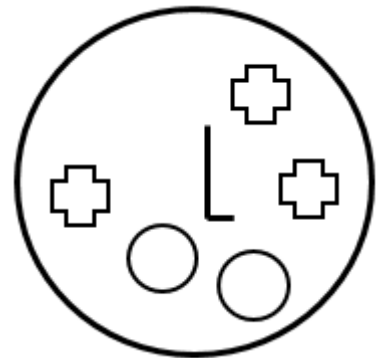
کد تهران ۰۲۱



۶.

(۴ نمره)

شکلی که مشابهی ندارد را مشخص کنید.



پاسخ :



تدریس خصوصی ریاضی به صورت حضوری و آنلاین با دبیران حرفه ای و پیگیری قدرتمند در مدرسه

۴۴۰۲۵۸۶۰ - ۲۶۵۷۰۸۱۰ - ۸۸۹۰۶۹۰۹ - ۸۸۹۰۴۰۰۲


کد تهران ۰۲۱



. ۷

(۶ نمره)

اگر به تعداد شکل یک واحد اضافه کنیم و مربع ها را رنگ بزنیم کدام گزینه مربع های رنگ زده را نشان می دهد ؟



پاسخ :



. ۸

(۶ نمره)



تدریس خصوصی ریاضی به صورت حضوری و آنلاین با دبیران حرفه ای و پیگیری قدرتمند در مدرسه

۴۴۰۲۵۸۶۰ - ۲۶۵۷۰۸۱۰ - ۸۸۹۰۶۹۰۹ - ۸۸۹۰۴۰۰۲

کد تهران ۰۲۱

در جای خالی مقابل چه عددی قرار می گیرد؟

۱, ۲, — —, ۴, ۵

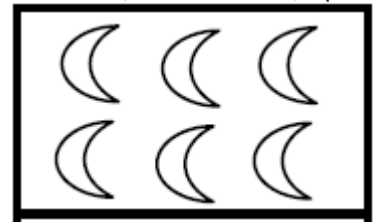
پاسخ:

۱, ۲, ۳, ۴, ۵

۹.

(۴ نمره)

کدام گزینه عدد ماهها را نشان می دهد؟



پاسخ:

۶

۱۰.

(۴ نمره)



تدریس خصوصی ریاضی به صورت حضوری و آنلاین با دبیران حرفه ای و پیگیری قدرتمند در مدرسه

۴۴۰۲۵۸۶۰ - ۲۶۵۷۰۸۱۰ - ۸۸۹۰۶۹۰۹ - ۸۸۹۰۴۰۰۲

کد تهران ۰۲۱

با رنگ کردن خانه‌های مستطیل جواب دهید.

$$۲ + ۴ =$$

--	--	--	--	--	--	--	--	--	--

پاسخ :

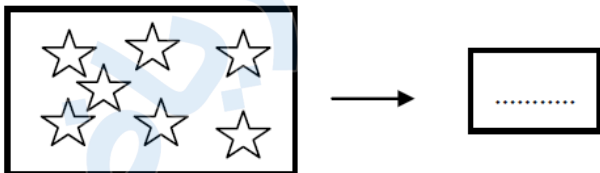
$$۲ + ۴ = ۶$$

--	--	--	--	--	--	--	--	--	--

. ۱۱

(۶ نمره)

عددی بنویسید که ۴ تا کمتر از ستاره‌ها باشد؟




پاسخ :



تدریس خصوصی ریاضی به صورت حضوری و آنلاین با دبیران حرفه ای و پیگیری قدرتمند در مدرسه

۴۴۰۲۵۸۶۰ - ۲۶۵۷۰۸۱۰ - ۸۸۹۰۶۹۰۹ - ۸۸۹۰۴۰۰۲

کد تهران ۰۲۱



۱۲.

(۶ نمره)

مقایسه کنید.

$$۴ \square \circ + ۴$$

پاسخ:

$$۴ \square = \circ + ۴$$

۱۳.

(۴ نمره)



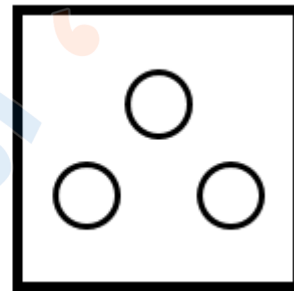
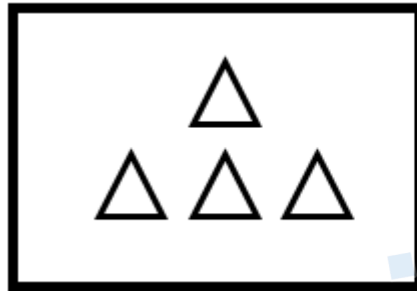


تدریس خصوصی ریاضی به صورت حضوری و آنلاین با دبیران حرفه ای و پیگیری قدرتمند در مدرسه

۸۸۹۰۴۰۰۲ - ۸۸۹۰۶۹۰۹ - ۲۶۵۷۰۸۱۰ - ۴۴۰۲۵۸۶۰

کد تهران ۰۲۱

از هر دسته از شکل‌های سمت چپ به اندازه شکل‌های سمت راست کم کنید حاصل آن چند می‌شود؟



=

پاسخ:

$$۴ - ۳ = ۱$$

۱۴.

(۴ نمره)

کدام گزینه تعداد قلب‌ها را نشان می‌دهد؟



پاسخ:

۹



تدریس خصوصی ریاضی به صورت حضوری و آنلاین با دبیران حرفه ای و پیگیری قدرتمند در مدرسه

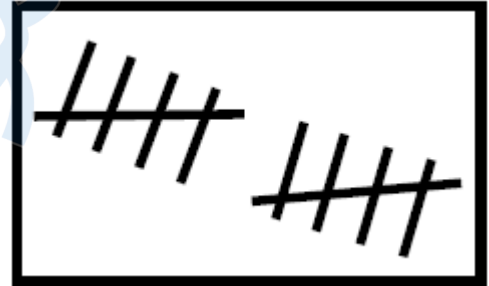
۴۴۰۲۵۸۶۰ - ۲۶۵۷۰۸۱۰ - ۸۸۹۰۶۹۰۹ - ۸۸۹۰۴۰۰۲

کد تهران ۰۲۱

۱۵ .

(۶ نمره)

عددی که با چوب خط های مقابل برابر است را مشخص کنید.



پاسخ :

۱۰

۱۶ .

(۶ نمره)

حاصل عبارت زیر برابر با کدام عدد است ؟

$$7 + 2 = \dots$$

پاسخ :

$$7 + 2 = 9$$



تدریس خصوصی ریاضی به صورت حضوری و آنلاین با دبیران حرفه ای و پیگیری قدرتمند در مدرسه

۴۴۰۲۵۸۶۰ - ۲۶۵۷۰۸۱۰ - ۸۸۹۰۶۹۰۹ - ۸۸۹۰۴۰۰۲

کد تهران ۰۲۱

۱۷.

(۴ نمره)

جاهای خالی را پر کنید.

۱۰ - ۲۰ - ۳۰ - ..... - ..... - .....

پاسخ :

۱۰ - ۲۰ - ۳۰ - ۴۰ - ۵۰ - ۶۰ - ۷۰ - ۸۰ - ۹۰

۱۸.

(۴ نمره)

علی ۸ گل دارد یکی بیشتر از گل های او چند تاست؟

پاسخ :

۹

۱۹.

(۶ نمره)



تدریس خصوصی ریاضی به صورت حضوری و آنلاین با دبیران حرفه ای و پیگیری قدرتمند در مدرسه

۴۴۰۲۵۸۶۰ - ۲۶۵۷۰۸۱۰ - ۸۸۹۰۶۹۰۹ - ۸۸۹۰۴۰۰۲

کد تهران ۰۲۱

مانند الگو ادامه بده.



پاسخ :



۲۰ .

(۶ نمره)

مریم خانم و همسرشان ۳ نفر مهمان دارند. چند بشقاب برای شام باید روی میز بگذارند؟

پاسخ :

۵ عدد بشقاب برای مریم خانم و همسرشان و ۳ نفر مهمان لازم است.