



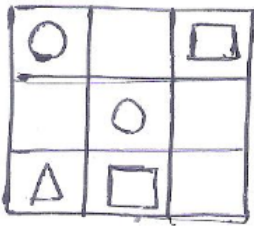
تدریس خصوصی ریاضی به صورت حضوری و آنلاین با دبیران حرفه ای و پیگیری قدرتمند در مدرسه

۴۴۰۲۵۸۶۰ - ۲۶۵۷۰۸۱۰ - ۸۸۹۰۶۹۰۹ - ۸۸۹۰۴۰۰۲

کد تهران ۰۲۱

۱.


(۲ نمره)



در هم ردیف یکی از شکل های  $\square$ ،  $\Delta$ ،  $\circ$  یا  $\square$  باشد.

۲.

(۲ نمره)



به تعداد شکل ها چوب خط بکش.

۳.

(۲ نمره)

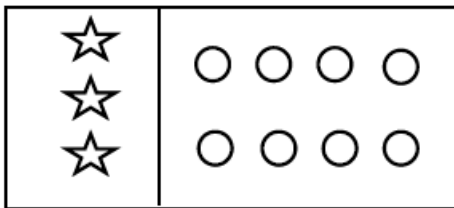


تدریس خصوصی ریاضی به صورت حضوری و آنلاین با دبیران حرفه ای و پیگیری قدرتمند در مدرسه

۸۸۹۰۴۰۰۲ - ۸۸۹۰۶۹۰۹ - ۲۶۵۷۰۸۱۰ - ۴۴۰۲۵۸۶۰

کد تهران ۰۲۱

به تعداد شکل های سمت چپ، از دایره های سمت راست رنگ کن.



. ۴


(۶ نمره)

شکل های قبل و بعد را بکش.



. ۵

(۶ نمره)

به شکل ها دو تا  اضافه کن و چوب خط بکش.



. ۶

(۶ نمره)



تدریس خصوصی ریاضی به صورت حضوری و آنلاین با دبیران حرفه ای و پیگیری قدرتمند در مدرسه

۴۴۰۲۵۸۶۰ - ۲۶۵۷۰۸۱۰ - ۸۸۹۰۶۹۰۹ - ۸۸۹۰۴۰۰۲

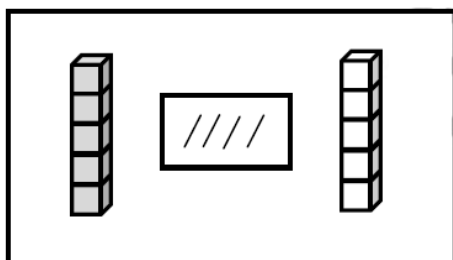
کد تهران ۰۲۱

۴ انگشت از دست راست و ۲ انگشت از دست چپ را باز کرده ایم. حاصل چند است؟

. ۷

(۲ نمره)

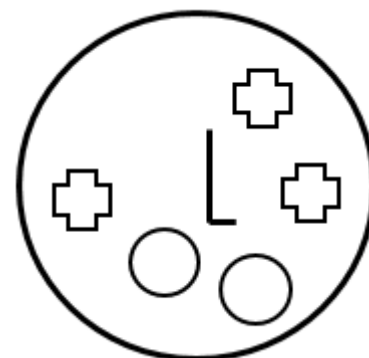
از چینه‌های رنگی به تعداد چوب‌خطها خط بزن. به تعداد باقی‌مانده از چینه‌های سمت راست رنگ کن:



. ۸

(۲ نمره)

شکلی که مشابهی ندارد را مشخص کنید.





تدریس خصوصی ریاضی به صورت حضوری و آنلاین با دبیران حرفه ای و پیگیری قدرتمند در مدرسه

۴۴۰۲۵۸۶۰ - ۲۶۵۷۰۸۱۰ - ۸۸۹۰۶۹۰۹ - ۸۸۹۰۴۰۰۲

کد تهران ۰۲۱

۹.

(۶ نمره)

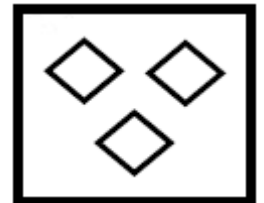
با کشیدن چوب‌خط بگو شکل‌های سمت راست و چپ با هم چقدر است؟



۱۰.

(۶ نمره)

یک واحد از شکل کم کنید و حاصل را با عدد مشخص کنید.



۱۱.

(۶ نمره)

اگر به اندازه چوب‌خط‌ها از دایره‌ها خط بزنید، حاصل چند دایره است؟





تدریس خصوصی ریاضی به صورت حضوری و آنلاین با دبیران حرفه ای و پیگیری قدرتمند در مدرسه

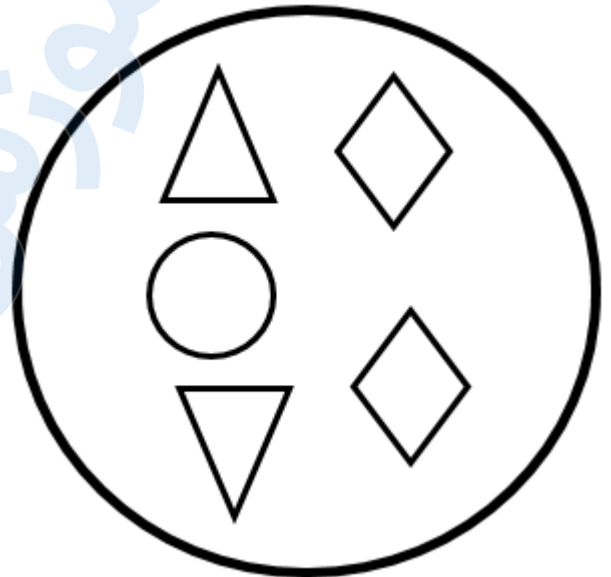
۴۴۰۲۵۸۶۰ - ۲۶۵۷۰۸۱۰ - ۸۸۹۰۶۹۰۹ - ۸۸۹۰۴۰۰۲

کد تهران ۰۲۱

۱۲.

(۶ نمره)

شکلی که مشابهی ندارد را مشخص کنید.



۱۳.

(۲ نمره)

مقایسه کنید. ( $\lt \Rightarrow$ )

$$۳ \square ۵$$



تدریس خصوصی ریاضی به صورت حضوری و آنلاین با دبیران حرفه ای و پیگیری قدرتمند در مدرسه

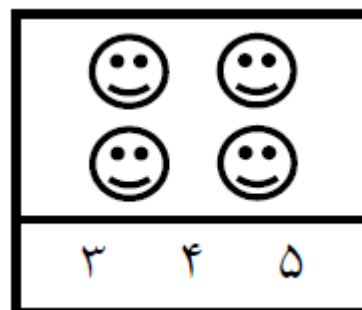
۸۸۹۰۴۰۰۲ - ۸۸۹۰۶۹۰۹ - ۲۶۵۷۰۸۱۰ - ۴۴۰۲۵۸۶۰

کد تهران ۰۲۱

۱۴.

(۲ نمره)

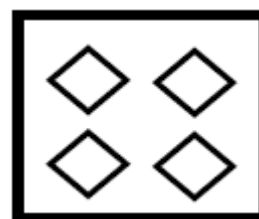
دور عدد درست خط بکش.



۱۵.

(۲ نمره)

عدد مناسب برای شکل مقابل را انتخاب کنید.



۱۶.

(۶ نمره)



تدریس خصوصی ریاضی به صورت حضوری و آنلاین با دبیران حرفه ای و پیگیری قدرتمند در مدرسه

۸۸۹۰۴۰۰۲ - ۸۸۹۰۶۹۰۹ - ۲۶۵۷۰۸۱۰ - ۴۴۰۲۵۸۶۰

کد تهران ۰۲۱

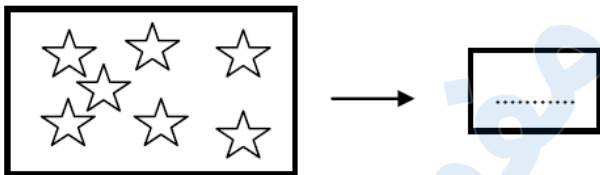
مقایسه کنید.

$$۴ \square ۰ + ۴$$

. ۱۷

(۶ نمره)

عددی بنویسید که ۴ تا کمتر از ستاره‌ها باشد؟



. ۱۸

(۶ نمره)

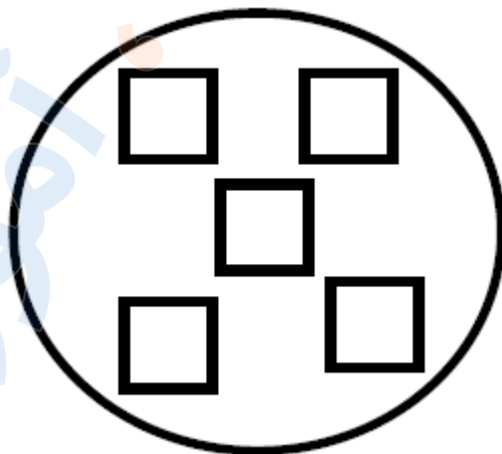


تدریس خصوصی ریاضی به صورت حضوری و آنلاین با دبیران حرفه ای و پیگیری قدرتمند در مدرسه

۸۸۹۰۴۰۰۲ - ۸۸۹۰۶۹۰۹ - ۲۶۵۷۰۸۱۰ - ۴۴۰۲۵۸۶۰

کد تهران ۰۲۱

یکی کمتر از عددی که در شکل نشان داده شده است را مشخص کنید.



. ۱۹

(۲ نمره)

مقایسه کنید.



. ۲۰

(۲ نمره)



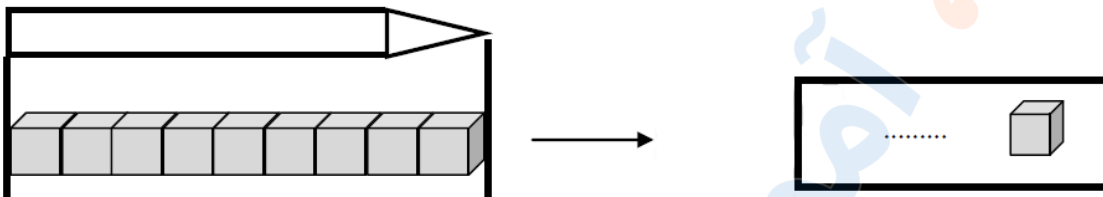


تدریس خصوصی ریاضی به صورت حضوری و آنلاین با دبیران حرفه ای و پیگیری قدرتمند در مدرسه

۸۸۹۰۴۰۰۲ - ۸۸۹۰۶۹۰۹ - ۲۶۵۷۰۸۱۰ - ۴۴۰۲۵۸۶۰

کد تهران ۰۲۱

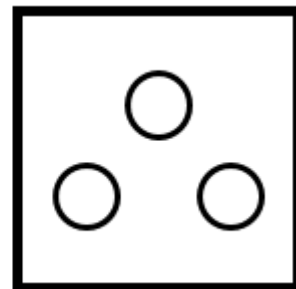
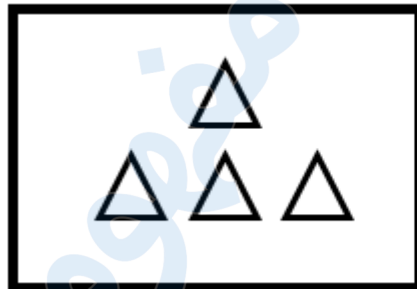
اندازه مداد چند شکل کوچک است؟



۲۱.

(۲ نمره)

از هر دسته از شکل‌های سمت چپ به اندازه شکل‌های سمت راست کم کنید حاصل آن چند می‌شود؟




=

۲۲.

(۶ نمره)

مقایسه کنید. ( $\lt \ = \ >$ )

$$۶ \square ۴ \quad ۱ + ۸ \square ۸$$



تدریس خصوصی ریاضی به صورت حضوری و آنلاین با دبیران حرفه ای و پیگیری قدرتمند در مدرسه

۸۸۹۰۴۰۰۲ - ۸۸۹۰۶۹۰۹ - ۲۶۵۷۰۸۱۰ - ۴۴۰۲۵۸۶۰

کد تهران ۰۲۱

۲۳.

(۶ نمره)

با روش دلخواه جواب دهید.

$$۶ + ۴ =$$

۲۴.

(۶ نمره)

کدام شکل مربوط به جمع «  $۵ + ۴ = ۹$  » است؟