



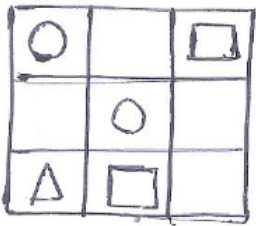
تدریس خصوصی ریاضی به صورت حضوری و آنلاین با دبیران حرفه ای و پیگیری قدرتمند در مدرسه

۴۴۰۲۵۸۶۰ - ۲۶۵۷۰۸۱۰ - ۸۸۹۰۶۹۰۹ - ۸۸۹۰۴۰۰۲

کد تهران ۰۲۱

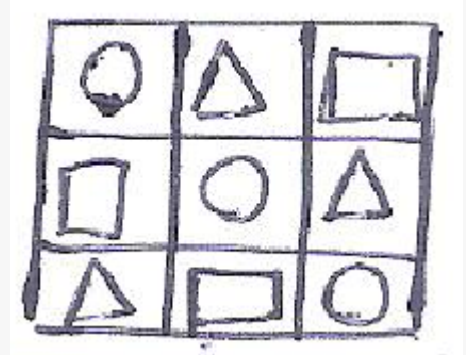
۱.

(۲ نمره)



در هم ردیف یکی از شکل های \square ، Δ ، \circ یا \square باشد.

پاسخ:



۲.

(۲ نمره)

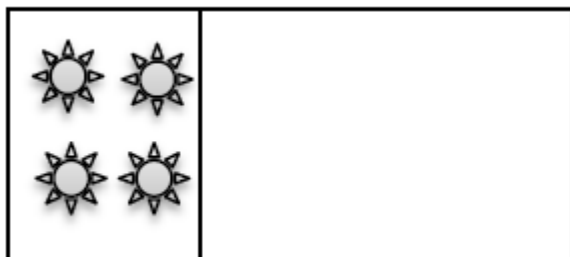


تدریس خصوصی ریاضی به صورت حضوری و آنلاین با دبیران حرفه ای و پیگیری قدرتمند در مدرسه

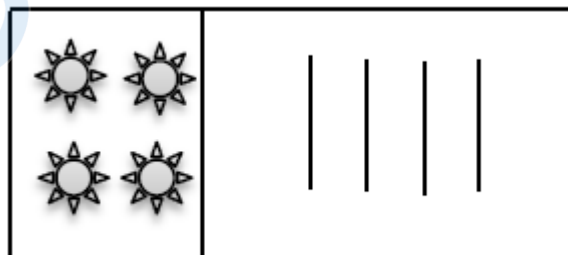
۸۸۹۰۴۰۰۲ - ۸۸۹۰۶۹۰۹ - ۲۶۵۷۰۸۱۰ - ۴۴۰۲۵۸۶۰

کد تهران ۰۲۱

به تعداد شکل‌ها چوب‌خط بکش.



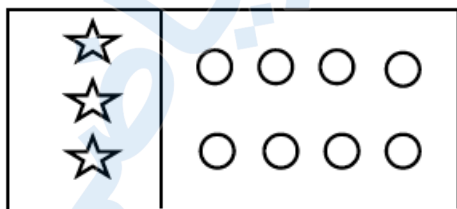
پاسخ :



۳ .

(۲ نمره)

به تعداد شکل‌های سمت چپ، از دایره‌های سمت راست رنگ کن.



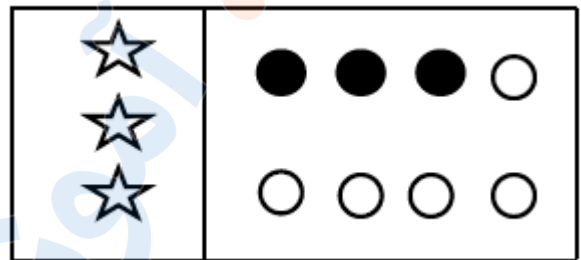


تدریس خصوصی ریاضی به صورت حضوری و آنلاین با دبیران حرفه ای و پیگیری قدرتمند در مدرسه

۸۸۹۰۴۰۰۲ - ۸۸۹۰۶۹۰۹ - ۲۶۵۷۰۸۱۰ - ۴۴۰۲۵۸۶۰

کد تهران ۰۲۱

پاسخ :



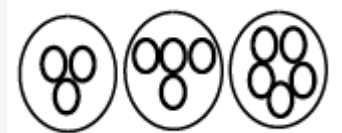
. ۴

(۶ نمره)

شکل های قبل و بعد را بکش.



پاسخ :



. ۵

(۶ نمره)




تدریس خصوصی ریاضی به صورت حضوری و آنلاین با دبیران حرفه ای و پیگیری قدرتمند در مدرسه

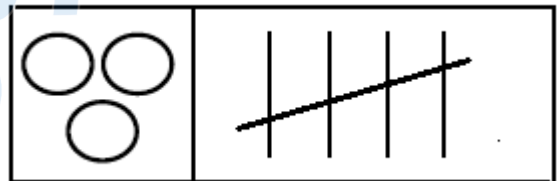
۸۸۹۰۴۰۰۲ - ۸۸۹۰۶۹۰۹ - ۲۶۵۷۰۸۱۰ - ۴۴۰۲۵۸۶۰

کد تهران ۰۲۱



به شکل‌ها دو تا  اضافه کن و چوب خط بکش.

پاسخ :



. ۶

(۶ نمره)

۴ انگشت از دست راست و ۲ انگشت از دست چپ را باز کرده ایم. حاصل چند است؟

پاسخ :

۶

. ۷

(۲ نمره)

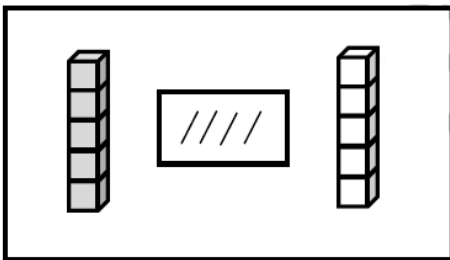


تدریس خصوصی ریاضی به صورت حضوری و آنلاین با دبیران حرفه ای و پیگیری قدرتمند در مدرسه

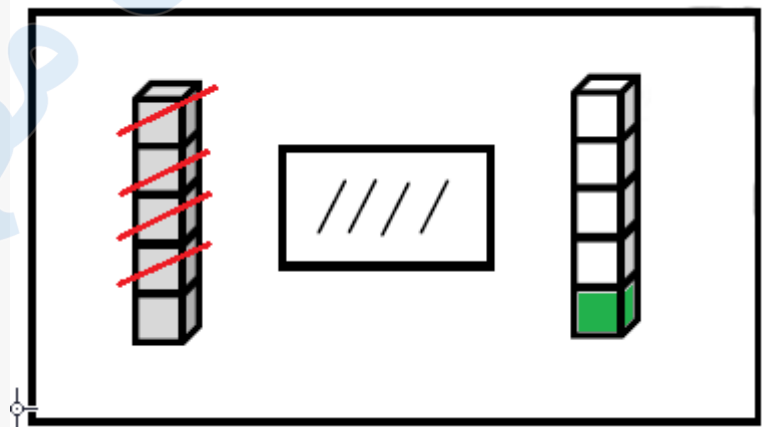
۴۴۰۲۵۸۶۰ - ۲۶۵۷۰۸۱۰ - ۸۸۹۰۶۹۰۹ - ۸۸۹۰۴۰۰۲

کد تهران ۰۲۱

از چینه‌های رنگی به تعداد چوب‌خطها خط بزن. به تعداد باقی‌مانده از چینه‌های سمت راست رنگ کن:



پاسخ:



. ۸

(۲ نمره)




تدریس خصوصی ریاضی به صورت حضوری و آنلاین با دبیران حرفه ای و پیگیری قدرتمند در مدرسه

۸۸۹۰۴۰۰۲ - ۸۸۹۰۶۹۰۹ - ۲۶۵۷۰۸۱۰ - ۴۴۰۲۵۸۶۰

کد تهران ۰۲۱

شکلی که مشابهی ندارد را مشخص کنید.



پاسخ :



۹.

(۶ نمره)

با کشیدن چوب خط بگو شکل‌های سمت راست و چپ با هم چندتا است؟



پاسخ :



تدریس خصوصی ریاضی به صورت حضوری و آنلاین با دبیران حرفه ای و پیگیری قدرتمند در مدرسه

۴۴۰۲۵۸۶۰ - ۲۶۵۷۰۸۱۰ - ۸۸۹۰۶۹۰۹ - ۸۸۹۰۴۰۰۲

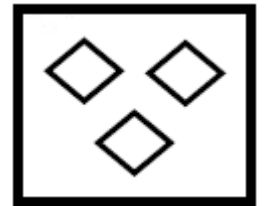
کد تهران ۰۲۱



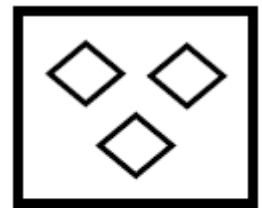
۱۰.

(۶ نمره)

یک واحد از شکل کم کنید و حاصل را با عدد مشخص کنید.



پاسخ:



- ۲ -



تدریس خصوصی ریاضی به صورت حضوری و آنلاین با دبیران حرفه ای و پیگیری قدرتمند در مدرسه

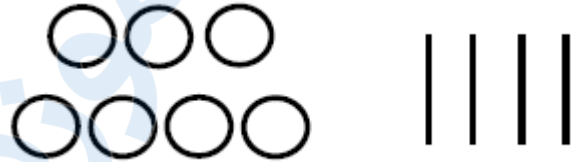
۴۴۰۲۵۸۶۰ - ۲۶۵۷۰۸۱۰ - ۸۸۹۰۶۹۰۹ - ۸۸۹۰۴۰۰۲

کد تهران ۰۲۱

. ۱۱

(۶ نمره)

اگر به اندازه چوب خط ها از دایره ها خط بزنید، حاصل چند دایره است؟



پاسخ :

۳

. ۱۲

(۶ نمره)



تدریس خصوصی ریاضی به صورت حضوری و آنلاین با دبیران حرفه ای و پیگیری قدرتمند در مدرسه


۴۴۰۲۵۸۶۰ - ۲۶۵۷۰۸۱۰ - ۸۸۹۰۶۹۰۹ - ۸۸۹۰۴۰۰۲

کد تهران ۰۲۱

شکلی که مشابهی ندارد را مشخص کنید.



پاسخ :



. ۱۳

(۲ نمره)



تدریس خصوصی ریاضی به صورت حضوری و آنلاین با دبیران حرفه ای و پیگیری قدرتمند در مدرسه

۸۸۹۰۴۰۰۲ - ۸۸۹۰۶۹۰۹ - ۲۶۵۷۰۸۱۰ - ۴۴۰۲۵۸۶۰

کد تهران ۰۲۱

مقایسه کنید. ($\lt \gt \leq \geq$)

$$3 \square 5$$

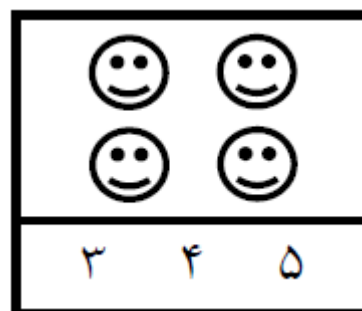
پاسخ :

$$3 \square < 5$$

۱۴ .

(۲ نمره)

دور عدد درست خط بکش.




پاسخ :



تدریس خصوصی ریاضی به صورت حضوری و آنلاین با دبیران حرفه ای و پیگیری قدرتمند در مدرسه

۸۸۹۰۴۰۰۲ - ۸۸۹۰۶۹۰۹ - ۲۶۵۷۰۸۱۰ - ۴۴۰۲۵۸۶۰

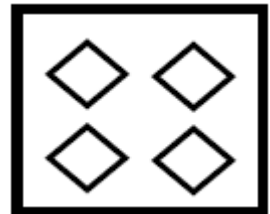
کد تهران ۰۲۱




۱۵.

(۲ نمره)

عدد مناسب برای شکل مقابل را انتخاب کنید.



پاسخ :



- ۴ -



تدریس خصوصی ریاضی به صورت حضوری و آنلاین با دبیران حرفه ای و پیگیری قدرتمند در مدرسه

۸۸۹۰۴۰۰۲ - ۸۸۹۰۶۹۰۹ - ۲۶۵۷۰۸۱۰ - ۴۴۰۲۵۸۶۰

کد تهران ۰۲۱

۱۶ .

(۶ نمره)

مقایسه کنید.

$$۴ \square \circ + ۴$$

پاسخ :

$$۴ \square = \circ + ۴$$

۱۷ .

(۶ نمره)

عددی بنویسید که ۴ تا کمتر از ستاره‌ها باشد؟




پاسخ :



تدریس خصوصی ریاضی به صورت حضوری و آنلاین با دبیران حرفه ای و پیگیری قدرتمند در مدرسه

۸۸۹۰۴۰۰۲ - ۸۸۹۰۶۹۰۹ - ۲۶۵۷۰۸۱۰ - ۴۴۰۲۵۸۶۰

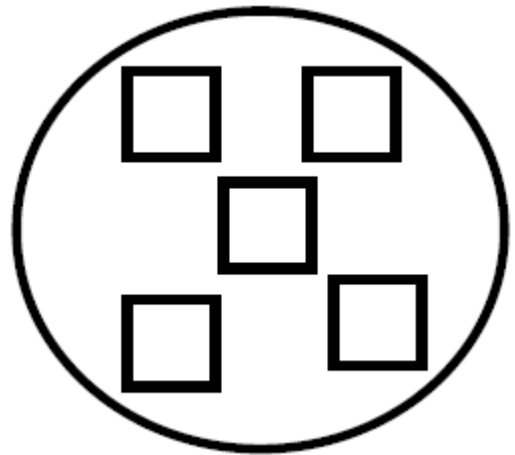
کد تهران ۰۲۱



۱۸ .

(۶ نمره)

یکی کمتر از عددی که در شکل نشان داده شده است را مشخص کنید.



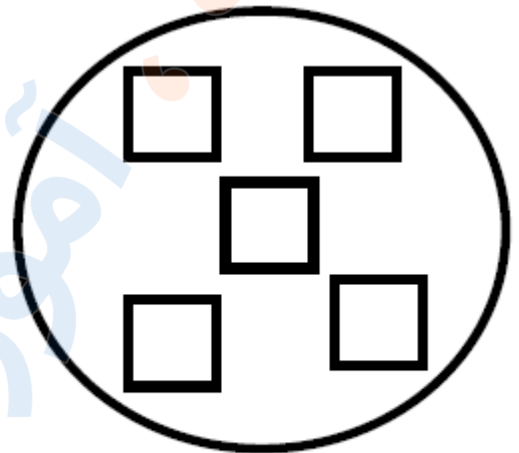
پاسخ :



تدریس خصوصی ریاضی به صورت حضوری و آنلاین با دبیران حرفه ای و پیگیری قدرتمند در مدرسه

۸۸۹۰۴۰۰۲ - ۸۸۹۰۶۹۰۹ - ۲۶۵۷۰۸۱۰ - ۴۴۰۲۵۸۶۰

کد تهران ۰۲۱

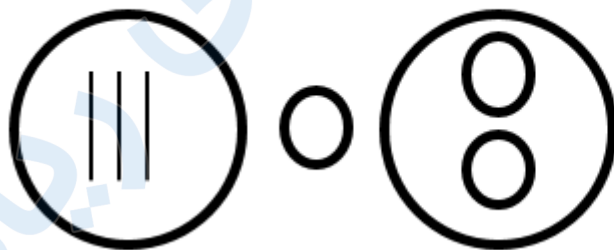


۴

۱۹.

(۲ نمره)

مقایسه کنید.



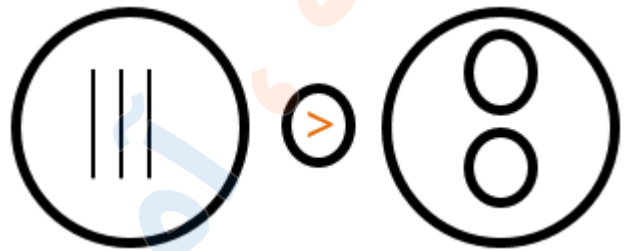
پاسخ :



تدریس خصوصی ریاضی به صورت حضوری و آنلاین با دبیران حرفه ای و پیگیری قدرتمند در مدرسه

۸۸۹۰۴۰۰۲ - ۸۸۹۰۶۹۰۹ - ۲۶۵۷۰۸۱۰ - ۴۴۰۲۵۸۶۰

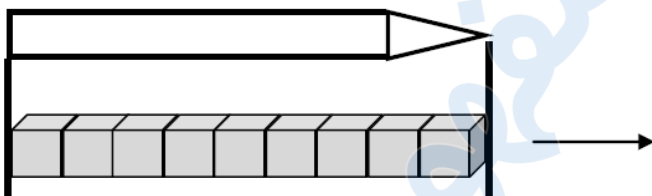
کد تهران ۰۲۱



۲۰ .

(۲ نمره)

اندازه مداد چند شکل کوچک است؟



پاسخ :



۲۱ .



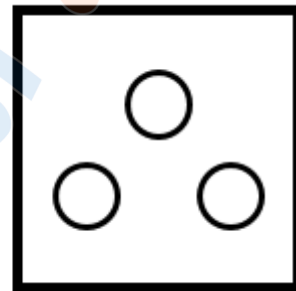
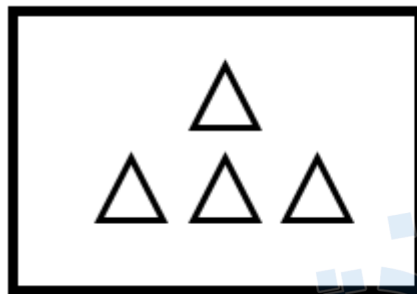
تدریس خصوصی ریاضی به صورت حضوری و آنلاین با دبیران حرفه ای و پیگیری قدرتمند در مدرسه

۸۸۹۰۴۰۰۲ - ۸۸۹۰۶۹۰۹ - ۲۶۵۷۰۸۱۰ - ۴۴۰۲۵۸۶۰

کد تهران ۰۲۱

(۲ نمره)

از هر دسته از شکل‌های سمت چپ به اندازه شکل‌های سمت راست کم کنید حاصل آن چند می‌شود؟



=

پاسخ:

$$۴ - ۳ = ۱$$

. ۲۲

(۶ نمره)

مقایسه کنید. (\lt = \gt)

$$۶ \square ۴ \quad ۱ + ۸ \square ۸$$

پاسخ:

$$۶ \gt ۴ \quad ۱ + ۸ = ۹ \gt ۸$$



تدریس خصوصی ریاضی به صورت حضوری و آنلاین با دبیران حرفه ای و پیگیری قدرتمند در مدرسه

۴۴۰۲۵۸۶۰ - ۲۶۵۷۰۸۱۰ - ۸۸۹۰۶۹۰۹ - ۸۸۹۰۴۰۰۲

کد تهران ۰۲۱

۲۳.

(۶ نمره)

با روش دلخواه جواب دهید.

$$۶ + ۴ =$$

پاسخ :

$$۶ + ۴ = ۱۰$$



۲۴.

(۶ نمره)

کدام شکل مربوط به جمع « $۵ + ۴ = ۹$ » است؟

پاسخ :

