



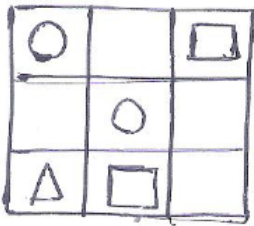
تدریس خصوصی ریاضی به صورت حضوری و آنلاین با دبیران حرفه ای و پیگیری قدرتمند در مدرسه

۸۸۹۰۴۰۰۲ - ۸۸۹۰۶۹۰۹ - ۲۶۵۷۰۸۱۰ - ۴۴۰۲۵۸۶۰

کد تهران ۰۲۱

۱.


(۲ نمره)



در هم ردیف یکی از شکل های  $\square$ ،  $\Delta$ ،  $\circ$  یا  $\square$  باشد.

۲.

(۲ نمره)



به تعداد شکل ها چوب خط بکش.

۳.

(۳ نمره)

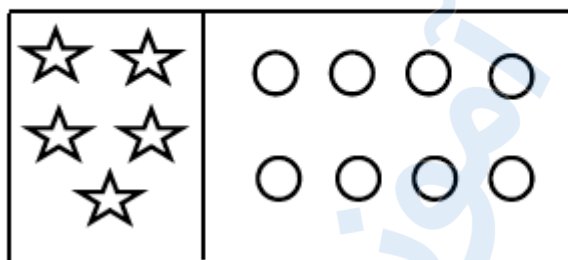


تدریس خصوصی ریاضی به صورت حضوری و آنلاین با دبیران حرفه ای و پیگیری قدرتمند در مدرسه

۸۸۹۰۴۰۰۲ - ۸۸۹۰۶۹۰۹ - ۲۶۵۷۰۸۱۰ - ۴۴۰۲۵۸۶۰

کد تهران ۰۲۱

به تعداد شکل های سمت چپ، از دایره های سمت راست رنگ کن.



۴.


(۶ نمره)

شکل های قبل و بعد را بکش.



۵.

(۶ نمره)

به شکل ها دو تا  اضافه کن و چوب خط بکش.





تدریس خصوصی ریاضی به صورت حضوری و آنلاین با دبیران حرفه ای و پیگیری قدرتمند در مدرسه

۴۴۰۲۵۸۶۰ - ۲۶۵۷۰۸۱۰ - ۸۸۹۰۶۹۰۹ - ۸۸۹۰۴۰۰۲

کد تهران ۰۲۱

۶.

(۶ نمره)

به شکل‌های یکی  اضافه کن و رنگ کن.



۷.

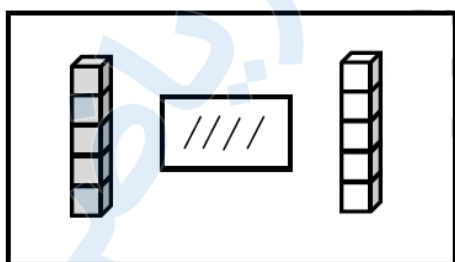
(۶ نمره)

۴ انگشت از دست راست و ۲ انگشت از دست چپ را باز کرده ایم. حاصل چند است؟

۸.

(۳ نمره)

از چیننه‌های رنگی به تعداد چوب‌خط‌ها خط بزن. به تعداد باقی‌مانده از چیننه‌های سمت راست رنگ کن:





تدریس خصوصی ریاضی به صورت حضوری و آنلاین با دبیران حرفه ای و پیگیری قدرتمند در مدرسه

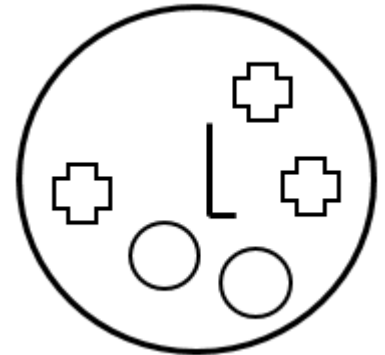
۸۸۹۰۴۰۰۲ - ۸۸۹۰۶۹۰۹ - ۲۶۵۷۰۸۱۰ - ۴۴۰۲۵۸۶۰

کد تهران ۰۲۱

۹.

(۳ نمره)

شکلی که مشابهی ندارد را مشخص کنید.



۱۰.

(۶ نمره)

با کشیدن چوب‌خط بگو شکل‌های سمت راست و چپ با هم چقدر است؟



۱۱.

(۶ نمره)

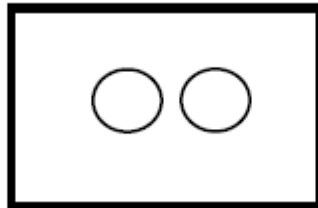
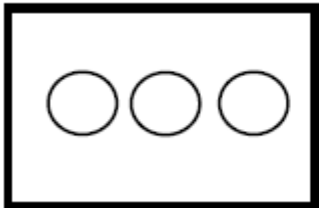


تدریس خصوصی ریاضی به صورت حضوری و آنلاین با دبیران حرفه ای و پیگیری قدرتمند در مدرسه

۴۴۰۲۵۸۶۰ - ۲۶۵۷۰۸۱۰ - ۸۸۹۰۶۹۰۹ - ۸۸۹۰۴۰۰۲

کد تهران ۰۲۱

با کشیدن چوب خط بگو شکل‌های سمت راست و چپ با هم چندتا است؟



۱۲.

(۶ نمره)

در جای خالی مقابل چه عددی قرار می‌گیرد؟

۱, ۲, — —, ۴, ۵

۱۳.

(۶ نمره)

اگر به تعداد شکل یک واحد اضافه کنیم و مربع‌ها را رنگ بزنیم کدام گزینه مربع‌های رنگ زده را نشان می‌دهد؟





تدریس خصوصی ریاضی به صورت حضوری و آنلاین با دبیران حرفه ای و پیگیری قدرتمند در مدرسه


۸۸۹۰۴۰۰۲ - ۸۸۹۰۶۹۰۹ - ۲۶۵۷۰۸۱۰ - ۴۴۰۲۵۸۶۰

کد تهران ۰۲۱

۱۴.

(۶ نمره)

شکلی که مشابهی ندارد را مشخص کنید.



۱۵.

(۳ نمره)

مقایسه کنید. ( $\langle = \rangle$ )

۳  ۵

۱۶.



تدریس خصوصی ریاضی به صورت حضوری و آنلاین با دبیران حرفه ای و پیگیری قدرتمند در مدرسه

۸۸۹۰۴۰۰۲ - ۸۸۹۰۶۹۰۹ - ۲۶۵۷۰۸۱۰ - ۴۴۰۲۵۸۶۰

کد تهران ۰۲۱

(۳ نمره)

دور عدد درست خط بکش.



. ۱۷

(۳ نمره)

کدام گزینه عدد ستاره‌ها را نشان می‌دهد؟



. ۱۸

(۶ نمره)

ادامه دهید.





تدریس خصوصی ریاضی به صورت حضوری و آنلاین با دبیران حرفه ای و پیگیری قدرتمند در مدرسه

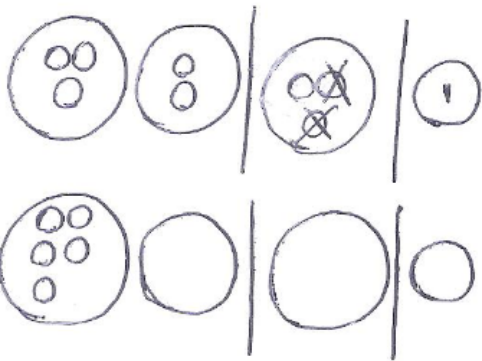
۴۴۰۲۵۸۶۰ - ۲۶۵۷۰۸۱۰ - ۸۸۹۰۶۹۰۹ - ۸۸۹۰۴۰۰۲

کد تهران ۰۲۱

. ۱۹

(۶ نمره)

از هر شکل ۲ تا کم کن و بنویس



. ۲۰

(۶ نمره)

عددی بنویسید که ۴ تا کمتر از ستاره‌ها باشد؟



. ۲۱

(۶ نمره)





تدریس خصوصی ریاضی به صورت حضوری و آنلاین با دبیران حرفه ای و پیگیری قدرتمند در مدرسه

۸۸۹۰۴۰۰۲ - ۸۸۹۰۶۹۰۹ - ۲۶۵۷۰۸۱۰ - ۴۴۰۲۵۸۶۰

کد تهران ۰۲۱

یک واحد از شکل کم کنید و حاصل را با عدد مشخص کنید.

