



تدریس خصوصی ریاضی به صورت حضوری و آنلاین با دبیران حرفه ای و پیگیری قدرتمند در مدرسه

۴۴۰۲۵۸۶۰ - ۲۶۵۷۰۸۱۰ - ۸۸۹۰۶۹۰۹ - ۸۸۹۰۴۰۰۲

کد تهران ۰۲۱

. ۱

(۲ نمره)

به زاویه‌ای که از ۹۰ درجه بزرگ‌تر و از ۱۸۰ درجه کوچک‌تر باشد زاویه می‌گویند.

(دبستان سرای دانش - تهران ۱۴۰۲)

. ۲

(۲ نمره)

یک گونیای شیشه‌ای توپر چند زاویه تند دارد؟

. ۳

(۲ نمره)

آیا زاویه زیر یک زاویه راست است؟ چه طور مطمئن می‌شوید؟



. ۴

(۲ نمره)



تدریس خصوصی ریاضی به صورت حضوری و آنلاین با دبیران حرفه ای و پیگیری قدرتمند در مدرسه

۴۴۰۲۵۸۶۰ - ۲۶۵۷۰۸۱۰ - ۸۸۹۰۶۹۰۹ - ۸۸۹۰۴۰۰۲

کد تهران ۰۲۱

نوع زاویه زیر را مشخص کنید.



. ۵

(۲ نمره)

یک زاویه راست را به دو قسمت تقسیم کرده‌ایم. اگر یکی از این قسمت‌ها ۳۰ درجه باشد، قسمت دیگر چند درجه است؟

. ۶

(۲ نمره)



تدریس خصوصی ریاضی به صورت حضوری و آنلاین با دبیران حرفه ای و پیگیری قدرتمند در مدرسه

۴۴۰۲۵۸۶۰ - ۲۶۵۷۰۸۱۰ - ۸۸۹۰۶۹۰۹ - ۸۸۹۰۴۰۰۲

کد تهران ۰۲۱

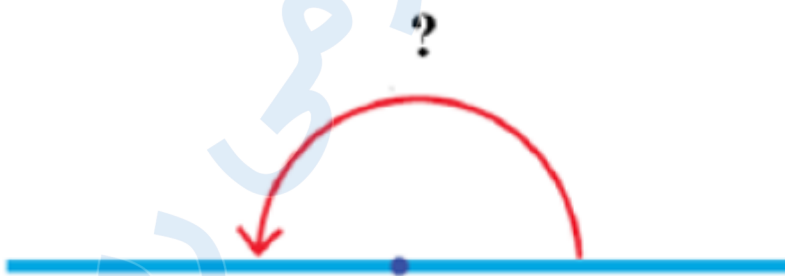
طول نوار «آ» چند برابر طول نوار «ب» است؟



(۲ نمره)

. ۷

اندازه زاویه زیر را بنویسید.



(۲ نمره)

. ۸

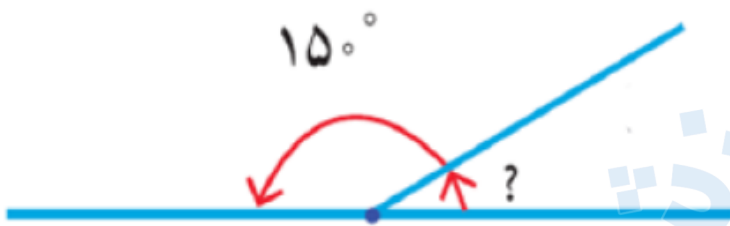


تدریس خصوصی ریاضی به صورت حضوری و آنلاین با دبیران حرفه ای و پیگیری قدرتمند در مدرسه

۸۸۹۰۴۰۰۲ - ۸۸۹۰۶۹۰۹ - ۲۶۵۷۰۸۱۰ - ۴۴۰۲۵۸۶۰

کد تهران ۰۲۱

اندازه زاویه خواسته شده در شکل زیر کدام است؟



.۹

(۲ نمره)

زمان های زیر را مقایسه کنید.

۴۵ دقیقه ۱ ساعت و ۱۵ دقیقه

.۱۰

(۲ نمره)

زمان های زیر را مقایسه کنید.

۱۵ دقیقه و ۱۵ ثانیه یک ربع



تدریس خصوصی ریاضی به صورت حضوری و آنلاین با دبیران حرفه ای و پیگیری قدرتمند در مدرسه

۸۸۹۰۴۰۰۲ - ۸۸۹۰۶۹۰۹ - ۲۶۵۷۰۸۱۰ - ۴۴۰۲۵۸۶۰

کد تهران ۰۲۱

. ۱۱

(۲ نمره)

یک ساعت و ده دقیقه یعنی دقیقه

. ۱۲

(۲ نمره)

۱۱۵ دقیقه یعنی ساعت و دقیقه

. ۱۳

(۲ نمره)

۸۵ دقیقه یعنی ساعت و دقیقه

. ۱۴

(۲ نمره)

هر یک روز ساعت و هریک ساعت دقیقه است.



تدریس خصوصی ریاضی به صورت حضوری و آنلاین با دبیران حرفه ای و پیگیری قدرتمند در مدرسه

۴۴۰۲۵۸۶۰ - ۲۶۵۷۰۸۱۰ - ۸۸۹۰۶۹۰۹ - ۸۸۹۰۴۰۰۲

کد تهران ۰۲۱

۱۵ .

(۲ نمره)

هر یک سال روز است.

۱۶ .

(۴ نمره)

احمد رضا ساعت ۹:۳۰ به کتابخانه رفت. بعد از ۳ ساعت و ۲۰ دقیقه به خانه برگشت احمد رضا ساعت چند به خانه برگشته است؟ (دبستان پور جندقی - رفسنجان ۱۴۰۲)

۱۷ .

(۴ نمره)

باران امروز ساعت ۷:۱۵ از خانه خارج شد و ساعت ۸:۳۰ به محل کار رسید. او چه مدت در مسیر بوده است؟ (دبستان سرای دانش - تهران ۱۴۰۲)

۱۸ .

(۴ نمره)




تدریس خصوصی ریاضی به صورت حضوری و آنلاین با دبیران حرفه ای و پیگیری قدرتمند در مدرسه

۸۸۹۰۴۰۰۲ - ۸۸۹۰۶۹۰۹ - ۲۶۵۷۰۸۱۰ - ۴۴۰۲۵۸۶۰

کد تهران ۰۲۱

نوع زاویه زیر را مشخص و آن را تعریف کنید.



.۱۹

(۴ نمره)

طول نوار «ب» چه کسری از طول نوار «آ» است؟



.۲۰



تدریس خصوصی ریاضی به صورت حضوری و آنلاین با دبیران حرفه ای و پیگیری قدرتمند در مدرسه

۸۸۹۰۴۰۰۲ - ۸۸۹۰۶۹۰۹ - ۲۶۵۷۰۸۱۰ - ۴۴۰۲۵۸۶۰

کد تهران ۰۲۱

(۴ نمره)

یک هواپیما در ساعت ۲:۱۵ از تهران پرواز کرد و در ساعت ۳:۵۰ در قشم به زمین نشست. مدت زمان این پرواز چند ساعت و چند دقیقه بوده است؟

. ۲۱

(۴ نمره)

یک هواپیما در ساعت ۲:۱۵ از تهران پرواز کرد و در ساعت ۳:۵۰ در قشم به زمین نشست. مدت زمان این پرواز چند دقیقه بوده است؟

. ۲۲

(۴ نمره)

۵۰ دقیقه بعد از ساعت ۴:۲۰ را پیدا کنید.

. ۲۳

(۴ نمره)

۹۴۸ ثانیه چند دقیقه و چند ثانیه است؟

. ۲۴

(۴ نمره)

۱ ساعت و ۲۰ دقیقه چند ثانیه است؟

. ۲۵




تدریس خصوصی ریاضی به صورت حضوری و آنلاین با دبیران حرفه ای و پیگیری قدرتمند در مدرسه

۸۸۹۰۴۰۰۲ - ۸۸۹۰۶۹۰۹ - ۲۶۵۷۰۸۱۰ - ۴۴۰۲۵۸۶۰

کد تهران ۰۲۱

(۴ نمره)

اندازه زاویه خواسته شده در شکل زیر کدام است؟



(۴ نمره)

. ۲۶



تدریس خصوصی ریاضی به صورت حضوری و آنلاین با دبیران حرفه ای و پیگیری قدرتمند در مدرسه

۴۴۰۲۵۸۶۰ - ۲۶۵۷۰۸۱۰ - ۸۸۹۰۶۹۰۹ - ۸۸۹۰۴۰۰۲

کد تهران ۰۲۱

یک جمع برای شکل زیر بنویسید و حاصل را پیدا کنید.



..... + =

(۴ نمره)

. ۲۷

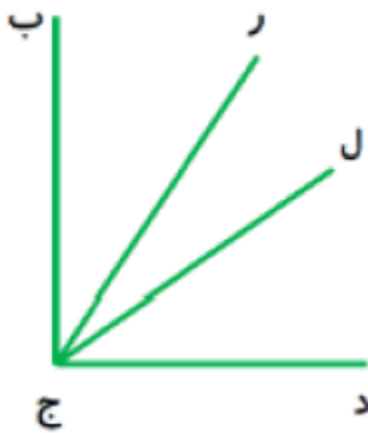


تدریس خصوصی ریاضی به صورت حضوری و آنلاین با دبیران حرفه ای و پیگیری قدرتمند در مدرسه

۴۴۰۲۵۸۶۰ - ۲۶۵۷۰۸۱۰ - ۸۸۹۰۶۹۰۹ - ۸۸۹۰۴۰۰۲

کد تهران ۰۲۱

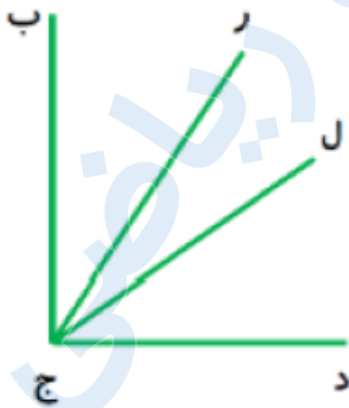
در شکل زیر چند زاویه وجود دارد؟



. ۲۸

(۴ نمره)

همه زاویه‌هایی که در شکل زیر وجود دارد را نام ببرید.





تدریس خصوصی ریاضی به صورت حضوری و آنلاین با دبیران حرفه ای و پیگیری قدرتمند در مدرسه

۴۴۰۲۵۸۶۰ - ۲۶۵۷۰۸۱۰ - ۸۸۹۰۶۹۰۹ - ۸۸۹۰۴۰۰۲

کد تهران ۰۲۱

۲۹.

(۴ نمره)

زهرا ۹ سال و ۶ ماه و ۱۵ روز دارد. سن زهرا چند ساعت است؟ (سالها را ۳۶۵ روزه و ماهها را ۳۱ روزه در نظر بگیرید.)