



تدریس خصوصی ریاضی به صورت حضوری و آنلاین با دبیران حرفه ای و پیگیری قدرتمند در مدرسه

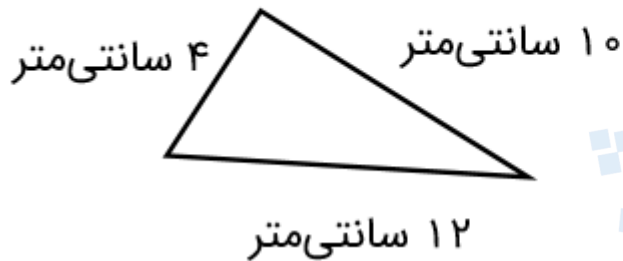
۴۴۰۲۵۸۶۰ - ۲۶۵۷۰۸۱۰ - ۸۸۹۰۶۹۰۹ - ۸۸۹۰۴۰۰۲

کد تهران ۰۲۱

۱.

(۲ نمره)

محیط مثلث زیر را پیدا کنید.



۲.

(۲ نمره)

اندازه دور هر شکل را آن شکل می گویند.

۳.

(۲ نمره)

به اندازه سطح هر شکل آن شکل می گویند.

۴.

(۴ نمره)

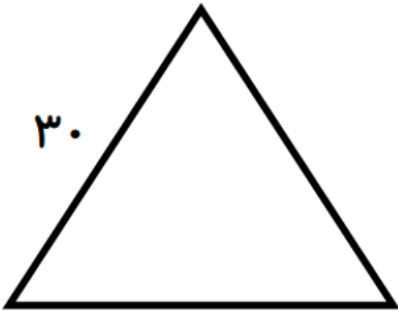


تدریس خصوصی ریاضی به صورت حضوری و آنلاین با دبیران حرفه ای و پیگیری قدرتمند در مدرسه

۸۸۹۰۴۰۰۲ - ۸۸۹۰۶۹۰۹ - ۲۶۵۷۰۸۱۰ - ۴۴۰۲۵۸۶۰

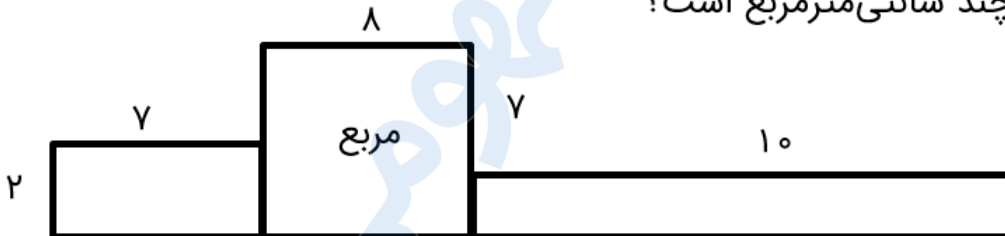
کد تهران ۰۲۱

محیط مثلث متساوی الاضلاع زیر چند است؟ (دبستان یاس-لاهیجان ۱۴۰۲)



(۳ نمره)

مساحت شکل مقابل چند سانتی متر مربع است؟



(۴ نمره)




تدریس خصوصی ریاضی به صورت حضوری و آنلاین با دبیران حرفه ای و پیگیری قدرتمند در مدرسه

۴۴۰۲۵۸۶۰ - ۲۶۵۷۰۸۱۰ - ۸۸۹۰۶۹۰۹ - ۸۸۹۰۴۰۰۲

کد تهران ۰۲۱

محیط مربعی ۸ سانتی متر است. مساحت آن چند سانتی متر مربع است؟



.۷

(۳ نمره)

محیط مثلث متساوی الساقین زیر را پیدا کنید.



.۸

(۴ نمره)



تدریس خصوصی ریاضی به صورت حضوری و آنلاین با دبیران حرفه ای و پیگیری قدرتمند در مدرسه

۸۸۹۰۴۰۰۲ - ۸۸۹۰۶۹۰۹ - ۲۶۵۷۰۸۱۰ - ۴۴۰۲۵۸۶۰

کد تهران ۰۲۱

بگویید هر شکل چند قطر دارد و آن‌ها را رسم کنید.



. ۹

(۳ نمره)

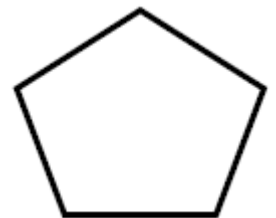
شکل زیر به ترتیب چند ضلع و قطر دارد؟



. ۱۰

(۴ نمره)

شکل زیر به ترتیب چند گوشه و قطر دارد؟



. ۱۱




تدریس خصوصی ریاضی به صورت حضوری و آنلاین با دبیران حرفه ای و پیگیری قدرتمند در مدرسه

۴۴۰۲۵۸۶۰ - ۲۶۵۷۰۸۱۰ - ۸۸۹۰۶۹۰۹ - ۸۸۹۰۴۰۰۲

کد تهران ۰۲۱

(۳ نمره)

شکل زیر به ترتیب چند ضلع و چند قطر دارد؟



. ۱۲

(۴ نمره)

اگر تمامی نقاطی که فاصله آن ها از نقطه ((م)) برابر با ۴ سانتی متر است ، مشخص کنیم ، چه شکلی به دست می آید ؟

م



. ۱۳

(۳ نمره)

دایره ای به قطر ۸ سانتی متر و دایره ی دیگری به شعاع ۳ سانتی متر داریم. اگر این دو دایره همدیگر را قطع کنند، حداکثر چند نقطه ی برخورد بین دو دایره وجود دارد؟

. ۱۴

(۴ نمره)

دایره ای به شعاع ۱۵ سانتی متر داریم . قطر این دایره چند سانتی متر است ؟



تدریس خصوصی ریاضی به صورت حضوری و آنلاین با دبیران حرفه ای و پیگیری قدرتمند در مدرسه

۴۴۰۲۵۸۶۰ - ۲۶۵۷۰۸۱۰ - ۸۸۹۰۶۹۰۹ - ۸۸۹۰۴۰۰۲

کد تهران ۰۲۱

۱۵ .

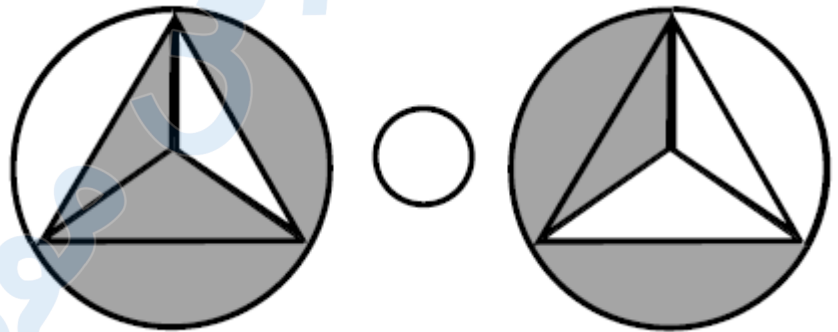
(۳ نمره)

دو خط حداکثر یکدیگر را در چند نقطه قطع می کنند ؟

۱۶ .

(۴ نمره)

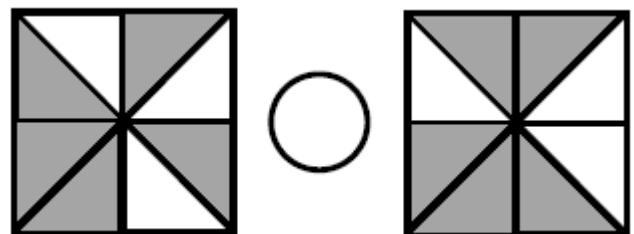
مساحت قسمت رنگ شده در کدام شکل بیش تر است ؟



۱۷ .

(۳ نمره)

مساحت قسمت رنگ شده در کدام شکل بیش تر است ؟





تدریس خصوصی ریاضی به صورت حضوری و آنلاین با دبیران حرفه ای و پیگیری قدرتمند در مدرسه

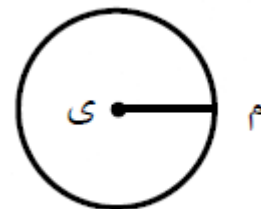
۴۴۰۲۵۸۶۰ - ۲۶۵۷۰۸۱۰ - ۸۸۹۰۶۹۰۹ - ۸۸۹۰۴۰۰۲

کد تهران ۰۲۱

۱۸ .

(۴ نمره)

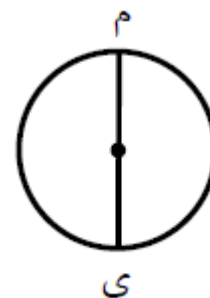
در دایره زیر ، نام پاره خطر (م ی) کدام است ؟



۱۹ .

(۳ نمره)

در دایره زیر ، نام پاره خط (م ی) کدام است ؟



۲۰ .

(۴ نمره)

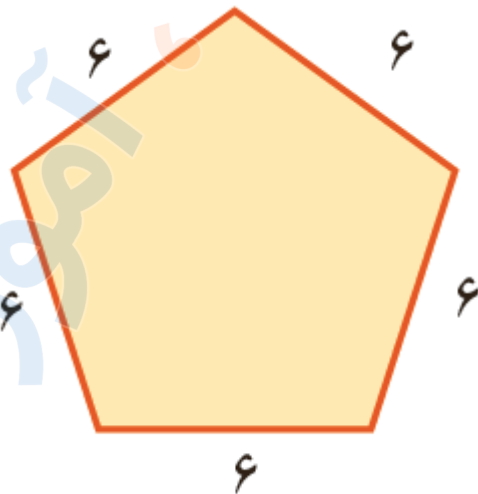


تدریس خصوصی ریاضی به صورت حضوری و آنلاین با دبیران حرفه ای و پیگیری قدرتمند در مدرسه

۴۴۰۲۵۸۶۰ - ۲۶۵۷۰۸۱۰ - ۸۸۹۰۶۹۰۹ - ۸۸۹۰۴۰۰۲

کد تهران ۰۲۱

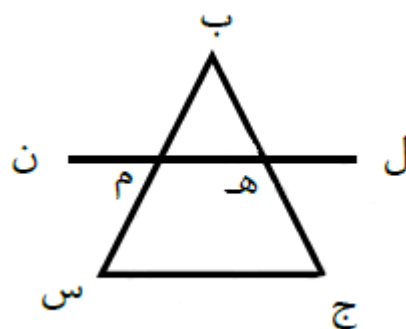
محیط شکل زیر چند است؟



۲۱ .

(۳ نمره)

شکل زیر چند پاره خط دارد؟



۲۲ .

(۳ نمره)



تدریس خصوصی ریاضی به صورت حضوری و آنلاین با دبیران حرفه ای و پیگیری قدرتمند در مدرسه

۸۸۹۰۴۰۰۲ - ۸۸۹۰۶۹۰۹ - ۲۶۵۷۰۸۱۰ - ۴۴۰۲۵۸۶۰

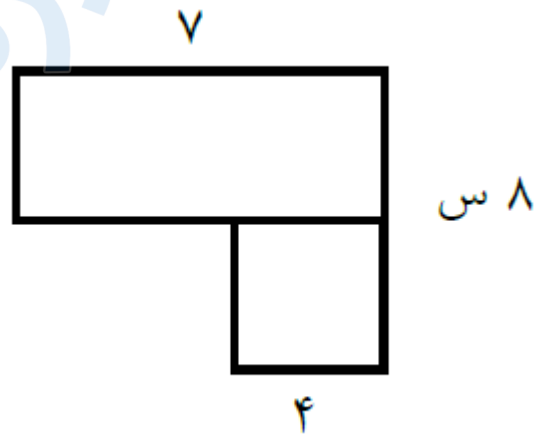
کد تهران ۰۲۱

باغی مستطیل شکل به طول ۷۶۰ متر و عرض ۲۱۰ متر داریم. می خواهیم دور این باغ را دو دور سیم خاردار بکشیم. برای این کار به چند متر سیم خاردار نیاز داریم؟

. ۲۳

(۳ نمره)

مساحت شکل مقابل کدام است؟



. ۲۴

(۴ نمره)

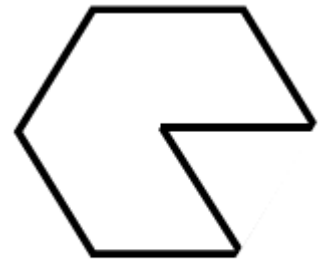


تدریس خصوصی ریاضی به صورت حضوری و آنلاین با دبیران حرفه ای و پیگیری قدرتمند در مدرسه

۴۴۰۲۵۸۶۰ - ۲۶۵۷۰۸۱۰ - ۸۸۹۰۶۹۰۹ - ۸۸۹۰۴۰۰۲

کد تهران ۰۲۱

محیط شکل مقابل کدام یک از گزینه های زیر است؟



۸ س

۲۵.

(۳ نمره)

مساحت زمینی مستطیل شکل به عرض ۸ متر برابر با ۷۲ متر مربع است. طول این زمین چند سانتی متر است؟

۲۶.

(۴ نمره)

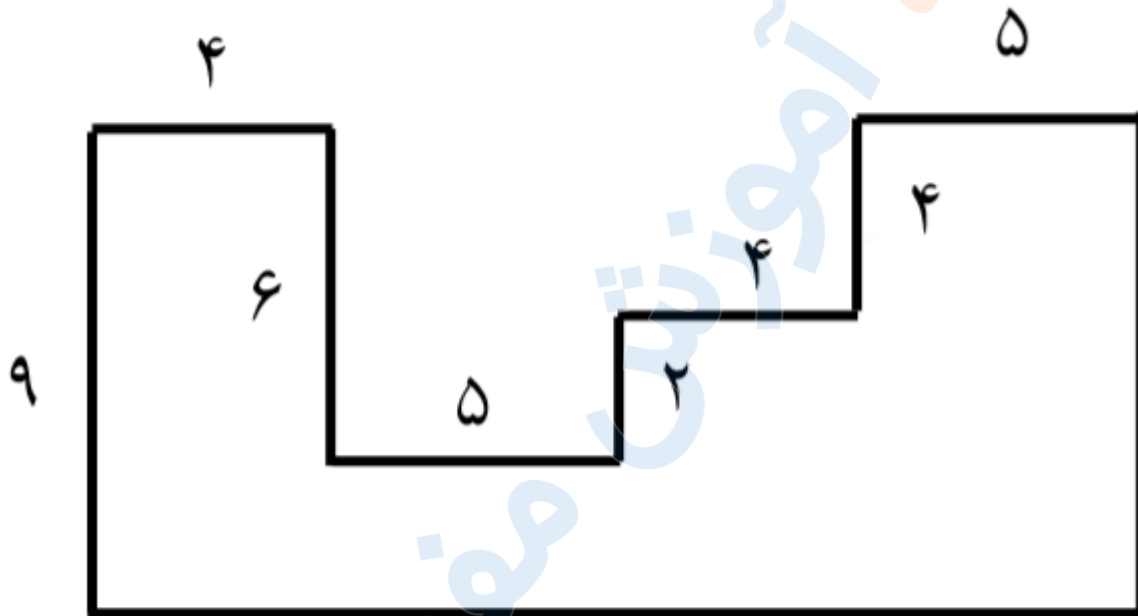


تدریس خصوصی ریاضی به صورت حضوری و آنلاین با دبیران حرفه ای و پیگیری قدرتمند در مدرسه

۸۸۹۰۴۰۰۲ - ۸۸۹۰۶۹۰۹ - ۲۶۵۷۰۸۱۰ - ۴۴۰۲۵۸۶۰

کد تهران ۰۲۱

محیط شکل زیر کدام گزینه است؟




. ۲۷

(۳ نمره)

مربع دارای قطر است. (دبستان یاس-لاهیجان ۱۴۰۲)

. ۲۸

(۴ نمره)



تدریس خصوصی ریاضی به صورت حضوری و آنلاین با دبیران حرفه ای و پیگیری قدرتمند در مدرسه

۸۸۹۰۴۰۰۲ - ۸۸۹۰۶۹۰۹ - ۲۶۵۷۰۸۱۰ - ۴۴۰۲۵۸۶۰

کد تهران ۰۲۱

به خطی که بتوان آن را از دو طرف ادامه داد می‌گویند. (دبستان یاس-لاهیجان ۱۴۰۲)

. ۲۹

(۳ نمره)

یک پنج ضلعی دارای چند قطر است؟ (دبستان یاس-لاهیجان ۱۴۰۲)

. ۳۰

(۴ نمره)

طول مستطیلی ۶ و عرض آن ۴ است. مساحت مستطیل را بیابید. (دبستان یاس-لاهیجان ۱۴۰۲)