



تدریس خصوصی ریاضی به صورت حضوری و آنلاین با دبیران حرفه ای و پیگیری قدرتمند در مدرسه

۸۸۹۰۴۰۰۲ - ۸۸۹۰۶۹۰۹ - ۲۶۵۷۰۸۱۰ - ۴۴۰۲۵۸۶۰

کد تهران ۰۲۱

. ۱

(۲ نمره)

تساوی رو به رو با کدام یک از گزینه های زیر تکمیل می شود؟

$$۲۸ \times \square = ۲۸$$

. ۲

(۲ نمره)

کدام یک از اعداد زیر تساوی زیر را می تواند تکمیل کند؟

$$۲ \times \square \times ۷ \times ۸ = \square$$

. ۳

(۲ نمره)

در جای خالی چه عددی باید قرار بگیرد؟

$$\square \times ۸ = ۸$$

. ۴

(۲ نمره)



تدریس خصوصی ریاضی به صورت حضوری و آنلاین با دبیران حرفه ای و پیگیری قدرتمند در مدرسه

۸۸۹۰۴۰۰۲ - ۸۸۹۰۶۹۰۹ - ۲۶۵۷۰۸۱۰ - ۴۴۰۲۵۸۶۰

کد تهران ۰۲۱

در جای خالی چه عددی باید قرار بگیرد؟

$$1 \times 25 = \square$$

(۴ نمره)

برای محور زیر یک تقسیم بنویسید. (دبستان یاس-لاهیجان ۱۴۰۲)




(۴ نمره)

جاهای خالی را با \square ، Δ و \bigcirc پر کنید.

$$(\bigcirc + \Delta) \times \square = (\bigcirc \times \dots) + (\dots \times \dots)$$

(۴ نمره)



تدریس خصوصی ریاضی به صورت حضوری و آنلاین با دبیران حرفه ای و پیگیری قدرتمند در مدرسه

۸۸۹۰۴۰۰۲ - ۸۸۹۰۶۹۰۹ - ۲۶۵۷۰۸۱۰ - ۴۴۰۲۵۸۶۰

کد تهران ۰۲۱

حاصل تقسیم زیر را به کمک محور پیدا کنید.

$$۱۲ \div ۳ =$$

(۳ نمره)

.۸

حاصل ضرب زیر را به کمک محور پیدا کنید.

$$۵ \times ۲ =$$

(۴ نمره)

.۹

شکل‌های زیر را به روش‌های دلخواه دسته‌بندی و جاهای خالی را پر کنید.



$$\underline{\quad} \times \underline{\quad} = \underline{\quad}$$



$$\underline{\quad} \times \underline{\quad} = \underline{\quad}$$



$$\underline{\quad} \times \underline{\quad} = \underline{\quad}$$

(۳ نمره)

.۱۰



تدریس خصوصی ریاضی به صورت حضوری و آنلاین با دبیران حرفه ای و پیگیری قدرتمند در مدرسه

۸۸۹۰۴۰۰۲ - ۸۸۹۰۶۹۰۹ - ۲۶۵۷۰۸۱۰ - ۴۴۰۲۵۸۶۰

کد تهران ۰۲۱

۳ برابر عددی را با ۱۰ جمع کردیم. حاصل ۳۷ شد. آن عدد چند است؟ (با کمک روش نمادین جواب دهید.)

. ۱۱

(۴ نمره)

حاصل عبارت زیر را پیدا کنید.

$$۸ \div (۵ - ۳) =$$

. ۱۲


(۳ نمره)

حاصل عبارت زیر را پیدا کنید.

$$۵ \times (۴ + ۵) =$$

. ۱۳

(۴ نمره)



تدریس خصوصی ریاضی به صورت حضوری و آنلاین با دبیران حرفه ای و پیگیری قدرتمند در مدرسه

۸۸۹۰۴۰۰۲ - ۸۸۹۰۶۹۰۹ - ۲۶۵۷۰۸۱۰ - ۴۴۰۲۵۸۶۰

کد تهران ۰۲۱

حاصل عبارت‌های زیر را بنویسید.

الف) $(10 \div 5) + (4 \times 3) =$

ب) $(8 - 2) \times (7 - 3) =$

۱۴.

(۴ نمره)

پول ۵ مداد با پول ۲ دفتر برابر است. با پول ۲۰ مداد چند دفتر می‌توان خرید؟

۱۵.

(۳ نمره)

تعدادی شاخه گل داریم که ۴ تا ۴ تا جدا کرده و روبان بسته ایم و پنج دسته شده است. اگر ۲ تا ۲ تا دسته بندی می‌کردیم و روبان می‌بستیم، چند دسته می‌شد؟

۱۶.

(۴ نمره)

دو جعبه شکلات داریم که در هر جعبه ۲ بسته شکلات ۸ تایی می‌باشد. در مجموع چند شکلات داریم؟

۱۷.

(۳ نمره)

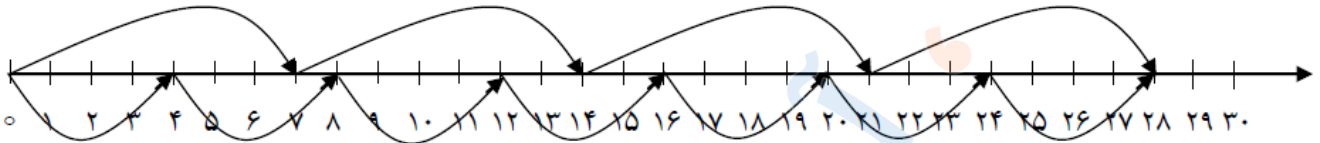


تدریس خصوصی ریاضی به صورت حضوری و آنلاین با دبیران حرفه ای و پیگیری قدرتمند در مدرسه

۴۴۰۲۵۸۶۰ - ۲۶۵۷۰۸۱۰ - ۸۸۹۰۶۹۰۹ - ۸۸۹۰۴۰۰۲

کد تهران ۰۲۱

تساوی مربوط به محور زیر کدام گزینه می تواند باشد؟



۱۸.

(۴ نمره)

دانش آموزان یک کلاس ۴۲ نفره در صف های ۶ نفره ایستاده اند. این دانش آموزان چند صف تشکیل داده اند؟

۱۹.

(۳ نمره)

در جای خالی چه عددی باید قرار بگیرد؟

$$۱۰ \times ۵۰ \times ۱۳ \times ۱۷ \times ۰ \times ۴۰ = \square \times ۵۰ \times ۱۷$$

۲۰.

(۳ نمره)

باغبانی در ۷ روز ۵۶ نهال می کارد. اگر تعداد نهال هایی که هر روز می کارد مساوی باشد، او در هر روز چند نهال می کارد؟

۲۱.



تدریس خصوصی ریاضی به صورت حضوری و آنلاین با دبیران حرفه ای و پیگیری قدرتمند در مدرسه

۴۴۰۲۵۸۶۰ - ۲۶۵۷۰۸۱۰ - ۸۸۹۰۶۹۰۹ - ۸۸۹۰۴۰۰۲

کد تهران ۰۲۱

(۴ نمره)

اگر عدد های ۳ و ۹ نشان دهنده تعداد دسته ها و عدد های ۲ و ۷ نشان دهنده تعداد اشیاء هر دسته باشند، ۴ عملیات ضرب می توانیم بنویسیم. بزرگترین حاصل ضرب کدام گزینه است؟

. ۲۲

(۳ نمره)

اگر عدد های ۳ و ۹ نشان دهنده تعداد دسته ها و عدد های ۲ و ۷ نشان دهنده تعداد اشیاء هر دسته باشند، چند عملیات ضرب می توانیم بنویسیم؟

. ۲۳

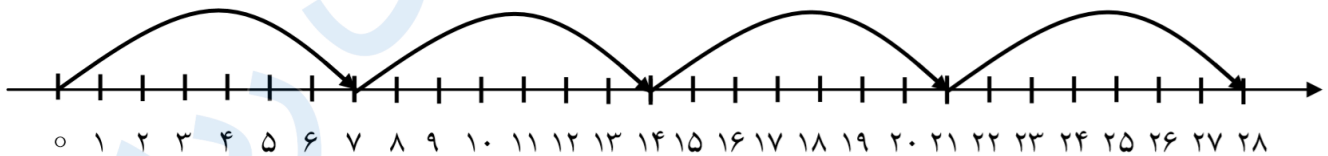
(۴ نمره)

مائده روزی ۷ صفحه تمرین حل می کند. پس از یک هفته چند صفحه تمرین حل می کند؟

. ۲۴

(۳ نمره)

کدام عملیات برای محور زیر صحیح است؟



.....



تدریس خصوصی ریاضی به صورت حضوری و آنلاین با دبیران حرفه ای و پیگیری قدرتمند در مدرسه

۴۴۰۲۵۸۶۰ - ۲۶۵۷۰۸۱۰ - ۸۸۹۰۶۹۰۹ - ۸۸۹۰۴۰۰۲

کد تهران ۰۲۱

. ۲۵

(۴ نمره)

احسان یک کتاب داستان خرید. او شب اول ۸ صفحه مطالعه کرد. اگر شب دوم ۵۶ صفحه مطالعه کند، احسان شب دوم چند برابر شب اول مطالعه کرده است؟

. ۲۶

(۴ نمره)

۲۸ مداد را به طور مساوی به ۷ نفر داده ایم. مجموع مداد های ۵ نفر آنها چقدر می شود؟

. ۲۷

(۳ نمره)

سینا ۴ بسته ۶ تایی و رضا ۳ بسته ۷ تایی کارت دارند. از مجموع کارت های آنها ۵ تا برای خودتان بردارید ، چند کارت می ماند؟

. ۲۸

(۴ نمره)

تساوی زیر بر روی محور کدام گزینه است؟

$$4 \times 7 = 7 \times 4$$

. ۲۹

(۳ نمره)

دانش آموزان یک کلاس ۴۲ نفره در صف های ۶ نفره ایستاده اند. این دانش آموزان چند صف تشکیل داده اند؟



تدریس خصوصی ریاضی به صورت حضوری و آنلاین با دبیران حرفه ای و پیگیری قدرتمند در مدرسه

۴۴۰۲۵۸۶۰ - ۲۶۵۷۰۸۱۰ - ۸۸۹۰۶۹۰۹ - ۸۸۹۰۴۰۰۲

کد تهران ۰۲۱

. ۳۰

(۴ نمره)

۴ کارتون داریم. در هر کارتون ۳ جعبه است و در هر جعبه ۶ قوطی قرار دارد. اگر بخواهیم قوطی‌ها را در بسته‌های ۸ تایی بگذاریم، چند بسته خواهیم داشت؟