



تدریس خصوصی ریاضی به صورت حضوری و آنلاین با دبیران حرفه ای و پیگیری قدرتمند در مدرسه

۴۴۰۲۵۸۶۰ - ۲۶۵۷۰۸۱۰ - ۸۸۹۰۶۹۰۹ - ۸۸۹۰۴۰۰۲

کد تهران ۰۲۱

۱.

(۲ نمره)

عدد «چهار هزار و دو» را در جدول ارزش مکانی نشان دهید و با رقم بنویسید.

۲.

(۲ نمره)

۳ متر و ۱۲ سانتی‌متر = سانتی‌متر

۳.

(۳ نمره)

۴ کیلوگرم و ۲۰۰ گرم = گرم

۴.


(۲ نمره)

عدد ۴۱۰۷ را به حروف بنویسید.

۵.

(۲ نمره)

عدد «دو هزار و بیست و پنج» را در جدول ارزش مکانی نشان دهید.



تدریس خصوصی ریاضی به صورت حضوری و آنلاین با دبیران حرفه ای و پیگیری قدرتمند در مدرسه

۸۸۹۰۴۰۰۲ - ۸۸۹۰۶۹۰۹ - ۲۶۵۷۰۸۱۰ - ۴۴۰۲۵۸۶۰

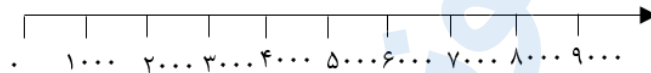
کد تهران ۰۲۱

۶.

(۳ نمره)

حاصل را روی محور نشان دهید. (به طور تقریبی)

$$۲۲۰۰ + ۳۴۰۰ =$$



۷.

(۲ نمره)

بزرگترین و کوچکترین عدد چهار رقمی بدون تکرار ارقام را بنویسید.

۸.

(۲ نمره)

اللورا ادامه دهید

۱۹۵۰ ، ۱۹۶۰ ، ۱۹۷۰ ، ، ، ،

۹.



تدریس خصوصی ریاضی به صورت حضوری و آنلاین با دبیران حرفه ای و پیگیری قدرتمند در مدرسه

۴۴۰۲۵۸۶۰ - ۲۶۵۷۰۸۱۰ - ۸۸۹۰۶۹۰۹ - ۸۸۹۰۴۰۰۲

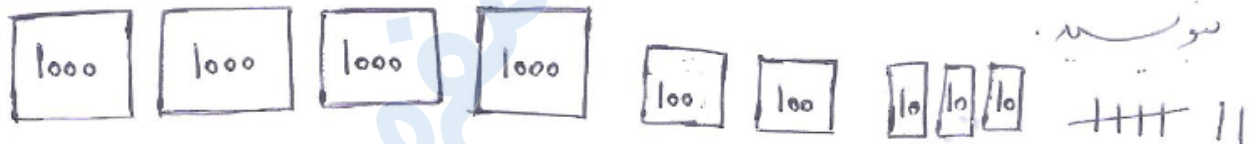
کد تهران ۰۲۱

(۲ نمره)

الگو را ادامه دهید
۵۰۰ ، ۱۰۰۰ ، ۱۵۰۰ ، ... ، ... ، ... ، ... ، ...

(۳ نمره)

عدد داده شده را در جدول ارزش مکانی نشان دهید و رقم و حرف



. ۱۰

(۲ نمره)

الگو را ادامه دهید.

۱۹۵۰ ، ۱۹۶۰ ، ۱۹۷۰ ، ، ، ،

. ۱۱

(۲ نمره)

الگو را ادامه دهید.

۵۰۰ ، ۱۰۰۰ ، ۱۵۰۰ ، ، ، ،

. ۱۲



تدریس خصوصی ریاضی به صورت حضوری و آنلاین با دبیران حرفه ای و پیگیری قدرتمند در مدرسه

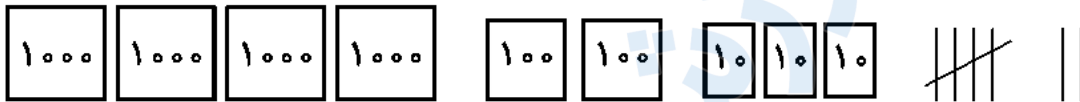
۴۴۰۲۵۸۶۰ - ۲۶۵۷۰۸۱۰ - ۸۸۹۰۶۹۰۹ - ۸۸۹۰۴۰۰۲

کد تهران ۰۲۱

۱۳.

(۳ نمره)

عدد داده شده با شکل را در جدول ارزش مکانی نشان دهید و به رقم و حروف بنویسید.



۱۴.

(۲ نمره)

عدد بعدی در الگوی زیر برابر با کدام گزینه است ؟
۱۹۵۰ ، ۱۹۶۰ ، ۱۹۷۰ ،

۱۵.

(۳ نمره)

۸۶۰ ریال یعنی تومان

۱۶.

(۴ نمره)

با ارقام ۵، ۳، ۱ و ۹ کوچکترین و بزرگترین عدد چهاررقمی را بسازید و اختلاف میانشان را به دست آورید.

(دبستان یاس-لاهیجان ۱۴۰۲)



تدریس خصوصی ریاضی به صورت حضوری و آنلاین با دبیران حرفه ای و پیگیری قدرتمند در مدرسه

۸۸۹۰۴۰۰۲ - ۸۸۹۰۶۹۰۹ - ۲۶۵۷۰۸۱۰ - ۴۴۰۲۵۸۶۰

کد تهران ۰۲۱

. ۱۷

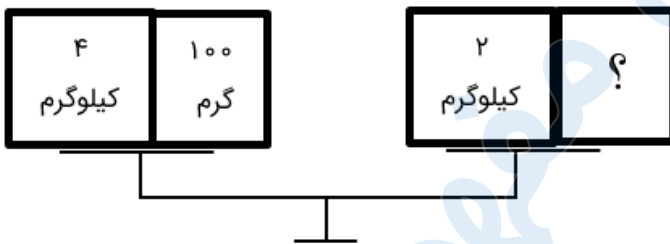
(۴ نمره)

همه اعداد سه رقمی را بنویسید که یکان آن‌ها ۲ یا ۵، دهگان آن‌ها ۱ یا ۶ و صدگان آن‌ها ۴ باشد.

. ۱۸

(۵ نمره)

جعبه روبه‌رو چند گرم است؟



. ۱۹

(۴ نمره)

۱۲۷۵ کیلومتر = متر و کیلومتر

. ۲۰

(۵ نمره)

مسیری، ۴ کیلومتر و ۴۰۰ متر است. ۳۲۰۰ متر از آن را طی کردیم. چقدر از مسیر باقی مانده است؟



تدریس خصوصی ریاضی به صورت حضوری و آنلاین با دبیران حرفه ای و پیگیری قدرتمند در مدرسه

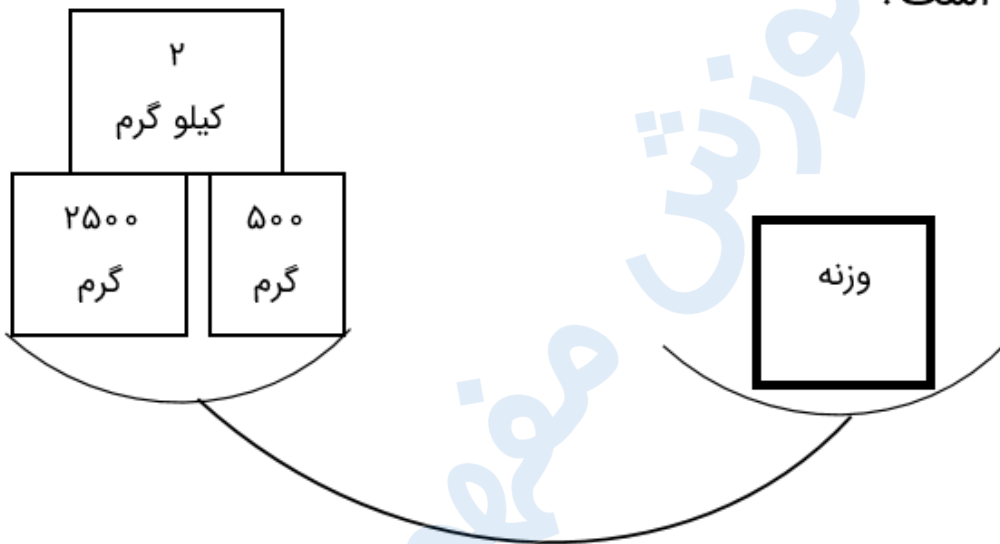
۴۴۰۲۵۸۶۰ - ۲۶۵۷۰۸۱۰ - ۸۸۹۰۶۹۰۹ - ۸۸۹۰۴۰۰۲

کد تهران ۰۲۱

۲۱.

(۴ نمره)

وزنه چند کیلوگرم است؟

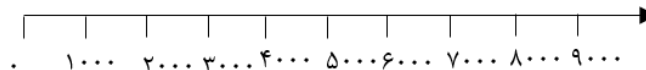


۲۲.

(۴ نمره)

حاصل را روی محور نشان دهید. (به طور تقریبی)

$$۷۴۰۰ - ۴۰۰۰ =$$



۲۳.



تدریس خصوصی ریاضی به صورت حضوری و آنلاین با دبیران حرفه ای و پیگیری قدرتمند در مدرسه

۴۴۰۲۵۸۶۰ - ۲۶۵۷۰۸۱۰ - ۸۸۹۰۶۹۰۹ - ۸۸۹۰۴۰۰۲

کد تهران ۰۲۱

(۵ نمره)

$$\frac{2}{3} \text{ کیلوگرم} + \frac{3}{4} \text{ کیلوگرم} = \frac{17}{12} \text{ کیلوگرم} = \frac{17}{12} \text{ گرم}$$

. ۲۴

(۴ نمره)

$$\frac{2}{3} \text{ کیلوگرم} = \frac{275}{1000} \text{ متر} = \frac{275}{1000} \text{ متر}$$

. ۲۵

(۴ نمره)

$$\frac{4875}{1000} \text{ گرم} = \frac{4875}{1000} \text{ کیلوگرم} = \frac{4875}{1000} \text{ گرم}$$

. ۲۶

(۵ نمره)



تدریس خصوصی ریاضی به صورت حضوری و آنلاین با دبیران حرفه ای و پیگیری قدرتمند در مدرسه

۸۸۹۰۴۰۰۲ - ۸۸۹۰۶۹۰۹ - ۲۶۵۷۰۸۱۰ - ۴۴۰۲۵۸۶۰

کد تهران ۰۲۱

با اسکناسهای ۱۰۰ تومانی و ۵۰ تومانی، چقدر پول می توان یک سکه ۲۰۰ تومانی خرید؟

۱۰۰ تومان	۵۰ تومان	۵۰ تومان
۱۰۰ تومان	۵۰ تومان	۵۰ تومان

. ۲۷

(۴ نمره)

اعداد سه رقمی را بنویسید که مکان آنها ۶۱۵، دهگان آنها ۱۲۱۲ و صدگان آنها ۱۱۱۱ باشد.

. ۲۸

(۵ نمره)

۲ کیلوگرم + ۳ کیلوگرم = کیلوگرم = گرم

. ۲۹

(۴ نمره)

۲ کیلومتر و ۳۷۵ متر = متر



تدریس خصوصی ریاضی به صورت حضوری و آنلاین با دبیران حرفه ای و پیگیری قدرتمند در مدرسه

۸۸۹۰۴۰۰۲ - ۸۸۹۰۶۹۰۹ - ۲۶۵۷۰۸۱۰ - ۴۴۰۲۵۸۶۰

کد تهران ۰۲۱

. ۳۰

(۴ نمره)

۴۸۷۵ گرم = کیلوگرم و گرم