



تدریس خصوصی ریاضی به صورت حضوری و آنلاین با دبیران حرفه ای و پیگیری قدرتمند در مدرسه

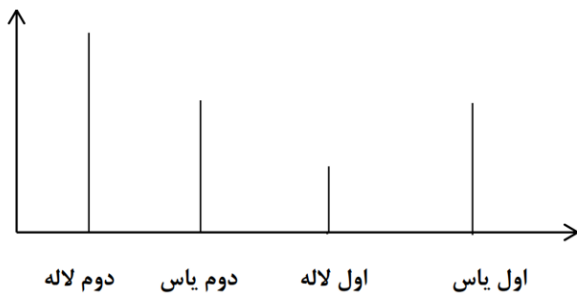
۴۴۰۲۵۸۶۰ - ۲۶۵۷۰۸۱۰ - ۸۸۹۰۶۹۰۹ - ۸۸۹۰۴۰۰۲

کد تهران ۰۲۱

۱.

(۱۰ نمره)

با توجه به نمودار امتیاز کدام کلاس‌ها با هم مساوی است؟ (دبستان سرای دانش الغدير - تهران ۱۴۰۲)



پاسخ :

اول و دوم یاس

۲.

(۱۰ نمره)

تعداد میوه‌های یک میوه‌فروش در جدول زیر آمده است. تعداد تقریبی هر یک را نوشته و با در نظر گرفتن یک دایره برای هر ۱۰ میوه نمودار آن را رسم کنید. (دبستان شهید پورجندی- رفسنجان ۱۴۰۲)

میوه	پرتقال	نارنگی	خیار	موز
تعداد واقعی	۵۲	۳۹	۶۵	۴۷

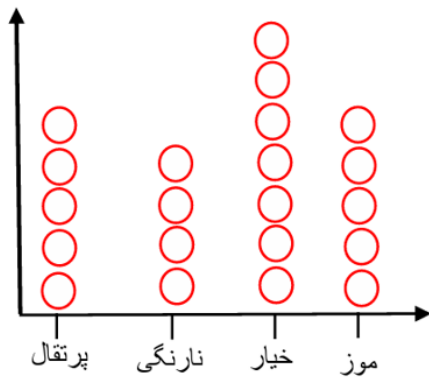
پاسخ :



تدریس خصوصی ریاضی به صورت حضوری و آنلاین با دبیران حرفه ای و پیگیری قدرتمند در مدرسه

۸۸۹۰۴۰۰۲ - ۸۸۹۰۶۹۰۹ - ۲۶۵۷۰۸۱۰ - ۴۴۰۲۵۸۶۰

کد تهران ۰۲۱



میوه	پرتقال	نارنگی	خیار	موز
تعداد واقعی	۵۲	۳۹	۶۵	۴۷
تعداد تقریبی	۵۰	۴۰	۷۰	۵۰

۳.

(۱۰ نمره)

با توجه به جدول فراوانی، نمودار رسم کنید.

تاریخی	تخیلی	علمی	داستانی	کتاب‌های مدرسه
۸	۱۵	۲۰	۱۰	تعداد

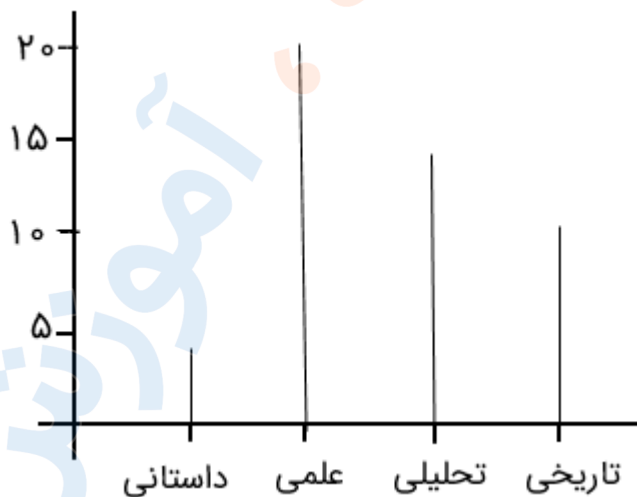
پاسخ:



تدریس خصوصی ریاضی به صورت حضوری و آنلاین با دبیران حرفه ای و پیگیری قدرتمند در مدرسه

۴۴۰۲۵۸۶۰ - ۲۶۵۷۰۸۱۰ - ۸۸۹۰۶۹۰۹ - ۸۸۹۰۴۰۰۲

کد تهران ۰۲۱



(۱۰ نمره)

. ۴

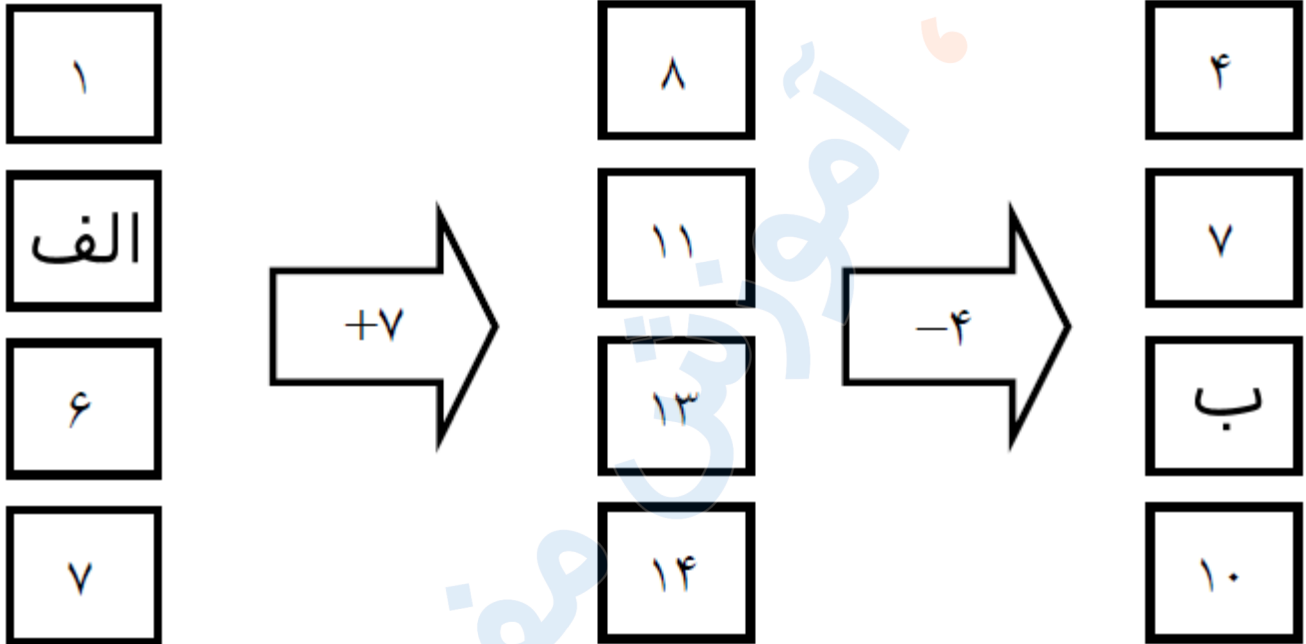


تدریس خصوصی ریاضی به صورت حضوری و آنلاین با دبیران حرفه ای و پیگیری قدرتمند در مدرسه

۴۴۰۲۵۸۶۰ - ۲۶۵۷۰۸۱۰ - ۸۸۹۰۶۹۰۹ - ۸۸۹۰۴۰۰۲

کد تهران ۰۲۱

در دو جای خالی (الف و ب) چه عدد هایی قرار دهیم تا جدول کامل شود؟



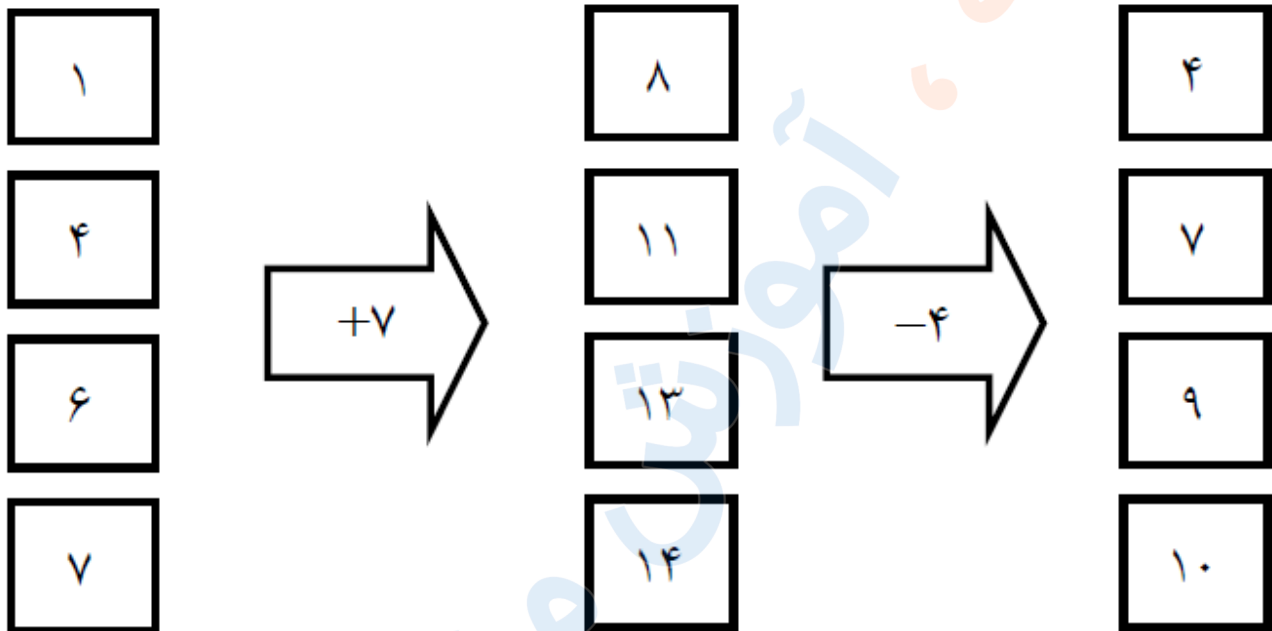
پاسخ :



تدریس خصوصی ریاضی به صورت حضوری و آنلاین با دبیران حرفه ای و پیگیری قدرتمند در مدرسه

۸۸۹۰۴۰۰۲ - ۸۸۹۰۶۹۰۹ - ۲۶۵۷۰۸۱۰ - ۴۴۰۲۵۸۶۰

کد تهران ۰۲۱



(۱۰ نمره)

. ۵

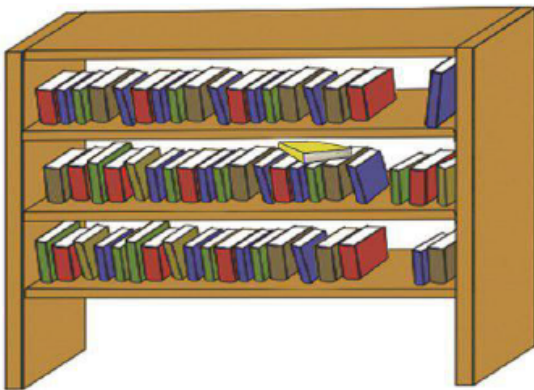


تدریس خصوصی ریاضی به صورت حضوری و آنلاین با دبیران حرفه ای و پیگیری قدرتمند در مدرسه

۴۴۰۲۵۸۶۰ - ۲۶۵۷۰۸۱۰ - ۸۸۹۰۶۹۰۹ - ۸۸۹۰۴۰۰۲

کد تهران ۰۲۱

کتاب های یک کتابخانه در شکل زیر نشان داده شده است . کتاب های ردیف اول ، کتاب های داستانی ، کتاب های ردیف دوم ، کتاب های مذهبی و کتاب های ردیف سوم ، کتاب های علمی می باشد. ما تعداد کتاب های هر موضوع را سرشماری و در جدول زیر قرار داده ایم . با توجه به جدول تعداد کتاب های مذهبی و علمی روی هم چند تاست؟



تعداد	چوب خط	نوع کتاب
۱۸	//// // // //	داستانی
۲۱	//// //// // // /	مذهبی
۱۹	//// // // ////	علمی

پاسخ :

$$۲۱ + ۱۹ = \boxed{۴۰}$$

(۱۰ نمره)

کدام عدد زوج نیست؟ (دبستان سرای دانش الغدیر - تهران ۱۴۰۲)



تدریس خصوصی ریاضی به صورت حضوری و آنلاین با دبیران حرفه ای و پیگیری قدرتمند در مدرسه

۴۴۰۲۵۸۶۰ - ۲۶۵۷۰۸۱۰ - ۸۸۹۰۶۹۰۹ - ۸۸۹۰۴۰۰۲

کد تهران ۰۲۱

پاسخ :

عددی که رقم آخر فرد دارد ۷۰۹

۷ .

(۱۰ نمره)

برای نشان دادن عددهای بزرگ بهتر است از کدام نمودار استفاده کنیم؟ (دبستان سرای دانش الغدیر - تهران ۱۴۰۲)

پاسخ :

نمودار تصویری

۸ .

(۱۰ نمره)

با توجه به نمودار کدام کلاس بیشترین امتیاز را دارد؟ (دبستان سرای دانش الغدیر - تهران ۱۴۰۲)





تدریس خصوصی ریاضی به صورت حضوری و آنلاین با دبیران حرفه ای و پیگیری قدرتمند در مدرسه

۸۸۹۰۴۰۰۲ - ۸۸۹۰۶۹۰۹ - ۲۶۵۷۰۸۱۰ - ۴۴۰۲۵۸۶۰

کد تهران ۰۲۱

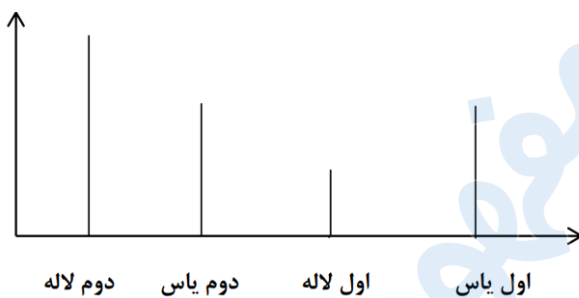
پاسخ :

دوم لاله

.۹

(۱۰ نمره)

کدام کلاس کمترین امتیاز را دارد؟ (دبستان سرای دانش الغدير - تهران ۱۴۰۲)



پاسخ :

اول لاله

.۱۰

(۱۰ نمره)





تدریس خصوصی ریاضی به صورت حضوری و آنلاین با دبیران حرفه ای و پیگیری قدرتمند در مدرسه

۴۴۰۲۵۸۶۰ - ۲۶۵۷۰۸۱۰ - ۸۸۹۰۶۹۰۹ - ۸۸۹۰۴۰۰۲

کد تهران ۰۲۱

دور اعداد زوج خط بکشید. (دبستان شهید پورجندقی- رفسنجان ۱۴۰۲)

۷۲۱ و ۹۹۰ و ۶۸۸ و ۳۵۷ و ۸۶ و ۲۱۲

پاسخ :

۷۲۱ و ۹۹۰ و ۶۸۸ و ۳۵۷ و ۸۶ و ۲۱۲