



تدریس خصوصی ریاضی به صورت حضوری و آنلاین با دبیران حرفه ای و پیگیری قدرتمند در مدرسه

۴۴۰۲۵۸۶۰ - ۲۶۵۷۰۸۱۰ - ۸۸۹۰۶۹۰۹ - ۸۸۹۰۴۰۰۲

کد تهران ۰۲۱

۱.

(۲ نمره)

با کارت‌های ۴ و ۷ و ۳ یک عدد سه رقمی زوج بنویسید. (دبستان سرای دانش-تهران ۱۴۰۲)

۲.

(۲ نمره)

عدد ۳۲۵ را به حروف بنویسید.

۳.

(۲ نمره)

عدد «هفتصد و چهل و دو» را در جدول ارزش مکانی نمایش دهید.

صدگان	دهگان	یکان

۴.

(۲ نمره)

طبق الگوی داده شده ادامه دهید.

۴۹۰ - ۴۸۹ - ۴۸۸ - _____ - _____ - _____



تدریس خصوصی ریاضی به صورت حضوری و آنلاین با دبیران حرفه ای و پیگیری قدرتمند در مدرسه

۴۴۰۲۵۸۶۰ - ۲۶۵۷۰۸۱۰ - ۸۸۹۰۶۹۰۹ - ۸۸۹۰۴۰۰۲

کد تهران ۰۲۱

۵.

(۲ نمره)

شکل رو به رو چه عددی را نشان می دهد؟ آن را به حروف بگویید و در جدول ارزش مکانی نشان دهید.



۶.

(۲ نمره)

عددهای سه رقمی ممکن با کارت های $\square 2$ $\square 7$ $\square 0$ ، را بنویسید.
بزرگترین و کوچکترین عدد نوشته شده را مشخص کنید.

۷.

(۲ نمره)

در جای خالی چه عددی قرار می گیرد؟

$$۱۰۰ - ۴۰ = \square$$





تدریس خصوصی ریاضی به صورت حضوری و آنلاین با دبیران حرفه ای و پیگیری قدرتمند در مدرسه

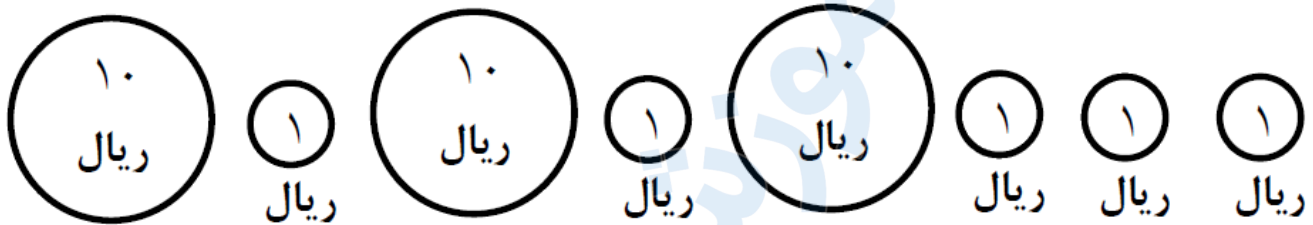
۴۴۰۲۵۸۶۰ - ۲۶۵۷۰۸۱۰ - ۸۸۹۰۶۹۰۹ - ۸۸۹۰۴۰۰۲

کد تهران ۰۲۱

. ۸

(۲ نمره)

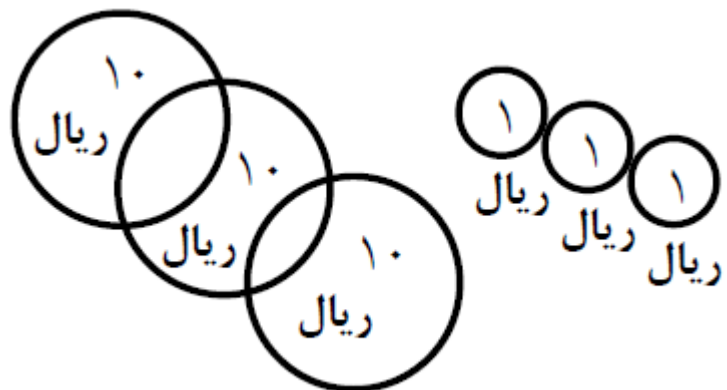
مقدار پول مربوط به شکل مقابل چقدر است؟



. ۹

(۲ نمره)

ارزش سکه های زیر چقدر می شود؟



. ۱۰

(۲ نمره)

۱۰ سکه ۱ ریالی برابر است با سکه ۱۰ ریالی.



تدریس خصوصی ریاضی به صورت حضوری و آنلاین با دبیران حرفه ای و پیگیری قدرتمند در مدرسه

۴۴۰۲۵۸۶۰ - ۲۶۵۷۰۸۱۰ - ۸۸۹۰۶۹۰۹ - ۸۸۹۰۴۰۰۲

کد تهران ۰۲۱

۱۱ .

(۲ نمره)

یک ساعت بعد از ساعت دو و نیم ساعت چند است؟

۱۲ .

(۲ نمره)

در جای خالی چه علامتی قرار دهیم تا عبارت صحیح باشد؟

۷۲۶ ○ ۹۹

۱۳ .

(۲ نمره)

دو ساعت بعد از ساعت سه و نیم چه ساعتی می شود؟


۱۴ .

(۲ نمره)

یک ساعت قبل از ساعت پنج و نیم چه ساعتی است؟

۱۵ .

(۲ نمره)



تدریس خصوصی ریاضی به صورت حضوری و آنلاین با دبیران حرفه ای و پیگیری قدرتمند در مدرسه

۸۸۹۰۴۰۰۲ - ۸۸۹۰۶۹۰۹ - ۲۶۵۷۰۸۱۰ - ۴۴۰۲۵۸۶۰

کد تهران ۰۲۱

عدد زیر با حروف کدام گزینه است؟


۸۱۹

۱۶ .
(۴ نمره)
عددهای سه رقمی بنویس که رقم یکان آن‌ها ۲ و، ۹ رقم دهگان آن‌ها ۷ و ۳ و رقم صدگان آن‌ها ۶ باشد.
(دبستان سرای دانش الغدير - تهران ۱۴۰۲)

۱۷ .
(۵ نمره)
با سه کارت ۷ و ۱ و ۰ چند عدد سه رقمی می‌توان نوشت؟ (دبستان شهید پورجندقی - رفسنجان ۱۴۰۲)

۱۸ .
(۵ نمره)
با کمک رقم های ۳ - ۰ - ۲ عددهای سه رقمی با رقم‌های غیرتکراری بنویسید.

۱۹ .
(۵ نمره)



تدریس خصوصی ریاضی به صورت حضوری و آنلاین با دبیران حرفه ای و پیگیری قدرتمند در مدرسه

۸۸۹۰۴۰۰۲ - ۸۸۹۰۶۹۰۹ - ۲۶۵۷۰۸۱۰ - ۴۴۰۲۵۸۶۰

کد تهران ۰۲۱

طبق الگوی داده شده ادامه دهید.

$$100 - 150 - 200 - _ - _ - _ - _$$

(۴ نمره)

. ۲۰

با روش دلخواه جواب دهید.

$$400 - 100 + 200 + 50 =$$

(۵ نمره)

. ۲۱

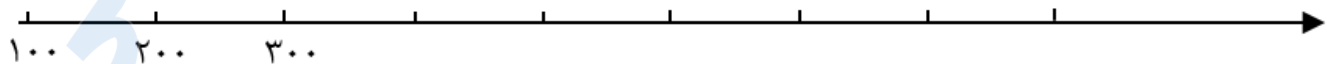
با روش دلخواه جواب دهید.

$$100 + 200 + 300 + 50 + 50 =$$

(۵ نمره)

. ۲۲

عددهای داده شده را به طور تقریبی روی محور نشان دهید.
۱۷۵ - ۲۲۳ - ۴۸۰ - ۷۳۰





تدریس خصوصی ریاضی به صورت حضوری و آنلاین با دبیران حرفه ای و پیگیری قدرتمند در مدرسه

۸۸۹۰۴۰۰۲ - ۸۸۹۰۶۹۰۹ - ۲۶۵۷۰۸۱۰ - ۴۴۰۲۵۸۶۰

کد تهران ۰۲۱

۲۳.

(۵ نمره)

جای خالی را پر کنید و بگویید عدد داده شده به کدام عدد نزدیکتر است.

$$\boxed{۸۹۰} \leftarrow ۸۹۴ \rightarrow \boxed{\quad}$$

۲۴.

(۴ نمره)

جای خالی را پر کنید و بگویید عدد داده شده به کدام عدد نزدیکتر است.

$$\boxed{۲۷۰} \leftarrow ۲۷۲ \rightarrow \boxed{\quad}$$

۲۵.

(۵ نمره)

جای خالی را پر کنید و بگویید عدد داده شده به کدام عدد نزدیکتر است.

$$\boxed{\quad} \leftarrow ۴۸۱ \rightarrow \boxed{۴۹۰}$$

۲۶.

(۵ نمره)



تدریس خصوصی ریاضی به صورت حضوری و آنلاین با دبیران حرفه ای و پیگیری قدرتمند در مدرسه

۴۴۰۲۵۸۶۰ - ۲۶۵۷۰۸۱۰ - ۸۸۹۰۶۹۰۹ - ۸۸۹۰۴۰۰۲

کد تهران ۰۲۱

جای خالی را پر کنید و بگویید عدد داده شده به کدام عدد نزدیکتر است.

$$\boxed{۲۲۰} \leftarrow ۲۲۳ \rightarrow \boxed{\quad}$$

. ۲۷

(۵ نمره)

ساعت ۶:۱۵ است. ۴۰ دقیقه بعد ساعت چند خواهد بود؟

. ۲۸

(۴ نمره)

در کدام عدد سه رقمی دهگان آن با مجموع یکان و صدگان برابر است؟

. ۲۹

(۵ نمره)

با رقم های ۱ و ۵ و ۴ چند عدد سه رقمی می توان نوشت؟

. ۳۰

(۴ نمره)

چهار دسته ده تایی و ۲ دسته صدتایی و ۴ یکی می شود