



تدریس خصوصی ریاضی به صورت حضوری و آنلاین با دبیران حرفه ای و پیگیری قدرتمند در مدرسه

۴۴۰۲۵۸۶۰ - ۲۶۵۷۰۸۱۰ - ۸۸۹۰۶۹۰۹ - ۸۸۹۰۴۰۰۲

کد تهران ۰۲۱

۱.

(۲ نمره)

با کارت‌های ۴ و ۷ و ۳ یک عدد سه رقمی زوج بنویسید. (دبستان سرای دانش-تهران ۱۴۰۲)

پاسخ:

۳۷۴

۲.

(۲ نمره)

عدد ۳۲۵ را به حروف بنویسید.

پاسخ:

سیصد و بیست و پنج

۳.

(۲ نمره)



تدریس خصوصی ریاضی به صورت حضوری و آنلاین با دبیران حرفه ای و پیگیری قدرتمند در مدرسه

۴۴۰۲۵۸۶۰ - ۲۶۵۷۰۸۱۰ - ۸۸۹۰۶۹۰۹ - ۸۸۹۰۴۰۰۲

کد تهران ۰۲۱

عدد «هفتصد و چهل و دو» را در جدول ارزش مکانی نمایش دهید.

صدگان	دهگان	یکان

پاسخ :

صدگان	دهگان	یکان
۷	۴	۲

(۲ نمره)

۴.

طبق الگوی داده شده ادامه دهید.

___ - ___ - ___ - ___ - ۴۸۸ - ۴۸۹ - ۴۹۰

پاسخ :

۴۸۴ - ۴۸۵ - ۴۸۶ - ۴۸۷ - ۴۸۸ - ۴۸۹ - ۴۹۰



تدریس خصوصی ریاضی به صورت حضوری و آنلاین با دبیران حرفه ای و پیگیری قدرتمند در مدرسه

۴۴۰۲۵۸۶۰ - ۲۶۵۷۰۸۱۰ - ۸۸۹۰۶۹۰۹ - ۸۸۹۰۴۰۰۲

کد تهران ۰۲۱

۵.

(۲ نمره)

شکل رو به رو چه عددی را نشان می دهد؟ آن را به حروف بگویید و در جدول ارزش مکانی نشان دهید.



پاسخ:

صدگان	دهگان	یکان
۲	۴	۸

حروف: دویست و چهل و هشت

۶.

(۲ نمره)

عددهای سه رقمی ممکن با کارت های ۲، ۷، ۰ را بنویسید.
بزرگترین و کوچکترین عدد نوشته شده را مشخص کنید.



تدریس خصوصی ریاضی به صورت حضوری و آنلاین با دبیران حرفه ای و پیگیری قدرتمند در مدرسه

۸۸۹۰۴۰۰۲ - ۸۸۹۰۶۹۰۹ - ۲۶۵۷۰۸۱۰ - ۴۴۰۲۵۸۶۰

کد تهران ۰۲۱

پاسخ :

$$۷۰۲ - ۷۲۰ - ۲۰۷ - ۲۷۰$$

بزرگترین عدد: ۷۲۰ کوچکترین عدد: ۲۰۷

. ۷

(۲ نمره)

در جای خالی چه عددی قرار می گیرد ؟

$$۱۰۰ - ۴۰ =$$

پاسخ :

$$۱۰۰ - ۴۰ = ۶۰$$

. ۸

(۲ نمره)

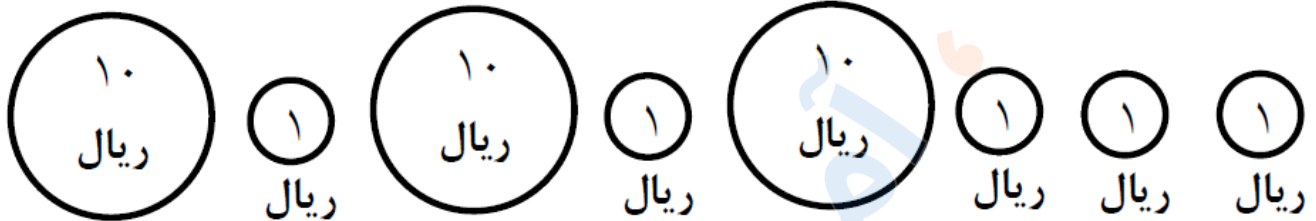


تدریس خصوصی ریاضی به صورت حضوری و آنلاین با دبیران حرفه ای و پیگیری قدرتمند در مدرسه

۸۸۹۰۴۰۰۲ - ۸۸۹۰۶۹۰۹ - ۲۶۵۷۰۸۱۰ - ۴۴۰۲۵۸۶۰

کد تهران ۰۲۱

مقدار پول مربوط به شکل مقابل چقدر است؟



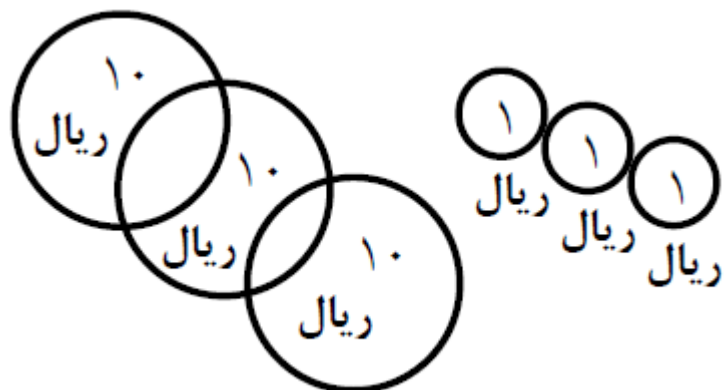
پاسخ :

۳۵ ریال

۹.

(۲ نمره)

ارزش سکه های زیر چقدر می شود؟



پاسخ :

۳۳ ریال



تدریس خصوصی ریاضی به صورت حضوری و آنلاین با دبیران حرفه ای و پیگیری قدرتمند در مدرسه

۴۴۰۲۵۸۶۰ - ۲۶۵۷۰۸۱۰ - ۸۸۹۰۶۹۰۹ - ۸۸۹۰۴۰۰۲

کد تهران ۰۲۱

۱۰ .

(۲ نمره)

۱۰ سکه ۱ ریالی برابر است با سکه ۱۰ ریالی.

پاسخ :

۱۰ سکه ۱ ریالی برابر است با ۱ سکه ۱۰ ریالی.

۱۱ .

(۲ نمره)

یک ساعت بعد از ساعت دو و نیم ساعت چند است؟

پاسخ :

۳:۳۰

۱۲ .

(۲ نمره)

در جای خالی چه علامتی قرار دهیم تا عبارت صحیح باشد؟

۷۲۶ ○ ۹۹



تدریس خصوصی ریاضی به صورت حضوری و آنلاین با دبیران حرفه ای و پیگیری قدرتمند در مدرسه

۸۸۹۰۴۰۰۲ - ۸۸۹۰۶۹۰۹ - ۲۶۵۷۰۸۱۰ - ۴۴۰۲۵۸۶۰

کد تهران ۰۲۱

پاسخ :

$$۷۲۶ \text{ () } ۹۹$$

۱۳ .

(۲ نمره)

دو ساعت بعد از ساعت سه و نیم چه ساعتی می شود؟

پاسخ :

۵:۳۰

۱۴ .

(۲ نمره)

یک ساعت قبل از ساعت پنج و نیم چه ساعتی است ؟

پاسخ :

۱ ساعت قبل از ساعت ۵:۳۰ ساعت ۴:۳۰ است.



تدریس خصوصی ریاضی به صورت حضوری و آنلاین با دبیران حرفه ای و پیگیری قدرتمند در مدرسه

۴۴۰۲۵۸۶۰ - ۲۶۵۷۰۸۱۰ - ۸۸۹۰۶۹۰۹ - ۸۸۹۰۴۰۰۲

کد تهران ۰۲۱

۱۵ .

(۲ نمره)

عدد زیر با حروف کدام گزینه است؟

۸۱۹

پاسخ :

هشتصد و نوزده

۱۶ .

(۴ نمره)

عددهای سه رقمی بنویس که رقم یکان آن‌ها ۲، ۹ رقم دهگان آن‌ها ۷ و ۳ و رقم صدگان آن‌ها ۶ باشد.

(دبستان سرای دانش الغدیر - تهران ۱۴۰۲)

پاسخ :

۶۳۹ و ۶۳۲ و ۶۷۲ و ۶۷۹

۱۷ .

(۵ نمره)



تدریس خصوصی ریاضی به صورت حضوری و آنلاین با دبیران حرفه ای و پیگیری قدرتمند در مدرسه

۸۸۹۰۴۰۰۲ - ۸۸۹۰۶۹۰۹ - ۲۶۵۷۰۸۱۰ - ۴۴۰۲۵۸۶۰

کد تهران ۰۲۱

با سه کارت ۷ و ۱ و ۰ چند عدد سه رقمی می توان نوشت؟ (دبستان شهید پورجندقی- رفسنجان ۱۴۰۲)

پاسخ:

۷۰۱ و ۷۱۰ و ۱۷۰ و ۱۰۷

. ۱۸

(۵ نمره)

با کمک رقم های ۳ - ۰ - ۲ عددهای سه رقمی با رقم های غیرتکراری بنویسید.

پاسخ:

۳۲۰ - ۳۰۲
۲۳۰ - ۲۰۳

. ۱۹

(۵ نمره)



تدریس خصوصی ریاضی به صورت حضوری و آنلاین با دبیران حرفه ای و پیگیری قدرتمند در مدرسه

۸۸۹۰۴۰۰۲ - ۸۸۹۰۶۹۰۹ - ۲۶۵۷۰۸۱۰ - ۴۴۰۲۵۸۶۰

کد تهران ۰۲۱

طبق الگوی داده شده ادامه دهید.

۱۰۰ - ۱۵۰ - ۲۰۰ - ___ - ___ - ___ - ___

پاسخ :

۱۰۰ - ۱۵۰ - ۲۰۰ - ۲۵۰ - ۳۰۰ - ۳۵۰ - ۴۰۰

. ۲۰

(۴ نمره)

با روش دلخواه جواب دهید.

$۴۰۰ - ۱۰۰ + ۲۰۰ + ۵۰ =$

پاسخ :

$۴۰۰ - ۱۰۰ + ۲۰۰ + ۵۰ = ۵۵۰$

. ۲۱

(۵ نمره)



تدریس خصوصی ریاضی به صورت حضوری و آنلاین با دبیران حرفه ای و پیگیری قدرتمند در مدرسه

۸۸۹۰۴۰۰۲ - ۸۸۹۰۶۹۰۹ - ۲۶۵۷۰۸۱۰ - ۴۴۰۲۵۸۶۰

کد تهران ۰۲۱

با روش دلخواه جواب دهید.

$$۱۰۰ + ۲۰۰ + ۳۰۰ + ۵۰ + ۵۰ =$$

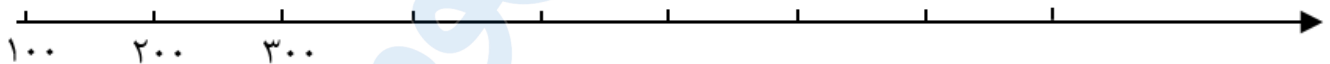
پاسخ :

$$۱۰۰ + ۲۰۰ + ۳۰۰ + ۵۰ + ۵۰ = ۷۰۰$$

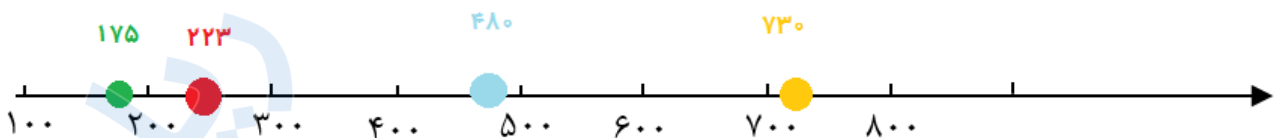
. ۲۲

(۵ نمره)

عددهای داده شده را به طور تقریبی روی محور نشان دهید.
۱۷۵ - ۲۲۳ - ۴۸۰ - ۷۳۰



پاسخ :



. ۲۳



تدریس خصوصی ریاضی به صورت حضوری و آنلاین با دبیران حرفه ای و پیگیری قدرتمند در مدرسه

۸۸۹۰۴۰۰۲ - ۸۸۹۰۶۹۰۹ - ۲۶۵۷۰۸۱۰ - ۴۴۰۲۵۸۶۰

کد تهران ۰۲۱

(۵ نمره)

جای خالی را پر کنید و بگویید عدد داده شده به کدام عدد نزدیکتر است.

$$\boxed{۸۹۰} \leftarrow ۸۹۴ \rightarrow \boxed{}$$

پاسخ :

$$\boxed{۸۹۰} \leftarrow ۸۹۴ \rightarrow \boxed{۹۰۰}$$

به ۸۹۰ نزدیکتر است.

. ۲۴

(۴ نمره)

جای خالی را پر کنید و بگویید عدد داده شده به کدام عدد نزدیکتر است.

$$\boxed{۲۷۰} \leftarrow ۲۷۲ \rightarrow \boxed{}$$

پاسخ :

$$\boxed{۲۷۰} \leftarrow ۲۷۲ \rightarrow \boxed{۲۸۰}$$

به ۲۷۰ نزدیکتر است.



تدریس خصوصی ریاضی به صورت حضوری و آنلاین با دبیران حرفه ای و پیگیری قدرتمند در مدرسه

۴۴۰۲۵۸۶۰ - ۲۶۵۷۰۸۱۰ - ۸۸۹۰۶۹۰۹ - ۸۸۹۰۴۰۰۲

کد تهران ۰۲۱

. ۲۵

(۵ نمره)

جای خالی را پر کنید و بگویید عدد داده شده به کدام عدد نزدیکتر است.

$$\boxed{\quad} \leftarrow ۴۸۱ \rightarrow \boxed{۴۹۰}$$

پاسخ :

$$\boxed{۴۸۰} \leftarrow ۴۸۱ \rightarrow \boxed{۴۹۰}$$

به ۴۸۰ نزدیکتر است.

. ۲۶

(۵ نمره)

جای خالی را پر کنید و بگویید عدد داده شده به کدام عدد نزدیکتر است.

$$\boxed{۲۲۰} \leftarrow ۲۲۳ \rightarrow \boxed{\quad}$$

پاسخ :

$$\boxed{۲۲۰} \leftarrow ۲۲۳ \rightarrow \boxed{۲۳۰}$$



تدریس خصوصی ریاضی به صورت حضوری و آنلاین با دبیران حرفه ای و پیگیری قدرتمند در مدرسه

۴۴۰۲۵۸۶۰ - ۲۶۵۷۰۸۱۰ - ۸۸۹۰۶۹۰۹ - ۸۸۹۰۴۰۰۲

کد تهران ۰۲۱

به ۲۲۰ نزدیکتر است.

. ۲۷

(۵ نمره)

ساعت ۶:۱۵ است. ۴۰ دقیقه بعد ساعت چند خواهد بود؟

پاسخ :

۶:۵۵

. ۲۸

(۴ نمره)

در کدام عدد سه رقمی دهگان آن با مجموع یکان و صدگان برابر است؟

پاسخ :

۴۷۳

. ۲۹

(۵ نمره)

با رقم های ۱ و ۵ و ۴ چند عدد سه رقمی می توان نوشت؟



تدریس خصوصی ریاضی به صورت حضوری و آنلاین با دبیران حرفه ای و پیگیری قدرتمند در مدرسه

۸۸۹۰۴۰۰۲ - ۸۸۹۰۶۹۰۹ - ۲۶۵۷۰۸۱۰ - ۴۴۰۲۵۸۶۰

کد تهران ۰۲۱

پاسخ :

۶

۳۰ .

(۴ نمره)

چهار دسته ده تایی و ۲ دسته صدتایی و ۴ یکی می شود

پاسخ :

چهار دسته ده تایی و ۲ دسته صدتایی و ۴ یکی می شود ۲۴۴ .