



تدریس خصوصی ریاضی به صورت حضوری و آنلاین با دبیران حرفه ای و پیگیری قدرتمند در مدرسه

۴۴۰۲۵۸۶۰ - ۲۶۵۷۰۸۱۰ - ۸۸۹۰۶۹۰۹ - ۸۸۹۰۴۰۰۲

کد تهران ۰۲۱

۱.

(۲ نمره)


نام شکل زیر کدام است؟ (دبستان فدک نور - آذرشهر ۱۴۰۰)



۲.

(۲ نمره)

نام شکل زیر را بنویسید. (دبستان فدک نور - آذرشهر ۱۴۰۰)



۳.

(۲ نمره)




تدریس خصوصی ریاضی به صورت حضوری و آنلاین با دبیران حرفه ای و پیگیری قدرتمند در مدرسه

۴۴۰۲۵۸۶۰ - ۲۶۵۷۰۸۱۰ - ۸۸۹۰۶۹۰۹ - ۸۸۹۰۴۰۰۲

کد تهران ۰۲۱

نام شکل زیر را بنویس و آن را به ۴ قسمت مساوی تقسیم کن. (دبستان سرای دانش الغدیر - تهران ۱۴۰۲)



. ۴

(۲ نمره)

نام شکل زیر را بنویس و آن را به ۴ قسمت مساوی تقسیم کن. (دبستان سرای دانش الغدیر - تهران ۱۴۰۲)



. ۵

(۲ نمره)




تدریس خصوصی ریاضی به صورت حضوری و آنلاین با دبیران حرفه ای و پیگیری قدرتمند در مدرسه

۸۸۹۰۴۰۰۲ - ۸۸۹۰۶۹۰۹ - ۲۶۵۷۰۸۱۰ - ۴۴۰۲۵۸۶۰

کد تهران ۰۲۱

نام شکل زیر را بنویس و آن را به ۴ قسمت مساوی تقسیم کن. (دبستان سرای دانش الغدیر - تهران ۱۴۰۲)



. ۶

(۲ نمره)

تفاوت شکل های زیر را بنویسید. (دبستان شهید پورجندقی- رفسنجان ۱۴۰۲)



. ۷

(۲ نمره)

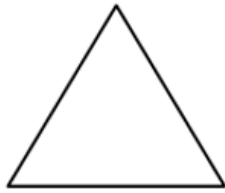



تدریس خصوصی ریاضی به صورت حضوری و آنلاین با دبیران حرفه ای و پیگیری قدرتمند در مدرسه

۸۸۹۰۴۰۰۲ - ۸۸۹۰۶۹۰۹ - ۲۶۵۷۰۸۱۰ - ۴۴۰۲۵۸۶۰

کد تهران ۰۲۱

شبهات شکل‌های زیر را بنویسید. (دبستان شهید پورجندقی- رفسنجان ۱۴۰۲)



(۲ نمره)



ساعت را بنویسید.

(۲ نمره)



تدریس خصوصی ریاضی به صورت حضوری و آنلاین با دبیران حرفه ای و پیگیری قدرتمند در مدرسه

۸۸۹۰۴۰۰۲ - ۸۸۹۰۶۹۰۹ - ۲۶۵۷۰۸۱۰ - ۴۴۰۲۵۸۶۰

کد تهران ۰۲۱

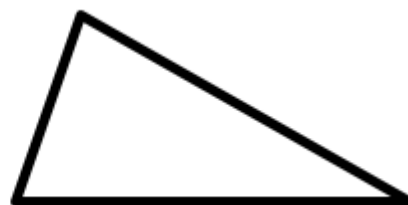


ساعت را بگردید.

. ۱۰

(۲ نمره)

در شکل های زیر تفاوت و شباهت را بگویید.



. ۱۱

(۲ نمره)

اگر ضلع های یک مستطیل برابر شوند چه شکلی حاصل می شود؟

. ۱۲



تدریس خصوصی ریاضی به صورت حضوری و آنلاین با دبیران حرفه ای و پیگیری قدرتمند در مدرسه

۴۴۰۲۵۸۶۰ - ۲۶۵۷۰۸۱۰ - ۸۸۹۰۶۹۰۹ - ۸۸۹۰۴۰۰۲

کد تهران ۰۲۱

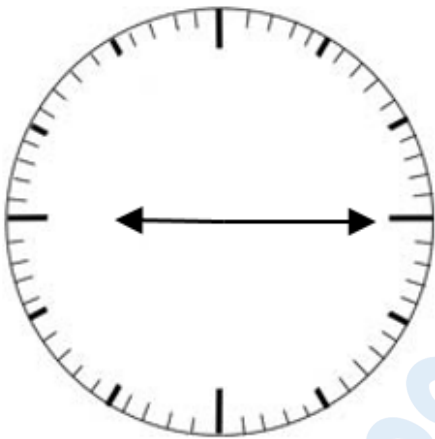
(۲ نمره)

کدام یک از شکل های زیر خط تقارن دارد ؟

۱۳ .

(۴ نمره)

ساعت نشان داده شده را بیابید.



۱۴ .

(۵ نمره)



تدریس خصوصی ریاضی به صورت حضوری و آنلاین با دبیران حرفه ای و پیگیری قدرتمند در مدرسه

۸۸۹۰۴۰۰۲ - ۸۸۹۰۶۹۰۹ - ۲۶۵۷۰۸۱۰ - ۴۴۰۲۵۸۶۰

کد تهران ۰۲۱

عقربه‌ها رسم کنید.



یک ربع مانده به ساعت ۵

. ۱۵

(۴ نمره)



شباهت و اختلاف دو شکل را بنویسید.

شباهت:

اختلاف:

. ۱۶

(۴ نمره)




تدریس خصوصی ریاضی به صورت حضوری و آنلاین با دبیران حرفه ای و پیگیری قدرتمند در مدرسه

۸۸۹۰۴۰۰۲ - ۸۸۹۰۶۹۰۹ - ۲۶۵۷۰۸۱۰ - ۴۴۰۲۵۸۶۰

کد تهران ۰۲۱


ساعت مناسب شکل را انتخاب کنید.



۱۷ .

(۴ نمره)

ساعت مناسب شکل را انتخاب کنید.





تدریس خصوصی ریاضی به صورت حضوری و آنلاین با دبیران حرفه ای و پیگیری قدرتمند در مدرسه

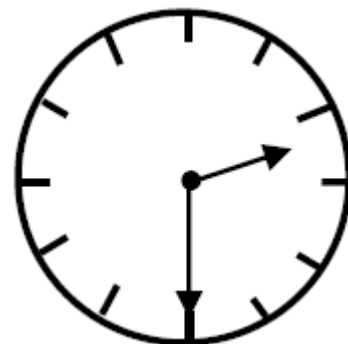
۸۸۹۰۴۰۰۲ - ۸۸۹۰۶۹۰۹ - ۲۶۵۷۰۸۱۰ - ۴۴۰۲۵۸۶۰

کد تهران ۰۲۱

۱۸.

(۴ نمره)

عقربه بزرگ چند دقیقه حرکت کند تا ساعت ۳ شود؟



۱۹.

(۵ نمره)

اگر ضلع های یک مستطیل برابر شوند، چه شکلی حاصل می شود؟

۲۰.

(۴ نمره)




تدریس خصوصی ریاضی به صورت حضوری و آنلاین با دبیران حرفه ای و پیگیری قدرتمند در مدرسه

۸۸۹۰۴۰۰۲ - ۸۸۹۰۶۹۰۹ - ۲۶۵۷۰۸۱۰ - ۴۴۰۲۵۸۶۰

کد تهران ۰۲۱

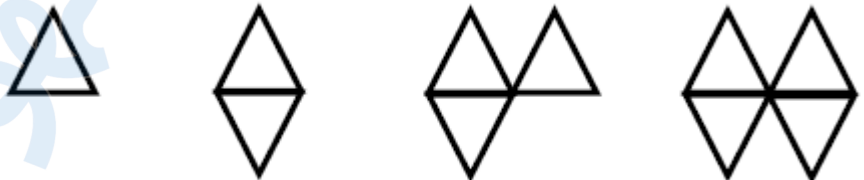
اگر الگوی زیر در هر روز یک مرحله جلو برود ، بعد از یک هفته چه شکلی می شود ؟



. ۲۱

(۴ نمره)

الگوی بعدی در شکل زیر کدام است؟



. ۲۲

(۴ نمره)




تدریس خصوصی ریاضی به صورت حضوری و آنلاین با دبیران حرفه ای و پیگیری قدرتمند در مدرسه

۸۸۹۰۴۰۰۲ - ۸۸۹۰۶۹۰۹ - ۲۶۵۷۰۸۱۰ - ۴۴۰۲۵۸۶۰

کد تهران ۰۲۱

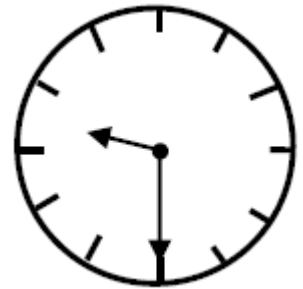
ساعت زیر چه زمانی را نشان می دهد؟



. ۲۳

(۵ نمره)

زمانی که این ساعت نشان می دهد به فارسی برابر با کدام گزینه است؟



. ۲۴

(۴ نمره)

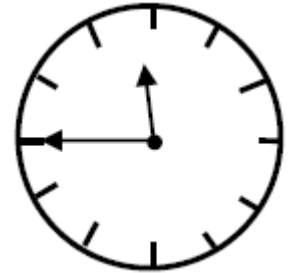


تدریس خصوصی ریاضی به صورت حضوری و آنلاین با دبیران حرفه ای و پیگیری قدرتمند در مدرسه

۸۸۹۰۴۰۰۲ - ۸۸۹۰۶۹۰۹ - ۲۶۵۷۰۸۱۰ - ۴۴۰۲۵۸۶۰

کد تهران ۰۲۱

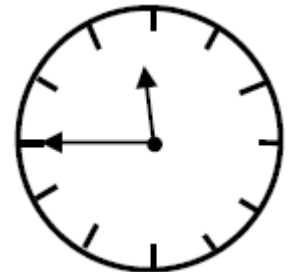
ساعت زیر چه زمانی را نشان می دهد؟



. ۲۵

(۴ نمره)

ساعت زیر چه زمانی را نشان می دهد؟



. ۲۶

(۵ نمره)

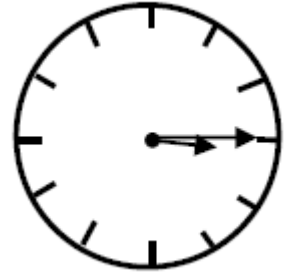


تدریس خصوصی ریاضی به صورت حضوری و آنلاین با دبیران حرفه ای و پیگیری قدرتمند در مدرسه

۴۴۰۲۵۸۶۰ - ۲۶۵۷۰۸۱۰ - ۸۸۹۰۶۹۰۹ - ۸۸۹۰۴۰۰۲

کد تهران ۰۲۱

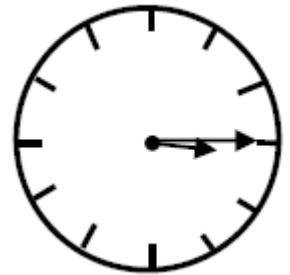
ساعت زیر چه زمانی را نشان می دهد؟



. ۲۷

(۴ نمره)

زمانی که این ساعت نشان می دهد به فارسی برابر با کدام گزینه است؟



. ۲۸

(۴ نمره)

کدام یک از شکل های زیر خط تقارن ندارد؟

. ۲۹



تدریس خصوصی ریاضی به صورت حضوری و آنلاین با دبیران حرفه ای و پیگیری قدرتمند در مدرسه

۴۴۰۲۵۸۶۰ - ۲۶۵۷۰۸۱۰ - ۸۸۹۰۶۹۰۹ - ۸۸۹۰۴۰۰۲

کد تهران ۰۲۱

(۴ نمره)

درستی یا نادرستی جمله زیر را مشخص کنید. (دبستان سرای دانش الغدیر - تهران ۱۴۰۲)
«در شکل‌های هندسی، تعداد ضلع‌ها و تعداد گوشه‌ها با هم برابر است.»

. ۳۰

(۴ نمره)

نام شکل زیر را بنویسید. (دبستان فدک نور - آذرشهر ۱۴۰۰)

