



تدریس خصوصی ریاضی به صورت حضوری و آنلاین با دبیران حرفه ای و پیگیری قدرتمند در مدرسه

۴۴۰۲۵۸۶۰ - ۲۶۵۷۰۸۱۰ - ۸۸۹۰۶۹۰۹ - ۸۸۹۰۴۰۰۲

کد تهران ۰۲۱

۱.

(۲ نمره)

نام شکل زیر کدام است؟ (دبستان فدک نور - آذرشهر ۱۴۰۰)



پاسخ :

مستطیل

۲.

(۲ نمره)

نام شکل زیر را بنویسید. (دبستان فدک نور - آذرشهر ۱۴۰۰)





تدریس خصوصی ریاضی به صورت حضوری و آنلاین با دبیران حرفه ای و پیگیری قدرتمند در مدرسه

۸۸۹۰۴۰۰۲ - ۸۸۹۰۶۹۰۹ - ۲۶۵۷۰۸۱۰ - ۴۴۰۲۵۸۶۰

کد تهران ۰۲۱


پاسخ :

دایره

۳ .

(۲ نمره)

نام شکل زیر را بنویس و آن را به ۴ قسمت مساوی تقسیم کن. (دبستان سرای دانش الغدیر - تهران ۱۴۰۲)




پاسخ :



تدریس خصوصی ریاضی به صورت حضوری و آنلاین با دبیران حرفه ای و پیگیری قدرتمند در مدرسه

۴۴۰۲۵۸۶۰ - ۲۶۵۷۰۸۱۰ - ۸۸۹۰۶۹۰۹ - ۸۸۹۰۴۰۰۲

کد تهران ۰۲۱



مربع

۴ .

(۲ نمره)

نام شکل زیر را بنویس و آن را به ۴ قسمت مساوی تقسیم کن. (دبستان سرای دانش الغدير - تهران ۱۴۰۲)




پاسخ :



تدریس خصوصی ریاضی به صورت حضوری و آنلاین با دبیران حرفه ای و پیگیری قدرتمند در مدرسه

۸۸۹۰۴۰۰۲ - ۸۸۹۰۶۹۰۹ - ۲۶۵۷۰۸۱۰ - ۴۴۰۲۵۸۶۰

کد تهران ۰۲۱




مستطیل

۵.

(۲ نمره)

نام شکل زیر را بنویس و آن را به ۴ قسمت مساوی تقسیم کن. (دبستان سرای دانش الغدیر - تهران ۱۴۰۲)




پاسخ :



تدریس خصوصی ریاضی به صورت حضوری و آنلاین با دبیران حرفه ای و پیگیری قدرتمند در مدرسه

۸۸۹۰۴۰۰۲ - ۸۸۹۰۶۹۰۹ - ۲۶۵۷۰۸۱۰ - ۴۴۰۲۵۸۶۰

کد تهران ۰۲۱



دایره

(۲ نمره)

.۶

تفاوت شکل‌های زیر را بنویسید. (دبستان شهید پورجندقی-رفسنجان ۱۴۰۲)



پاسخ :



تدریس خصوصی ریاضی به صورت حضوری و آنلاین با دبیران حرفه ای و پیگیری قدرتمند در مدرسه

۴۴۰۲۵۸۶۰ - ۲۶۵۷۰۸۱۰ - ۸۸۹۰۶۹۰۹ - ۸۸۹۰۴۰۰۲

کد تهران ۰۲۱

مربع ۴ ضلع و ۴ گوشه دارد ولی مثلث ۳ ضلع و ۳ گوشه دارد.

. ۷

(۲ نمره)

شبهات شکل‌های زیر را بنویسید. (دبستان شهید پورجندقی - رفسنجان ۱۴۰۲)



پاسخ :

هر دو شکل هندسی هستند و ضلع‌های برابر و گوشه دارند.

. ۸

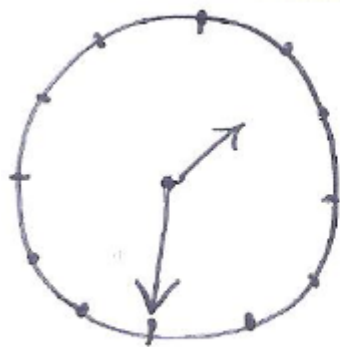
(۲ نمره)



تدریس خصوصی ریاضی به صورت حضوری و آنلاین با دبیران حرفه ای و پیگیری قدرتمند در مدرسه

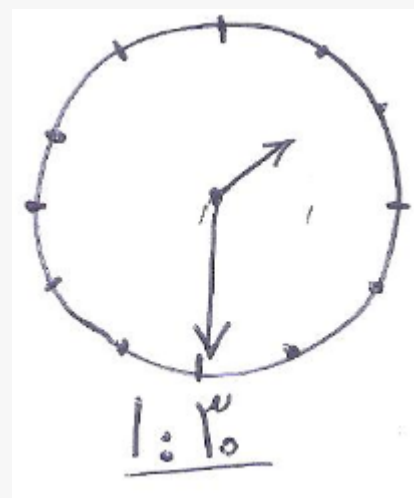
۸۸۹۰۴۰۰۲ - ۸۸۹۰۶۹۰۹ - ۲۶۵۷۰۸۱۰ - ۴۴۰۲۵۸۶۰

کد تهران ۰۲۱



ساعت را بکشید.

پاسخ :



(۲ نمره)

.۹



تدریس خصوصی ریاضی به صورت حضوری و آنلاین با دبیران حرفه ای و پیگیری قدرتمند در مدرسه

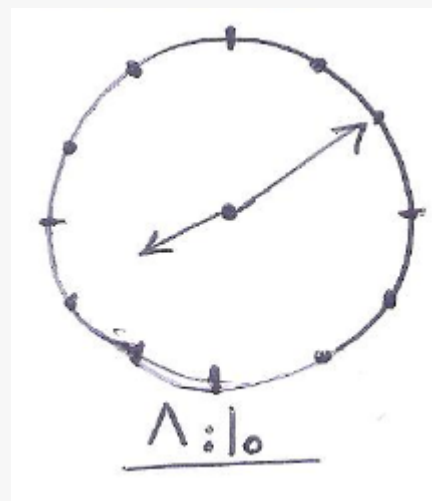
۸۸۹۰۴۰۰۲ - ۸۸۹۰۶۹۰۹ - ۲۶۵۷۰۸۱۰ - ۴۴۰۲۵۸۶۰

کد تهران ۰۲۱



ساعت را بکشید.

پاسخ :



(۲ نمره)

. ۱۰



تدریس خصوصی ریاضی به صورت حضوری و آنلاین با دبیران حرفه ای و پیگیری قدرتمند در مدرسه

۴۴۰۲۵۸۶۰ - ۲۶۵۷۰۸۱۰ - ۸۸۹۰۶۹۰۹ - ۸۸۹۰۴۰۰۲

کد تهران ۰۲۱

در شکل های زیر تفاوت و شباهت را بگویید.



پاسخ :

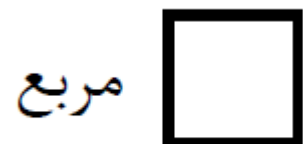
تفاوت: اندازه همه ضلع های مثلث سمت چپ با هم مساوی است، اما در مثلث سمت راست این طور نیست.
شباهت: هر دو سه ضلع و سه گوشه دارند. هر دو مثلث هستند.

. ۱۱

(۲ نمره)

اگر ضلع های یک مستطیل برابر شوند چه شکلی حاصل می شود؟

پاسخ :





تدریس خصوصی ریاضی به صورت حضوری و آنلاین با دبیران حرفه ای و پیگیری قدرتمند در مدرسه

۴۴۰۲۵۸۶۰ - ۲۶۵۷۰۸۱۰ - ۸۸۹۰۶۹۰۹ - ۸۸۹۰۴۰۰۲

کد تهران ۰۲۱

۱۲ .

(۲ نمره)

کدام یک از شکل های زیر خط تقارن دارد ؟

پاسخ :



خط تقارن ندارد.



خط تقارن ندارد.



خط تقارن ندارد.



۱ خط تقارن دارد.

۱۳ .

(۴ نمره)

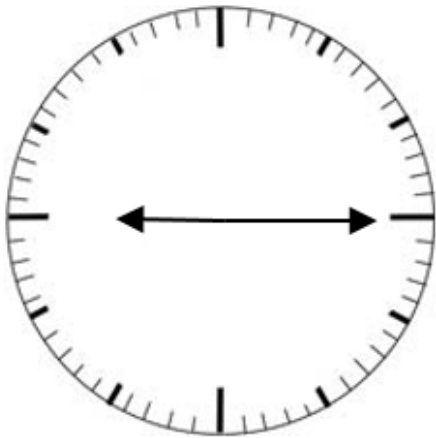


تدریس خصوصی ریاضی به صورت حضوری و آنلاین با دبیران حرفه ای و پیگیری قدرتمند در مدرسه

۴۴۰۲۵۸۶۰ - ۲۶۵۷۰۸۱۰ - ۸۸۹۰۶۹۰۹ - ۸۸۹۰۴۰۰۲

کد تهران ۰۲۱

ساعت نشان داده شده را بیابید.



پاسخ:

ساعت: ۹ و ۱۵ دقیقه یا ۹ و ربع

. ۱۴

(۵ نمره)



تدریس خصوصی ریاضی به صورت حضوری و آنلاین با دبیران حرفه ای و پیگیری قدرتمند در مدرسه

۸۸۹۰۴۰۰۲ - ۸۸۹۰۶۹۰۹ - ۲۶۵۷۰۸۱۰ - ۴۴۰۲۵۸۶۰

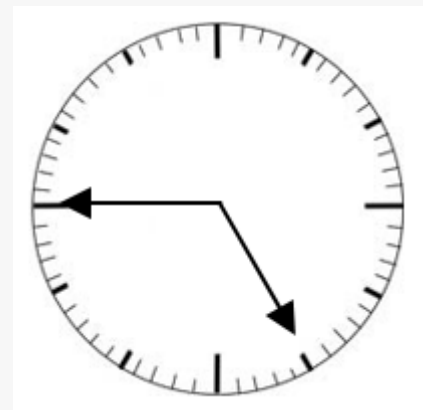
کد تهران ۰۲۱

عقربه‌ها رسم کنید.



یک ربع مانده به ساعت ۵

پاسخ :





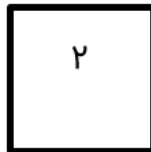
تدریس خصوصی ریاضی به صورت حضوری و آنلاین با دبیران حرفه ای و پیگیری قدرتمند در مدرسه

۴۴۰۲۵۸۶۰ - ۲۶۵۷۰۸۱۰ - ۸۸۹۰۶۹۰۹ - ۸۸۹۰۴۰۰۲

کد تهران ۰۲۱

۱۵ .

(۴ نمره)



شباهت و اختلاف دو شکل را بنویسید.

شباهت:

اختلاف:

پاسخ:


شباهت: هر دو چهار ضلع دارند.

اختلاف: در شکل ۱ اندازه ضلع‌ها برابر نیست اما در شکل ۲ برابر است.

۱۶ .

(۴ نمره)

ساعت مناسب شکل را انتخاب کنید.





تدریس خصوصی ریاضی به صورت حضوری و آنلاین با دبیران حرفه ای و پیگیری قدرتمند در مدرسه

۴۴۰۲۵۸۶۰ - ۲۶۵۷۰۸۱۰ - ۸۸۹۰۶۹۰۹ - ۸۸۹۰۴۰۰۲

کد تهران ۰۲۱


پاسخ :

ساعت ۸ و ۱۰ دقیقه است.

۱۷ .

(۴ نمره)

ساعت مناسب شکل را انتخاب کنید.



پاسخ :

ساعت ۱ و ۳۰ دقیقه است.



تدریس خصوصی ریاضی به صورت حضوری و آنلاین با دبیران حرفه ای و پیگیری قدرتمند در مدرسه

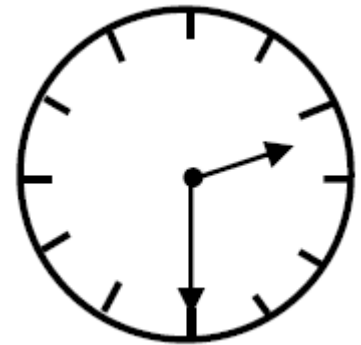
۸۸۹۰۴۰۰۲ - ۸۸۹۰۶۹۰۹ - ۲۶۵۷۰۸۱۰ - ۴۴۰۲۵۸۶۰

کد تهران ۰۲۱

۱۸ .

(۴ نمره)

عقربه بزرگ چند دقیقه حرکت کند تا ساعت ۳ شود؟



پاسخ :

۳۰ دقیقه مانده به ۳

۱۹ .

(۵ نمره)

اگر ضلع های یک مستطیل برابر شوند، چه شکلی حاصل می شود؟

پاسخ :

مربع

۲۰ .



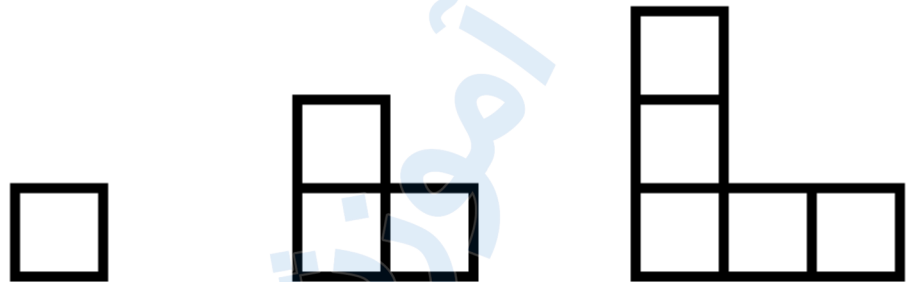
تدریس خصوصی ریاضی به صورت حضوری و آنلاین با دبیران حرفه ای و پیگیری قدرتمند در مدرسه

۸۸۹۰۴۰۰۲ - ۸۸۹۰۶۹۰۹ - ۲۶۵۷۰۸۱۰ - ۴۴۰۲۵۸۶۰


کد تهران ۰۲۱

(۴ نمره)

اگر الگوی زیر در هر روز یک مرحله جلو برود ، بعد از یک هفته چه شکلی می شود ؟



پاسخ :



۲۱ .

(۴ نمره)

الگوی بعدی در شکل زیر کدام است ؟



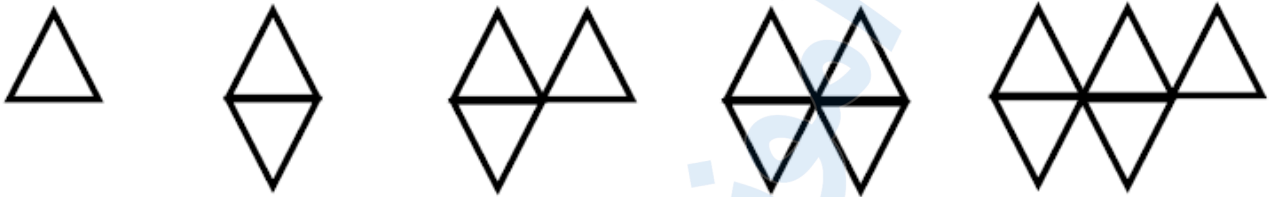


تدریس خصوصی ریاضی به صورت حضوری و آنلاین با دبیران حرفه ای و پیگیری قدرتمند در مدرسه

۸۸۹۰۴۰۰۲ - ۸۸۹۰۶۹۰۹ - ۲۶۵۷۰۸۱۰ - ۴۴۰۲۵۸۶۰

کد تهران ۰۲۱

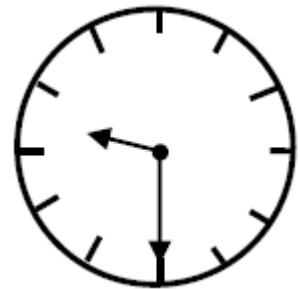
پاسخ :



۲۲ .

(۴ نمره)

ساعت زیر چه زمانی را نشان می دهد؟




پاسخ :



تدریس خصوصی ریاضی به صورت حضوری و آنلاین با دبیران حرفه ای و پیگیری قدرتمند در مدرسه

۴۴۰۲۵۸۶۰ - ۲۶۵۷۰۸۱۰ - ۸۸۹۰۶۹۰۹ - ۸۸۹۰۴۰۰۲

کد تهران ۰۲۱




۹:۳۰

۲۳.

(۵ نمره)

زمانی که این ساعت نشان می دهد به فارسی برابر با کدام گزینه است؟




پاسخ :



تدریس خصوصی ریاضی به صورت حضوری و آنلاین با دبیران حرفه ای و پیگیری قدرتمند در مدرسه

۸۸۹۰۴۰۰۲ - ۸۸۹۰۶۹۰۹ - ۲۶۵۷۰۸۱۰ - ۴۴۰۲۵۸۶۰

کد تهران ۰۲۱

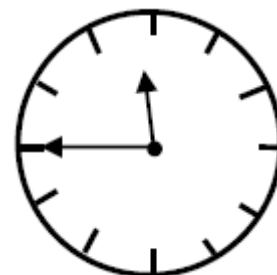


نه و نیم

۲۴ .

(۴ نمره)

ساعت زیر چه زمانی را نشان می دهد؟



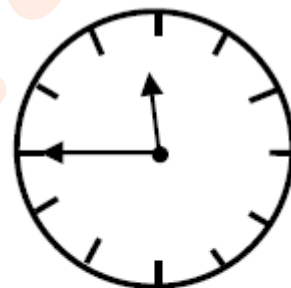
پاسخ :



تدریس خصوصی ریاضی به صورت حضوری و آنلاین با دبیران حرفه ای و پیگیری قدرتمند در مدرسه

۸۸۹۰۴۰۰۲ - ۸۸۹۰۶۹۰۹ - ۲۶۵۷۰۸۱۰ - ۴۴۰۲۵۸۶۰

کد تهران ۰۲۱

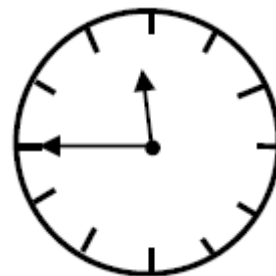


۱۱:۴۵

۲۵.

(۴ نمره)

ساعت زیر چه زمانی را نشان می دهد؟



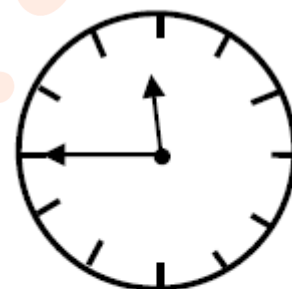
پاسخ :



تدریس خصوصی ریاضی به صورت حضوری و آنلاین با دبیران حرفه ای و پیگیری قدرتمند در مدرسه

۸۸۹۰۴۰۰۲ - ۸۸۹۰۶۹۰۹ - ۲۶۵۷۰۸۱۰ - ۴۴۰۲۵۸۶۰

کد تهران ۰۲۱

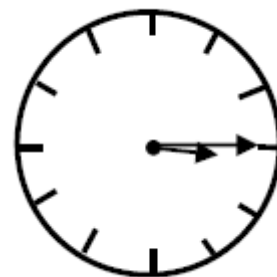


یک ربع مانده به ۱۲

۲۶.

(۵ نمره)

ساعت زیر چه زمانی را نشان می دهد؟



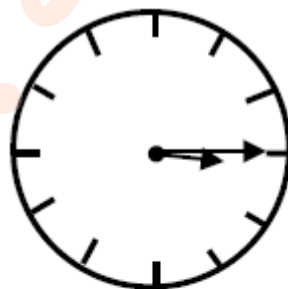
پاسخ :



تدریس خصوصی ریاضی به صورت حضوری و آنلاین با دبیران حرفه ای و پیگیری قدرتمند در مدرسه

۸۸۹۰۴۰۰۲ - ۸۸۹۰۶۹۰۹ - ۲۶۵۷۰۸۱۰ - ۴۴۰۲۵۸۶۰

کد تهران ۰۲۱

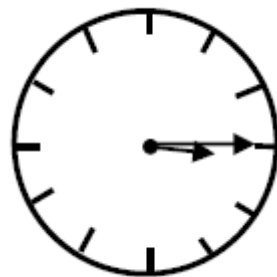


۳:۱۵

۲۷.

(۴ نمره)

زمانی که این ساعت نشان می دهد به فارسی برابر با کدام گزینه است؟



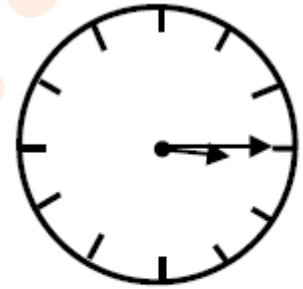
پاسخ :



تدریس خصوصی ریاضی به صورت حضوری و آنلاین با دبیران حرفه ای و پیگیری قدرتمند در مدرسه

۸۸۹۰۴۰۰۲ - ۸۸۹۰۶۹۰۹ - ۲۶۵۷۰۸۱۰ - ۴۴۰۲۵۸۶۰

کد تهران ۰۲۱



سه و ربع

۲۸.

(۴ نمره)

کدام یک از شکل های زیر خط تقارن ندارد؟

پاسخ :



خط تقارن ندارد.



۳ خط تقارن دارد.



۱ خط تقارن دارد.



۱ خط تقارن دارد.



تدریس خصوصی ریاضی به صورت حضوری و آنلاین با دبیران حرفه ای و پیگیری قدرتمند در مدرسه

۴۴۰۲۵۸۶۰ - ۲۶۵۷۰۸۱۰ - ۸۸۹۰۶۹۰۹ - ۸۸۹۰۴۰۰۲

کد تهران ۰۲۱

۲۹.

(۴ نمره)

درستی یا نادرستی جمله زیر را مشخص کنید. (دبستان سرای دانش الغدیر - تهران ۱۴۰۲)
«در شکل‌های هندسی، تعداد ضلع‌ها و تعداد گوشه‌ها با هم برابر است.»

پاسخ:

درست

۳۰.

(۴ نمره)

نام شکل زیر را بنویسید. (دبستان فدک نور - آذرشهر ۱۴۰۰)



پاسخ:

مثلث