



تدریس خصوصی ریاضی به صورت حضوری و آنلاین با دبیران حرفه ای و پیگیری قدرتمند در مدرسه


۸۸۹۰۴۰۰۲ - ۸۸۹۰۶۹۰۹ - ۲۶۵۷۰۸۱۰ - ۴۴۰۲۵۸۶۰

کد تهران ۰۲۱

. ۱

(۳ نمره)

پسرم جمع کن و علامت مناسب بگذار. (دبستان فدک نور - آذرشهر ۱۴۰۰)



پاسخ :

$$۲۰ + ۱۰ = ۳۰$$

. ۲

(۲ نمره)

ساعت یازده و ربع یعنی (دبستان سرای دانش الغدیر - تهران ۱۴۰۲)

پاسخ :

۱۱:۱۵



تدریس خصوصی ریاضی به صورت حضوری و آنلاین با دبیران حرفه ای و پیگیری قدرتمند در مدرسه

۴۴۰۲۵۸۶۰ - ۲۶۵۷۰۸۱۰ - ۸۸۹۰۶۹۰۹ - ۸۸۹۰۴۰۰۲

کد تهران ۰۲۱

۳.

(۲ نمره)

با توجه به شکل زیر جای خالی را پر کنید. (دبستان شهید پورجندقی- رفسنجان ۱۴۰۲)

« تا تایی می شود »

○○○|○○○|○○○|○○○

پاسخ :

۴ تا ۲ تایی می شود ۸ تا

۴.

(۳ نمره)

الگوی عددی زیر را ادامه دهید. (دبستان سرای دانش-تهران ۱۴۰۲)

... و ... و ... و ۴۰۷ و ۴۰۵ و ۴۰۳

پاسخ :



تدریس خصوصی ریاضی به صورت حضوری و آنلاین با دبیران حرفه ای و پیگیری قدرتمند در مدرسه

۴۴۰۲۵۸۶۰ - ۲۶۵۷۰۸۱۰ - ۸۸۹۰۶۹۰۹ - ۸۸۹۰۴۰۰۲

کد تهران ۰۲۱

۴۰۹ و ۴۱۱ و ۴۱۳

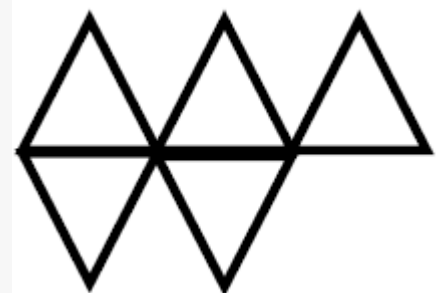
۵.

(۲ نمره)

الگوی بعدی در شکل زیر کدام است ؟



پاسخ :



۶.



تدریس خصوصی ریاضی به صورت حضوری و آنلاین با دبیران حرفه ای و پیگیری قدرتمند در مدرسه

۸۸۹۰۴۰۰۲ - ۸۸۹۰۶۹۰۹ - ۲۶۵۷۰۸۱۰ - ۴۴۰۲۵۸۶۰

کد تهران ۰۲۱

(۳ نمره)

چند عدد دو رقمی می توان نوشت که یکان آنها ۱ و ۵ و ۳ و دهگان آن ها ۱ و ۹ باشد؟

پاسخ :

یکان ۱ و ۵ و ۳ دهگان ۱ و ۹

۱۱، ۱۳، ۱۵، ۹۱، ۹۳، ۹۵

. ۷

(۲ نمره)

کدام یک از اعداد زیر زوج نیست ؟

پاسخ :

عدد ۵۶۷ فرد است و زوج نیست.

. ۸

(۳ نمره)

کدام یک از اعداد زیر فرد است؟



تدریس خصوصی ریاضی به صورت حضوری و آنلاین با دبیران حرفه ای و پیگیری قدرتمند در مدرسه

۴۴۰۲۵۸۶۰ - ۲۶۵۷۰۸۱۰ - ۸۸۹۰۶۹۰۹ - ۸۸۹۰۴۰۰۲

کد تهران ۰۲۱



پاسخ :

عدد ۵ فرد است و بقیه اعداد زوج هستند.

۹.

(۲ نمره)

جمله مناسب برای شکل مقابل کدام گزینه است ؟



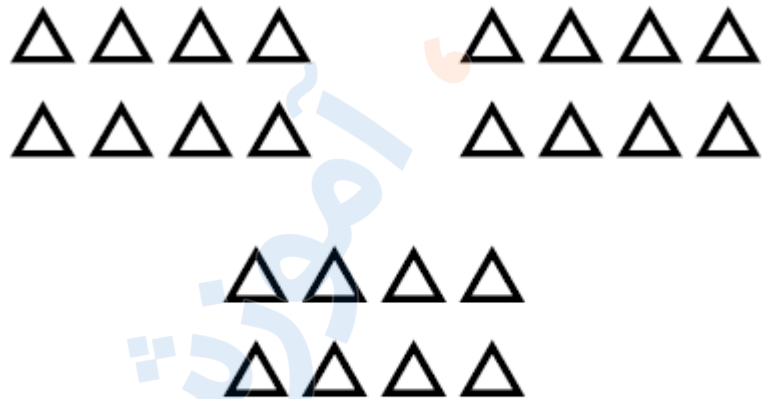
پاسخ :



تدریس خصوصی ریاضی به صورت حضوری و آنلاین با دبیران حرفه ای و پیگیری قدرتمند در مدرسه

۸۸۹۰۴۰۰۲ - ۸۸۹۰۶۹۰۹ - ۲۶۵۷۰۸۱۰ - ۴۴۰۲۵۸۶۰

کد تهران ۰۲۱



۳ دسته ۸ تایی

۱۰.

(۳ نمره)

جمله مربوط به شکل مقابل را انتخاب کنید .






تدریس خصوصی ریاضی به صورت حضوری و آنلاین با دبیران حرفه ای و پیگیری قدرتمند در مدرسه

۸۸۹۰۴۰۰۲ - ۸۸۹۰۶۹۰۹ - ۲۶۵۷۰۸۱۰ - ۴۴۰۲۵۸۶۰

کد تهران ۰۲۱

پاسخ :



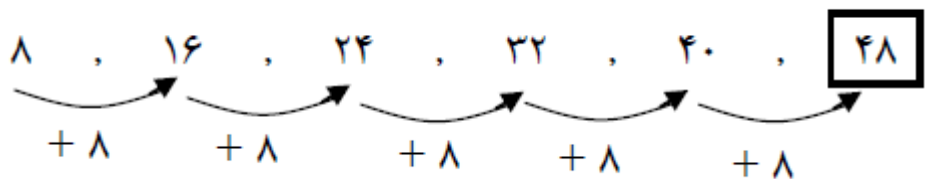
۵ دسته ۴ تایی

. ۱۱

(۲ نمره)

در شمارش ۸ تا ۸ تا عدد بعد از ۴۰ کدام گزینه می شود؟

پاسخ :





تدریس خصوصی ریاضی به صورت حضوری و آنلاین با دبیران حرفه ای و پیگیری قدرتمند در مدرسه

۸۸۹۰۴۰۰۲ - ۸۸۹۰۶۹۰۹ - ۲۶۵۷۰۸۱۰ - ۴۴۰۲۵۸۶۰

کد تهران ۰۲۱

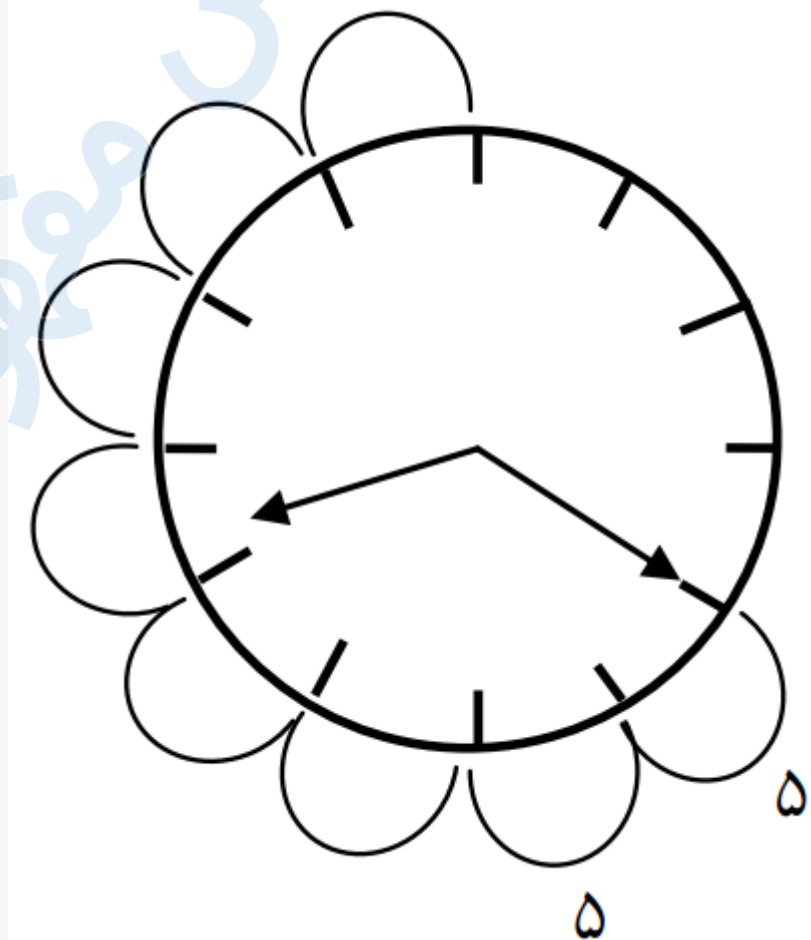
۱۲.

(۳ نمره)

زمان پخش اخبار در تلویزیون ساعت ۹ می باشد. هم اکنون ساعت ۸:۲۰ می باشد. چند دقیقه به زمان پخش اخبار مانده است؟

پاسخ :

۴۰ دقیقه





تدریس خصوصی ریاضی به صورت حضوری و آنلاین با دبیران حرفه ای و پیگیری قدرتمند در مدرسه

۴۴۰۲۵۸۶۰ - ۲۶۵۷۰۸۱۰ - ۸۸۹۰۶۹۰۹ - ۸۸۹۰۴۰۰۲

کد تهران ۰۲۱

۱۳ .

(۲ نمره)

۱ دسته ده تایی و ۷ یکی می شود؟

پاسخ :

۱۷

۱۴ .

(۲ نمره)

۴ دسته ده تایی می شود؟

پاسخ :

۴۰

۱۵ .

(۲ نمره)

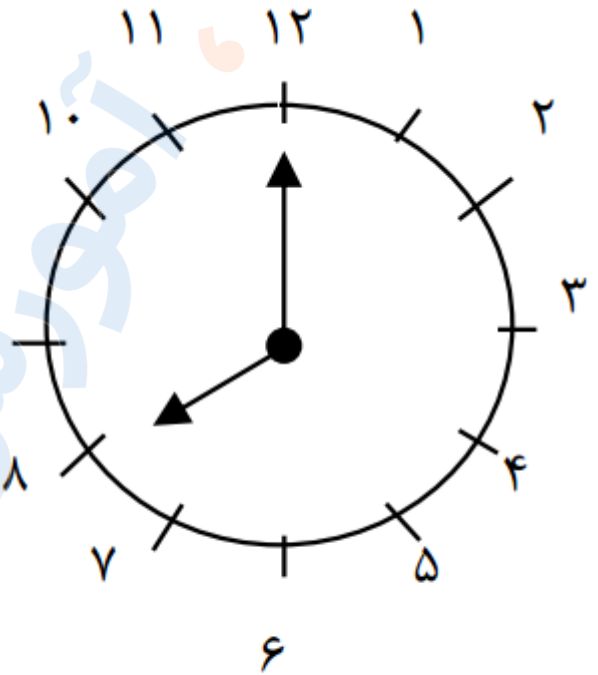


تدریس خصوصی ریاضی به صورت حضوری و آنلاین با دبیران حرفه ای و پیگیری قدرتمند در مدرسه

۸۸۹۰۴۰۰۲ - ۸۸۹۰۶۹۰۹ - ۲۶۵۷۰۸۱۰ - ۴۴۰۲۵۸۶۰

کد تهران ۰۲۱

ساعت را بگویید



..... ساعت

پاسخ :

ساعت ۸:۰۰

.۱۶

(۵ نمره)

از ۹۰ تا ۱۰۰ بنویس. (دبستان فدک نور - آذرشهر ۱۴۰۰)



تدریس خصوصی ریاضی به صورت حضوری و آنلاین با دبیران حرفه ای و پیگیری قدرتمند در مدرسه

۸۸۹۰۴۰۰۲ - ۸۸۹۰۶۹۰۹ - ۲۶۵۷۰۸۱۰ - ۴۴۰۲۵۸۶۰

کد تهران ۰۲۱

پاسخ :

۹۱ و ۹۲ و ۹۳ و ۹۴ و ۹۵ و ۹۶ و ۹۷ و ۹۸ و ۹۹

. ۱۷

(۴ نمره)

الگو را ادامه بده. (دبستان سرای دانش الغدير - تهران ۱۴۰۲)

... و ۱۳ و ۷ و ۳ و ۱

پاسخ :

۴۳ و ۳۱ و ۲۱ و ۱۳ و ۷ و ۳ و ۱

. ۱۸

(۴ نمره)

۲ ساعت و ربع بعد از ۳:۴۵ را روی صفحه ساعت نشان بده. (دبستان سرای دانش الغدير - تهران ۱۴۰۲)



تدریس خصوصی ریاضی به صورت حضوری و آنلاین با دبیران حرفه ای و پیگیری قدرتمند در مدرسه

۸۸۹۰۴۰۰۲ - ۸۸۹۰۶۹۰۹ - ۲۶۵۷۰۸۱۰ - ۴۴۰۲۵۸۶۰

کد تهران ۰۲۱

پاسخ :



.۱۹

(۴ نمره)

الگوی عددی زیر را ادامه دهید. (دبستان شهید پورجندقی- رفسنجان ۱۴۰۲)

... و ۵۸۰ و ۵۷۰ و ۵۶۰

پاسخ :

۶۱۰ و ۶۰۰ و ۵۹۰



تدریس خصوصی ریاضی به صورت حضوری و آنلاین با دبیران حرفه ای و پیگیری قدرتمند در مدرسه

۸۸۹۰۴۰۰۲ - ۸۸۹۰۶۹۰۹ - ۲۶۵۷۰۸۱۰ - ۴۴۰۲۵۸۶۰

کد تهران ۰۲۱

۲۰.

(۴ نمره)

امیرحسین ۴ سکه ۱۰۰ ریالی، ۵ سکه ۱۰ ریالی و ۶ سکه ۱ ریالی داشت. او ۲۶۴ ریال در صندوق صدقات انداخت. حالا او چند ریال دارد؟ (دبستان سرای دانش-تهران ۱۴۰۲)

پاسخ:

$$\begin{array}{r} 400 + 50 + 6 = 456 \Rightarrow 456 \\ - 264 \\ \hline 192 \end{array}$$

۲۱.

(۵ نمره)

عددهای دو رقمی را که یکان آنها ۲ یا ۴ یا ۶ و دهگان آنها ۳ یا ۷ باشد، بنویسید و آنها را از کوچک به بزرگ مرتب کنید.

پاسخ:

۳۲ - ۳۴ - ۳۶ - ۷۲ - ۷۴ - ۷۶



تدریس خصوصی ریاضی به صورت حضوری و آنلاین با دبیران حرفه ای و پیگیری قدرتمند در مدرسه

۴۴۰۲۵۸۶۰ - ۲۶۵۷۰۸۱۰ - ۸۸۹۰۶۹۰۹ - ۸۸۹۰۴۰۰۲

کد تهران ۰۲۱

۲۲.

(۴ نمره)

عدد بعدی در الگوی زیر کدام عدد است؟
۱۲ و ۲۳ و ۳۵ و ...

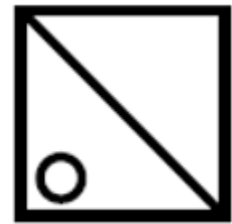
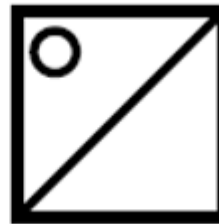
پاسخ :

۴۸

۲۳.

(۴ نمره)

شکل بعدی در الگوی زیر کدام است ؟



پاسخ :



تدریس خصوصی ریاضی به صورت حضوری و آنلاین با دبیران حرفه ای و پیگیری قدرتمند در مدرسه

۴۴۰۲۵۸۶۰ - ۲۶۵۷۰۸۱۰ - ۸۸۹۰۶۹۰۹ - ۸۸۹۰۴۰۰۲

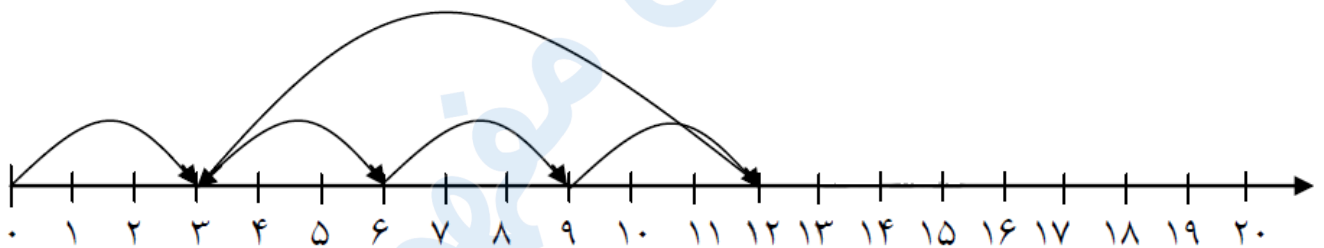
کد تهران ۰۲۱



۲۴.

(۵ نمره)

محور مقابل مربوط به کدام یک از جمع و تفریق های زیر است؟



پاسخ:

$$۳ + ۳ + ۳ + ۳ - ۹ = ۳$$

۲۵.

(۴ نمره)

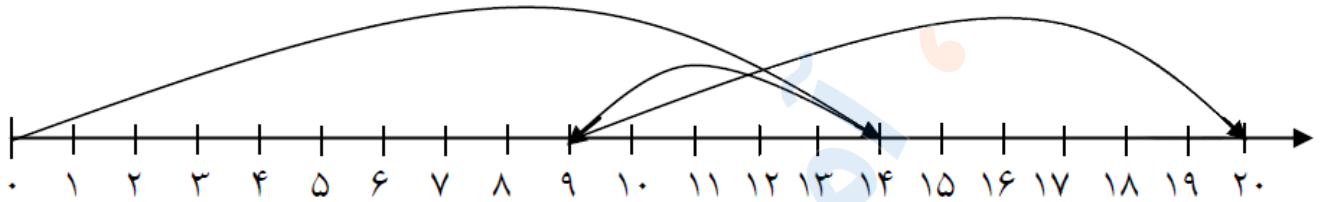


تدریس خصوصی ریاضی به صورت حضوری و آنلاین با دبیران حرفه ای و پیگیری قدرتمند در مدرسه

۸۸۹۰۴۰۰۲ - ۸۸۹۰۶۹۰۹ - ۲۶۵۷۰۸۱۰ - ۴۴۰۲۵۸۶۰

کد تهران ۰۲۱

محور مقابل مربوط به کدام یک از جمع و تفریق های زیر است ؟



پاسخ :

$$۱۴ - ۵ + ۱۱ = ۲۰$$

. ۲۶

(۴ نمره)

۲ دسته ده تایی و ۶ یکی منهای یک دسته ده تایی و ۳ یکی چقدر کم دارد تا به عدد ۲۰ برسد ؟

پاسخ :

$$۲۰ + ۶ = ۲۶ - ۱۳ = ۱۳$$

$$۲۰ - ۱۳ = \boxed{۷}$$

. ۲۷

(۵ نمره)



تدریس خصوصی ریاضی به صورت حضوری و آنلاین با دبیران حرفه ای و پیگیری قدرتمند در مدرسه

۴۴۰۲۵۸۶۰ - ۲۶۵۷۰۸۱۰ - ۸۸۹۰۶۹۰۹ - ۸۸۹۰۴۰۰۲

کد تهران ۰۲۱

اگر همه ی عدد های دو رقمی را که رقم های یکان آن ۵ و ۰ و رقم های دهگان آن ۸ و ۴ باشد را بنویسیم، اختلاف بزرگ ترین و کوچک ترین عددی که نوشته ایم چند می شود؟

پاسخ :


دهگان	یکان		
۴	۰	→	۴۰
۴	۵	→	۴۵
۸	۰	→	۸۰
۸	۵	→	۸۵

$85 - 40 = 45$

۲۸ .

(۴ نمره)

شکل زیر را دسته بندی کرده و جمله مناسب شکل را انتخاب کنید.



----- تا ----- تایی می شود .

----- تا ----- تایی می شود .

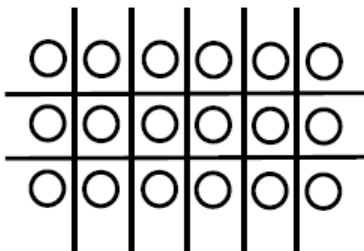


تدریس خصوصی ریاضی به صورت حضوری و آنلاین با دبیران حرفه ای و پیگیری قدرتمند در مدرسه

۸۸۹۰۴۰۰۲ - ۸۸۹۰۶۹۰۹ - ۲۶۵۷۰۸۱۰ - ۴۴۰۲۵۸۶۰

کد تهران ۰۲۱

پاسخ :



- ۱۸ تا ۳ تایی می شود
- ۱۸ تا ۶ تایی می شود

. ۲۹

(۴ نمره)



تدریس خصوصی ریاضی به صورت حضوری و آنلاین با دبیران حرفه ای و پیگیری قدرتمند در مدرسه

۸۸۹۰۴۰۰۲ - ۸۸۹۰۶۹۰۹ - ۲۶۵۷۰۸۱۰ - ۴۴۰۲۵۸۶۰

کد تهران ۰۲۱

عدد مناسب برای جاهای خالی مشخص شده با (الف) و (ب) کدام یک از گزینه های زیر هستند ؟

الف

۸

۰

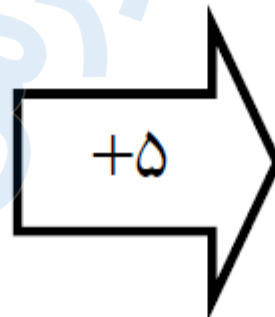
۵

۱۰

۱۵

۱۳

ب



پاسخ :



تدریس خصوصی ریاضی به صورت حضوری و آنلاین با دبیران حرفه ای و پیگیری قدرتمند در مدرسه

۸۸۹۰۴۰۰۲ - ۸۸۹۰۶۹۰۹ - ۲۶۵۷۰۸۱۰ - ۴۴۰۲۵۸۶۰

کد تهران ۰۲۱

۳

۰

۱۰

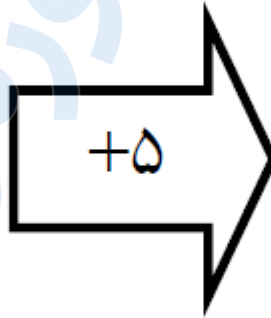
۱۳

۸

۵

۱۵

۱۸



۳۰.

(۴ نمره)

اگر تمام عدد های دو رقمی که رقم های یکان آن ۹ و ۶ باشد و رقم دهگان آن ۸ و ۱ و ۵ باشد را بنویسیم چند عدد دورقمی غیر تکراری می توان نوشت؟

پاسخ :



تدریس خصوصی ریاضی به صورت حضوری و آنلاین با دبیران حرفه ای و پیگیری قدرتمند در مدرسه

۸۸۹۰۴۰۰۲ - ۸۸۹۰۶۹۰۹ - ۲۶۵۷۰۸۱۰ - ۴۴۰۲۵۸۶۰

کد تهران ۰۲۱

دهگان	یکان	
۸	۶ →	۸۶
۸	۹ →	۸۹
۱	۶ →	۱۶
۱	۹ →	۱۹
۵	۶ →	۵۶
۵	۹ →	۵۹

