



تدریس خصوصی ریاضی به صورت حضوری و آنلاین با دبیران حرفه ای و پیگیری قدرتمند در مدرسه


۴۴۰۲۵۸۶۰ - ۲۶۵۷۰۸۱۰ - ۸۸۹۰۶۹۰۹ - ۸۸۹۰۴۰۰۲

کد تهران ۰۲۱

. ۱

(۳ نمره)

پسرم جمع کن و علامت مناسب بگذار. (دبستان فدک نور - آذرشهر ۱۴۰۰)



. ۲

(۲ نمره)

ساعت یازده و ربع یعنی ..... (دبستان سرای دانش الغدیر - تهران ۱۴۰۲)

. ۳

(۲ نمره)

با توجه به شکل زیر جای خالی را پر کنید. (دبستان شهید پورجندقی- رفسنجان ۱۴۰۲)

« ..... تا ..... تایی می شود ..... »





تدریس خصوصی ریاضی به صورت حضوری و آنلاین با دبیران حرفه ای و پیگیری قدرتمند در مدرسه

۴۴۰۲۵۸۶۰ - ۲۶۵۷۰۸۱۰ - ۸۸۹۰۶۹۰۹ - ۸۸۹۰۴۰۰۲

کد تهران ۰۲۱

. ۴

(۳ نمره)

الگوی عددی زیر را ادامه دهید. (دبستان سرای دانش-تهران ۱۴۰۲)

۴۰۳ و ۴۰۵ و ۴۰۷ و ... و ... و ...

. ۵

(۲ نمره)

الگوی بعدی در شکل زیر کدام است ؟



. ۶

(۳ نمره)

چند عدد دو رقمی می توان نوشت که یکان آنها ۱ و ۵ و ۳ و دهگان آن ها ۱ و ۹ باشد؟

. ۷



تدریس خصوصی ریاضی به صورت حضوری و آنلاین با دبیران حرفه ای و پیگیری قدرتمند در مدرسه

۸۸۹۰۴۰۰۲ - ۸۸۹۰۶۹۰۹ - ۲۶۵۷۰۸۱۰ - ۴۴۰۲۵۸۶۰

کد تهران ۰۲۱

(۲ نمره)

کدام یک از اعداد زیر زوج نیست؟

. ۸


(۳ نمره)

کدام یک از اعداد زیر فرد است؟

. ۹

(۲ نمره)

جمله مناسب برای شکل مقابل کدام گزینه است؟



. ۱۰




تدریس خصوصی ریاضی به صورت حضوری و آنلاین با دبیران حرفه ای و پیگیری قدرتمند در مدرسه

۸۸۹۰۴۰۰۲ - ۸۸۹۰۶۹۰۹ - ۲۶۵۷۰۸۱۰ - ۴۴۰۲۵۸۶۰

کد تهران ۰۲۱

(۳ نمره)

جمله مربوط به شکل مقابل را انتخاب کنید .



. ۱۱

(۲ نمره)

در شمارش ۸ تا ۸ تا عدد بعد از ۴۰ کدام گزینه می شود؟

. ۱۲

(۳ نمره)

زمان پخش اخبار در تلویزیون ساعت ۹ می باشد. هم اکنون ساعت ۸:۲۰ می باشد. چند دقیقه به زمان پخش اخبار مانده است؟

. ۱۳

(۲ نمره)

۱ دسته ده تایی و ۷ یکی می شود؟



تدریس خصوصی ریاضی به صورت حضوری و آنلاین با دبیران حرفه ای و پیگیری قدرتمند در مدرسه

۴۴۰۲۵۸۶۰ - ۲۶۵۷۰۸۱۰ - ۸۸۹۰۶۹۰۹ - ۸۸۹۰۴۰۰۲

کد تهران ۰۲۱

۱۴.

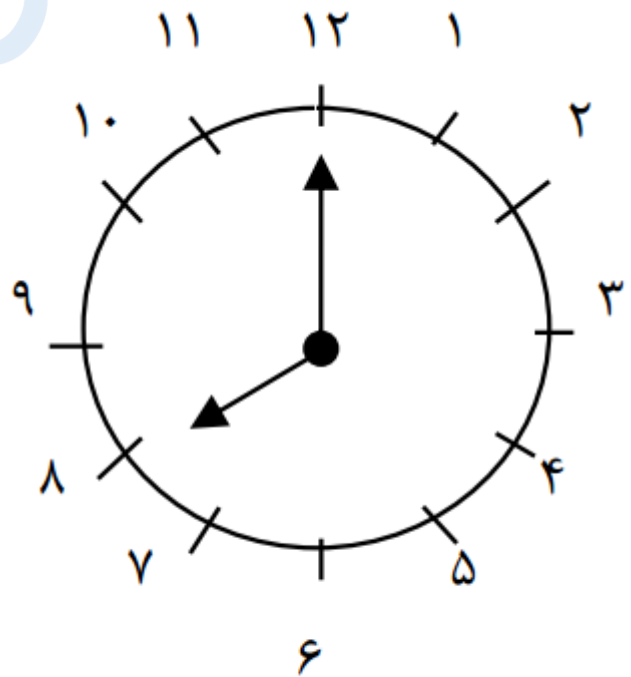
(۲ نمره)

۴ دسته ده تایی می شود ؟

۱۵.

(۲ نمره)

ساعت را بگویید



ساعت .....



تدریس خصوصی ریاضی به صورت حضوری و آنلاین با دبیران حرفه ای و پیگیری قدرتمند در مدرسه

۴۴۰۲۵۸۶۰ - ۲۶۵۷۰۸۱۰ - ۸۸۹۰۶۹۰۹ - ۸۸۹۰۴۰۰۲

کد تهران ۰۲۱

. ۱۶

(۵ نمره)

از ۹۰ تا ۱۰۰ بنویس. (دبستان فدک نور - آذرشهر ۱۴۰۰)

. ۱۷

(۴ نمره)

الگو را ادامه بده. (دبستان سرای دانش الغدير - تهران ۱۴۰۲)

... و ۱۳ و ۷ و ۳ و ۱

. ۱۸

(۴ نمره)

۲ ساعت و ربع بعد از ۳:۴۵ را روی صفحه ساعت نشان بده. (دبستان سرای دانش الغدير - تهران ۱۴۰۲)

. ۱۹

(۴ نمره)



تدریس خصوصی ریاضی به صورت حضوری و آنلاین با دبیران حرفه ای و پیگیری قدرتمند در مدرسه

۸۸۹۰۴۰۰۲ - ۸۸۹۰۶۹۰۹ - ۲۶۵۷۰۸۱۰ - ۴۴۰۲۵۸۶۰

کد تهران ۰۲۱

الگوی عددی زیر را ادامه دهید. (دبستان شهید پورجندقی- رفسنجان ۱۴۰۲)

۵۶۰ و ۵۷۰ و ۵۸۰ و ...

. ۲۰

(۴ نمره)

امیرحسین ۴ سکه ۱۰۰ ریالی، ۵ سکه ۱۰ ریالی و ۶ سکه ۱ ریالی داشت. او ۲۶۴ ریال در صندوق صدقات انداخت. حالا او چند ریال دارد؟ (دبستان سرای دانش-تهران ۱۴۰۲)

. ۲۱

(۵ نمره)

عددهای دو رقمی را که یکان آنها ۲ یا ۴ یا ۶ و دهگان آنها ۳ یا ۷ باشد، بنویسید و آنها را از کوچک به بزرگ مرتب کنید.

. ۲۲

(۴ نمره)

عدد بعدی در الگوی زیر کدام عدد است؟  
۱۲ و ۲۳ و ۳۵ و ...

. ۲۳

(۴ نمره)

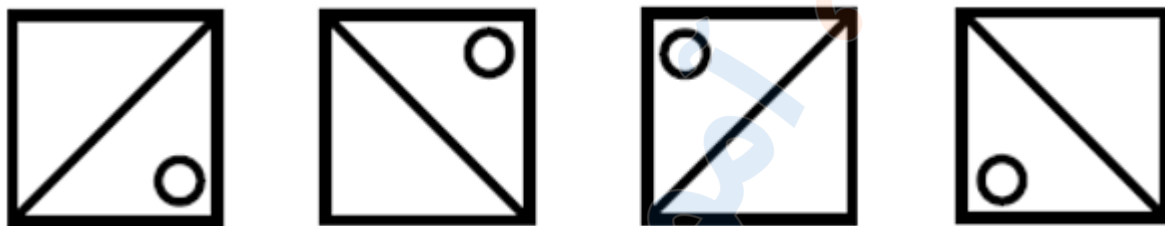


تدریس خصوصی ریاضی به صورت حضوری و آنلاین با دبیران حرفه ای و پیگیری قدرتمند در مدرسه

۸۸۹۰۴۰۰۲ - ۸۸۹۰۶۹۰۹ - ۲۶۵۷۰۸۱۰ - ۴۴۰۲۵۸۶۰

کد تهران ۰۲۱

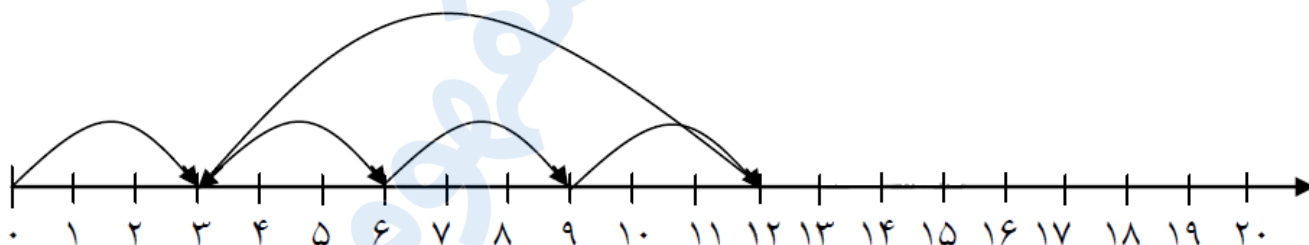
شکل بعدی در الگوی زیر کدام است ؟



۲۴ .

(۵ نمره)

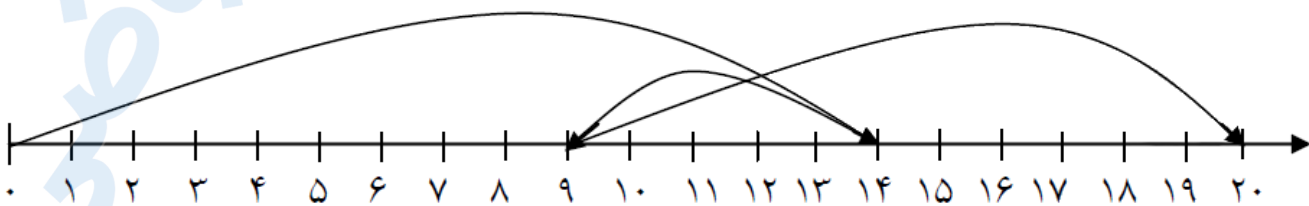
محور مقابل مربوط به کدام یک از جمع و تفریق های زیر است ؟



۲۵ .

(۴ نمره)

محور مقابل مربوط به کدام یک از جمع و تفریق های زیر است ؟







تدریس خصوصی ریاضی به صورت حضوری و آنلاین با دبیران حرفه ای و پیگیری قدرتمند در مدرسه

۸۸۹۰۴۰۰۲ - ۸۸۹۰۶۹۰۹ - ۲۶۵۷۰۸۱۰ - ۴۴۰۲۵۸۶۰

کد تهران ۰۲۱

. ۲۶

(۴ نمره)

۲ دسته ده تایی و ۶ یکی منهای یک دسته ده تایی و ۳ یکی چقدر کم دارد تا به عدد ۲۰ برسد ؟

. ۲۷


(۵ نمره)

اگر همه ی عدد های دو رقمی را که رقم های یکان آن ۵ و ۰ و رقم های دهگان آن ۸ و ۴ باشد را بنویسیم، اختلاف بزرگ ترین و کوچک ترین عددی که نوشته ایم چند می شود ؟

. ۲۸

(۴ نمره)

شکل زیر را دسته بندی کرده و جمله مناسب شکل را انتخاب کنید.



---- تا ---- تایی می شود .

---- تا ---- تایی می شود .

. ۲۹

(۴ نمره)



تدریس خصوصی ریاضی به صورت حضوری و آنلاین با دبیران حرفه ای و پیگیری قدرتمند در مدرسه

۴۴۰۲۵۸۶۰ - ۲۶۵۷۰۸۱۰ - ۸۸۹۰۶۹۰۹ - ۸۸۹۰۴۰۰۲

کد تهران ۰۲۱

عدد مناسب برای جاهای خالی مشخص شده با ( الف ) و ( ب ) کدام یک از گزینه های زیر هستند ؟

الف

۸

۰

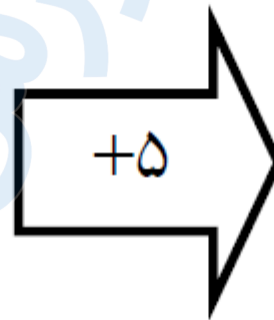
۵

۱۰

۱۵

۱۳

ب



. ۳۰

(۴ نمره)

اگر تمام عدد های دو رقمی که رقم های یکان آن ۹ و ۶ باشد و رقم دهگان آن ۸ و ۱ و ۵ باشد را بنویسیم چند عدد دورقمی غیر تکراری می توان نوشت؟