



تدریس خصوصی ریاضی به صورت حضوری و آنلاین با دبیران حرفه ای و پیگیری قدرتمند در مدرسه

۸۸۹۰۴۰۰۲ - ۸۸۹۰۶۹۰۹ - ۲۶۵۷۰۸۱۰ - ۴۴۰۲۵۸۶۰

کد تهران ۰۲۱

۱.

(۷ نمره)

مقایسه کنید. (\leq $=$ $>$)

--	--	--	--	--	--	--	--	--	--	--	--	--	--	--	--	--	--	--	--

--	--	--	--	--	--	--	--	--	--	--	--	--	--	--	--	--	--	--	--

$$۲ + ۴ + ۳$$



$$۵ + ۲ + ۱$$

۲.


(۷ نمره)

تعداد انگشت های دست و پای دو نفر چند تا است؟

۳.

(۷ نمره)

شکل زیر شامل چند ده تایی و چند یکی می باشد؟





تدریس خصوصی ریاضی به صورت حضوری و آنلاین با دبیران حرفه ای و پیگیری قدرتمند در مدرسه

۸۸۹۰۴۰۰۲ - ۸۸۹۰۶۹۰۹ - ۲۶۵۷۰۸۱۰ - ۴۴۰۲۵۸۶۰

کد تهران ۰۲۱

۴ .

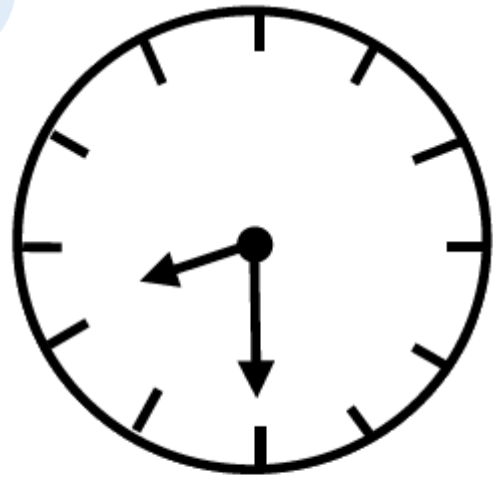
(۶ نمره)

کدام یک از اعداد زیر از ۲۳ کوچکتر و از ۲۱ بزرگتر است؟

۵ .

(۷ نمره)

گزینه مناسب برای جای خالی مقابل را انتخاب کنید.



ساعت از گذشته است.

۶ .

(۶ نمره)



تدریس خصوصی ریاضی به صورت حضوری و آنلاین با دبیران حرفه ای و پیگیری قدرتمند در مدرسه

۴۴۰۲۵۸۶۰ - ۲۶۵۷۰۸۱۰ - ۸۸۹۰۶۹۰۹ - ۸۸۹۰۴۰۰۲

کد تهران ۰۲۱

جواد ۳۶ شکلات داشت. ۸ تا را به دوستش علی داد. ۵ تای دیگر را به ایمان داد. حالا چند شکلات برای جواد باقی مانده است؟ (به کمک شکل)

. ۷

(۷ نمره)

حسین سه دسته ۱۰ تایی مداد رنگی داشت. پدرش به او ۶ مداد رنگی داد. حسین چند مداد رنگی دارد؟

. ۸

(۶ نمره)

چند عدد بین ۶۳ تا ۶۷ وجود دارد؟

. ۹

(۷ نمره)

شکل مقابل مربوط به کدام یک از عدد های زیر می باشد؟





تدریس خصوصی ریاضی به صورت حضوری و آنلاین با دبیران حرفه ای و پیگیری قدرتمند در مدرسه

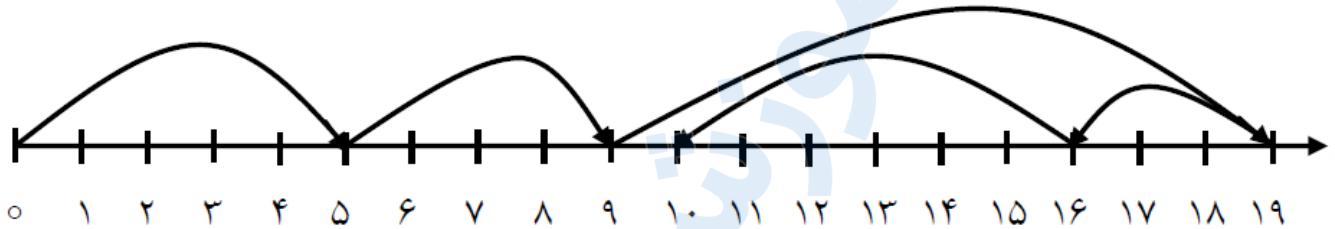
۴۴۰۲۵۸۶۰ - ۲۶۵۷۰۸۱۰ - ۸۸۹۰۶۹۰۹ - ۸۸۹۰۴۰۰۲

کد تهران ۰۲۱

(۶ نمره)

. ۱۰

عملیات مناسب محور مقابل کدام گزینه است؟



. ۱۱

(۷ نمره)

پارسا ۸ مداد رنگی داشت. ۴ تا از مداد رنگی هایش گم شد. اکنون چند مداد رنگی دارد؟

. ۱۲

(۷ نمره)

زهرا ۵ شکلات داشت. مادرش به او ۲ شکلات داد. پدرش به او ۱ شکلات داد. اکنون زهرا چند شکلات دارد؟

. ۱۳

(۶ نمره)



تدریس خصوصی ریاضی به صورت حضوری و آنلاین با دبیران حرفه ای و پیگیری قدرتمند در مدرسه

۴۴۰۲۵۸۶۰ - ۲۶۵۷۰۸۱۰ - ۸۸۹۰۶۹۰۹ - ۸۸۹۰۴۰۰۲

کد تهران ۰۲۱

شکل زیر شامل ده تایی و یکی است.



۱۴.

(۷ نمره)

در یک تنگ ۶ ماهی بود. ۳ ماهی مرده اند. حال در تنگ چند ماهی است؟

۱۵.

(۷ نمره)

در بشقاب ششم چند سیب قرار دارد؟



بشقاب اول



بشقاب دوم



بشقاب سوم